


# 제 1 교시 사회

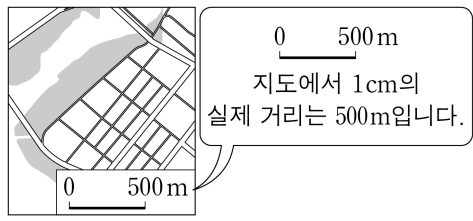
1. 다음에서 설명하는 공공 기관은?



- 편지와 물건을 배달한다.
- 은행처럼 돈을 맡아 주기도 한다.

- ① 경찰서    ② 교육청    ③ 소방서    ④ 우체국

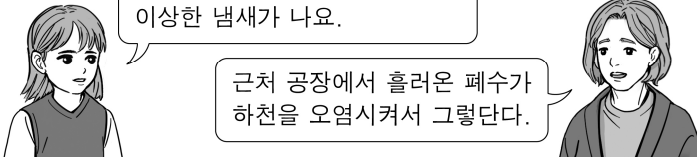
2. 다음에서 설명하는 것은?



지도에서 실제 거리를 비교해 줄인 정도

- ① 축척    ② 등고선    ③ 방위표    ④ 해안선

3. 다음 대화와 관련 있는 지역 문제는?



우리 아파트 근처 하천에서 계속 이상한 냄새가 나요.

근처 공장에서 흘러온 폐수가 하천을 오염시켜서 그렇단다.

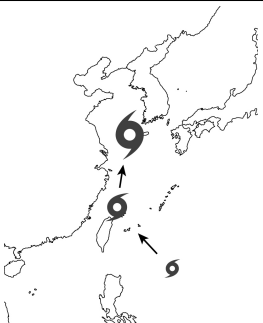
- ① 소음 문제    ② 주차 문제  
③ 교통 혼잡 문제    ④ 환경 오염 문제

4. 다음에서 설명하는 경제 활동으로 가장 적절한 것은?

- 벼농사를 짓는다.
- 공장에서 과자를 만든다.

- ① 무역    ② 생산    ③ 소비    ④ 저축

5. ㉠에 공통으로 들어갈 자연재해는?



필리핀 앞바다에서 발생한 7호 ㉠이/가 한반도로 접근하고 있습니다. 이번 7호 ㉠은/는 강한 바람과 많은 비를 동반하여 심한 피해가 예상되므로 대비가 필요합니다.


- ① 가뭄    ② 태풍    ③ 폭설    ④ 황사

6. 민주 선거의 원칙과 가장 거리가 먼 것은?

- ① 자신이 직접 투표해야 한다.  
② 누구에게 투표했는지 다른 사람이 알 수 없다.  
③ 일정 나이가 되면 국민 누구나 투표할 수 있다.  
④ 나이가 많으면 투표할 수 있는 표의 수가 많다.

7. 다음에서 설명하는 기본권은?

**헌법 제26조 제1항** 모든 국민은 법률이 정하는 바에 의하여 국가 기관에 문서로 청원할 권리를 가진다.



국민이 국가에 어떤 일을 해 달라고 요구할 수 있는 권리

- ① 자유권    ② 참정권    ③ 청구권    ④ 평등권

8. 다음 설명에 해당하는 법은?



어린이 보호 구역에서는 시속 30 km 이내로 운행해야 합니다.


- ① 도로 교통법    ② 식품 위생법  
③ 소비자 기본법    ④ 폐기물 관리법

9. 다음에서 설명하는 나라는?

- 주몽이 세운 나라이다.
- 광개토 대왕은 요동과 한강 지역까지 진출하였다.
- 장수왕은 아버지 광개토 대왕의 업적을 기념하기 위해 큰 비석을 세웠다.

- ① 가야    ② 백제    ③ 신라    ④ 고구려

10. 다음에서 설명하는 문화유산은?



- 고려 시대를 대표하는 예술품이다.
- 상감 기법이 활용되면서 독창적으로 발전하였다.
- 당시 귀족들의 화려한 문화를 엿볼 수 있다.

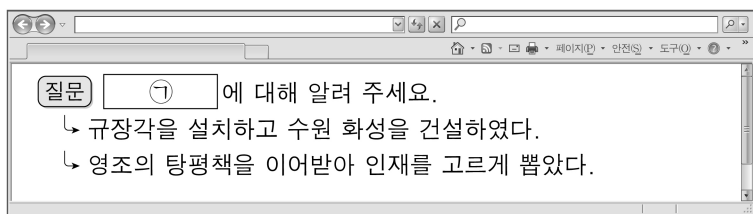
- ① 측우기                      ② 고려청자  
③ 훈민정음                ④ 대동여지도

11. 다음과 관련된 인물은?




- ① 서희            ② 이순신        ③ 정몽주        ④ 신사임당

12. ㉠에 들어갈 조선의 왕은?



- ① 견훤            ② 왕건            ③ 정조            ④ 대조영

13. 다음에서 설명하는 사건은?



탐구 주제: 갑신년(1884년)에 일어난 개혁의 바람

- 김옥균 등은 근대적인 국가를 만들고자 하였다.
- 우정충국의 개국 축하 행사를 틈타 정변을 일으켰다.
- 청 군대가 개입을 하면서 3일 만에 실패로 끝났다.

- ① 갑신정변                      ② 임진왜란  
③ 위화도 회군                ④ 청산리 대첩

14. 다음에서 설명하는 것은?

- 외국에 대해 우리나라를 대표한다.
- 행정부의 최고 책임자로서 국가의 중요한 일을 결정한다.

- ① 대통령                      ② 국방부 장관  
③ 법무부 장관                ④ 환경부 장관

15. 다른 나라와의 경제 교류 사례에 해당하지 않는 것은?

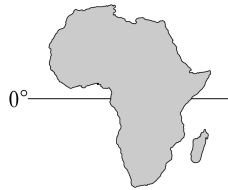
- ① 외국에서 가구를 수입한다.  
② 외국으로 우리나라의 전자 제품을 수출한다.  
③ 국내에서 생산된 제철 과일을 맛있게 먹는다.  
④ 외국인들이 우리나라에 찾아와 일자리를 구한다.

16. ㉠에 공통으로 들어갈 말은?

- ㉠은/는 가정 살림을 같이하는 생활 공동체를 말한다.
- ㉠은/는 생산 활동에 참여한 대가로 소득을 얻는 경제 주체이다.

- ① 가게            ② 국회            ③ 법원            ④ 시장

17. 다음에서 설명하는 대륙은?




- 북반구와 남반구에 걸쳐 있다.
- 사하라 사막, 나일강 등이 있다.
- 이집트, 케냐 등의 나라가 있다.

- ① 유럽                              ② 아프리카  
③ 북아메리카                    ④ 오세아니아

18. 온대 기후와 관련된 설명으로 가장 거리가 먼 것은?

- ① 주로 중위도 지역에 나타난다.  
② 사계절의 변화가 비교적 뚜렷하다.  
③ 주로 극지방에서 나타나며 평균 기온이 매우 낮다.  
④ 기후가 온화하여 인구가 많고 여러 산업이 발달했다.

19. 다음에서 설명하는 국제기구?



아동의 질병 예방, 교육, 보호 등 아동 복지와 권리 향상을 위한 다양한 활동을 한다.

- ① 세계 무역 기구                      ② 국제 원자력 기구  
③ 국제 올림픽 위원회                ④ 국제 연합 아동 기금

20. 문화적 편견과 차별을 해결하기 위한 노력으로 가장 거리가 먼 것은?

- ① 다양성을 존중하는 교육을 한다.  
② 편견과 차별을 해결하기 위한 캠페인을 진행한다.  
③ 다른 나라 사람들에게 우리나라 문화만을 따르게 한다.  
④ 지구촌의 다양한 문화를 체험할 수 있는 기회를 제공한다.