


제 ⑥ 교시

기술 · 가정

1. 다음 (가)에 들어갈 용어로 적절한 것은?



- ① 성장 급등 ② 가설적 사고
③ 상상적 관중 ④ 자아 정체감

2. 다음 설명에 해당하는 것은?

- 혈액 내 헤모글로빈의 성분이다.
○ 결핍되면 빈혈이 나타날 수 있다.

- ① 철 ② 지방 ③ 칼슘 ④ 비타민


3. 소음을 줄이기 위한 방법으로 적절하지 않은 것은?

- ① 텔레비전 소리를 크게 높인다.
② 방음벽을 설치하거나 나무를 심는다.
③ 이중창이나 두꺼운 커튼을 설치한다.
④ 바닥에 매트를 깔아 소리를 흡수한다.

4. 생활 자원의 분류에서 인적 자원에 해당하는 것은?

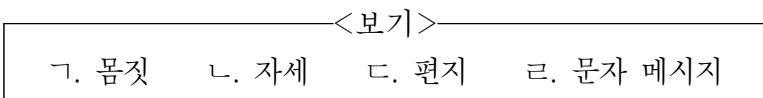
- ① 돈 ② 주택 ③ 지식 ④ 자동차

5. 다음 설명에 해당하는 구매 의사 결정 과정은?



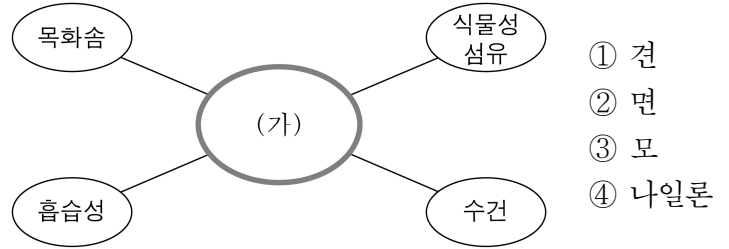
- ① 구매 ② 대안 평가
③ 문제 인식 ④ 정보 탐색

6. 비언어적 의사소통 방법을 <보기>에서 고른 것은?



- ① 가, 나 ② 가, 다 ③ 나, 르 ④ 다, 르

7. 다음 (가)에 해당하는 섬유는?



8. 다음 (가)에 공통으로 해당하는 가족의 기능은?



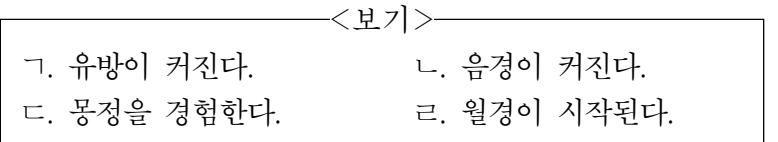
- ① 부양의 기능 ② 자녀 출산의 기능
③ 경제적 생산의 기능 ④ 여가 및 휴식의 기능

9. 다음 설명에 해당하는 조리 방법은?

열을 가하지 않고 식품이 가진 맛과 향을 그대로 살리는 방법

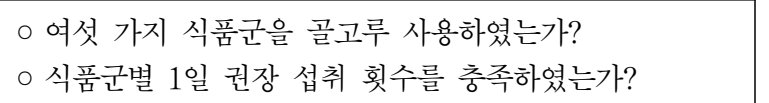
- ① 굽기 ② 삶기 ③ 튀기기 ④ 생 조리

10. 2차 성징 중 여자의 변화를 <보기>에서 고른 것은?



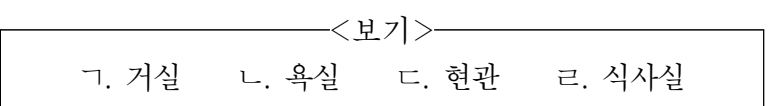
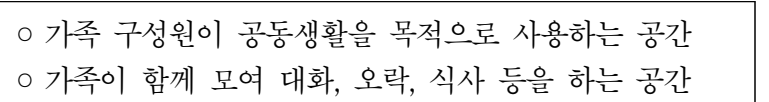
- ① 가, 나 ② 가, 르 ③ 나, 다 ④ 다, 르

11. 다음에 해당하는 식사의 평가 항목은?



- ① 경제 면 ② 능률 면 ③ 안전 면 ④ 영양 면

12. 다음 설명에 해당하는 주거 공간의 예시를 <보기>에서 고른 것은?



- ① 가, 나 ② 가, 르 ③ 나, 다 ④ 다, 르

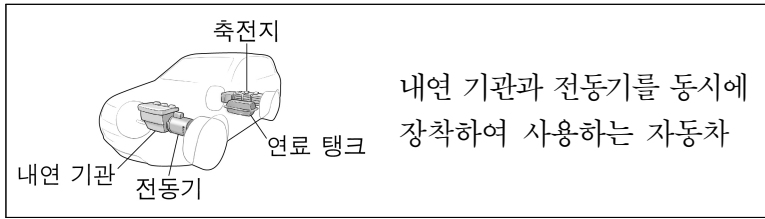
13. 건축 구조물에 해당하는 것을 <보기>에서 고른 것은?

<보기>

ㄱ. 도로 ㄴ. 병원 ㄷ. 터널 ㄹ. 아파트

- ① ㄱ, ㄴ ② ㄱ, ㄷ ③ ㄴ, ㄹ ④ ㄷ, ㄹ

14. 다음 설명에 해당하는 것은?

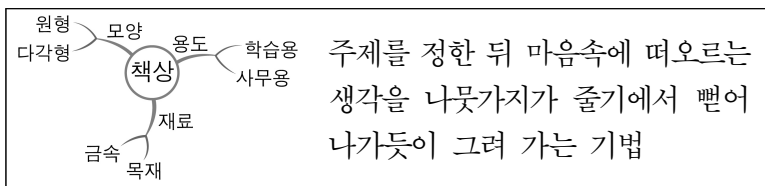


- ① 디젤 자동차 ② 증기 자동차
③ 가솔린 자동차 ④ 하이브리드 자동차

15. 해상 수송 기술의 발달 과정을 순서대로 배열한 것은?

- ① 뗏목 → 증기선 → 디젤선
② 뗏목 → 디젤선 → 증기선
③ 증기선 → 뗏목 → 디젤선
④ 증기선 → 디젤선 → 뗏목

16. 다음 설명에 해당하는 사고 기법은?



- ① PMI ② 마인드맵
③ 히트 기법 ④ 평가 행렬법

17. 철 금속에 해당하는 것을 <보기>에서 고른 것은?

<보기>

ㄱ. 순철 ㄴ. 주철 ㄷ. 합판 ㄹ. 알루미늄

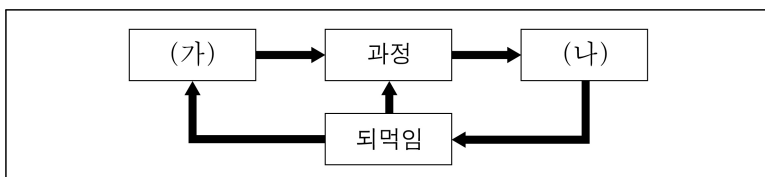
- ① ㄱ, ㄴ ② ㄱ, ㄷ ③ ㄴ, ㄹ ④ ㄷ, ㄹ

18. 다음 설명에 해당하는 기술은?

- 지역 사회의 문제를 사회적, 문화적, 환경적 조건을 고려하여 해결하는 기술이다.
- 대표 사례로 큐드럼, 라이프스트로, 페트병 전구 등이 있다.

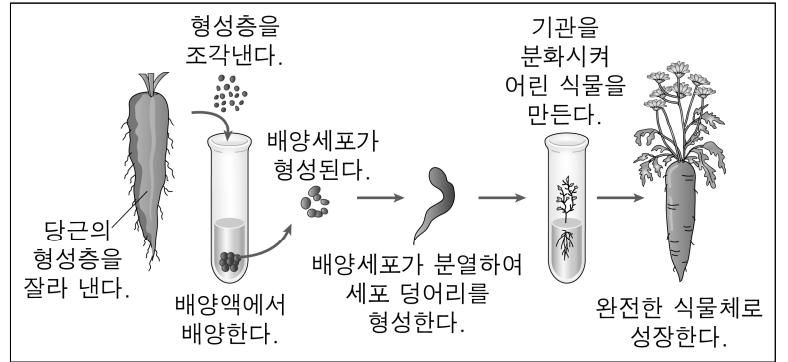
- ① 건축 기술 ② 나노 기술 ③ 적정 기술 ④ 토목 기술

19. 다음의 기술 시스템에서 (가)와 (나)에 해당하는 것은?



- | | | | |
|------|-----|------|-----|
| (가) | (나) | (가) | (나) |
| ① 배치 | 자원 | ② 산출 | 투입 |
| ③ 자원 | 배치 | ④ 투입 | 산출 |

20. 다음 설명에 해당하는 생명 기술은?



- ① 생체 인식 ② 조직 배양
③ 미생물 발효 ④ 유전자 재조합

21. 신·재생 에너지에 해당하는 것만을 <보기>에서 모두 고른 것은?

<보기>

ㄱ. 수소 에너지 ㄴ. 지열 에너지 ㄷ. 화석 에너지

- ① ㄱ, ㄴ ② ㄱ, ㄷ ③ ㄴ, ㄷ ④ ㄱ, ㄴ, ㄷ

22. 다음 설명에 해당하는 기술적 문제 해결 과정의 단계는?

완성된 제품을 평가하고, 문제점이 발견되면 수정·보완한다.

- ① 계획하기 ② 실행하기
③ 평가하기 ④ 아이디어 구상하기

23. 다음 설명에 해당하는 것은?

- 기초에서 지붕까지 건물 전체가 일체가 되도록 만드는 구조이다.
- 대표 사례로 철근 콘크리트 구조와 철골 철근 콘크리트 구조가 있다.

- ① 특수 구조 ② 가구식 구조
③ 일체식 구조 ④ 조적식 구조

24. 다음에서 공통으로 활용되고 있는 기술의 영역은?

- | | |
|------------|---------------|
| ○ 영상 통화 | ○ 인터넷 뱅킹 |
| ○ 실시간 중계방송 | ○ 소셜 네트워크 서비스 |

- ① 생명 기술 ② 수송 기술
③ 제조 기술 ④ 정보 통신 기술

25. 다음 설명에 해당하는 것은?

- 3차원 영상을 공간에 나타나게 하여 실제와 비슷하게 보이도록 하는 미디어이다.
- 영화, 공연 등에서 활용하여 사실감과 입체감을 높일 수 있다.

- ① 라디오 ② 무전기 ③ 인쇄술 ④ 홀로그램