

제 4 교시

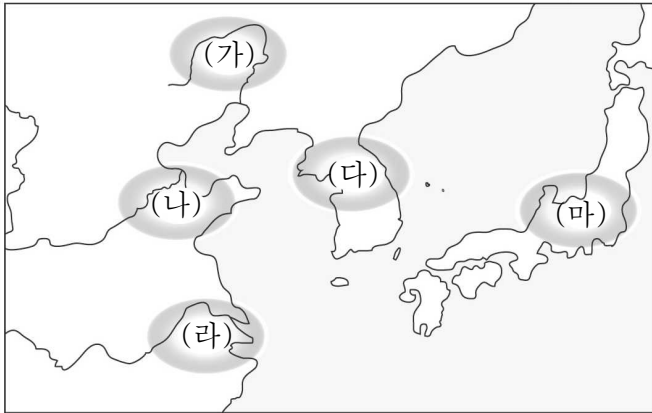
사회탐구 영역 (동아시아사)

성명 [ ] 수험 번호 [ ] [ ] [ ] [ ] [ ] [ ] [ ] [ ] 2 [ ] [ ] [ ] [ ] 제 [ ] 선택

1. 밑줄 친 ‘이 지역’을 지도에서 옳게 고른 것은?

사진은 이 지역의 신석기 문화를 대표하는 빗살무늬 토기입니다. 표면에 비스듬한 줄이 일정한 형태와 간격으로 새겨져 있는 것이 특징입니다.





- ① (가)    ② (나)    ③ (다)    ④ (라)    ⑤ (마)


2. (가) 왕조 시기 동아시아에서 볼 수 있는 모습으로 가장 적절한 것은? [3점]

이것은 (가)의 승려 감진의 행적을 기록한 『당대화상동정전』의 일부분입니다. 표시된 부분은 건당사 일행이 감진에게 일본에 계율을 전해주기를 요청하는 내용입니다.



- ① 사서집주를 읽는 선비  
 ② 위화도 회군에 참여한 장수  
 ③ 정복지에 파견되는 다루가치  
 ④ 팔만대장경을 조판하는 장인  
 ⑤ 도다이사에서 예불을 드리는 승려

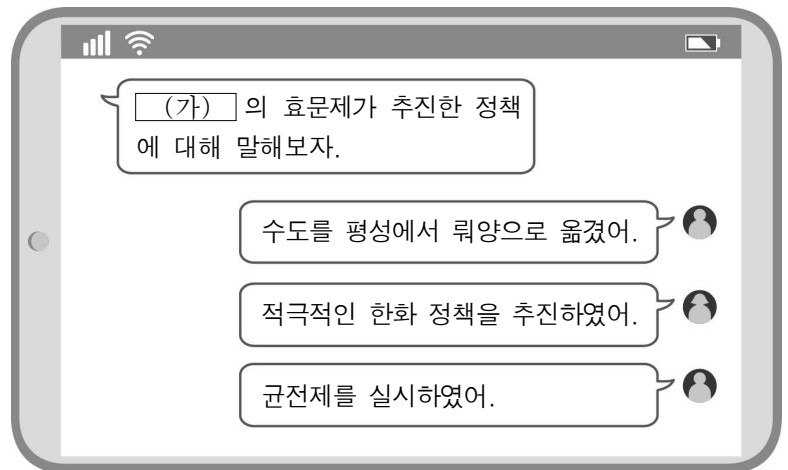
3. (가) 제국에 대한 설명으로 옳은 것은?



이 우표는 (가) 제국의 5대 칸인 쿠빌라이의 탄생 800주년을 기념하여 발행한 것이다. 칭기즈 칸의 손자로 칸의 자리에 오른 그는 고려를 복속시킨 후, 남송을 멸망시키고 중국의 전역을 장악하였다.

- ① 역참제를 운영하였다.  
 ② 연행사를 파견하였다.  
 ③ 주자감을 설립하였다.  
 ④ 태정관을 설치하였다.  
 ⑤ 일조편법을 시행하였다.

4. (가) 국가 시기의 동아시아 상황으로 옳은 것은?



(가)의 효문제가 추진한 정책에 대해 말해보자.

수도를 평성에서 뽕양으로 옮겼어.

적극적인 한화 정책을 추진하였어.

군전제를 실시하였어.

- ① 신라가 삼국을 통일하였다.  
 ② 일본에 조총이 전래되었다.  
 ③ 몽골이 천호제를 시행하였다.  
 ④ 중국이 남북조로 대립하였다.  
 ⑤ 고려에 무신 정권이 수립되었다.

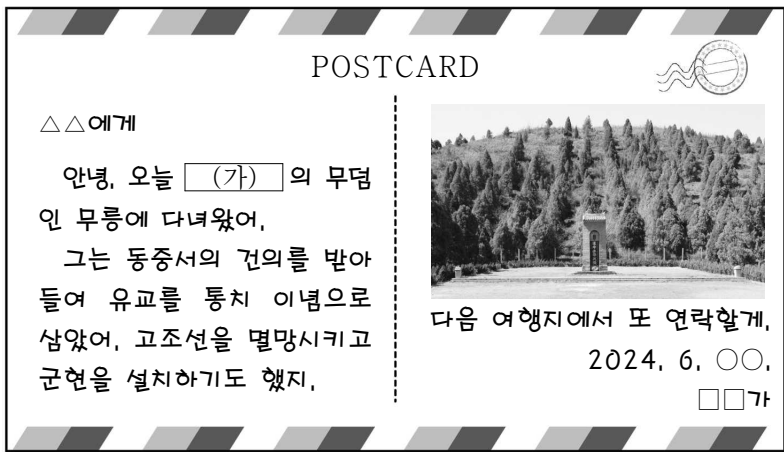
5. (가), (나) 시기 사이에 있었던 사실로 옳은 것은? [3점]

(가) 누르하치는 여러 신하들을 모은 자리에서 경기연 한이라는 존칭을 받은 후 후금을 건국하고 연호를 천명이라 하였다.  
 (나) 흥타이지는 신료들이 도열한 가운데 제위에 올랐다. 국호를 청, 연호를 승덕으로 고치고 황제라 칭하였다.

- ① 마르코 폴로가 중국을 방문하였다.  
 ② 광해군이 인조반정으로 폐위되었다.  
 ③ 혜자가 쇼토쿠 태자의 스승이 되었다.  
 ④ 현장이 인도에서 불교 경전을 가져왔다.  
 ⑤ 탕구트족의 이원호가 서하를 건국하였다.

동아시아사

6. (가) 황제에 대한 설명으로 옳은 것은?



- ① 5대 10국의 분열을 수습하였다.
- ② 히미코를 친위왜왕으로 책봉하였다.
- ③ 준왕을 몰아내고 왕위를 차지하였다.
- ④ 대월지와의 동맹을 위해 장건을 파견하였다.
- ⑤ 화북과 강남을 연결하는 대운하를 건설하였다.

7. 자료의 주장이 제기된 시기를 연표에서 옳게 고른 것은? [3점]

조선은 동쪽 변방에 끼어 있어 우리의 왼쪽 겨드랑이와 가깝습니다. 평양은 서쪽으로 압록강과 인접하고 진주는 직접 덩저우를 맞대고 있습니다. 만일 일본이 조선을 빼앗아 차지하여 라오둥을 엇본다면 1년도 안 되어 베이징이 위협해질 것입니다. 따라서 조선을 지켜야만 라오둥을 보호할 수 있습니다.  
- 『해방찬요』 -

	(가)	(나)	(다)	(라)	(마)
한	발해	당	가마쿠라	명	에도
멸망	건국	멸망	막부 수립	건국	막부 수립

- ① (가)    ② (나)    ③ (다)    ④ (라)    ⑤ (마)

8. (가) 황제에 대한 설명으로 옳은 것은?



- ① 만리장성을 축조하였다.
- ② 삼번의 난을 진압하였다.
- ③ 나가시노 전투에서 승리하였다.
- ④ 원강 석굴의 대불을 조성하였다.
- ⑤ 두 차례에 걸쳐 일본을 공격하였다.

9. (가) 사상에 대한 설명으로 옳지 않은 것은? [3점]



- ① 오경보다 사서를 중시하였다.
- ② 윤희 사상을 바탕으로 자비를 강조하였다.
- ③ 격물치지와 거경궁리의 수양법을 중시하였다.
- ④ 에도 막부의 체도와 의례 정비에 기여하였다.
- ⑤ 고려 말 신진 사대부의 사상적 기반이 되었다.

10. 다음 자료를 활용한 탐구 활동으로 가장 적절한 것은? [3점]



- ① 엔닌의 구법 활동 경로를 알아본다.
- ② 야마토 정권이 성장한 과정을 확인한다.
- ③ 윤관이 별무반을 조직한 목적을 조사한다.
- ④ 장거정의 개혁이 추진된 배경을 파악한다.
- ⑤ 5호의 화북 진출이 끼친 영향을 살펴본다.

11. 밑줄 친 '항전' 이후 동아시아에서 있었던 사실로 옳은 것은?

**동아시아사 수행 평가 안내**

1. 활동: 17세기 전후의 동아시아 전쟁과 관련된 유물·유적을 소개하는 카드 만들기

▶ 예시



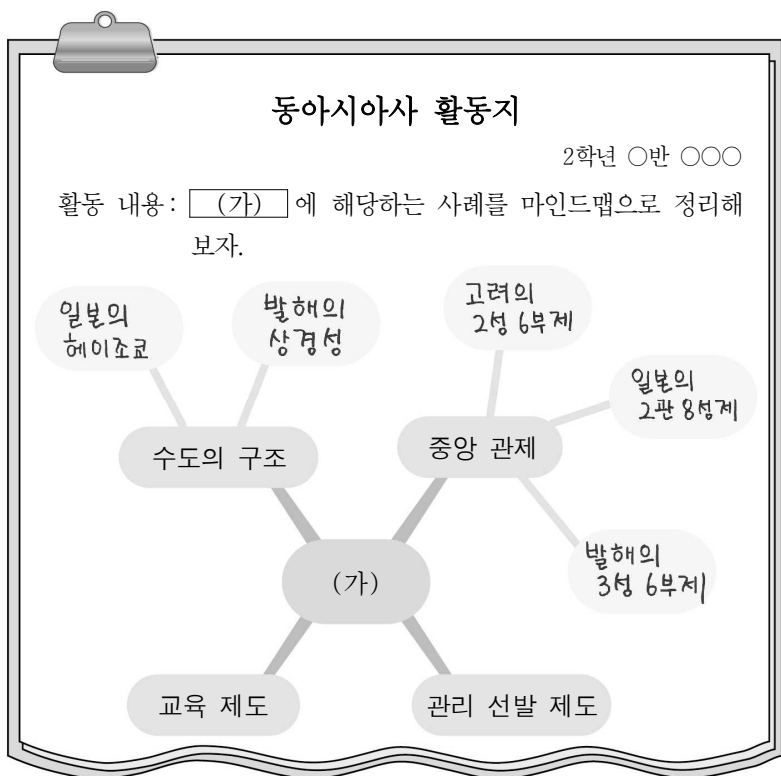
<앞면>

- 명칭: 삼전도비
- 소재지: 서울 송파구
- 설명: 남한산성에서 항전하던 인조가 삼전도에서 청 태종과 군신 관계를 맺고 청의 강요로 세운 비이다. 그 내용은 청군의 승전과 청 태종의 공덕을 칭송하는 것이다.

<뒷면>


- ① 한국 - 북벌론이 대두되었다.
- ② 한국 - 동북 9성이 축조되었다.
- ③ 중국 - 전연의 맹약이 체결되었다.
- ④ 일본 - 오닌의 난이 발생하였다.
- ⑤ 일본 - 다이카 개신이 단행되었다.

12. (가)에 들어갈 내용으로 가장 적절한 것은?



- ① 성리학의 발전
- ② 동서 교류의 확대
- ③ 율령 체제의 수용
- ④ 인구 이동의 영향
- ⑤ 호한 융합 정책의 추진

13. (가) 왕조의 대외 관계에 대한 설명으로 옳은 것은? [3점]



이 그림은 송첸캄포와 문성 공주의 통혼을 소재로 한 「보련도」로, (가)의 황제가 문성 공주를 데리러 온 토번 사신 가르통첸을 맞이하는 장면을 묘사하고 있다. 오른쪽의 보련에 앉아 있는 이가 황제이며, 왼쪽의 세 사람 중 가운데 인물이 토번의 사신이다.

- ① 남송으로부터 세폐를 받았다.
- ② 신라와 연합하여 백제를 멸망시켰다.
- ③ 왜의 노국왕에게 금인을 하사하였다.
- ④ 대월의 쩌흥다오 군대와 전투를 벌였다.
- ⑤ 무로마치 막부와 조공·책봉 관계를 맺었다.

14. 밑줄 친 '이 나라'에 대한 설명으로 옳은 것은? [3점]

이자겸과 척준경이 말하였다. “옛날의 이 나라는 소국으로 거란(요)과 우리를 섬겼습니다. 하지만, 지금은 갑자기 강성해져서 거란(요)과 송을 멸망시키고 ... (중략) ... 작은 나라가 큰 나라를 섬기는 것은 선왕의 법도입니다. 마땅히 먼저 사신을 보내어 예를 닦는 것이 옳습니다.” 인종이 이 건의를 받아들였다.

- ① 백강 전투에 참여하였다.
- ② 맹안·모극제를 실시하였다.
- ③ 정복지에 도호부를 설치하였다.
- ④ 북제와 북주로부터 조공을 받았다.
- ⑤ 5호 16국 시대의 혼란을 수습하였다.


15. 다음 자료를 활용한 탐구 주제로 가장 적절한 것은? [3점]

○ 하늘에서 보면 어찌 안과 밖의 구분이 있겠는가. 나라마다 제 백성을 사랑하고 제 임금을 존중하며 제 나라를 수호하고 제 풍습을 좋아하는 점에서 중화와 오랑캐가 다 마찬가지이다.

○ 어찌 태어난 곳이 중원이나 아니냐를 가지고서 중화인과 오랑캐를 구별할 수 있겠는가. ... (중략) ... 순임금과 문왕은 오랑캐였다. 이러한 것이 어찌 그들의 거룩한 덕에 손상을 입혔겠는가?

- ① 분서갱유의 배경
- ② 서원과 향약의 확산
- ③ 전통적 화이관의 변화
- ④ 종법적 봉건제의 시행
- ⑤ 불교의 전파와 문화 교류

16. 밑줄 친 '이 나라'에 대한 설명으로 옳은 것은?




이 막새기와는 내몽골 지역에서 출토된 것으로 '선우천강(單于天降)'이라는 글자가 새겨져 있다. '선우'는 이 나라의 최고 통치자를 가리키며, 하늘의 아들이라는 의미이다. 이 나라의 전성기를 이끌었던 목북 선우는 평성에서 한 고조를 굴복시킨 후 한(漢)과 화친을 맺었다.

- ① 골품제를 시행하였다.
- ② 과거제를 실시하였다.
- ③ 팔기제를 운영하였다.
- ④ 8조의 법을 제정하였다.
- ⑤ 좌현왕과 우현왕을 두었다.

17. 밑줄 친 '이 황제'에 대한 설명으로 옳은 것은? [3점]

동아시아 유산
중국 편

### 황제의 제단, 천단



- 명칭: 천단
- 위치: 베이징


명·청 시대에 제천 의식을 행하던 제단이다. 자금성을 건설하고 베이징으로 천도한 명의 이 황제가 재위하던 시기에 지어졌다. 이후 확장을 거듭하여 청의 건륭제 시기에는 대지 면적이 273ha에 이르렀다.

- ① 낙랑군을 축출하였다.
- ② 호라즘을 정복하였다.
- ③ 다이호 율령을 반포하였다.
- ④ 정화의 함대를 파견하였다.
- ⑤ 쓰시마섬 토벌을 단행하였다.

18. (가) 왕조에 대한 설명으로 옳은 것은? [3점]

동아시아사 인물 카드
야율아보기

(가)의 초대 황제로, 서쪽의 탕구트를 제압하고 동쪽의 발해를 멸망시켜 대제국을 건설하였다. 그는 한족의 문화에 동화되지 않으려는 취지로 고유 문자를 창제하였다.



▲ 야율아보기 동상

- ① 남비엣을 멸망시켰다.
- ② 신기관을 설치하였다.
- ③ 헤이안쿄를 건설하였다.
- ④ 연운 16주를 차지하였다.
- ⑤ 독서삼품과를 실시하였다.


19. (가)에 들어갈 내용으로 가장 적절한 것은?

#### 동아시아사 모둠 과제 제출


학생 △△△ 2024. 6. ○○.

1. 주제 : \_\_\_\_\_ (가)

2. 조사 내용



하치만은 본래 신토의 신이었으나 대보살이란 칭호를 얻었다.



『부모은중경』은 유교의 덕목인 효에 대한 부처의 가르침을 담고 있다.

수업 댓글

교사 다른 사례도 추가로 조사해 보세요.

- ① 아스카 문화의 특징
- ② 조공·책봉 체제의 형성
- ③ 불교와 전통 사상의 융합
- ④ 전쟁을 통한 문물의 교류
- ⑤ 북방 민족의 이원적 통치 체제

20. 다음 자료를 활용한 탐구 활동으로 가장 적절한 것은?

동아시아사 학습 자료

#### 간고사의 지붕



백제에서 파견된 기와 장인이 만든 것으로 전해진다.

#### 스에키 토기



가야에서 보급된 오름 가마 기술로 제작되었다.

- ① 도왜인의 활동 내용을 찾아본다.
- ② 통신사의 이동 경로를 알아본다.
- ③ 제자백가의 등장 배경을 정리한다.
- ④ 센고쿠 시대의 통일 과정을 파악한다.
- ⑤ 완도에 청해진을 설치한 목적을 살펴본다.

\* 확인 사항

- 답안지의 해당란에 필요한 내용을 정확히 기입(표기)했는지 확인 하시오.