

제 ③ 교시

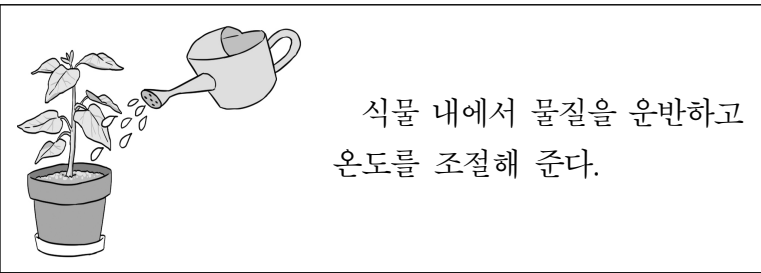
실과

1. 그림에 해당하는 아동기 발달의 특징은?



- ① 사회적 발달
- ② 신체적 발달
- ③ 인지적 발달
- ④ 정서적 발달

2. 다음 설명에 해당하는 환경 요소는?



- ① 물
- ② 공기
- ③ 토양
- ④ 햇빛

3. ㉠에 들어갈 말로 알맞은 것은?

( ㉠ )은 생활에 필요한 것을 얻거나 경제적 소득을 얻기 위해 기르는 동물이다.

- ① 반려동물
- ② 애완동물
- ③ 경제 동물
- ④ 특수 동물

4. 가정에서의 올바른 식사 예절로 적절하지 않은 것은?

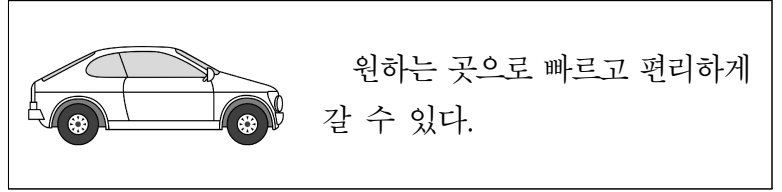
- ① 반찬 투정을 하지 않는다.
- ② 식사 준비에 함께 참여한다.
- ③ 식사 후에 식탁을 깨끗하게 정리한다.
- ④ 식사 중에 입을 벌려 내용물을 보여 준다.

5. ㉡과 ㉢에 해당하는 식품군으로 알맞은 것은?

식품군	㉡	㉢
식품	치즈, 요구르트	감자, 옥수수

- | ㉡         | ㉢   |
|-----------|-----|
| ① 과일류     | 곡류  |
| ② 과일류     | 채소류 |
| ③ 우유·유제품류 | 곡류  |
| ④ 우유·유제품류 | 채소류 |

6. 다음 설명에 해당하는 발명품은?

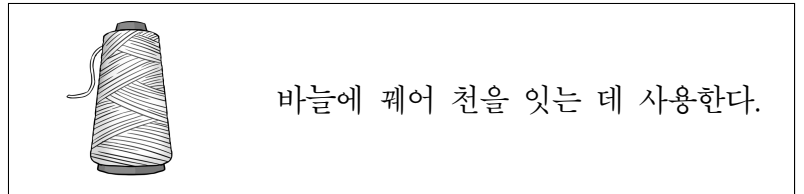


- ① 냉장고
- ② 보일러
- ③ 자동차
- ④ 진공청소기

7. 동물을 돌보고 기를 때의 태도로 알맞지 않은 것은?

- ① 정기적으로 건강 검진을 한다.
- ② 산책을 할 때 목줄을 풀고 다닌다.
- ③ 동물의 보금자리를 깨끗이 청소한다.
- ④ 기르고 있는 동물에 대해 자세히 알아본다.

8. 다음 설명에 해당하는 바느질 도구는?



- ① 실
- ② 골무
- ③ 쪽가위
- ④ 시침 핀

9. ㉣에 해당하는 수송 수단의 기본 요소는?

자전거의 ( ㉣ )은/는 수송 수단이 움직이도록 하는 장치로 페달과 체인 등이 있다.

- ① 프레임
- ② 구동 장치
- ③ 제동 장치
- ④ 조향 장치

10. 다음 설명에 해당하는 직업은?

승객이나 화물을 운반하기 위해 여객기, 화물 수송기 등을 조종한다.

- ① 교사
- ② 은행원
- ③ 사회 복지사
- ④ 항공기 조종사

