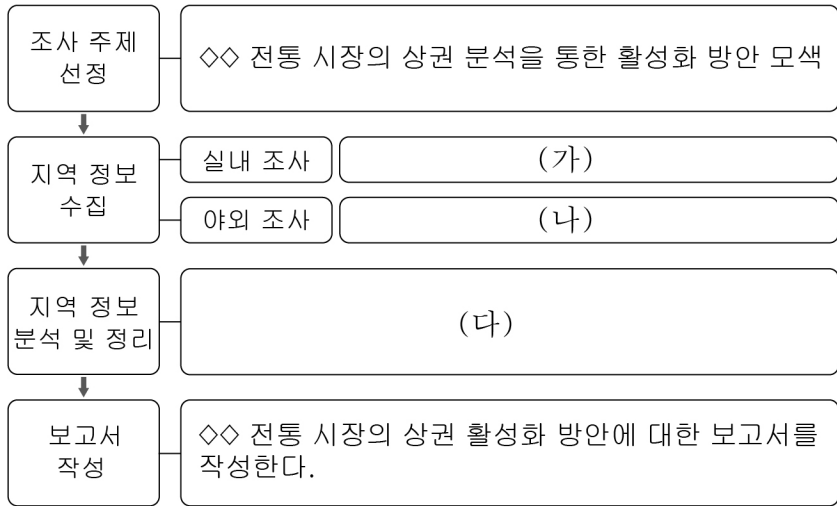


6. 다음 자료는 지역 조사 과정을 나타낸 것이다. (가) ~ (다)에 들어갈 적절한 활동만을 <보기>에서 고른 것은?

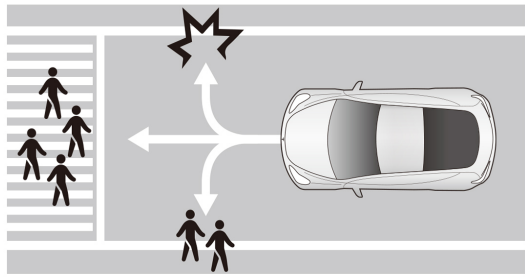


<보 기>
 가. ◇◇ 전통 시장의 위치, 교통망, 상점 수 등을 인터넷을 활용하여 조사한다.
 나. ◇◇ 전통 시장을 방문하여 이용자를 대상으로 이용 횟수, 만족도 등을 설문 조사한다.
 다. ◇◇ 전통 시장 이용자의 만족도, 업종별 상점 현황을 분석하여 도표나 그래프 등으로 표현한다.

- | | | | | | | | |
|---|-----|-----|-----|---|-----|-----|-----|
| | (가) | (나) | (다) | | (가) | (나) | (다) |
| ① | ㄱ | ㄴ | ㄷ | ② | ㄱ | ㄷ | ㄴ |
| ③ | ㄴ | ㄱ | ㄷ | ④ | ㄷ | ㄱ | ㄴ |
| ⑤ | ㄷ | ㄴ | ㄱ | | | | |

7. 밑줄 친 ㉠, ㉡의 관점에서 이루어질 수 있는 활동으로 가장 적절한 것은? [3점]

과학 기술의 발달로 새롭게 등장한 현대 사회의 문제들을 해결하기 위해서는 다양한 관점에서 총체적 접근이 필요하다. 예를 들어 '자율 주행 자동차의 주행 시스템은 돌발 상황에서 차량 탑승자와 보행자 중 누구를 보호하도록 설계되는 것이 바람직한가?'라는 쟁점이 생길 수 있다. 이를 해결하기 위해서는 무엇보다 ㉠ 윤리적 관점과 ㉡ 사회적 관점의 접근이 요구된다.



- ① ㉠: 지역별, 연도별 자율 주행 자동차의 구입 현황 비교하기
- ② ㉠: 자율 주행 자동차가 주행하기 어려운 공간적 특징 분석하기
- ③ ㉡: 자동차의 역사적 발전 과정을 분석하여 미래 자동차의 모습 예측하기
- ④ ㉡: 자율 주행 자동차에 적합한 교통 제도를 수립하고 제도의 변화가 사회에 미칠 영향 예측하기
- ⑤ ㉠, ㉡: 기후와 지리적 환경이 자율 주행 자동차의 운행에 미치는 영향 탐구하기

8. 밑줄 친 ㉠ ~ ㉢에 대한 옳은 설명만을 <보기>에서 고른 것은? [3점]

기후 변화의 주요 원인 중 하나인 ㉠ 지구 온난화는 자연적 요인과 인위적 요인에 의해 발생한다. 주된 인위적 요인에는 ㉡ 화석 에너지의 사용량 증가에 따른 온실가스 배출량의 증가가 있다. 이에 따른 기후 변화 문제를 해결하기 위해서 국제사회는 1997년 교토 의정서, 2015년 ㉢ 파리 기후 변화 협약 등을 체결하였다. 국제 사회의 노력에 발맞추기 위해서는 ㉣ 정부의 정책 마련과 함께 국민들의 지속적인 실천이 필요하다.

<보 기>
 가. ㉠의 영향으로 봄꽃의 개화 시기가 늦어질 것이다.
 나. ㉡의 주요 원인은 산업화와 인구 증가이다.
 다. ㉢은 선진국에만 온실가스 감축 의무를 부여하였다.
 리. ㉣의 사례에는 탄소 배출권 거래제가 있다.

- ① 가, 나 ② 가, 다 ③ 나, 다 ④ 나, 리 ⑤ 다, 리

9. 다음 자료에서 부각되는 정보 사회의 문제점으로 적절한 것만을 <보기>에서 고른 것은?

사이버 렉카

- 사이버(Cyber)와 렉카(Wrecker: 견인차)의 합성어
- 교통사고 현장에 달려가는 견인차처럼 사회적 이슈가 발생했을 때 재빨리 영상을 만들어 온라인 공간에 게시하고 조회 수를 올리는 사람을 뜻함.
- 온라인 공간에서 유명인들의 사생활 정보, 가짜 뉴스 등을 유포하고 사실을 왜곡하여 부정적 여론을 조성함.

<보 기>
 가. 정보 독점으로 인해 감시 사회가 도래한다.
 나. 세대 간 정보 격차로 인해 불평등이 심화된다.
 다. 허위 정보의 유포로 인해 사회적 혼란이 발생한다.
 리. 개인 정보 유출로 인한 사생활 침해 문제가 확대된다.

- ① 가, 나 ② 가, 다 ③ 나, 다 ④ 나, 리 ⑤ 다, 리

10. 표는 A, B 사회를 비교한 것이다. 이에 대한 설명으로 옳은 것은? (단, A, B는 각각 산업 사회와 정보 사회 중 하나임.) [3점]

분류 기준	비교 결과
제조업의 비중	A>B
(가)	A<B
(나)	㉠

- ① A는 지식과 정보가 가장 중요한 자원이다.
- ② A는 B에 비해 일터와 가정의 경계가 뚜렷하다.
- ③ B는 A와 달리 대면적 인간관계가 보편적이다.
- ④ (가)에 '소품종 대량 생산 방식의 비중'이 들어갈 수 있다.
- ⑤ (나)가 '기술 발전의 속도'라면 ㉠은 'A>B'이다.

16. 다음 자료는 기본권 제한에 관한 우리나라 헌법 조항 중 일부이다. 이에 대한 옳은 설명만을 <보기>에서 고른 것은? [3점]

제 37조 ② 국민의 모든 자유와 권리는 국가안전보장·질서유지 또는 공공복리를 위하여 필요한 경우에 한하여 ㉠ 별률로써 제한할 수 있으며, 제한하는 경우에도 자유와 권리의 본질적인 내용을 침해할 수 없다.

— <보 기> —

ㄱ. 국민의 기본권은 어떠한 경우에도 제한할 수 없다.
 ㄴ. 기본권 제한을 통해 보호하려는 공익보다 침해되는 개인의 이익이 커야 한다.
 ㄷ. 기본권을 제한할 때는 정당한 목적을 달성하는 데 필요한 범위 안에서만 제한하여야 한다.
 ㄹ. ㉠의 이유는 국민의 기본권이 국가에 의해 함부로 침해당하지 않도록 보장하기 위함이다.

- ① ㄱ, ㄴ ② ㄱ, ㄷ ③ ㄴ, ㄷ ④ ㄴ, ㄹ ⑤ ㄷ, ㄹ

17. 밑줄 친 ㉠, ㉡과 같은 행위가 정당화되기 위한 조건으로 적절하지 않은 것은?

○ 마틴 루터 킹은 흑인 차별 문제의 심각성을 일깨우는 데 중요한 역할을 한 인물이다. 그는 1955년 시내버스 이용의 흑인 차별 대우에 반대하여 5만 명의 흑인 시민이 참가한 ㉠ 몽고메리 버스 승차 거부 운동을 비폭력적으로 이끌었다.
 ○ 1930년 영국 정부는 ‘소금법’으로 인도 사람들을 억압하였다. 간디는 영국 정부에 ‘소금법’의 폐지를 요구하였으나 받아들여지지 않자, 이에 대한 저항의 표시로 ㉡ 소금 행진을 평화적으로 이끌었다.

- ① 비폭력적인 방법으로 이루어져야 한다.
 ② 사회 정의의 실현을 목표로 삼아야 한다.
 ③ 정당성 확보를 위해 비공개적으로 이루어져야 한다.
 ④ 위법 행위에 따른 현행법상의 처벌을 감수해야 한다.
 ⑤ 합법적 방법으로 문제를 해결할 수 없을 때 최후의 수단으로 사용해야 한다.

18. 밑줄 친 ㉠~㉣에 대한 옳은 분석만을 <보기>에서 고른 것은? (단, 수강료는 환불되지 않으며, 다른 조건은 고려하지 않음.) [3점]

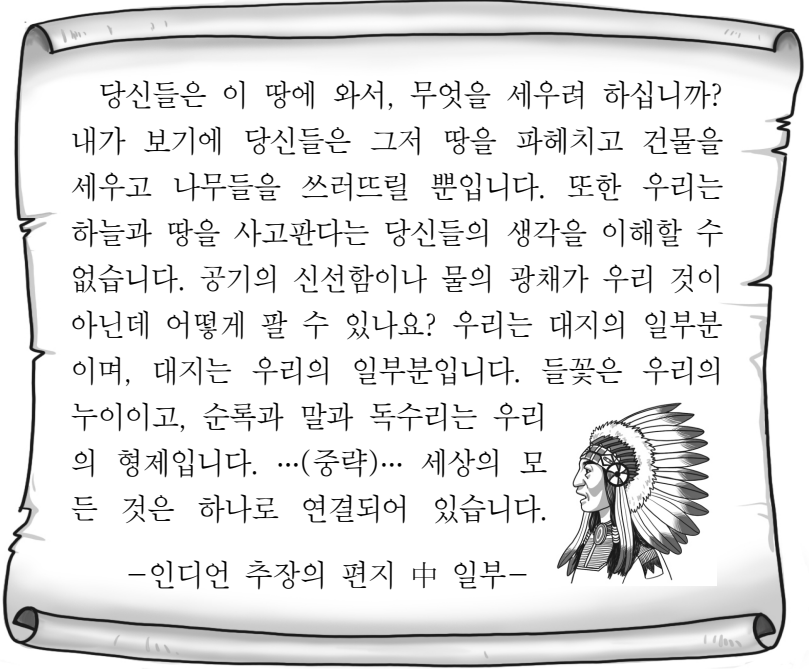
갑은 한정판 ‘아이돌 포토 카드’ 판매 시간과 요가 수업 시간이 겹치자 둘 중 무엇을 선택할 것인지 고민하였다. ‘아이돌 포토 카드’는 재판매 시장에서 ㉠ 기존 가격보다 5배 이상 비싼 가격에 판매될 정도로 인기가 높다. 결국 갑은 ㉡ 월 20만 원의 수강료를 지불한 요가 수업 대신 ㉢ 3만 원을 주고 ㉣ ‘아이돌 포토 카드’를 구매하는 합리적 선택을 하였다.

— <보 기> —

ㄱ. ㉠은 ‘아이돌 포토 카드’의 희소성 때문에 발생한다.
 ㄴ. ㉡은 ㉣의 기회비용에 포함된다.
 ㄷ. ㉢은 ㉣의 명시적 비용이다.
 ㄹ. 갑은 ㉣의 편익이 기회비용보다 작다고 판단했다.

- ① ㄱ, ㄴ ② ㄱ, ㄷ ③ ㄴ, ㄷ ④ ㄴ, ㄹ ⑤ ㄷ, ㄹ

19. 다음 편지에서 강조하는 내용으로 가장 적절한 것은?



- ① 인간 이외의 자연 만물은 경제적 가치로만 평가되어야 한다.
 ② 인간은 동·식물을 포함하는 모든 자연에 대한 소유권을 가진다.
 ③ 인간은 대지의 일부로 자연과 유기적 관계임을 인식해야 한다.
 ④ 인간은 대지에 속한 다른 존재보다 더 가치 있고 우월한 존재이다.
 ⑤ 인종과 상관없이 모든 인간에게 자연을 지배할 동등한 권리를 부여해야 한다.

20. (가), (나)에서 공통으로 도출할 수 있는 기업의 역할로 가장 적절한 것은?

(가) A 기업은 글로벌 탄소 감축 기여도를 높이기 위해 넷제로*와 RE100** 실현 의지를 담은 보고서를 발간했다. A 기업은 해당 보고서를 통해 2030년 넷제로와 RE100을 모든 계열사에서 동시에 달성하겠다는 의지를 밝히고, 온실가스 감축 목표 달성을 위한 중장기 전략도 공개했다.
 (나) B 기업은 해양 폐기물을 자사 제품의 부품 소재로 재활용하고 있다. 더 나아가 모든 신제품에 재활용 소재 적용, 제품 패키지에서 플라스틱 소재 제거, 매립 폐기물 제로화 등의 비전을 실천 중이다.

* 넷제로(net-zero): 6대 온실가스의 순 배출량을 0(zero)으로 만드는 것
 ** RE100: 기업의 소비 전력 100%를 재생 에너지로 충당하겠다는 글로벌 캠페인

- ① 회계를 투명하게 운영해야 한다.
 ② 노동자의 근로 조건을 개선해야 한다.
 ③ 소비자의 경제적 이익을 보호해야 한다.
 ④ 공정한 경쟁을 통해 이윤을 추구해야 한다.
 ⑤ 친환경적인 생산을 통해 환경 보호에 기여해야 한다.

* 확인 사항
 ○ 답안지의 해당란에 필요한 내용을 정확히 기입(표기)했는지 확인하십시오.