

사회탐구 영역(세계지리)

제 4 교시

성명

수험 번호

3


제 [] 선택

1

세계지리

1. 다음 자료의 (가), (나) 종교에 대한 설명으로 옳은 것은? (단, (가), (나)는 각각 이슬람교, 크리스티교 중 하나임.)

에스파냐 남부 그라나다 지방에 위치한 알람브라 궁전은 두 종교의 모습이 함께 나타난다. 알람브라 궁전은 (가)를 믿는 세력이 그라나다 지방에 들어와 세운 것으로 궁전 내부에는 ‘알라만이 승리자’라고 쓰인 상징물이 있으며 궁전의 벽에는 아라베스크 문양의 장식이 있다. 이후 (나)를 믿는 세력이 이 지역에 들어오게 되면서 궁전 내 모스크는 십자가가 있는 성당으로 바뀌었고, 쿠란의 구절이 장식되어 있는 ‘정의의 문’에는 성모상이 놓이게 되었다.



<‘정의의 문’의 쿠란 구절과 성모상>

- ① (가)는 민족 종교이다.
- ② (나)의 신자들은 라마단 기간에 낮 동안 금식한다.
- ③ (가)는 (나)보다 세계 신자 수가 많다.
- ④ (나)는 (가)보다 발생 시기가 늦다.
- ⑤ (가)와 (나)는 모두 유일신을 믿는 종교이다.

2. 다음은 사회 관계망 서비스(SNS) 게시물의 일부이다. ㉠ ~ ㉣에 대한 옳은 설명만을 <보기>에서 고른 것은? [3점]

geo.princess ...
요르단의 와디럼을 방문했다. 와디럼은 ‘계곡’을 뜻하는 ‘㉠와디’와 ‘달’을 뜻하는 ‘럼’이 합쳐진 말로, ‘달의 계곡’이라는 의미를 가지고 있다. 와디럼은 주인공과 마술 램프 요정의 모험을 다룬 영화의 배경이 되었는데, 주인공이 마술 램프를 찾으러 갈 때 이곳의 ㉡사구를 지나가는 장면을 설정해 촬영했다고 한다.
#요르단 #와디럼
❤️ 👍 🗨️ 🔄
답글 2개 좋아요 27개

prince_geo ...
나도 와디럼에 가 봤는데 멋지더라. 나는 그곳에서 ㉢버섯 바위를 보았는데 정말 인상적이었어.
❤️ 👍 🗨️ 🔄

geomeerkat ...
나도 멋진 영화 촬영지를 알아. ㉣메사와 뷰트가 유명한 미국 서부 모뉴먼트 벨리야. 그곳의 경관은 많은 영화의 배경이 되기도 했어.
❤️ 👍 🗨️ 🔄

< 보기 >

- ㉠. ㉠은 대부분 비가 내릴 때만 일시적으로 물이 흐른다.
- ㉡. ㉡이 연속적으로 발달한 지형을 바하다라고 한다.
- ㉢. ㉢은 경암과 연암이 차별 침식을 받아 형성된다.
- ㉣. ㉣은 주로 바람에 의한 침식 작용, ㉤은 주로 바람에 의한 퇴적 작용으로 형성된다.



- ① ㉠, ㉡ ② ㉠, ㉢ ③ ㉡, ㉣
- ④ ㉠, ㉢, ㉣ ⑤ ㉡, ㉣, ㉤

3. 다음은 환경 다큐멘터리 촬영 계획의 일부이다. (가), (나) 환경 문제에 대한 설명으로 옳지 않은 것은? (단, (가), (나)는 각각 사막화, 열대림 파괴 중 하나임.)

환경 문제의 최전선에 가다

1부
• 촬영 지역 브라질 마나우스
• 기획 의도
아마존 분지에 위치한 마나우스는 도시 개발 과정에서 숲이 사라지면서 (가) 문제가 발생하고 있다. 이러한 환경 문제의 심각성을 알리기 위해 서식지 파괴로 멸종 위기에 처한 동물들의 모습을 영상에 담는다.


2부
• 촬영 지역 우즈베키스탄 무이나크
• 기획 의도
(나)의 진행으로 아랄해 면적이 감소하면서 과거 번성했던 항구 도시 무이나크가 해안에서 멀리 떨어져 항구의 기능을 상실하게 되었다. 이러한 환경 문제의 심각성을 알리기 위해 황량하게 변한 무이나크의 모습을 영상에 담는다.

- ① (가)는 토양 침식을 심화시킨다.
- ② (가)를 해결하기 위해 몬트리올 의정서를 체결하였다.
- ③ (나)의 대표적인 사례 지역으로는 사헬 지대가 있다.
- ④ (나)는 경작지 확대와 과도한 관개 농업 등이 주요 원인이다.
- ⑤ (가)와 (나)는 모두 식생의 감소를 초래한다.

4. 다음은 뉴스 장면의 일부이다. ㉠ ~ ㉣에 대한 옳은 설명만을 <보기>에서 있는 대로 고른 것은?

한국 라면이 2023년에 ㉠수출액 9억 5,200만 달러를 기록하며, K-푸드 성장의 일등 공신이 되었습니다. 한류 문화의 확산으로 ㉡라면에 대한 선호도가 높아진 것이 영향을 미쳤습니다. 이러한 현상에 힘입어 ㉢우리나라에 본사가 있는 ㉣기업은 중국과 미국에 생산 공장을 운영하면서, 증가한 라면 수요에 대응하기 위해 해외 공장 추가 건립을 검토 중에 있습니다. 또한 ㉤기업은 ㉥현지 주민들의 입맛을 고려하여 중국에서는 마라소스, 남부 아시아 등지에서는 마살라소스를 넣은 라면 등을 출시하였습니다.



전 세계인이 즐기는 한국 라면

< 보기 >

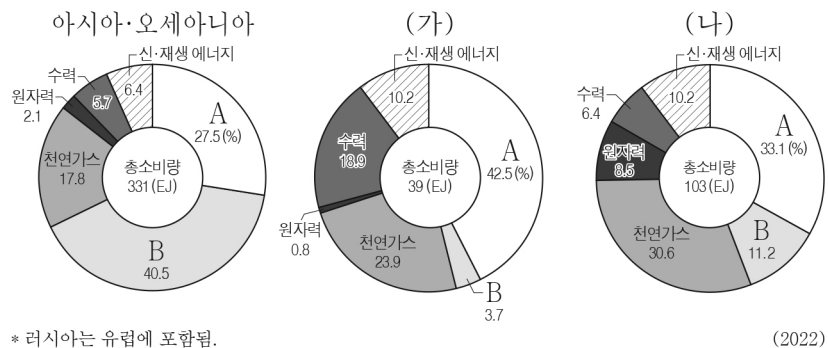
- ㉠. ㉠은 지리 정보 중 속성 정보에 해당한다.
- ㉡. ㉡은 주로 원격 탐사를 통해 수집한다.
- ㉢. ㉢은 기업이 국제적 분업을 하는 사례이다.
- ㉣. ㉣은 지역의 특성을 반영한 현지화 전략 중 하나이다.

- ① ㉠, ㉡ ② ㉠, ㉢ ③ ㉡, ㉣
- ④ ㉠, ㉢, ㉣ ⑤ ㉡, ㉣, ㉤

2 (세계지리)

사회탐구 영역

5. 그래프는 세 지역(대륙)의 1차 에너지 소비 구조를 나타낸 것이다. 이에 대한 설명으로 옳은 것은? (단, (가), (나)는 각각 유럽, 라틴 아메리카 중 하나이며, A, B는 각각 석유, 석탄 중 하나임.) [3점]



* 러시아는 유럽에 포함됨.

(2022)

- ① (가)는 (나)보다 석유의 소비량이 많다.
- ② A는 B보다 상용화된 시기가 이른다.
- ③ A는 B보다 수송용으로 많이 사용된다.
- ④ B는 A보다 세계 1차 에너지 소비 구조에서 차지하는 비율이 높다.
- ⑤ 유럽은 라틴 아메리카보다 지역(대륙) 내 석탄의 소비 비율이 낮다.

6. (가), (나)에 해당하는 국가를 지도의 A ~ C에서 고른 것은?

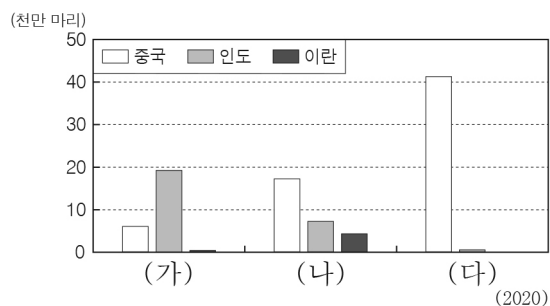
(가)은/는 두 지각판이 갈라지는 경계인 해령에 위치하여 지진과 화산 활동이 활발해. 수도인 레이카비크는 '연기가 자욱한 만'이라는 뜻인데 온천과 간헐천에서 나오는 수증기 때문에 붙은 이름이야.

(나)은/는 두 대륙판의 충돌로 형성된 해발 고도 8,000m 이상의 높은 산이 많아. 수도인 카트만두는 히말라야 트레킹의 거점 도시로 높고 험준한 산을 찾는 산악인들로 늘 붐비는 곳이야.



- | | | |
|---|-----|-----|
| | (가) | (나) |
| ① | A | B |
| ② | A | C |
| ③ | B | A |
| ④ | B | C |
| ⑤ | C | B |

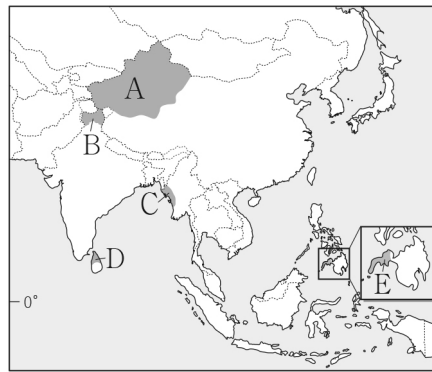
7. 그래프는 세 국가의 가축 사육 두수를 나타낸 것이다. 이에 대한 설명으로 옳은 것은? (단, (가) ~ (다)는 각각 소, 양, 돼지 중 하나임.)



- ① (가)는 이슬람 문화권에서 식용을 금기시한다.
- ② (나)의 털은 모직 공업의 주원료로 이용된다.
- ③ (다)는 소에 해당한다.
- ④ (다)는 (가)보다 벼농사 지역에서 노동력 대체 효과가 크다.
- ⑤ 중국은 소 사육 두수가 돼지 사육 두수보다 많다.

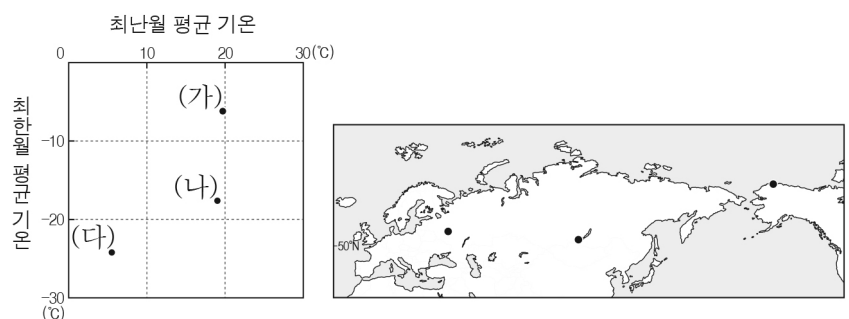
8. 다음 자료의 (가)에 해당하는 지역을 지도의 A ~ E에서 고른 것은?

(가)은/는 영국으로부터 독립하는 과정에서 주민의 대다수가 이슬람교도임에도 불구하고 힌두교도가 다수인 국가에 속하게 되어 갈등이 발생하였다. 해당 국가는 이러한 특수성을 고려하여 (가)에 특별자치권을 보장해 왔으나, 최근 특별자치권을 박탈하면서 주민들이 반발하는 등 갈등이 깊어지고 있다.



- ① A
- ② B
- ③ C
- ④ D
- ⑤ E

9. 그래프는 지도에 표시된 세 지역의 기후 특성을 나타낸 것이다. (가) ~ (다) 지역에 대한 옳은 설명만을 <보기>에서 고른 것은? [3점]

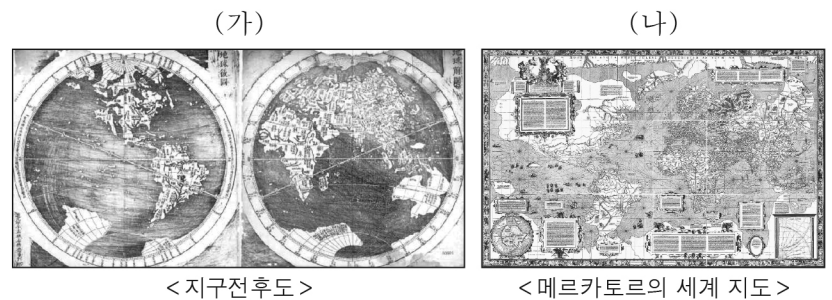


< 보기 >

- ㄱ. (가)는 북극해 연안에 위치한다.
- ㄴ. (다)에는 침엽수림인 타이가가 넓게 나타난다.
- ㄷ. (가)는 (나)보다 연중 강수가 고르다.
- ㄹ. (다)는 (나)보다 7월의 낮 길이가 길다.

- ① ㄱ, ㄴ
- ② ㄱ, ㄷ
- ③ ㄴ, ㄷ
- ④ ㄴ, ㄹ
- ⑤ ㄷ, ㄹ

10. (가), (나) 지도에 대한 옳은 설명만을 <보기>에서 고른 것은?



< 보기 >

- ㄱ. (가)는 중국 중심의 세계관이 반영되어 제작되었다.
- ㄴ. (나)는 나침반을 이용한 항해에 널리 사용되었다.
- ㄷ. (나)는 저위도에서 고위도로 갈수록 면적이 정확하게 표현되어 있다.
- ㄹ. (가)와 (나)는 모두 지구가 구체(球體)라는 인식이 반영되어 있다.

- ① ㄱ, ㄴ
- ② ㄱ, ㄷ
- ③ ㄴ, ㄷ
- ④ ㄴ, ㄹ
- ⑤ ㄷ, ㄹ

11. 다음은 온라인 참여 지도 화면의 일부이다. (가), (나) 지역의 기후 그래프를 A ~ D에서 고른 것은?

우리가 함께 만드는 지도

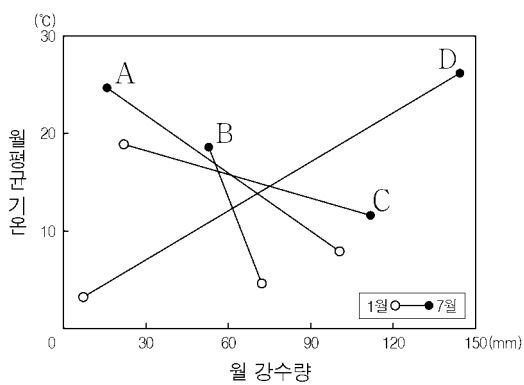
기억에 남는 여행지

세계지리반 친구들이 다녀온 곳

- 치즈가 유명한 지역
- 레몬이 유명한 지역

기념품점에 들어서자 이 지역의 특산품인 레몬으로 만든 사탕, 술, 비누 등을 팔고 있었다. 이 지역은 여름에 기온이 높고 건조하여 레몬, 올리브, 포도 등을 재배하는 수목 농업이 활발하다고 한다.

이 지역에서 생산되는 치즈는 부드러운 질감과 맛이 색달랐다. 이 지역은 비교적 여름이 서늘하고 겨울이 온화해 목초지 형성에 좋은 조건을 갖추어 낙농업이 잘 발달할 수 있었다고 한다.



- | | | |
|---|-----|-----|
| | (가) | (나) |
| ① | A | B |
| ② | B | A |
| ③ | B | C |
| ④ | D | A |
| ⑤ | D | C |

12. 다음 글은 여행 중 작성한 메모 내용의 일부이다. (가) ~ (다)에 해당하는 국가에 대한 옳은 설명만을 <보기>에서 고른 것은? (단, (가) ~ (다)는 각각 몽골, 일본, 베트남 중 하나임.)

(가) 태평양에 있는 섬나라에 왔다. 쌀밥에 생선을 얹어 만든 이 국가의 전통 음식인 '스시'를 현지에서 직접 맛보니 일품이었다. 내일은 세계 유산으로 등재된 후지산에 가보려 하는데 경관이 아름답다고 해서 기대된다.

(나) 메콩강 삼각주에 와 보니 벼농사 지대가 넓게 펼쳐져 있었다. 점심으로 소나 닭의 뼈로 우려낸 육수에 쌀로 만든 국수를 넣어 만든 이 국가의 전통 음식인 '짜'를 먹었다. 내일은 세계 유산으로 등재된 할롱 베이를 탐방할 것이다.

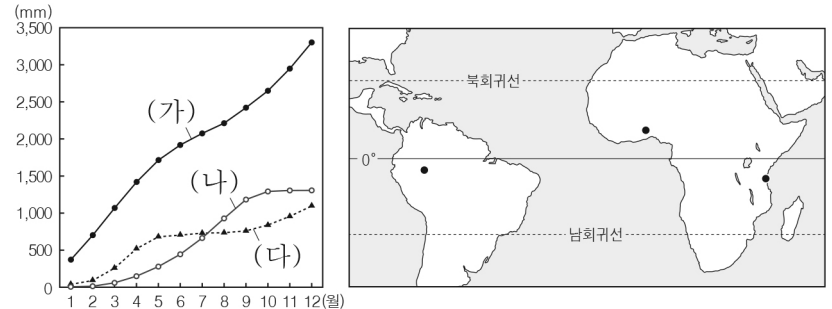
(다) 양들이 흩어져 있는 드넓은 초원이 인상적이었다. 양이나 염소 고기를 채소와 함께 찌서 만든 유목민의 전통 음식인 '허르헝'을 맛보았다. 내일은 이 국가의 이동식 전통 가옥인 '게르'를 체험할 계획인데, 가옥의 내부가 궁급하다.

< 보기 >

- ㄱ. (가)는 신기 조산대에 위치하여 화산 활동이 활발하다.
- ㄴ. (나)의 여성 전통 의복으로는 아오자이가 있다.
- ㄷ. (다)는 동남아시아 국가 연합(ASEAN)의 회원국이다.
- ㄹ. (다)의 수도는 (가)의 수도보다 연 강수량이 많다.

- ① ㄱ, ㄴ ② ㄱ, ㄷ ③ ㄴ, ㄷ ④ ㄴ, ㄹ ⑤ ㄷ, ㄹ

13. 그래프는 지도에 표시된 세 지역의 누적 강수량을 나타낸 것이다. (가) ~ (다) 지역에 대한 설명으로 옳은 것은? [3점]



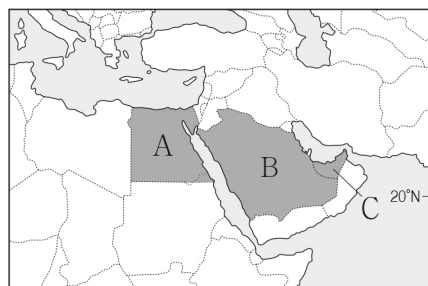
- ① (나)는 1월이 7월보다 정오의 태양 고도가 높다.
- ② (가)는 (나)보다 연간 대류성 강수의 발생 일수가 적다.
- ③ (나)는 (다)보다 7월에 아열대 고압대의 영향을 많이 받는다.
- ④ (다)는 (나)보다 북회귀선까지의 최단 거리가 멀다.
- ⑤ (가) ~ (다)는 모두 기온의 연교차가 기온의 일교차보다 크다.

14. 다음 글의 (가), (나) 국가를 지도의 A ~ C에서 고른 것은? [3점]

< 산업 구조의 다변화를 위해 노력하는 산유국들 >

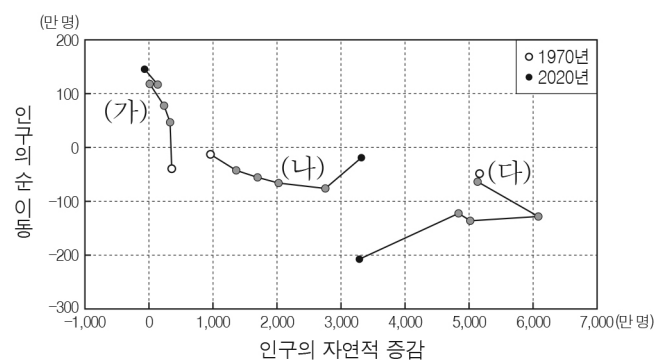
(가) 제조업 중심의 산업을 육성하고 무역의 중심지로 성장하기 위해 제벨 알리 경제 자유 지역(JAFZ)을 설치하였다. 작은 어촌이었던 두바이에는 초고층 건물인 부르즈 할리파, 인공 섬인 팜 주메이라 등이 들어서 많은 관광객들이 찾고 있다.

(나) 원유 생산 이외에 부가가치가 높은 원유 정제업, 석유 화학 공업 등을 육성하고 있으며, 비석유 부문의 고용 창출 및 수출 비중을 확대하고 있다. 또한 메카 성지 순례객 방문 증대를 통한 관광 산업 활성화를 꾀하고 있으며, 북서부 지역에는 스마트 시티인 네움 시티 건설 등을 추진하고 있다.



- | | | |
|---|-----|-----|
| | (가) | (나) |
| ① | A | B |
| ② | B | A |
| ③ | B | C |
| ④ | C | A |
| ⑤ | C | B |

15. 그래프는 지역(대륙)별 인구의 자연적 증감과 인구의 순 이동을 나타낸 것이다. 이에 대한 설명으로 옳은 것은? (단, (가) ~ (다)는 각각 유럽, 아시아, 아프리카 중 하나임.) [3점]



* 인구의 순 이동 = 유입 인구 - 유출 인구
 ** 인구의 자연적 증감 = 출생자 수 - 사망자 수
 *** ●는 1970년과 2020년 사이의 값을 10년 간격으로 나타낸 것임.

- ① (나)는 (가)보다 2020년 인구의 자연 증가율이 낮다.
- ② (다)는 (가)보다 2020년 중위 연령이 높다.
- ③ (가) ~ (다) 중 2020년 총인구가 가장 많은 지역(대륙)은 (다)이다.
- ④ 아프리카는 아시아보다 2020년 순 유출 인구가 많다.
- ⑤ 유럽은 2020년이 1970년보다 인구의 자연적 증가가 많다.

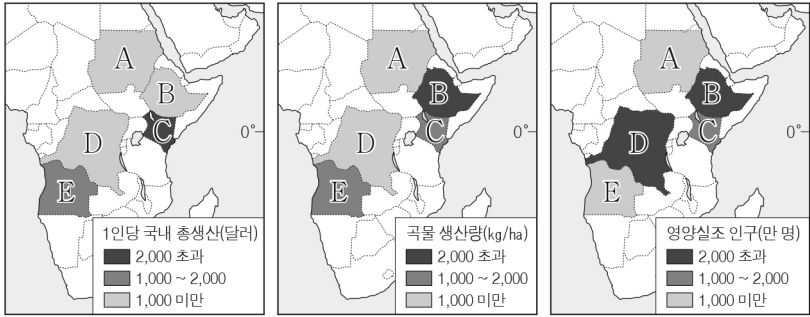
4 (세계지리)

사회탐구 영역

16. 다음 자료를 토대로 하나의 국가를 선정하여 식량 지원 기금을 지원하고자 한다. 가장 적합한 국가를 지도의 A ~ E에서 고른 것은? (단, 합산 점수가 가장 높은 국가를 선정함.)

<점수 산정 기준>

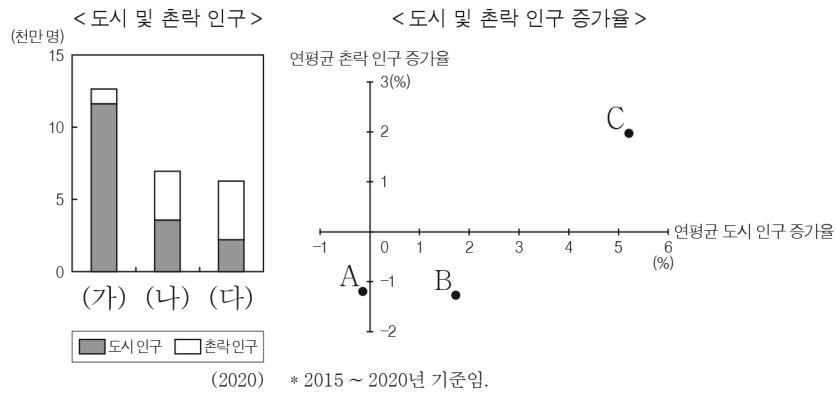
항목 점수	1인당 국내 총생산 (달러)	곡물 생산량 (kg/ha)	영양실조 인구 (만 명)
1점	2,000 초과	2,000 초과	1,000 미만
2점	1,000 ~ 2,000	1,000 ~ 2,000	1,000 ~ 2,000
3점	1,000 미만	1,000 미만	2,000 초과



* 1인당 국내 총생산과 곡물 생산량은 2021년 기준임.
** 영양실조 인구는 2020 ~ 2022년 평균값임.


- ① A ② B ③ C ④ D ⑤ E

17. 그래프에 대한 설명으로 옳은 것은? (단, (가) ~ (다)와 A ~ C는 각각 일본, 타이, 탄자니아 중 하나임.) [3점]



- ① (나)에는 최상위 계층의 세계 도시가 위치한다.
② (다)는 (가)보다 1인당 국내 총생산이 많다.
③ A는 C보다 1차 산업 종사자 비율이 높다.
④ C는 B보다 2020년 도시 인구가 많다.
⑤ 2020년 도시화율은 A > B > C 순으로 높다.

18. 그래프는 세 국가의 상품 수출액 비율을 나타낸 것이다. (가) ~ (다)에 해당하는 국가를 지도의 A ~ C에서 고른 것은? [3점]



- | | | | |
|---|-----|-----|-----|
| | (가) | (나) | (다) |
| ① | A | B | C |
| ② | A | C | B |
| ③ | B | A | C |
| ④ | B | C | A |
| ⑤ | C | B | A |

19. 다음 자료의 ㉠ ~ ㉣ 지형에 대한 옳은 설명만을 <보기>에서 고른 것은? [3점]



독일의 작곡가 멘델스존은 스코틀랜드의 스타파섬을 여행하고 1830년 '헤브리디스 서곡'을 작곡하였다. 파이프 오르간처럼 생긴 ㉠ 주상 절리, 파도 소리를 울리게 만드는 ㉡ 해식동에서 영감을 받아 곡으로 표현하였다. 스타파섬에서는 이외에도 ㉢ 파식대 등 독특한 지형이 나타난다.

< 보기 >

- ㉠. ㉠의 기반암은 주로 탄산칼슘으로 이루어진 퇴적암이다.
㉡. ㉡은 용암이 빠르게 냉각되는 과정에서 형성되었다.
㉢. ㉢은 해식애가 육지 쪽으로 후퇴하면서 발달하는 평탄면이다.
㉣. ㉠과 ㉡은 파랑의 에너지가 분산되는 만(灣)에서 주로 발달한다.

- ① ㉠, ㉡ ② ㉠, ㉢ ③ ㉡, ㉢ ④ ㉡, ㉣ ⑤ ㉢, ㉣

20. 다음 자료의 (가) ~ (다) 국가에 대한 설명으로 옳은 것은? (단, (가) ~ (다)는 각각 독일, 영국, 스위스 중 하나임.) [3점]

생겐 조약은 유럽 연합(EU) 회원국 간 통행의 제한 없이 자유로운 이동을 보장하는 국경 개방 조약이다. 유럽 연합 회원국인 (가)은/는 생겐 조약에 가입되어 있어 국경을 접하고 있는 프랑스, 폴란드 등의 가입국 간 자유로운 이동이 가능하다. 유럽 연합 비회원국도 생겐 조약에 가입하는 것이 가능하다. 그 예로 (나)은/는 유럽 연합 비회원국이지만 생겐 조약에 가입되어 있어 국경을 접하고 있는 프랑스, 이탈리아 등의 가입국 간 자유로운 이동이 가능하다. 한편, 유럽 연합 회원국이지만 생겐 조약에 가입하지 않은 경우도 있다. 섬나라인 (다)은/는 2020년 유럽 연합을 탈퇴하기 전에도 생겐 조약에 가입하지 않았다.

- ① (가)는 영토가 바다와 접하지 않은 내륙국이다.
② (나)에는 첨단 산업 지구인 케임브리지 사이언스 파크가 있다.
③ (다)의 스코틀랜드 지역에서는 분리 독립 움직임이 있다.
④ (나)는 (다)보다 국토 면적이 넓다.
⑤ (가)와 (나)는 모두 유로화를 단일 화폐로 사용한다.

※ 확인 사항

○ 답안지의 해당란에 필요한 내용을 정확히 기입(표기)했는지 확인 하시오.