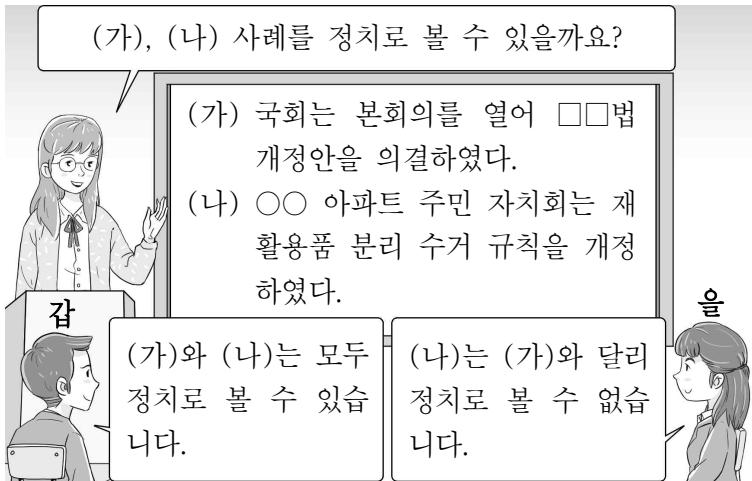


제 4 교시

사회탐구 영역(정치와 법)

성명		수험번호				3				제 ( ) 선택
----	--	------	--	--	--	---	--	--	--	----------

1. 정치를 바라보는 갑, 을의 관점에 대한 설명으로 옳은 것은?



- ① 갑의 관점은 국가 주도의 정치 현상을 설명할 수 없다.
- ② 을의 관점은 다원화된 현대 사회의 정치 현상을 설명하기에 적합하다.
- ③ 갑의 관점은 을의 관점과 달리 국가 형성 이전에 나타난 정치 현상을 설명하기에 적합하다.
- ④ 을의 관점은 갑의 관점과 달리 정치를 통해 사회적 갈등이 해결된다고 본다.
- ⑤ 갑의 관점과 을의 관점은 모두 소수 통치 엘리트에 의해서만 정치가 이루어진다고 본다.

2. 민법의 기본 원칙 A에 부합하는 진술로 옳은 것은?

**△ △ 신문**

○○ 공기업이 토지에 소금을 살포하여 지하수가 오염되었고 이로 인해 꽃이 죽었다며 인근 화훼 농가들이 손해 배상을 청구하였다. 법원은 농가가 입은 피해에 대해 ○○ 공기업이 배상해야 한다고 판결하였다. 이는 민법의 기본 원칙 A가 반영된 환경 정책 기본법에 근거한 것이다.

▷ 법률 상식 코너: 환경 정책 기본법은 환경 오염 또는 환경 훼손으로 피해가 발생한 경우에 해당 환경 오염 또는 환경 훼손의 원인자가 그 피해를 배상하도록 규정하고 있다.

- ① 현저히 공정성을 잃은 계약은 효력이 인정되지 않는다.
- ② 국가는 개인 소유 재산에 대한 사적 지배를 인정해야 한다.
- ③ 가해자는 고의 또는 과실이 인정되는 경우에만 손해 배상 책임을 진다.
- ④ 개인은 자신이 소유한 재산을 공공의 이익에 부합하도록 사용해야 한다.
- ⑤ 고의나 과실이 없더라도 타인에게 피해를 준 경우 일정한 요건에 따라 손해 배상 책임을 져야 한다.

3. 법치주의의 유형 A, B에 대한 설명으로 옳은 것은?

법치주의는 의회에서 제정한 법에 따른 통치 방식을 의미하며, 그 유형에는 A와 B가 있다. A는 법 제정 과정에서의 절차적 합법성만을 중시하지만 B는 절차적 합법성뿐만 아니라 법의 목적과 내용이 정의에 부합할 것을 강조한다.

- ① A는 법의 지배가 아닌 사람의 지배를 강조한다.
- ② B는 합법적 독재의 수단으로 악용될 수 있다는 비판을 받는다.
- ③ A는 B와 달리 위헌 법률 심사제의 필요성을 강조한다.
- ④ B는 A와 달리 국가 권력의 자의적 행사 방지를 중시한다.
- ⑤ A와 B는 모두 국민의 기본권을 제한할 때 법에 근거를 두어야 한다고 본다.

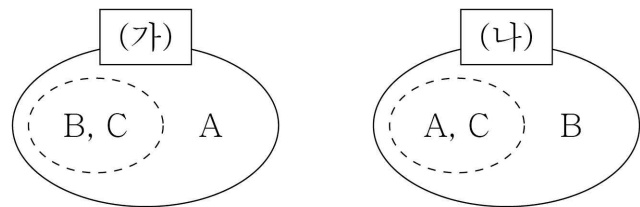
4. 우리나라 헌법의 기본 원리 A, B에 대한 설명으로 옳은 것은?

구분	관련 헌법 조항
A	모든 국민은 근로의 권리를 가진다. 국가는...(중략)... 최저 임금제를 시행하여야 한다.
B	외국인은 국제법과 조약이 정하는 바에 의하여 그 지위가 보장된다.

- ① A는 현대 복지 국가 헌법에서부터 강조된 원리이다.
- ② A를 실현하기 위해서는 국가의 소극적 역할이 요구된다.
- ③ 대통령 선거에서 재외 국민에게 선거권을 부여하는 것은 B의 실현 방안이다.
- ④ 사회 보장 제도의 실시는 A가 아닌 B의 실현 방안이다.
- ⑤ 침략적 전쟁을 부인하는 것은 B가 아닌 A의 실현 방안이다.

5. 다음 자료는 질문 (가), (나)에 대해 같은 응답을 할 수 있는 기본권 유형끼리 묶은 것이다. 이에 대한 설명으로 옳은 것은? (단, A~C는 각각 사회권, 자유권, 청구권 중 하나임.) [3점]

(가) 인간다운 생활 보장을 국가에 요구할 수 있는 권리인가?  
(나) 국가의 존재를 전제로 인정되는 권리인가?



- ① (가)에 대한 A의 응답과 (나)에 대한 B의 응답은 모두 '예'이다.
- ② C는 역사적으로 가장 오래된 기본권이다.
- ③ A는 B와 달리 헌법에 열거되어야 보장되는 권리이다.
- ④ B는 C와 달리 다른 기본권 보장의 전제가 되는 권리이다.
- ⑤ C는 A와 달리 적극적 권리이다.

6. 밑줄 친 ㉠~㉣에 대한 설명으로 옳은 것은?

갑은 특정 범죄를 저질러 형이 확정된 사람은 일반직 공무원으로 임용될 수 없도록 한 국가 공무원법 해당 조항이 ㉠공무 담임권을 침해한다며 위헌 법률 심판의 제청 신청 없이 ㉡헌법 소원 심판을 청구하였다. ㉢헌법 재판소는 국가 공무원법 해당 조항이 헌법에 위반된다고 판단하였다.

- ① ㉠은 다른 기본권 보장을 위한 수단적 권리에 해당한다.
- ② ㉡은 권리 구제형 헌법 소원 심판이다.
- ③ 국민뿐만 아니라 법원도 ㉢의 청구권자이다.
- ④ ㉢은 국정 감사권을 갖는다.
- ⑤ ㉢의 구성원은 모두 국회의 동의를 얻어 대통령이 임명한다.

7. 다음 자료에 대한 설명으로 옳은 것은? [3점]

전형적인 정부 형태의 특징을 이해했는지 확인하기 위한 활동에서 갑~병은 아래 표와 같이 각각 2장의 카드를 배부 받았다. 그리고 갑은 을의 카드를, 을은 병의 카드를, 병은 갑의 카드를 동시에 1장만 가져갔다. 이후 갑~병이 각각 가진 2장의 카드 점수를 합산해 보니 갑은 2점, 을은 3점, 병은 ㉠이었다. 단, 각 카드 내용이 전형적인 대통령제에만 해당하면 1점, 전형적인 의원 내각제에만 해당하면 2점, 두 정부 형태에 모두 해당하면 3점이다.

<갑~병이 배부받은 카드>

구분	첫 번째 카드	두 번째 카드
갑	행정부 수반은 법률안 거부권을 행사할 수 있다.	국가 원수와 행정부 수반은 동일인이다.
을	의회 의원은 각료를 겸직할 수 없다.	의회는 행정부에 대해 불신임권을 행사할 수 있다.
병	국민이 의회 의원을 선거로 선출한다.	국민이 행정부 수반을 선거로 선출한다.

- ① ㉠에는 '3점'이 들어간다.
- ② 의원 내각제에만 해당하는 내용의 카드는 2장이다.
- ③ 갑은 을이 배부받은 카드 중 두 번째 카드를 가져갔다.
- ④ 을, 병이 가져간 카드의 내용은 모두 대통령제에만 해당한다.
- ⑤ 갑은 을, 병과 달리 카드를 가져가기 전과 후의 점수가 같다.

8. 밑줄 친 ㉠~㉣에 대한 설명으로 옳은 것은?

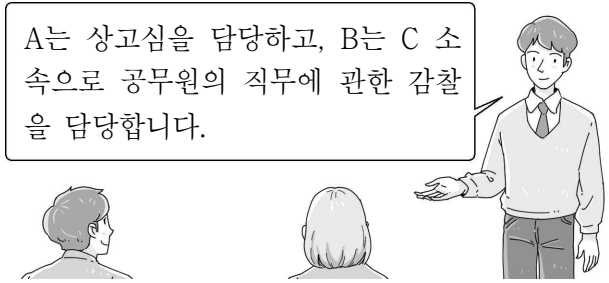
○ 탄소 중립 선도를 공언한 ○○도의 '㉠정의로운 전환 기본 조례'가 ㉡○○도의회에서 의결되었다.

○ □□시 주민들은 그들의 이익에 반하는 정부의 주택 공급 정책에 대해 ㉢□□시장이 적극적으로 반대하지 않은 책임을 져야 한다며 ㉣□□시장을 임기 중 주민의 투표에 의해 해임할 수 있는 제도를 활용하려고 한다.

- ① ㉡은 지방 자치 단체의 집행 기관이다.
- ② ㉢은 지방 자치 단체 예산의 심의·확정권을 갖는다.
- ③ ㉣은 직접 민주 정치 요소를 가진 제도이다.
- ④ ㉠은 ㉡의 의결을 거친 후 주민 투표로 확정된다.
- ⑤ ㉡의 구성원은 ㉢과 달리 단순 다수 대표제로 선출된다.

9. 우리나라 헌법 기관 A~C에 대한 옳은 설명만을 <보기>에서 고른 것은?

A는 상고심을 담당하고, B는 C 소속으로 공무원의 직무에 관한 감찰을 담당합니다.



< 보기 >

ㄱ. A는 위헌·위법한 명령, 규칙, 처분에 대한 최종 심사권을 갖는다.

ㄴ. B는 국가 세입·세출의 결산 검사권을 갖는다.

ㄷ. B의 장(長)은 C와 달리 탄핵 소추의 대상이 된다.

ㄹ. B의 장(長)은 A의 장(長)과 달리 C가 임명한다.

- ① ㄱ, ㄴ    ② ㄱ, ㄷ    ③ ㄴ, ㄷ    ④ ㄴ, ㄹ    ⑤ ㄷ, ㄹ

10. 밑줄 친 ㉠, ㉡의 근거로 옳은 것은? [3점]

○ 갑의 변호인은 갑(16세)이 A를 폭행할 당시 사고 능력 등이 완전히 결여된 심신 상실의 상태였음을 주장했고, 법원은 이를 받아들여 ㉠갑에게 무죄를 선고하였다.

○ 을(30세)은 B가 차량을 가로막고 흉기로 위협을 가해 어쩔 수 없이 경찰서로 가기 위해 음주 운전을 했다고 주장했고, 법원은 이를 받아들여 ㉡을에게 무죄를 선고하였다.

- ① ㉠ - 범죄의 구성 요건에 해당하지 않는다.
- ② ㉠ - 정당 행위에 해당하여 위법성이 조각된다.
- ③ ㉠ - 형사 미성년자의 행위로 책임이 조각된다.
- ④ ㉡ - 긴급 피난에 해당하여 위법성이 조각된다.
- ⑤ ㉡ - 범죄의 구성 요건에 해당하지 않는다.

11. 밑줄 친 ㉠~㉣에 대한 설명으로 옳은 것은? [3점]

법원은 A를 폭행한 갑에게 ㉠징역 1년 6월에 ㉡집행 유예 3년, ㉢보호 관찰 3년을 선고하였다. 그러나 갑은 집행 유예 기간 동안 고의로 소재를 감추는 등 보호 관찰관의 지도·감독에 불응하였다. 이에 ○○ 보호 관찰소장은 검사에게 집행 유예 취소의 청구를 신청하였고, ㉣검사는 법원에 ㉤집행 유예 취소를 청구하였다.

- ① ㉠은 노역이 부과되지 않는 자유형이다.
- ② ㉡은 피고인의 무죄를 인정하는 선고 유형이다.
- ③ ㉢은 범죄에 대한 예방이 아닌 응보가 목적이다.
- ④ ㉣은 형의 집행을 지휘한다.
- ⑤ ㉤이 받아들여지면 ㉣은 갑을 기소한다.

12. (가)~(라)에 들어갈 수 있는 내용만을 <보기>에서 고른 것은? [3점]

<수행 평가> 사례에 대한 법적 판단을 각각 2가지씩 서술하십시오. (단, 법적 판단이 옳으면 1점, 옳지 않으면 0점임.)

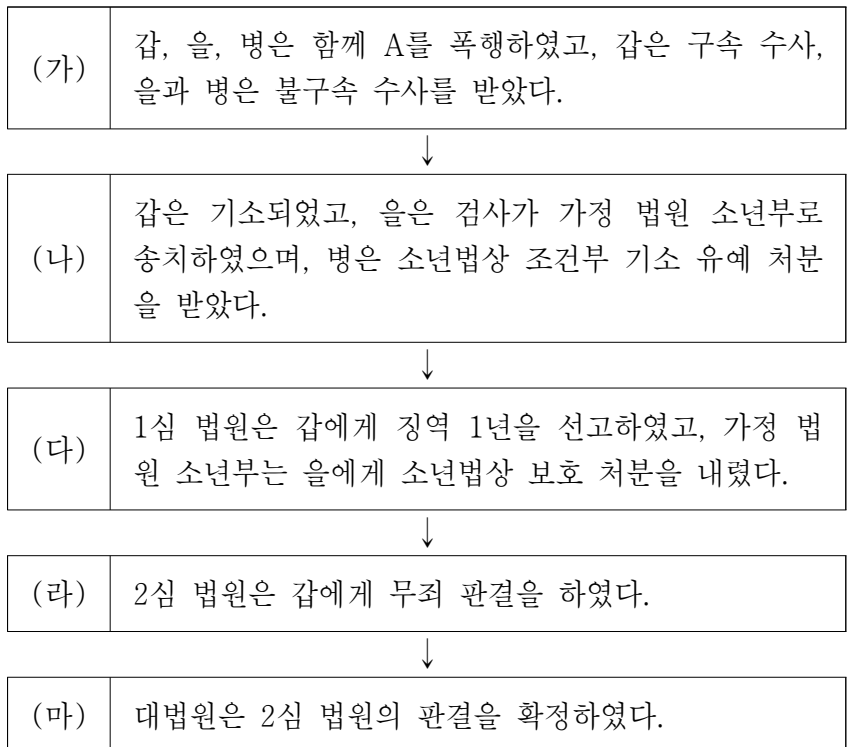
사례	법적 판단 내용	점수
갑(17세)은 법정 대리인의 동의를 얻지 않고 고가의 자전거를 구매하는 계약을 판매업자 A와 체결하였다.	(가)	1점
	(나)	0점
을(17세)은 위조한 법정 대리인의 동의서를 제시하였고, 이를 믿은 판매업자 B는 고가의 자전거를 판매하는 계약을 을과 체결하였다.	(다)	0점
	(라)	1점

< 보 기 >

ㄱ. (가) - 갑은 계약을 취소할 수 있다.  
 ㄴ. (나) - A는 갑에게 확답을 촉구할 권리를 행사할 수 있다.  
 ㄷ. (다) - B는 을에게 철회권을 행사할 수 없다.  
 ㄹ. (라) - 을의 법정 대리인은 계약을 취소할 수 있다.

- ① ㄱ, ㄴ    ② ㄱ, ㄷ    ③ ㄴ, ㄷ    ④ ㄴ, ㄹ    ⑤ ㄷ, ㄹ

13. 형사 절차 (가)~(마)에 대한 설명으로 옳은 것은? [3점]



- ① (가)에서 을, 병은 갑과 달리 구속 적부 심사를 받았다.  
 ② (나)에서 갑, 을의 연령은 병과 달리 14세 이상이다.  
 ③ (다)에서 갑과 을은 모두 형벌을 선고받았다.  
 ④ (라)의 판결에 대해 상고한 재판 당사자는 갑이다.  
 ⑤ (마) 이후 갑은 형사 보상을 청구할 수 있다.

14. 다음 사례에 대한 법적 판단으로 옳은 것은? [3점]

고등학생 갑(17세)은 을이 운영하는 주유소에서 부모의 허락을 받고 주유 아르바이트를 하다가 실수로 병의 차에 휘발유 대신 경유를 주유하였다. 병의 차는 얼마 가지 못해 멈추었고 정비업체로 견인되었다. 정비업체 사장은 병에게 휘발유 대신 경유가 주유되었기 때문에 차가 멈추었다고 알려주었다. 이에 병은 손해 배상 책임을 묻기로 하였다.

- ① 갑의 행위는 고의가 없으므로 불법 행위로 성립하지 않는다.  
 ② 갑의 행위가 불법 행위로 성립하면 을은 일반 불법 행위 책임을 진다.  
 ③ 을에게 사용자의 배상 책임이 인정되더라도 병은 갑에게 손해 배상 책임을 물을 수 있다.  
 ④ 병은 갑의 부모에게 특수 불법 행위 책임을 물을 수 있다.  
 ⑤ 갑, 갑의 부모, 을은 공동 불법 행위자의 책임을 진다.

15. 표는 정치 참여 집단 A~C를 구분하기 위한 것이다. 이에 대한 옳은 설명만을 <보기>에서 고른 것은? (단, A~C는 각각 시민 단체, 이익 집단, 정당 중 하나임.)

질문	답변
A는 공익보다 집단의 특수 이익을 우선시하는가?	예
C는 B와 달리 정권 획득을 목적으로 하는가?	아니요

\* 질문에 대한 답변은 모두 옳음.

< 보 기 >

ㄱ. A는 B와 달리 정치적 책임을 진다.  
 ㄴ. B는 C와 달리 정부와 의회를 매개하는 역할을 수행한다.  
 ㄷ. C는 A와 달리 공직 선거에서 후보자를 공천한다.  
 ㄹ. A~C는 모두 정치 과정에서 투입 기능을 담당한다.

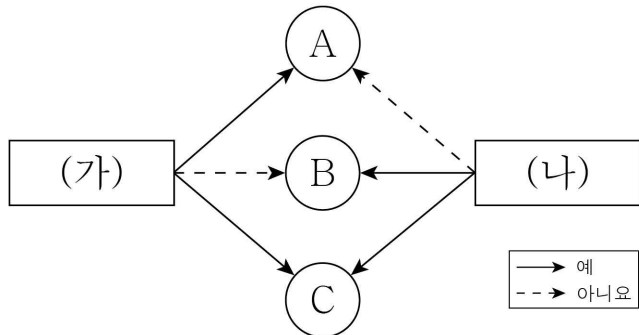
- ① ㄱ, ㄴ    ② ㄱ, ㄷ    ③ ㄴ, ㄷ    ④ ㄴ, ㄹ    ⑤ ㄷ, ㄹ

16. 국제법의 법원(法源) A~C에 대한 설명으로 옳은 것은? (단, A~C는 각각 국제 관습법, 법의 일반 원칙, 조약 중 하나임.)

교사: A~C 중 하나만 선택하여 설명해 보세요.  
 갑: B는 주로 문서의 형식으로 존재합니다.  
 을: C는 문명국들이 공통적으로 승인하여 따르는 법의 보편적인 원칙입니다.  
 교사: 갑만 옳게 설명했네요.

- ① 우리나라에서 B의 체결·비준권은 국회의 권한이다.  
 ② B는 원칙적으로 국제 사회에서 포괄적인 구속력을 갖는다.  
 ③ C의 예로 국내 문제 불간섭을 들 수 있다.  
 ④ A는 C와 달리 국제 사법 재판소의 재판 준거로 활용된다.  
 ⑤ A~C는 모두 우리나라에서 헌법과 동등한 지위를 지닌다.

17. 다음 자료는 근로 계약과 관련하여 근로자 A~C를 구분한 것이다. 이에 대한 옳은 설명만을 <보기>에서 있는 대로 고른 것은? (단, A~C는 모두 중학교를 졸업했고, 연령은 각각 17세, 18세, 20세 중 하나임.) [3점]



- < 보 기 >
- ㄱ. (가)에 '사용자는 친권자 및 후견인의 동의를 사업장에 비치해 두어야 하는가?'가 들어갈 수 있다.
  - ㄴ. (가)에 '고용 노동부 장관이 발급한 취직 인허증이 있어야 근로가 가능한가?'가 들어갈 수 없다.
  - ㄷ. (나)에 '연장 근로 없이 1일 7시간을 초과하여 근로할 수 있는가?'가 들어가면 A는 17세이다.
  - ㄹ. (가)에 '법정 대리인의 동의를 얻어야 근로 계약이 가능한가?'가 들어가고 (나)에 '연장 근로는 1일 1시간을 초과할 수 있는가?'가 들어가면, C는 18세이다.

- ① ㄱ, ㄴ                      ② ㄱ, ㄹ                      ③ ㄴ, ㄷ  
 ④ ㄱ, ㄷ, ㄹ                ⑤ ㄴ, ㄷ, ㄹ

18. 국제 연합의 주요 기관 A~C에 대한 질문에 모두 옳게 응답한 학생은? (단, A~C는 각각 국제 사법 재판소, 안전 보장 이사회, 총회 중 하나임.) [3점]

'국제 연합의 사법 기관에 해당하는가?'라는 질문을 통해 A와 B를 구분할 수 있고, '국제 연합의 모든 회원국으로 구성되는가?'라는 질문을 통해 B와 C를 구분할 수 없다.

질문	학생					
	갑	을	병	정	무	
A는 국제 평화와 안전 유지에 관한 국제 연합의 실질적 의사 결정 기관인가?	×	×	×	○	○	
국가뿐만 아니라 개인도 B의 재판 당사자가 될 수 있는가?	○	×	×	○	○	
B는 A와 C에서 선출되는 15명의 재판관으로 구성되는가?	○	○	×	×	○	

(○: 예, ×: 아니요)

- ① 갑                      ② 을                      ③ 병                      ④ 정                      ⑤ 무

19. 밑줄 친 ㉠~㉣에 대한 설명으로 옳은 것은?

갑과 을은 ㉠ 혼인 신고 후 A를 낳았다. 1년 후 갑과 을은 ㉡ 재판상 이혼을 하였고 ㉢ A는 을이 양육하기로 하였다. 이혼 후 갑은 병과 ㉣ 혼인 신고를 한 상태에서 B를 친양자로 입양하였다. 2년 후 갑은 ㉤ 유언 없이 사망하였다.

- ① ㉠은 혼인의 실질적 요건에 해당한다.  
 ② ㉡을 위해 갑과 을은 이혼 숙려 기간을 거쳤다.  
 ③ ㉢으로 인해 갑과 A의 친자 관계가 종료된다.  
 ④ ㉣으로 인해 B는 갑과 병의 혼인 외 출생자가 된다.  
 ⑤ ㉤ 이후 병, A, B는 모두 갑의 재산을 상속받을 수 있다.

20. 다음 자료에 대한 분석 및 추론으로 옳은 것은? [3점]

갑국 의회는 지역구 의원 100명과 비례 대표 의원 100명으로 구성되며 유권자는 지역구 후보자와 정당에 각각 한 표씩 투표한다. 지역구 의원은 소선거구제로 선출되고, 비례 대표 의석 중 60석은 '60석×각 정당의 정당 득표율'로 산출된 수의 정수(整數)만큼 각 정당에 배분하고, 잔여 의석은 소수점 이하의 수가 큰 순서대로 각 정당에 1석씩 배분한다. 나머지 40석은 아래의 계산 방식에 의해 각 정당별로 배분한다.

각 정당의 비례 대표 의석수 = 40석 × (각 정당의 연동 배분 의석수 / 각 정당의 연동 배분 의석수의 합계)

\* 각 정당의 연동 배분 의석수 = (200석 × 각 정당의 정당 득표율 - 각 정당의 지역구 의원 당선자 수) / 2

<최근 갑국 의회 의원 선거 결과>

구분	A당	B당	C당	D당	합계
정당 득표율(%)	36	32	22	10	100
지역구 의석수(석)	42	29	19	10	100

\* 갑국에 무소속 의원은 없으며, 투표율은 100%임.

갑국은 의회 의원 선거 제도를 개편하려고 한다. 의회 의원 정수는 유지하고 지역구 의원은 현행대로 선출한다. 비례 대표 의석 100석은 아래의 계산 방식에 의해 각 정당별로 배분한다.

각 정당의 비례 대표 의석수 = 200석 × 각 정당의 정당 득표율 - 각 정당의 지역구 의원 당선자 수

개편안의 경우 최근 의회 의원 선거의 결과만을 근거로 판단한다.

- ① 갑국의 지역구 의원을 선출하는 선거구 수는 50개이다.  
 ② 비례 대표 의석률은 현행과 달리 개편안에서 B당이 가장 높다.  
 ③ D당의 의회 의석률은 현행보다 개편안에서 높다.  
 ④ C당과 달리 A당은 현행보다 개편안이 유리하다.  
 ⑤ 개편안에서 B당은 D당과 달리 과대 대표된다.

\* 확인 사항

○ 답안지의 해당란에 필요한 내용을 정확히 기입(표기)했는지 확인하십시오.