

제 4 교시

사회탐구 영역 (생활과 윤리)

성명

수험 번호

2

제 [] 선택

1. 갑, 을의 입장으로 가장 적절한 것은?

갑: 윤리학의 근본 과제는 보편적으로 적용 가능한 도덕 원리를 탐구하여 선악을 판단하는 기준을 마련함으로써 도덕적으로 가치 있는 삶의 방향을 제시하는 것이다.

을: 윤리학의 근본 과제는 도덕적 개념의 의미를 분석하고 도덕 명제의 논리적 타당성을 입증하여 윤리학이 학문으로서 성립 가능한지를 검토하는 것이다.

- ① 갑: 윤리학은 도덕적 언어의 의미 분석을 핵심 과제로 삼아야 한다.
- ② 갑: 윤리학은 도덕 현상을 객관적으로 기술하는 것을 핵심 과제로 삼아야 한다.
- ③ 을: 윤리학은 도덕적 추론의 타당성 검증을 핵심 과제로 삼아야 한다.
- ④ 을: 윤리학은 도덕 판단의 근거가 되는 보편적 규범 제시를 핵심 과제로 삼아야 한다.
- ⑤ 갑과 을: 윤리학은 도덕 원리의 정립보다 도덕 현상 간의 인과관계 설명을 핵심 과제로 삼아야 한다.

2. 다음을 주장한 사상가의 입장에서 볼 때, 질문에 옳게 대답한 것은? [3점]

- 자연 상태에서는 옳고 그름을 판별하는 공정한 법률과 재판관, 그리고 이를 적절히 집행할 권력이 결여되어 있어 생명, 자유, 자산을 보존하는 것에 어려움이 있다. 따라서 개인은 재산권 보호를 위해 사회 구성에 합의하게 되고, 이를 통해 국가의 권위가 발생한다.
- 개인이 사회 계약을 통해 국가의 구성원이 되겠다는 명시적 동의와 국가에 거주하거나 재산을 향유하는 등의 묵시적 동의를 했다면 그는 그 국가의 명령에 복종해야 한다. 그러나 국가가 개인의 기본권을 침해하는 명령을 했을 때, 개인은 그 명령에 복종할 의무가 없다.

	질문	대답
①	자연 상태는 어떠한 갈등도 발생하지 않는 평화적 상태인가?	예
②	국가는 하늘로부터 부여받은 통치권을 행사하는 재판관인가?	예
③	명시적 동의는 시민들이 국가의 명령에 복종해야 할 유일한 근거인가?	아니요
④	어떤 국가의 영토를 소유한 사람은 그 국가의 명령에 복종해야 할 의무가 있는가?	아니요
⑤	국가가 계약의 목적을 위반한다면 시민은 그 국가에 대한 저항권을 행사할 수 있는가?	아니요

3. 그림의 강연자가 지지할 입장으로 가장 적절한 것은?

시민 여러분은 있다가도 없어지는 재물과 명성, 유희에 대해서는 마음을 최대한 쓰지만, 진리의 보편성과 변하지 않는 정신의 훌륭함에 대해서는 생각하지 않습니다. 이런 점이 부끄럽지 않습니까? 우리는 덕 있는 사람이 되어야 합니다. 덕 있는 사람은 자신의 무지를 깨닫고 자신의 영혼을 최상의 상태로 가꾸는 자입니다. 저는 신이 이 나라에 달라붙게 한 등에*입니다. 그러므로 저는 언제 어디서나 여러분에게 달라붙어서 자신의 영혼을 돌볼 수 있도록 일깨우고 설득하기를 절대 그만두지 않을 것입니다.

*등에: 쇠파리



- ① 행복한 삶을 위해 명예를 최우선으로 추구해야 한다.
- ② 자신의 삶과 행위에 대해 성찰하는 태도를 가져야 한다.
- ③ 영혼의 훌륭함보다는 감각적인 쾌락을 추구해야 한다.
- ④ 진리는 시대와 상황에 따라 변하는 것임을 깨달아야 한다.
- ⑤ 물질적으로 풍요로운 삶을 위해 유덕한 사람이 되어야 한다.

4. (가), (나) 사상의 입장으로 가장 적절한 것은? [3점]

(가) 최상의 선은 물과 같다[上善若水]. 물은 만물을 이롭게 하면서도 다투지 않고, 사람들이 싫어하는 곳에 머물기 때문에 도(道)에 가깝다.

(나) 이것이 있으므로 저것이 있고, 이것이 일어나므로 저것이 일어난다. 즉 무명(無明)을 조건으로 근심과 슬픔, 번민의 괴로움이 발생하는 것이니, 이것을 연기(緣起)라 한다.

- ① (가): 이기적인 욕심을 극복하고 예(禮)를 회복해야 한다.
- ② (가): 인간의 관점에 따라 선과 악을 명확히 분별해야 한다.
- ③ (나): 만물의 상호 의존성을 깨달아 자비를 실천해야 한다.
- ④ (나): 수양을 통해 고정불변의 실체가 있음을 깨달아야 한다.
- ⑤ (가)와 (나): 군자가 되기 위해 인의(仁義)의 덕을 실현해야 한다.

5. 다음을 주장한 사상가의 입장에서 <사례> 속 A에게 제시할 조건으로 가장 적절한 것은?

의무에 일치하는 행위이지만 의무로부터 나온 것이 아닌 행위는 도덕적 가치를 지니지 못한다. 오로지 의무 의식에서 나온 행위만이 도덕적 가치를 지닐 수 있다.

<사 례>

A는 아침 등교 중 길가에 쓰러져 고통스러워하는 사람을 발견하였다. 피해 상황을 신고하고 구조를 도우면 지각할 것이 분명하기 때문에 A는 어떻게 행동해야 할지를 고민하고 있다.

- ① 선한 의지에 근거하여 자율적으로 행동하세요.
- ② 자신이 속한 공동체의 전통에 따라 행동하세요.
- ③ 행위의 동기가 아닌 결과를 고려하여 행동하세요.
- ④ 자신에게 미치는 이익과 손해를 계산하여 행동하세요.
- ⑤ 타인의 고통에 공감하는 자연적 경향성에 따라 행동하세요.

6. 다음 가상 편지에서 강조하는 내용으로 적절하지 않은 것은?

○○에게
 내가 최근 형과의 관계가 좋지 않다는 소식을 들었다. 형제는 한 몸과 같은 존재이므로 사람의 손과 발처럼 서로 아끼고 도와주어야 한다. 가령 형이 굶주리는데 아우는 배부르고, 아우가 추운데 형은 따뜻하다면 이는 한 몸 가운데에 어떤 곳은 병들고 다른 곳은 건강한 것과 같으니 어찌 한 쪽만 편안할 수 있겠느냐? 요즘 형제간에 사랑하지 않는 것은 부모를 사랑하지 않기 때문이다. 부모를 사랑하면 어찌 그 부모의 자식을 사랑하지 않을 수 있겠느냐? 형제간에 악한 행실은 정성으로 충고하고, 부드러운 말로 화합하도록 노력해야 한다. 또한 옛 선조들은 형을 아버지 같이 공경하고 아우를 어린애같이 보호하였으니 형제의 도리는 마땅히 이와 같아야 한다.

- ① 형제는 우애와 효를 함께 실천해야 한다.
- ② 형제는 서로에게 선행을 권장해야 하는 관계이다.
- ③ 형제는 친밀히 지내며 언행을 바르게 해야 한다.
- ④ 형제는 수족지의(手足之義)의 도리를 실천해야 한다.
- ⑤ 형제는 장유(長幼)의 구분이 없는 대등한 관계이다.

7. (가)의 갑, 을 사상가들의 입장을 (나) 그림으로 탐구하고자 할 때, A~C에 들어갈 적절한 질문만을 <보기>에서 고른 것은? [3점]

(가) 갑: 영혼이 육체와 더불어 있는 동안 우리는 진리를 추구하는 데 어려움을 겪는다. 우리는 오직 육체를 벗어날 때, 영혼만을 사용하여 사물 그 자체를 파악할 수 있다.
 을: 좋고 나쁨은 우리의 감각에 달려 있고, 죽음은 모든 감각의 상실을 의미한다. 따라서 우리는 죽음이 우리에게 아무것도 아니라는 것에 익숙해져야 한다.

(나)

<보 기>

- ㄱ. A: 죽음을 두려움의 대상으로 보아야 하는가?
 - ㄴ. B: 죽음에 이르면 인간의 육체와 영혼은 모두 소멸하는가?
 - ㄷ. B: 인간은 죽음을 통해 이데아의 세계에 들어갈 수 있는가?
 - ㄹ. C: 인간은 죽음 이후에 어떠한 것도 인식할 수 없는가?
- ① ㄱ, ㄴ ② ㄱ, ㄷ ③ ㄴ, ㄷ ④ ㄴ, ㄹ ⑤ ㄷ, ㄹ

8. 갑의 입장을 지지하는 내용의 댓글을 ㉠~㉥ 중에서 고른 것은?

주소 (D) 이동 연결

의료 정보 게시판 > 뇌사 검색

갑: 뇌는 인간의 생명 활동을 관장하는 핵심 기관입니다. 그렇기 때문에 뇌 기능이 정지된 뇌사자는 죽은 사람으로 간주되어야 합니다. 또한 뇌사자의 장기를 다른 환자에게 이식할 수 있고, 의료 자원을 효율적으로 이용할 수 있으므로 뇌사를 죽음의 판정 기준으로 인정해야 합니다.

댓글

- ▶ ㉠ 심장과 폐의 기능이 영구히 상실된 경우에만 죽음으로 인정해야 해
- ▶ ㉡ 뇌사자도 연명 의료 기기로 심장 박동이 유지되니 살아있다고 봐야 해
- ▶ ㉢ 뇌사는 판정의 오류 가능성이 있으므로 죽음의 판정 기준이 될 수 없어
- ▶ ㉣ 뇌사를 죽음의 판정 기준으로 인정하면 인공호흡기를 필요로 하는 다른 환자에게 제공할 수 있어
- ▶ ㉤ 장기 이식을 위해 뇌사를 죽음의 판정 기준으로 인정해야 한다는 것은 생명 존엄성을 경시하는 태도야

- ① ㉠ ② ㉡ ③ ㉢ ④ ㉣ ⑤ ㉤

9. ㉠에 들어갈 진술로 가장 적절한 것은? [3점]

나는 형벌은 다른 선을 촉진하기 위한 수단이 아니라, 오직 범죄자가 범죄를 저질렀다는 이유만으로 부과되어야 한다고 생각한다. 왜냐하면 인간은 단지 타인의 의도를 위한 수단으로만 취급되어서는 안 되기 때문이다. 그런데 어떤 사상가는 형벌 그 자체는 악이지만 공리의 원리에 의해 더욱 큰 악을 없애는 경우에만 인정될 수 있다고 주장한다. 나는 이 사상가가 ㉠고 생각한다.

- ① 형벌의 본질은 범죄를 예방하는 데 있음을 간과한다
- ② 형벌의 집행은 응보의 원리에 따라야 함을 간과한다
- ③ 형벌의 목적은 범죄자를 교화하는 데 있음을 간과한다
- ④ 형벌의 크기는 범죄의 해악에 비례해야 함을 간과한다
- ⑤ 형벌의 방법은 사회적 유용성을 고려하여 정해야 함을 간과한다

10. 다음 사상가의 입장에만 모두 '√'를 표시한 학생은? [3점]

모든 공동체는 어떤 선(善)을 목적으로 하여 성립되며, 국가는 이러한 목적에 따라 자연스럽게 형성된 공동체들의 종착역이다. 또한 국가는 모든 공동체 가운데 가장 상위의 것이며 나머지 공동체들을 포괄하는 정치적 공동체이다. 따라서 국가는 다른 공동체보다 더 나은 선을 목표로 한다.

입장	학생				
	갑	을	병	정	무
국가는 가장 완전한 도덕 공동체이다.	√			√	√
국가는 인간의 공동체 중 최초로 형성된 것이다.		√	√	√	
국가는 인간의 정치적 본성에 의해 발생한 것이다.	√	√			√
국가는 최상위의 선을 목적으로 하는 공동체이다.			√	√	√

- ① 갑 ② 을 ③ 병 ④ 정 ⑤ 무

11. (가)의 갑, 을 사상가들의 입장을 (나) 그림으로 표현할 때, A~C에 해당하는 적절한 진술만을 <보기>에서 고른 것은? [3점]

(가)

갑: 정의의 원리는 원초적 입장에서 도출된다. 원초적 입장에서 우리는 자신에게 유리하게 작용할 수 있는 사회적·자연적 우연성의 영향력을 최소화함으로써 공정한 합의의 절차를 설정할 수 있다.

을: 분배가 정의로운가는 분배가 어떻게 이루어졌는가에 달려 있다. 개인에게 취득과 이전에서의 정의의 원리 또는 불의에 대한 교정의 원리에 따라 소유권이 부여되었다면 그 소유는 정당하다.

(나)

<범례>
A: 갑만의 입장
B: 갑, 을의 공통 입장
C: 을만의 입장

<보기>

ㄱ. A: 분배 방식은 사회적·자연적 우연성에 따라 정해져야 한다.
 ㄴ. B: 분배 절차의 공정성으로 분배 결과의 공정성이 보장된다.
 ㄷ. B: 분배 과정에 대한 국가 개입이 정당화되는 경우가 있다.
 ㄹ. C: 소유물에 대한 권리는 취득과 이전에서의 정의의 원리에 의해서만 부여된다.

- ① ㄱ, ㄴ ② ㄱ, ㄷ ③ ㄴ, ㄷ ④ ㄴ, ㄹ ⑤ ㄷ, ㄹ

12. 갑, 을의 입장으로 적절한 것만을 <보기>에서 고른 것은?

성적 관계는 상대방의 자발적인 동의를 존중하고 타인에게 해악을 주지 않는다면 정당화될 수 있습니다.

성적 관계는 혼인 여부와 상관없이 상대방에 대한 사랑이 동반된다면 정당화될 수 있습니다.

갑

을

<보기>

ㄱ. 갑: 성적 관계에는 어떠한 도덕적 제약도 없어야 한다.
 ㄴ. 을: 성적 관계가 정당화될 수 있는 주체는 부부뿐이다.
 ㄷ. 을: 성적 관계에서 서로의 인격적 가치를 존중해야 한다.
 ㄹ. 갑과 을: 성인 간의 합의는 성적 관계의 정당화를 위해 필요하다.

- ① ㄱ, ㄴ ② ㄱ, ㄷ ③ ㄴ, ㄷ ④ ㄴ, ㄹ ⑤ ㄷ, ㄹ

13. 밑줄 친 '정당화 조건'의 내용으로 적절하지 않은 것은? [3점]

롤스는 시민 불복종을 부정의한 법을 개정하거나 정책을 변혁하려는 목적으로 행하는 의도적인 위법 행위라고 정의하였습니다. 또한 시민 불복종의 정당화 조건은 공유된 화면의 내용과 같습니다.

○○고등학교 온라인 수업

[롤스] 시민 불복종의 정당화 조건

- 근거: 사회적 다수의 공유된 정의관
- 대상: 정의의 제1원칙 또는 제2원칙 중 공정한 기회균등의 원칙을 심각하게 위반한 법이나 정책
- 방법: 법에 대한 충실성의 한계 내에서 시행

- ① 공개적으로 시행되어야 한다.
 ② 비폭력적인 방법을 사용해야 한다.
 ③ 위법 행위에 대한 처벌을 감수해야 한다.
 ④ 개인적 도덕 원칙과 종교적 신념에 근거해야 한다.
 ⑤ 일부의 정의롭지 못한 법이나 정책에 국한되어야 한다.

14. 갑, 을의 입장으로 가장 적절한 것은?

갑: 인간의 생명은 누구나 배아일 때부터 시작되며, 수정에서 출생까지의 과정 중 인간으로 볼 수 있는 정확한 시점을 규정할 수는 없다. 즉 인간 배아는 생성된 순간부터 완전한 인간의 지위를 가진다. 따라서 인간 배아를 활용한 연구는 전면 금지되어야 한다.

을: 오래된 나무가 존중받는 이유는 그것이 인격체는 아니지만, 아름다운 자연물이기 때문이다. 하지만 나무를 존중하는 것이 그 나무를 베어서는 안 된다는 것을 의미하지는 않는다. 마찬가지로 인간 배아도 인격체는 아니지만, 그 가치를 인정하면서 치료를 목적으로 사용될 수 있다.

- ① 갑: 인간 배아를 단순한 세포 덩어리로 보는 것은 잘못이다.
 ② 갑: 인간 배아의 도덕적 지위는 발달 단계에 따라 달라진다.
 ③ 을: 인간 배아는 생명이기 때문에 불가침의 권리를 갖는다.
 ④ 을: 인간 배아는 인격체가 아니므로 존중의 대상이 될 수 없다.
 ⑤ 갑과 을: 유전적 결함을 치료하기 위한 인간 배아 실험은 정당하다.

15. 갑, 을 사상가들의 입장으로 적절한 것만을 <보기>에서 고른 것은? [3점]

갑: 신이 우리의 삶에 부르심으로 삶의 계층과 양식을 구분해 놓음으로써 각 사람이 해야 할 일의 순서를 정해 두셨다. 이와 같은 삶의 양식을 소명(召命)이라 한다.

을: 모든 사람에게는 주어진 역할이 있다. 임금은 임금의 역할을, 신하는 신하의 역할을, 부모는 부모의 역할을, 자식은 자식의 역할을 충실히 수행하는 것을 정명(正名)이라 한다.

<보기>

ㄱ. 갑: 계층에 따른 직업의 귀천이 존재한다.
 ㄴ. 갑: 직업적 성공으로 인한 부의 축적은 정당하다.
 ㄷ. 을: 개인은 사회의 모든 역할에 능숙해야 한다.
 ㄹ. 갑과 을: 사회적 직분에 따른 도덕적 책임이 존재한다.

- ① ㄱ, ㄴ ② ㄱ, ㄷ ③ ㄴ, ㄷ ④ ㄴ, ㄹ ⑤ ㄷ, ㄹ

16. 갑 사상가의 입장에 비해 을 사상가의 입장이 갖는 상대적 특징을 그림의 ㉠~㉣ 중에서 고른 것은? [3점]

갑: 인간과 달리 동물은 쾌락과 고통을 경험할 수 없는 움직이는 기계에 불과하다. 따라서 동물은 도덕적으로 고려받을 권리를 가진다고 볼 수 없다.

을: 인간과 동물은 모두 감정을 지닌 존재로서 이익 관심을 가진다. 따라서 이들의 이익은 동등하게 고려되어야 하며, 동물은 도덕적 배려의 대상에서 배제하는 것은 옳지 않다.

- ① ㉠ ② ㉡ ③ ㉢ ④ ㉣ ⑤ ㉤

17. 다음을 주장한 사상가의 입장만을 <보기>에서 고른 것은? [3점]

한 집단에 속하는 개인 간의 갈등을 합리적인 조정과 설득으로 해결하는 일은 어렵지만 불가능하지는 않다. 그러나 집단 간의 갈등은 이러한 방법만으로는 해결할 수 없다. 왜냐하면 집단 간의 관계는 항상 윤리적이기보다는 지극히 정치적이며, 각 집단이 가진 힘의 비율에 따라 수립되기 때문이다.

— <보 기> —

ㄱ. 개인과 사회가 지향하는 최고의 도덕적 이상은 동일하다.
 ㄴ. 집단 간에 힘의 불균등한 분배가 사회 혼란의 원인이다.
 ㄷ. 집단 간의 갈등은 개인의 선의지 함양만으로 충분히 해결할 수 있다.
 ㄹ. 개인의 도덕성과 개인이 속한 집단의 도덕성이 반드시 비례하는 것은 아니다.

- ① ㄱ, ㄴ ② ㄱ, ㄷ ③ ㄴ, ㄷ ④ ㄴ, ㄹ ⑤ ㄷ, ㄹ

18. 다음을 주장한 사상가의 입장으로 가장 적절한 것은?

○ 사랑은 생산적인 활동으로, 상대방을 배려하고 알고자 하며, 몰입하고 즐거워하는 모든 것을 대표한다. 상대방을 구속하고 통제하는 것은 자신이 사랑하고 있지 않음을 감추려고 '사랑'이라는 단어를 이용하고 있을 뿐이다.

○ 사랑은 수동적 감정이 아니라 참여하는 것이다. 사랑이란 본래 조건 없이 주는 것이라고 말함으로써 그 능동적 성격을 표현할 수 있다. 그러나 준다는 것은 희생하는 것이 아니라 상대방의 성장에 관심을 가지고 책임지며 존경하는 행위이다.

- ① 사랑은 상대방을 자신에게 복종시키려는 억압적 행위이다.
 ② 사랑은 상대방을 위해 자신의 모든 것을 포기하는 행위이다.
 ③ 사랑은 상대방을 자신이 원하는 대로 변화시키려는 행위이다.
 ④ 사랑은 상대방으로부터 사랑받는 것을 전제로 주는 행위이다.
 ⑤ 사랑은 상대방에 대해 관심을 갖고 이해하려는 능동적 행위이다.

19. 그림은 서술형 평가 문제와 학생 답안이다. 학생 답안의 ㉠~㉣ 중 옳지 않은 것은?

서술형 평가

◎ 문제 : A와 관련된 윤리적 쟁점에 대해 서술하시오.

A: 질병을 치료하기 위해 생식 세포 안에 정상 유전자를 삽입하여 유전자의 기능을 바로잡거나 결함이 있는 유전자 자체를 바꾸는 치료법

◎ 학생 답안

A는 질병의 원인이 되는 유전자를 찾고, 그것을 치료하는 방식으로 이에 대해 찬성과 반대의 입장이 있다. 찬성하는 입장에서는 ㉠ A가 병의 유전을 막아 다음 세대의 병을 예방할 수 있다고 주장하고, ㉡ 새로운 치료법 개발을 통해 경제적 효용 가치를 산출할 수 있다고 강조한다. 하지만 반대하는 입장에서는 ㉢ A의 과학적 불확실성과 임상 실험의 위험성 때문에 예측할 수 없는 부작용이 나타날 수 있다고 보고, ㉣ 유전 질환을 물려주지 않으려는 부모의 선택권을 보장해야 함을 주장한다. 또한 ㉤ A의 높은 비용으로 인해 부유한 사람들만이 혜택을 누리게 되어 분배 정의에 어긋날 수 있음을 강조하기도 한다.

- ① ㉠ ② ㉡ ③ ㉢ ④ ㉣ ⑤ ㉤

20. 다음 신문 칼럼의 입장으로 적절하지 않은 것은?

○○신문 ○○○○년 ○○월 ○○일

칼럼

기업은 재화와 용역을 생산하고 판매하여 이윤을 추구하는 조직체로서 직업윤리를 준수하며 사회적 책임을 다해야 한다. 기업이 사회적 책임을 다해야 하는 것에 대해서는 대부분이 동의하지만, 기업이 어느 정도까지 사회적 책임을 져야 하는가에 대해서는 다양한 의견이 있다. 어떤 사람들은 속임수나 기만행위 없이 공개적이고 자유로운 경쟁에 전념하는 것만이 기업의 유일한 사회적 책임이라고 주장한다. 하지만 기업은 사회의 핵심 기관이므로 사회적 가치 실현에 적극적으로 참여해야 한다. 즉 기업은 환경 보호, 사회 복지 공헌과 같은 사회적 책임까지 다해야 한다는 것이다. 이는 기업에 대한 소비자의 신뢰를 높이고 긍정적인 기업 이미지를 갖게 하여 기업의 주된 목적인 이윤 추구에도 도움을 준다. ... (후략).

- ① 기업은 합법적인 방법으로 이윤을 추구해야 한다.
 ② 기업의 본질적인 목적은 인류애를 구현하는 데 있다.
 ③ 기업은 사회적 지원과 공공선의 실현에 힘써야 한다.
 ④ 기업은 투명하고 공정한 윤리 경영을 위해 노력해야 한다.
 ⑤ 기업의 공익 활동은 기업의 장기적인 이익을 위해 필요하다.

* 확인 사항

○ 답안지의 해당란에 필요한 내용을 정확히 기입(표기)했는지 확인하시오.

제 4 교시

사회탐구 영역 (윤리와사상)

성명		수험 번호				2				제 [] 선택
----	--	-------	--	--	--	---	--	--	--	----------

윤리와사상

1. 다음 편지를 쓴 사람이 강조하는 인간의 특성으로 가장 적절한 것은?

학생들에게

인간다운 삶을 살아가기 위해서는 어떻게 해야 할까요? 동물과 달리 인간은 어떤 삶이 가치 있는지를 고민하여 어떻게 해야 하는가를 스스로 묻고 선택할 수 있습니다. 또한 인간만이 자신의 삶을 반성할 수 있으며 더 나은 방향으로 변화시킬 수 있습니다. 어떤 유교 사상은 지난 허물을 반성하고 새로 터득한 것을 실마리 삼아 가치 있는 삶을 추구하는 것이 중요하다고 하였습니다. 그러니 여러분도 이런 삶의 자세를 실천하는 사람이 되기를 바랍니다.

- ① 주체적인 판단보다 신의 명령을 따르는 존재이다.
- ② 주어진 운명에 따라 수동적으로 살아가는 존재이다.
- ③ 성찰을 통해 가치 있는 삶을 살코자 노력하는 존재이다.
- ④ 타인에게 인정받기 위해 물질적 성공을 추구하는 존재이다.
- ⑤ 윤리적인 삶보다 감각적인 욕구 충족을 우선시하는 존재이다.

2. 그림에서 교사의 질문에 옳은 답변을 한 학생만을 있는 대로 고른 것은?

A와 B의 특징과 관계에 대해 설명해 볼까요?

- A: 어떤 사람이 좋은 사람이고 어떤 행위가 옳은 행위인지에 대해 탐구하는 사상
예) 유교, 불교, 도가 등
- B: 어떤 공동체가 좋은 공동체이고 어떻게 해야 바람직한 공동체를 이룰 수 있는지에 대해 탐구하는 사상
예) 민주주의, 자유주의 등

갑

A는 개인의 행복 추구하고 인간다움의 실현을 위해 바람직한 가치관을 세우는데 도움을 줍니다.

을

B는 현실에서 발생하는 사회 문제를 해결할 수 있는 지침들을 제시해 줍니다.

병

A와 B는 상호 의존적인 관계이기 때문에 각각 독립적인 영역을 가지지 않습니다.

- ① 갑 ② 을 ③ 병 ④ 갑, 을 ⑤ 을, 병

3. 다음을 주장한 고대 동양 사상가의 입장으로 옳지 않은 것은? [3점]

- 오직 인(仁)한 사람만이 다른 사람을 좋아할 수도 있고 싫어할 수도 있다.
- 예(禮)가 아니면 보지 말고, 예가 아니면 듣지 말고, 예가 아니면 말하지 말고, 예가 아니면 행동에 옮기지 말아야 한다.

- ① 선악을 분별하지 않는 무차별적인 사랑을 실천해야 한다.
- ② 자신의 마음을 미루어 남의 마음을 헤아릴 수 있어야 한다.
- ③ 인을 실현하기 위해 자신의 사사로운 욕구를 극복해야 한다.
- ④ 사회 구성원은 각자의 사회적 지위와 역할에 충실해야 한다.
- ⑤ 통치자는 자신을 먼저 수양한 후에 백성을 편안하게 해야 한다.

4. (가), (나), (다) 사상의 공통된 입장으로 적절한 것만을 <보기>에서 고른 것은?

- (가) 성(誠)에 이르면 만물의 성(性)을 온전히 발현하여 천지의 화육(化育)을 도울 수 있고 천지와 하나가 될 수 있다.
- (나) 인드라 그물의 구슬은 다른 것 모두와 서로의 빛을 비취 주고 받으며, 따로 떼려야 뗄 수 없는 하나를 이루고 있다.
- (다) 사람은 땅을 본받고, 땅은 하늘을 본받고, 하늘은 도를 본받고, 도는 스스로 그러함[自然]을 본받는다.

— <보 기> —

- ㄱ. 자연은 인간의 경제적 이익 증진을 위한 수단이다.
- ㄴ. 세계는 만물이 상호 의존적으로 살아가는 유기체이다.
- ㄷ. 인간은 자연보다 우월한 존재로서 자연의 정복자이다.
- ㄹ. 인간과 자연은 더불어 살아가야 하는 공존의 관계이다.

- ① ㄱ, ㄴ ② ㄱ, ㄷ ③ ㄴ, ㄷ ④ ㄴ, ㄹ ⑤ ㄷ, ㄹ

5. 다음을 주장한 고대 동양 사상가의 입장으로 옳은 것은? [3점]

- 연기(緣起)를 보는 자는 법(法)을 보는 자이고, 법을 보는 자는 연기를 보는 자이다.
- 어떤 것이 무명(無明)인가? 괴로움[苦]을 알지 못하고, 괴로움의 발생을 알지 못하고, 괴로움의 소멸을 알지 못하고, 괴로움의 소멸에 이르는 길을 알지 못하는 것이다.

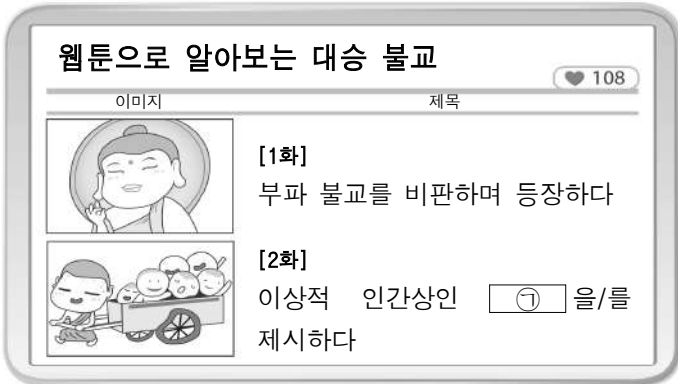
- ① 무명은 깨달음을 얻어 괴로움이 완전히 소멸된 상태이다.
- ② 팔정도(八正道)를 실천하면 삼독(三毒)을 형성할 수 있다.
- ③ 모든 존재와 현상은 원인[因]과 조건[緣]에 의해 생겨난다.
- ④ 세상의 모든 만물은 생멸(生滅)하지 않고 영원히 존재한다.
- ⑤ 열반에 이르기 위해 극단적인 고행(苦行)은 반드시 필요하다.

6. 근대 한국 사상가 갑, 을의 입장으로 옳은 것은? [3점]

갑: 서양의 물건은 모조리 찾아내어 태워 버려야 한다. 그리고 지극히 올바른 우리의 도(道)를 밝혀 백성을 교화시키고 인애(仁愛)의 정신을 넓혀 나가야 한다.
 을: 우리의 도를 행함은 정덕(正德)을 위한 것이고, 서양의 과학기술[器]을 배움은 이용후생(利用厚生)을 위한 것이기에 병행하여도 도리에 어긋나는 것은 아니다.

- ① 갑: 우리의 정신과 서양의 문물을 동등하게 존중해야 한다.
- ② 갑: 신분 제도의 폐지를 통해 만민 평등 사회를 실현해야 한다.
- ③ 을: 서양의 정치사상과 종교를 적극적으로 수용해야 한다.
- ④ 을: 국익 증진을 위해 서양의 모든 기술을 배척해야 한다.
- ⑤ 갑과 을: 국난 극복을 위해 유교적 가치를 지켜야 한다.

7. 그림의 ㉠에 대한 설명으로 가장 적절한 것은?



- ① 위로는 진리를 구하고 아래로는 중생을 구제하는 사람이다.
- ② 수련을 통해 불로장생(不老長生)하고자 노력하는 사람이다.
- ③ 만물의 평등함을 깨닫고 제물(齊物)의 경지에 이른 사람이다.
- ④ 대중과 사회로부터 분리된 엄격한 종교성을 추구하는 사람이다.
- ⑤ 선한 본성을 회복하고자 거경궁리(居敬窮理)에 힘쓰는 사람이다.

8. 다음을 주장한 고대 동양 사상가의 입장으로 옳은 것은? [3점]

○ 지인(至人)은 자기의 몸에 얽매이지 않고, 신인(神人)은 공적에 얽매이지 않고, 성인(聖人)은 명예에 얽매이지 않는다.
 ○ 사람들은 모장과 여회를 아름답다고 하지만, 물고기는 보자마자 물속에 숨고, 새는 멀리 날아가고, 사슴은 재빠르게 도망간다. 이 중에서 어느 쪽이 아름다움을 바르게 안다고 하겠는가?

- ① 예(禮)의 실천을 통해 물아일체의 경지에 도달해야 한다.
- ② 무위(無爲)를 실현하기 위해 규범과 법령을 제정해야 한다.
- ③ 마음을 깨끗이 비움[心齋]으로써 타고난 본성을 교정해야 한다.
- ④ 도(道)의 관점에서 아름다움과 추함을 엄격하게 구별해야 한다.
- ⑤ 외적인 제약에 얽매이지 않는 정신적 자유[逍遙]를 추구해야 한다.

9. 다음을 주장한 한국 불교 사상가의 입장에만 모두 '✓'를 표시한 학생은? [3점]

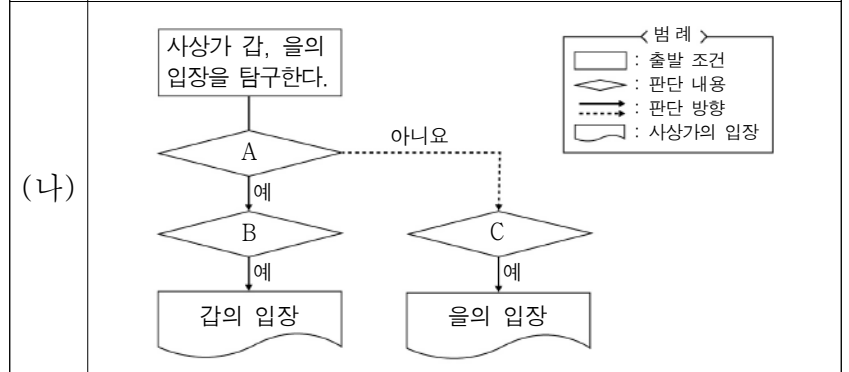
일심(一心)이란 무엇인가? 더러움과 깨끗함은 그 본래 성품이 둘이 아니고, 참과 거짓 또한 서로 다름이 없으므로 하나[一]라고 한다. 이 둘이 아닌 곳에서 모든 법(法)은 가장 진실되어 허공과 같지 않으며, 그 성품은 스스로 알아차리므로 마음[心]이라 이름한다.

학생	입장				
	갑	을	병	정	무
종파 간의 차이를 부정하고 경전 해석을 획일화해야 한다.	✓	✓		✓	
화쟁(和諍)을 통해 여러 불교 이론의 다양성을 조화시켜야 한다.			✓	✓	✓
제도와 형식에 얽매이지 않는 무애행(無碍行)을 실천해야 한다.	✓			✓	✓
부처의 마음과 중생의 마음이 서로 다르지 않음을 깨달아야 한다.		✓	✓		✓

- ① 갑 ② 을 ③ 병 ④ 정 ⑤ 무

10. (가)의 중국 유교 사상가 갑, 을의 입장을 (나) 그림으로 탐구하고자 할 때, A ~ C에 들어갈 옳은 질문만을 <보기>에서 고른 것은? [3점]

(가) 갑: 성(性)은 곧 이(理)이다. 하늘이 음양오행(陰陽五行)으로 만물을 만들 때 기(氣)로 형체를 이루고 동시에 이도 만물에 부여한다. 사물에 있어서는 이라고 부르고 마음에 있어서는 성이라 부른다.
 을: 마음[心]이 곧 이(理)이다. 천하에 마음 밖의 일이 있고, 마음 밖의 이치가 있겠는가? 부모에게서 효도의 이치를 구할 수 없고, 임금에게서 충성의 이치를 구할 수 없다. 모두 마음에 있을 뿐이다.



<보 기>
 ㄱ. A: 이치는 마음 안에도 있고 마음 밖에도 있는가?
 ㄴ. A: 도덕적 삶과 실천을 일치시키기 위한 수행을 해야 하는가?
 ㄷ. B: 천리(天理)를 보존하고 사사로운 욕심을 제거해야 하는가?
 ㄹ. C: 사물의 이치를 탐구해야 양지(良知)를 획득할 수 있는가?

- ① ㄱ, ㄴ ② ㄱ, ㄷ ③ ㄴ, ㄷ ④ ㄴ, ㄹ ⑤ ㄷ, ㄹ

11. 고대 동양 사상이 갑, 을의 입장으로 옳은 것은? [3점]

갑: 덕(德)으로 인(仁)을 행하는 것이 왕도(王道)이다. 힘을 사용하면서 인을 행하는 것처럼 가장하는 것이 패도(霸道)이다. 힘으로 사람을 복종시키려고 하면 마음으로부터 우러나오는 복종을 얻을 수 없다.

을: 사람의 수명은 하늘에 달려 있고, 그 나라의 운명은 예(禮)에 달려 있다. 군주가 예를 높이고 현자를 존중하면 왕자(王者)가 되고, 법을 중시하고 백성을 사랑하면 패자(霸者)가 된다.

- ① 갑: 인의(仁義)를 해치는 군주는 혁명을 통해 교체될 수 있다.
- ② 갑: 모든 백성은 항산(恒産)이 없어도 항심(恒心)을 가질 수 있다.
- ③ 을: 군주는 예가 아닌 강력한 형벌에 의한 통치를 시행해야 한다.
- ④ 을: 덕의 유무보다 타고난 신분에 따라 사회적 재화를 분배해야 한다.
- ⑤ 갑과 을: 부국강병(富國強兵)을 통치의 궁극적인 목적으로 삼아야 한다.

12. 다음을 주장한 고대 동양 사상의 입장만을 <보기>에서 고른 것은?

사람들의 지식과 기교가 많아지면 기이한 물건들이 많아진다. 법령이 많아지면 도둑이 많아진다. 성인(聖人)이 무위(無爲)하니 백성들이 스스로 순화되고, 성인이 고요함을 좋아하니 백성들이 스스로 바르게 되고, 성인이 일을 만들지 않으니 백성들이 스스로 부유해지고, 성인이 무욕(無欲)하니 백성들이 스스로 소박해진다.

<보 기>

- ㄱ. 문명과 제도가 고도로 발전된 사회를 만들어야 한다.
- ㄴ. 무위로 다스리는 소국과민(小國寡民)을 지향해야 한다.
- ㄷ. 자신을 낮추는 겸허의 덕을 지니고 소박한 삶을 살아야 한다.
- ㄹ. 백성들은 인격 완성을 위해 분별적인 지식을 축적해야 한다.

- ① ㄱ, ㄴ ② ㄱ, ㄷ ③ ㄴ, ㄷ ④ ㄴ, ㄹ ⑤ ㄷ, ㄹ

13. 동양 불교 사상이 갑, 을의 입장으로 옳은 것은?

갑: 업(業)은 자성(自性)이 없기 때문에 생겨나지도 없어지지 않는다. 업에 자성이 있다고 하면 변하지 않는 것에 집착하는 것이고, 없다고 하면 단멸하는 것에 집착하는 것이다. 그러므로 모든 것은 공(空)하다.

을: 대승(大乘)에서는 윤회의 세계가 단지 의식[唯識]을 통해 만들어진 것일 뿐이라고 한다. 여기서 '단지'라는 말은 대상을 부정하는 것이지 그 대상을 경험하는 의식을 부정하는 것은 아니다.

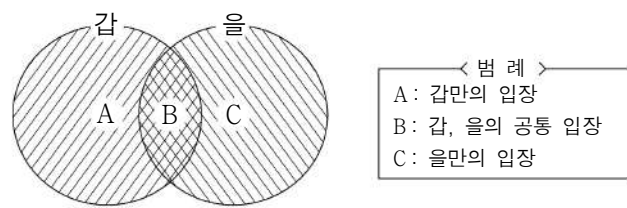
- ① 갑: 자성이 없는 업은 항상 고정된 실체로 존재한다.
- ② 갑: 중도(中道)에 따라 현상을 있는 그대로 관찰해야 한다.
- ③ 을: 외부 대상[境]은 의식과 무관하게 독립적으로 존재한다.
- ④ 을: 해탈은 실재하는 자아를 불변한 것으로 인식한 상태이다.
- ⑤ 갑과 을: 자비의 실천보다 수행자의 깨달음만을 중시해야 한다.

[14 ~ 15] 갑, 을은 한국 유교 사상가들이다. 물음에 답하시오.

갑: 사단(四端)과 칠정(七情)은 모두 하나의 정(情)으로서, 칠정 중의 선한 부분만을 가리켜 사단이라고 한다. 정은 성(性)이 발하여 된 것으로 오직 기발이승(氣發理乘)뿐이라고 할 수 있다.

을: 사단은 순수한 이(理)의 발이기 때문에 선하지 않음이 없으며, 칠정은 기(氣)의 발이기 때문에 선이나 악으로 흐를 수 있다. 이가 드러나 기가 순응하면 선하게 되고, 기가 가려서 이가 드러나지 않으면 악하게 된다.

14. 갑, 을의 입장을 그림과 같이 탐구하고자 할 때, A ~ C에 들어갈 옳은 진술만을 <보기>에서 고른 것은? [3점]



<보 기>

- ㄱ. A: 사단과 칠정은 본성이 발현된 감정이다.
- ㄴ. B: 칠정은 선과 악의 가능성을 모두 지닌다.
- ㄷ. B: 사단은 이가 발한 것이고 칠정은 기가 발한 것이다.
- ㄹ. C: 사단과 칠정이 발현하는 연원은 근본적으로 다르다.

- ① ㄱ, ㄴ ② ㄱ, ㄷ ③ ㄴ, ㄷ ④ ㄴ, ㄹ ⑤ ㄷ, ㄹ

15. 다음을 주장한 한국 사상가가 을에게 제기할 수 있는 비판으로 가장 적절한 것은?

사람의 본성은 선을 즐거워하고 악을 부끄러워할 뿐이다. 선을 즐거워하기 때문에 측은지심(惻隱之心), 사양지심(辭讓之心)이 있게 되고, 악을 부끄러워하기 때문에 수오지심(羞惡之心), 시비지심(是非之心)이 있게 된다. 네 가지의 마음이 있기 때문에 인의예지(仁義禮智)의 덕을 이룰 수 있다.

- ① 사단은 인간과 동물 모두에게 부여된 천리임을 모르고 있다.
- ② 사단과 달리 사덕은 하늘로부터 부여받은 것임을 모르고 있다.
- ③ 사단은 사덕이 내재함을 알게 해주는 실마리임을 모르고 있다.
- ④ 사덕은 사단의 지속적 실천을 통해 형성되는 것임을 모르고 있다.
- ⑤ 사덕을 실현하려면 인간의 모든 욕구를 제거해야 함을 모르고 있다.

16. 다음을 주장한 고대 동양 사상가의 입장만을 <보기>에서 고른 것은?

- 사람은 누구나 타고난 바탕대로만 따르면 선을 행할 수 있으니, 이것이 곧 본성이 선하다는 의미이다. 사람이 선하지 않게 되는 것은 타고난 재질[才]의 잘못이 아니다.
- 인(仁)에 머물고 의(義)를 따르면 대인(大人)으로서 할 일이 갖추어지게 된다.

- <보 기> —
- ㄱ. 인간은 누구나 불인인지심(不忍人之心)을 가지고 있다.
 - ㄴ. 스승의 가르침과 법도로써性情(性情)을 변화시켜야 한다.
 - ㄷ. 옳은 일을 꾸준히 행하여浩然지기(浩然之氣)를 길러야 한다.
 - ㄹ. 대인은 소인과 달리 선천적 도덕 실천 능력[良能]을 지니고 있다.

- ① ㄱ, ㄴ ② ㄱ, ㄷ ③ ㄴ, ㄷ ④ ㄴ, ㄹ ⑤ ㄷ, ㄹ

17. 다음은 어떤 학생의 필기 내용 중 일부이다. ㉠~㉤ 중 옳지 않은 것은?

- <중국 도교의 전개와 특징>
1. 전한 시대 : 황로학파(黃老學派)
 - 전설상의 제왕인 황제(黃帝)와 노자를 숭상함 ㉠
 - 무위(無爲)로써 다스린다는 제왕의 통치술을 주장함 ㉡
 2. 후한 시대 : 오두미교(五斗米敎)
 - 교단에 가입하려는 사람들에게 쌀 다섯 말을 받음
 - 교리를 따르면 병이 낫고 신선이 될 수 있음을 주장함 ㉢
 3. 위·진 시대 : 현학(玄學)
 - 형이상학적이고 예술적인 논의인 청담(淸談)을 제시함 ㉣
 - 정치적 혼란을 해결할 수 있는 세속적 가치를 추구함 ㉤

- ① ㉠ ② ㉡ ③ ㉢ ④ ㉣ ⑤ ㉤

18. 근대 한국 사상가 갑, 을의 입장으로 옳은 것은? [3점]

갑: 마음을 떠나 한울을 생각할 수 없고 사람을 떠나 한울을 생각할 수 없나니, 사람을 공경하지 않고 한울을 공경하는 것은 꽃을 따버리고 과실(果實)이 생기기를 바라는 것과 같다.

을: 일원상(一圓相)을 모시는 것은 불가에서 불상을 모시는 것과 같으나 불상은 부처의 형체요, 일원상은 부처의 심체(心體)이다. 형체는 인형에 불과하고 심체는 천지 만물의 본원이다.

- ① 갑: 우리의 고유 사상과 서학(西學)을 조화시켜야 한다.
- ② 갑: 신분에 따른 차별 없이 모든 사람을 존중해야 한다.
- ③ 을: 개인의 종교적 수행과 사회생활은 조화될 수 없다.
- ④ 을: 물질문명의 발전이 정신문명의 발전보다 중요하다.
- ⑤ 갑과 을: 내세(來世)에서만 이상 세계를 이룰 수 있다.

19. 다음을 주장한 고대 동양 사상가의 입장에서 긍정의 대답을 할 질문만을 <보기>에서 고른 것은?

목수가 나무를 깎아서 그릇을 만든다면 그릇은 목수의 인위적인 행위로 만들어진 것이지 목수의 본성에 처음부터 있었던 것은 아니다. 무릇 예의와 법도도 성인(聖人)이 생각을 쌓아서 예로부터 내려온 인위적인 것을 습득하여 만든 것이지 사람의 본성에 처음부터 있었던 것은 아니다.

- <보 기> —
- ㄱ. 인간은 누구나 수양을 통해 성인이 될 수 있는가?
 - ㄴ. 인간은 하늘로부터 선천적인 덕성을 부여받았는가?
 - ㄷ. 인간이 선을 행하는 것은 인위적인 노력의 결과인가?
 - ㄹ. 인간은 본성을 확충하여 사회 혼란을 극복할 수 있는가?

- ① ㄱ, ㄴ ② ㄱ, ㄷ ③ ㄴ, ㄷ ④ ㄴ, ㄹ ⑤ ㄷ, ㄹ

20. 중국 불교 사상가 갑, 한국 불교 사상가 을의 입장으로 옳은 것은? [3점]

갑: 자신의 본성이 미혹되면 중생이고, 자신의 본성을 깨달으면 부처이다. 자신의 본성을 깨닫는다는 것은 단박에 깨치고 [頓悟] 단박에 닦는 것이니[頓修], 점진적 단계라는 것은 없다.

을: 도(道)에 들어가는 문은 많지만 요약하면 돈오(頓悟)와 점수(漸修) 두 문에 지나지 않는다. 과거의 모든 성인들도 먼저 깨닫고 뒤에 닦았고, 그 닦은 바에 따라 증득[證]하지 않음이 없었다.

- ① 갑: 진리[法]는 마음이 아니라 언어와 문자로 전해야 한다.
- ② 갑: 돈오 이후에 점수를 통해 모든 습기(習氣)를 제거해야 한다.
- ③ 을: 불성(佛性)을 형성하기 위해서는 먼저 돈오해야 한다.
- ④ 을: 점수의 구체적 방법인 정(定)과 혜(慧)를 함께 닦아야 한다.
- ⑤ 갑과 을: 참선보다 교리 공부에 의지하여 깨달음을 얻어야 한다.

* 확인 사항

- 답안지의 해당란에 필요한 내용을 정확히 기입(표기)했는지 확인 하시오.

제 4 교시

사회탐구 영역 (한국지리)

성명 수험 번호 2 제 [] 선택

1. 다음은 노트 필기의 일부이다. (가) ~ (다)에 들어갈 옳은 내용을 <보기>에서 고른 것은?

● 우리나라의 위치와 특성

1. 수리적 위치
· 북위 33° ~ 43°에 위치하여 (가)
· 동경 124° ~ 132°에 위치하여 (나)

2. 지리적 위치
· 유라시아 대륙 동안에 위치하여 (다)
· 삼면이 바다로 둘러싸인 반도국으로 대륙과 해양으로 진출하는 데 유리하다.

:

<보 기>

ㄱ. 기온의 연교차가 큰 대륙성 기후가 나타난다.
ㄴ. 사계절의 변화가 뚜렷하고 냉·온대 기후가 나타난다.
ㄷ. 본초자오선이 지나는 영국보다 빠른 시간대를 사용하고 있다.

- | | | | | | | | |
|---|-----|-----|-----|---|-----|-----|-----|
| | (가) | (나) | (다) | | (가) | (나) | (다) |
| ① | ㄱ | ㄴ | ㄷ | ② | ㄱ | ㄷ | ㄴ |
| ③ | ㄴ | ㄱ | ㄷ | ④ | ㄴ | ㄷ | ㄱ |
| ⑤ | ㄷ | ㄴ | ㄱ | | | | |

2. 다음은 한국지리 수업 장면이다. (가), (나)에 들어갈 기후 요인으로 가장 적절한 것은?

<8월 평균 기온> (단위: °C)

태백과 광주의 8월 평균 기온을 수원과 비교해서 발표해 볼까요?

* 1981 ~ 2010년의 평년값임 (기상청)

태백은 (가) 의 영향으로 수원보다 기온이 낮게 나타납니다.

광주는 (나) 의 영향으로 수원보다 기온이 높게 나타납니다.

- | | | | | | |
|---|-------|-------|---|-------|-----|
| | (가) | (나) | | (가) | (나) |
| ① | 위도 | 해발 고도 | ② | 수륙 분포 | 위도 |
| ③ | 수륙 분포 | 해발 고도 | ④ | 해발 고도 | 위도 |
| ⑤ | 해발 고도 | 수륙 분포 | | | |

3. 다음은 두 지역의 심벌마크에 대한 설명이다. ㉠, ㉡에 대해 옳게 설명한 내용에만 ○ 표시한 학생을 고른 것은? [3점]

심벌마크	설명
경상남도 산청군	㉠ 지리산과 깨끗한 선비 정신의 기상, 강의 맑은 물결과 청정한 자연환경을 의미함. 식생 밀도가 높고 삼림이 울창한 지리산을 가운데 크게 표현함.
강원도 속초시	㉡ 설악산, 일출, 자연 그대로의 호수와 물고기 등 다채로운 관광 자원을 나타냄. 다양한 기암괴석이 많이 노출된 설악산을 왼쪽 위에 표현함.

내용	학생	갑	을	병	정	무
㉠은 태백산맥에 위치한다.		○	○			
㉡은 산 정상부에 분화구가 있다.				○	○	
㉠은 휴산, ㉡은 돌산으로 분류된다.		○		○		○

- ① 갑 ② 을 ③ 병 ④ 정 ⑤ 무

4. (가), (나)는 조선 시대에 편찬된 지리지의 일부이다. 이에 대한 설명으로 옳은 것은? (단, (가), (나)는 각각 신증동국여지승람, 택리지 중 하나임.)

(가)	나주는 노령 아래에 있는 큰 도회지로 ㉠ 규성산을 등지고 남쪽으로 영산강을 내려다보고 있다. ... (중략) ... 게다가 서남쪽의 강과 바다로 물건을 수송하고 물산이 모이는 이익을 독차지하여 광주와 함께 이름난 고을이다.
(나)	나주목(羅州牧) 【건치연혁】본래 백제의 발라군(發羅郡)이며, 신라에서 금산군(錦山郡)으로 고쳤다. 【진관】군(郡)이 둘이고, 현(縣)이 여덟이다.

- ① (가)는 백과사전식으로 서술되었다.
② (나)는 국가 통치 목적으로 제작되었다.
③ (가)는 (나)보다 제작된 시기가 이른다.
④ (가)는 신증동국여지승람, (나)는 택리지이다.
⑤ ㉠은 가거지(可居地)의 조건 중 인심(人心)에 해당한다.

5. 자료는 지리 수업에 활용한 단어 카드이다. (가) 계절에 대한 (나) 계절의 상대적 특징으로 옳은 것은? (단, (가), (나) 계절은 각각 겨울, 여름 중 하나임.)

폭염
소나기
장마

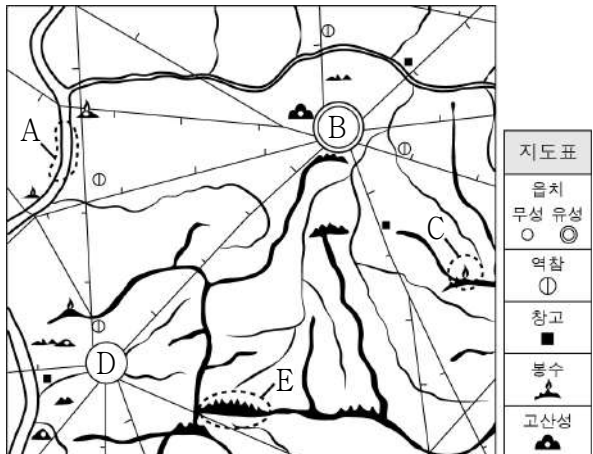
(가) 계절에 나타나는 주요 기후 현상

한파
폭설
삼한사온

(나) 계절에 나타나는 주요 기후 현상

- ① 낮의 길이가 길다.
② 평균 강수량이 많다.
③ 열대야 발생 일수가 많다.
④ 남북 간의 평균 기온 차가 작다.
⑤ 시베리아 기단의 영향을 크게 받는다.

6. 다음은 대동여지도의 일부이다. 이에 대한 설명으로 옳은 것만을 <보기>에서 고른 것은? [3점]



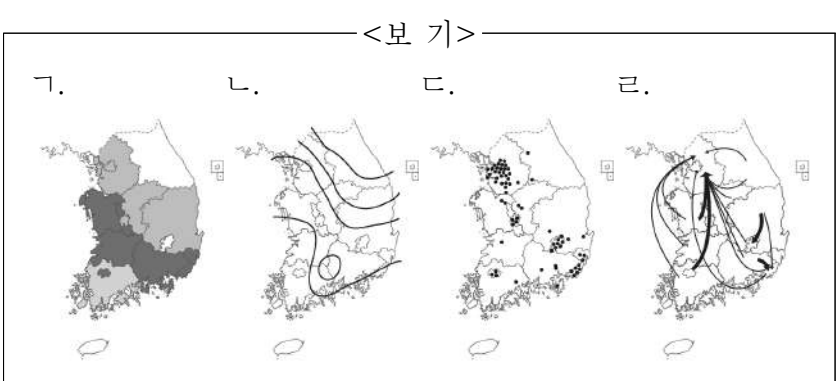
<보 기>
 ㄱ. A에서는 선박의 운항이 가능하다.
 ㄴ. B에서 D까지의 최단 거리는 40리 이하이다.
 ㄷ. C는 불이나 연기를 피워 연락을 하는 시설이다.
 ㄹ. E의 정확한 해발 고도를 알 수 있다.

- ① ㄱ, ㄴ ② ㄱ, ㄷ ③ ㄴ, ㄷ ④ ㄴ, ㄹ ⑤ ㄷ, ㄹ

7. 자료는 지리 용어 사전의 일부이다. (가), (나)를 표현하기에 가장 적합한 통계 지도 유형을 <보기>에서 고른 것은?

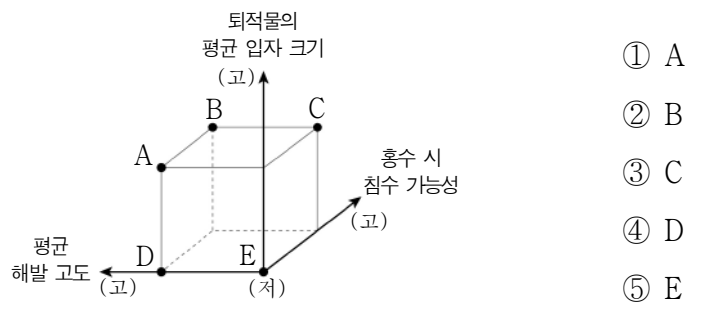
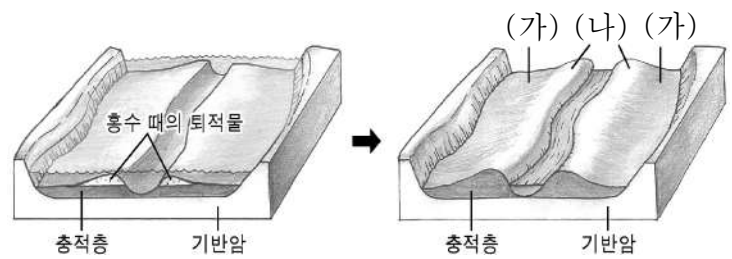
경지(耕地): 땅을 갈아 곡식이나 채소 따위를 심어 가꾸는 토지이다. 경지 이용률은 총 경지 면적에 대한 총 경작 면적의 비율로, 우리나라 (가) 시·도별 경지 이용률을 살펴보면 지역 간의 경작 상황을 비교하는 데 도움이 된다.

경칩(驚蟄): 24절기 중 하나로 봄이 되어 따뜻해져서 겨울잠을 자던 벌레, 개구리 등이 깨어나는 때이다. 이처럼 봄이 오는 것은 개구리 산란일, (나) 지역별 개나리꽃 개화일 등을 통해서도 알 수 있다.



- | | | | | |
|---|-----|-----|-----|-----|
| | (가) | (나) | (가) | (나) |
| ① | ㄱ | ㄴ | ㄱ | ㄹ |
| ③ | ㄴ | ㄷ | ㄷ | ㄴ |
| ⑤ | ㄷ | ㄹ | | |

8. 다음은 범람원의 형성 과정을 나타낸 모식도이다. (가)에 대한 (나)의 상대적 특징을 그림의 A~E에서 고른 것은? (단, (가), (나)는 각각 배후 습지, 자연 제방 중 하나임.)



* (고)는 높음, 큼, (저)는 낮음, 작음을 의미함.

9. 자료의 (가)~(다)에 대한 설명으로 옳은 것은? (단, (가)~(다)는 각각 독도, 마라도, 이어도 중 하나임.) [3점]

(가)는 우리나라의 최남단에 위치하며, 천연 보호 구역으로 지정되어 있다.

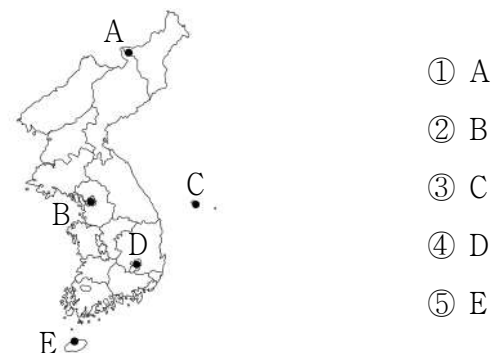
(나)에는 우리나라의 종합 해양 과학 기지가 위치하고 있다.

(다)는 동도와 서도 및 89개의 부속 도서로 구성되어 있으며, 주변 해역에는 조경 수역이 형성되어 있다.

- ① (가)는 영해 설정에 직선 기선을 적용한다.
 ② (나)의 수직 상공은 우리나라의 영공에 해당한다.
 ③ (다)는 행정구역상 강원도에 속한다.
 ④ (다)는 (가)보다 일출 시각이 이른다.
 ⑤ (가), (나) 모두 한·일 중간 수역에 포함된다.

10. 다음은 지도에 표시된 다섯 지역에 대해 스무고개를 하는 장면이다. (가)에 들어갈 지역을 지도의 A~E에서 고른 것은? [3점]

학생	교사
○ 한 고개: 신생대 화산 지형이 넓게 분포합니까?	→ 예
○ 두 고개: 기온의 연교차가 가장 큰 지역입니까?	→ 아니요
○ 세 고개: 겨울 강수 집중률이 가장 높은 지역입니까?	→ 아니요
○ 네 고개: 이 지역은 (가)입니까?	→ 예



- ① A
 ② B
 ③ C
 ④ D
 ⑤ E

11. 자료의 ㉠~㉢에 대한 설명으로 옳지 않은 것은? [3점]

백복령 카르스트 지대
(천연기념물 제440호)

카르스트지형
▶ 원형 그대로 보존된 자연 체험 학습장
▶ 정선군 임계면 직원리 523-8

① 돌리네, 우발라와 ㉡ 석회동굴 등 다양한 카르스트 지형이 발달한 이 지역에는 ㉢ 석회암 풍화토가 넓게 분포한다. ... (중략) ... 부근에 ㉣ 광산이 개발되어 이러한 지형들이 훼손될 우려가 있어 관심이 필요하다.

- ① ㉠은 배수가 양호하여 주로 밭으로 이용된다.
- ② ㉡의 내부에는 중유석, 석순, 석주 등이 발달한다.
- ③ ㉢은 기반암의 영향으로 검은색을 띤다.
- ④ ㉣의 주변 지역은 분진, 소음 등의 환경 문제가 발생한다.
- ⑤ ㉠, ㉡ 모두 빗물이나 지하수의 용식 작용으로 형성된다.

12. 자료의 ㉠, ㉡ 지형 형성에 영향을 준 공통적인 요인으로 가장 적절한 것은?

제주도의 해안 절경 사진전

<올레길에서 바라본 ㉠ 시 스택> <용머리 해안의 ㉡ 파식대>

- ① 바람의 퇴적 작용 ② 빙하의 침식 작용
- ③ 조류의 퇴적 작용 ④ 파랑의 침식 작용
- ⑤ 하천의 침식 작용

13. 자료는 온라인 학습 장면의 일부이다. ㉠~㉢ 중 옳은 내용만을 고른 것은? [3점]

하천지형의 형성

※ 다음은 강원도 양구군 해안면 일대의 침식 분지 지형도입니다. 이 지형에 대해 댓글을 달아보세요.

댓글(4)

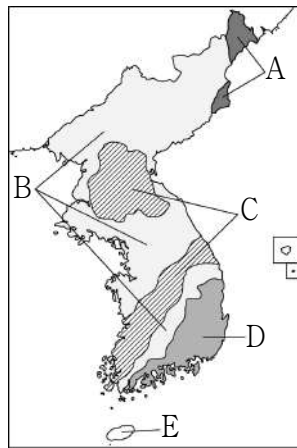
- ↳ 주로 하천의 중·상류 지역에서 발달합니다. ㉠
- ↳ 암석의 차별적인 풍화·침식 작용으로 형성됩니다. ㉡
- ↳ A는 B보다 주된 기반암의 형성 시기가 이릅니다. ㉢
- ↳ B는 A보다 경사가 완만합니다. ㉣

- ① ㉠, ㉡ ② ㉠, ㉢ ③ ㉡, ㉢ ④ ㉡, ㉣ ⑤ ㉢, ㉣

14. 다음은 다큐멘터리의 한 장면이다. ㉠이 주로 분포하는 지역을 지도의 A~E에서 고른 것은?

공룡의 흔적을 따라 한반도의 과거로!

해안 산책로를 걷어가면서 많은 공룡 발자국 화석을 관찰하고 다양한 바다 풍경을 감상할 수 있는 이 지역은 ㉠ 중생대에 거대한 호수에서 퇴적물이 두껍게 쌓여 형성된 지층이 발달한 곳입니다.



- ① A
- ② B
- ③ C
- ④ D
- ⑤ E

15. 다음은 여행 안내지의 일부이다. ㉠~㉢에 대한 설명으로 옳은 것만을 <보기>에서 고른 것은? [3점]

<p>한탄강 따라 떠나는 시간 여행</p> <ul style="list-style-type: none"> ▶ ㉠ 용암 대지에 펼쳐진 황금빛 벼 물결 감상 ▶ 철원 잔도*를 걸으면서 신비한 협곡과 다각형 기둥 모양의 ㉡ 주상 절리 관찰 <p>* 잔도: 험한 벼랑, 절벽 같은 곳에 선반을 매달아 놓은 듯하게 만든 길</p>	<p>성인봉과 함께 하는 생태 여행</p> <ul style="list-style-type: none"> ▶ 울릉도에서 가장 넓고 평탄한 ㉢ 나리 분지에 있는 전통 가옥 관람 ▶ 분지 내부의 중앙 화구구인 ㉣ 알봉을 따라 조성된 둘레길 탐방
--	---

<보 기>

- ㉠. ㉠은 주로 점성이 큰 용암의 분출로 형성되었다.
- ㉡. ㉡은 용암이 냉각 및 수축되어 형성된 지형이다.
- ㉢. ㉢은 분화구의 함몰로 형성된 칼데라 분지이다.
- ㉣. ㉣은 ㉢보다 먼저 형성되었다.

- ① ㉠, ㉡ ② ㉠, ㉢ ③ ㉡, ㉢ ④ ㉡, ㉣ ⑤ ㉢, ㉣

16. 자료의 ㉠~㉣에 대한 설명으로 옳은 것만을 <보기>에서 고른 것은? [3점]

<지역 조사 보고서>

- 조사 주제: 머드 축제로 인한 지역의 공간 변화
- 조사 지역: 대천 해수욕장 및 주변 지역
- 조사 방법 및 조사 내용

조사 방법	조사 내용
㉠ 수치 지도* 활용	㉡ 충청남도 보령시 머드로 123 일대에 위치함.
㉢ 원격 탐사 자료 수집	과거에 비해 농경지 면적이 감소함.
현지 방문 및 상인 ㉣ 면담	축제 기간 동안 매출액이 증가함.

* 수치 지도: 컴퓨터를 이용하여 제작한 디지털 형태의 지도

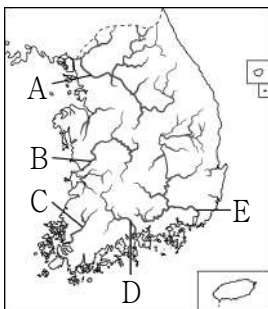
<보 기>

ㄱ. ㉠은 종이 지도에 비해 정보의 추가와 수정이 용이하다.
 ㄴ. ㉡은 지리 정보의 유형 중 관계 정보에 해당한다.
 ㄷ. ㉢은 직접 접근하기 어려운 지역의 정보 수집에 유리하다.
 ㄹ. ㉣은 지역 조사 단계 중 실내 조사에 해당한다.

- ① ㄱ, ㄴ ② ㄱ, ㄷ ③ ㄴ, ㄷ ④ ㄴ, ㄹ ⑤ ㄷ, ㄹ

17. 다음 글의 (가)에 해당하는 하천을 지도의 A~E에서 고른 것은?

강원도 함백산에서 발원하여 남해로 유입하는 (가)은 하구에 넓은 삼각주가 발달해 있으며, 하굿둑이 건설되어 있다. 가락의 동쪽이라는 데에서 이름이 유래되었으며, 하천의 길이는 약 510km로 남한에서 제일 길다.



- ① A ② B ③ C ④ D ⑤ E

18. 자료는 수업 시간에 사용된 메타버스 화면의 일부이다. (가)에 들어갈 내용으로 옳은 것만을 <보기>에서 고른 것은?



교사: "높새바람의 의미와 영향에 대해 이야기해 봅시다."
 학생1: "주로 늦봄에서 초여름 사이에 부는 북동풍입니다."
 학생2: "북동풍이 태백산맥을 넘으면서 편 현상을 동반할 때 영서 지방에 부는 바람입니다."
 학생3: "북동풍의 영향으로 영서와 경기 지방에 (가)"

<보 기>

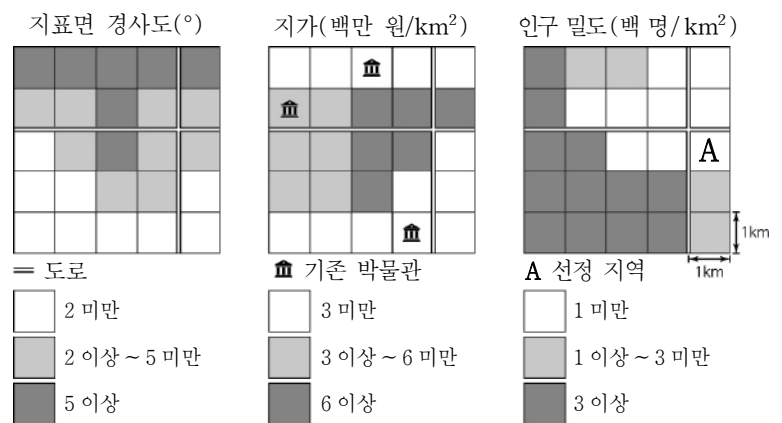
ㄱ. 꽃샘추위가 나타납니다.
 ㄴ. 가뭄 피해가 발생합니다.
 ㄷ. 이상 고온 현상이 나타납니다.
 ㄹ. 황사 발생 빈도가 높아집니다.

- ① ㄱ, ㄴ ② ㄱ, ㄷ ③ ㄴ, ㄷ ④ ㄴ, ㄹ ⑤ ㄷ, ㄹ

19. 자료는 어린이 박물관 입지 선정 과정을 나타낸 것이다. (가)에 들어갈 내용으로 적절하지 않은 것은? [3점]

<체험과 놀이가 공존하는 어린이 박물관 건립>

- 입지 조건: _____ (가)
- 선정 결과: A가 최적 입지로 선정됨.



- ① 지표면 경사도는 5° 미만이어야 한다.
 ② 지가는 3백만 원/km² 미만이어야 한다.
 ③ 인구 밀도는 3백 명/km² 이상이어야 한다.
 ④ 기존 박물관과 1km 이상 떨어져 있어야 한다.
 ⑤ 가장 가까운 도로로부터 1km 이내에 위치해야 한다.

20. 자료의 ㉠~㉣에 대한 설명으로 옳은 것만을 <보기>에서 고른 것은? [3점]

강릉 지역 답사 일정

- 06:50 정동진 해변에서 해돋이 감상 및 계단 모양의 ㉠ 해안 단구 촬영
- 12:00 초당 순두부 음식점에서 점심 식사
- 14:00 ㉡ 사주가 만의 입구를 막아 형성된 ㉢ 석호인 경포호 탐방
- 16:00 ㉣ 사빈을 따라 조성된 커피 거리 방문

<보 기>

ㄱ. ㉠의 평탄면에서는 둥근 자갈과 모래를 볼 수 있다.
 ㄴ. ㉡은 파랑과 연안류의 퇴적 작용으로 형성된다.
 ㄷ. ㉢의 면적은 자연 상태에서 시간이 지날수록 점차 확대된다.
 ㄹ. ㉣은 주로 염전이나 양식장으로 이용된다.

- ① ㄱ, ㄴ ② ㄱ, ㄷ ③ ㄴ, ㄷ ④ ㄴ, ㄹ ⑤ ㄷ, ㄹ

* 확인 사항
 ◦ 답안지의 해당란에 필요한 내용을 정확히 기입(표기)했는지 확인 하시오.


제 4 교시

사회탐구 영역 (세계지리)


성명 [] 수험 번호 [] [] [] [] [] [] [] 2 [] [] [] 제 [] 선택

1. 다음은 여행기의 일부이다. ㉠, ㉡과 관련된 지역화 전략으로 옳은 것은?

9월 30일
네덜란드 암스테르담에 도착하자마자 시티카드를 구입하였다. 이 카드는 ㉠ 'I amsterdam'이라는 슬로건을 활용하여 관광객을 위해 개발한 상품으로 대중교통뿐만 아니라 여러 관광 명소까지 자유롭게 이용할 수 있어 편리했다. 이 슬로건을 활용한 다양한 관광 상품은 지역의 가치를 높이고 경제를 활성화시키는 데 도움을 주고 있었다.



10월 4일
오늘 축제에 제공된 모든 맥주의 병뚜껑에는 ㉡ 'Münchener Bier'라는 마크가 그려져 있었다. 전통 방식으로 뮌헨 지역에서만 제조한 맥주에 부여되는 마크로, 500년 넘게 이어져 온 뮌헨 맥주에 대한 그들의 자부심을 느낄 수 있었다.



- | | |
|-------------|---------|
| ㉠ | ㉡ |
| ① 지리적 표시제 | 공정 무역 |
| ② 지역 브랜드화 | 공정 무역 |
| ③ 지역 브랜드화 | 지리적 표시제 |
| ④ 생산공정의 표준화 | 지리적 표시제 |
| ⑤ 생산공정의 표준화 | 지역 브랜드화 |

2. 다음은 세계의 대지형 학습을 위한 광산 세우기 게임의 한 장면이다. '광산이 세워진 곳'의 대표적인 대지형에 대한 설명으로 옳은 것만을 <보기>에서 고른 것은? (단, 음영으로 표시된 지역은 고기 조산대, 신기 조산대, 안정육괴 중 하나임.) [3점]



- <보 기>
- ㄱ. 석탄 매장량이 풍부하다.
 - ㄴ. 지진과 화산 활동이 빈번하다.
 - ㄷ. 고생대에 조산 운동으로 형성되었다.
 - ㄹ. 판의 경계에 위치하여 산맥의 해발고도가 높고 험준하다.

- ① ㄱ, ㄴ ② ㄱ, ㄷ ③ ㄴ, ㄷ ④ ㄴ, ㄹ ⑤ ㄷ, ㄹ

3. 다음은 지리 교사가 두 지역을 방문하고 올린 누리 소통망(SNS) 프로필 화면이다. 방문한 (가), (나) 기후 지역에 대한 설명으로 옳은 것은? [3점]

(가)

양의 털과 가죽으로 만들어진 전통 가옥 게르(ger)



몽골 고르히 테를지 국립공원에서 묵었던 나의 숙소 (8월 ○일)

(나)

전통 가옥 춤(chum)에서 바라본 밤하늘의 오로라



순록과 친구가 되었던 러시아 네네츠 자치구에서의 추억 (2월 □일)

- ① (가)는 연 증발량보다 연 강수량이 많다.
- ② (가)는 키가 작은 풀로 이루어진 초원이 나타난다.
- ③ (나)는 벼농사가 활발하게 이루어진다.
- ④ (가)는 (나)보다 주로 고위도에 위치한다.
- ⑤ (가), (나) 모두 최난월 평균 기온이 0°C 미만이다.

4. 다음 자료의 (가) 지형에 대한 설명으로 옳은 것만을 <보기>에서 고른 것은?

세계 5대 [(가)]

[(가)] 은/는 조수 간만의 차가 큰 해안에서 점토, 모래 등의 물질이 조류에 의해 퇴적되어 형성된다. 계속된 간척을 통해 이 지형이 많이 사라졌으나, 현재는 여러 국가에서 이를 보존하기 위해 많은 노력을 기울이고 있다.

- <보 기>
- ㄱ. 산호충의 유해가 퇴적되어 만들어진다.
 - ㄴ. 파랑 에너지가 집중되는 곳(串)에 주로 발달한다.
 - ㄷ. 밀물 때는 바닷물에 잠기고 썰물 때는 드러난다.
 - ㄹ. 다양한 생물의 서식지이며, 오염 물질 정화 기능이 있다.

- ① ㄱ, ㄴ ② ㄱ, ㄷ ③ ㄴ, ㄷ ④ ㄴ, ㄹ ⑤ ㄷ, ㄹ

세계지리

5. 다음은 세계지리 서답형 답안지의 일부이다. 학생 답의 ㉠~㉤ 중 옳게 답한 것만을 고른 것은? [3점]

<서답형 1> 다음은 대기 대순환 모식도이다. A~D에 나타나는 현상의 특징을 각각 서술하시오.

학생 답	배점	받은 점수
A에서는 연중 무역풍이 탁월하게 분다. ㉠	2	4점
B에서는 D에서보다 대류성 강수 발생 일수가 적다. ㉡	2	
C에서는 하강 기류가 발달하여 아열대 고압대가 형성된다. ㉢	2	
D에서는 편서풍과 극동풍이 만나 한대 전선이 형성된다. ㉣	2	

- ① ㉠, ㉡ ② ㉠, ㉢ ③ ㉡, ㉣ ④ ㉢, ㉣ ⑤ ㉢, ㉣

6. 밑줄 친 '이 지역'의 기후 특성에 해당하는 그래프로 가장 적절한 것은? [3점]

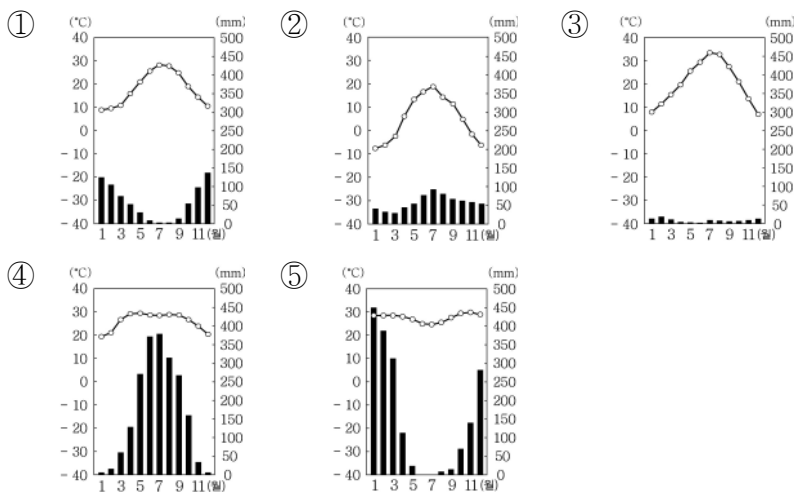
미술 감상 수업

고흐의 생애와 작품 만나기

<아들의 붉은 포도밭>은 고흐의 생전에 판매된 유일한 그림이자 그의 천재성이 절정에 달했을 때 완성된 작품이며, <노란 하늘과 태양의 올리브나무>는 고흐가 아들 인근의 생레미 병원에서 요양하는 동안 주변을 산책하며 남긴 그림이다.

두 그림에 등장하는 포도와 올리브는 토양의 배수가 원활하며, 여름이 고온 건조한 이 지역에서 잘 자란다.

<아들의 붉은 포도밭(1888)>
<노란 하늘과 태양의 올리브나무(1889)>



7. 다음 <조건>을 만족하는 국가에 코로나 백신 연구소를 설립하고자 한다. 이에 가장 적합한 국가를 고른 것은?

<조건>

첫째, 코로나 백신 접종을 모두 완료한 인구 비율이 70% 이상인 국가
 둘째, 인구 백만 명당 사망자 수 2,500명 미만인 국가
 셋째, 정부 대응 엄격성 지수*가 25 미만인 국가

* 정부 대응 엄격성 지수: 0~100 중 100이 가장 엄격한 대응

<후보 국가>

<코로나 백신 접종 완료 인구 비율>

(단위: %)
 ① 80 이상
 ② 70~80 미만
 ③ 70 미만

<인구 백만 명당 사망자 수>

(단위: 명)
 ① 2,500 이상
 ② 2,000~2,500 미만
 ③ 2,000 미만

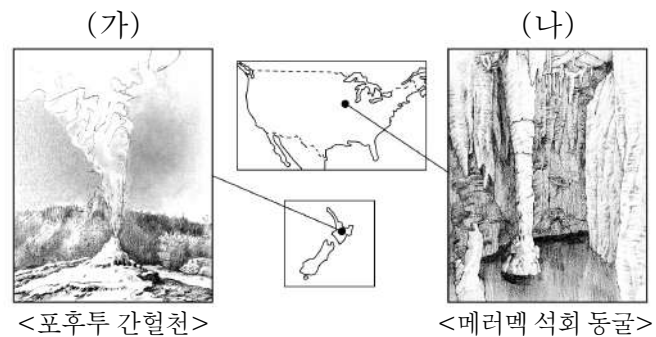
<정부 대응 엄격성 지수>

① 30 이상
 ② 25~30 미만
 ③ 25 미만

* 숫자가 없는 국가는 2022년 3월 기준 자료가 수집되지 않은 국가임. (OWID)

① 칠레 ② 브라질 ③ 우루과이
 ④ 에콰도르 ⑤ 아르헨티나

8. (가), (나) 지형에 대한 설명으로 옳은 것만을 <보기>에서 고른 것은? [3점]



- <보 기>
- ㄱ. (가)는 안정육괴에 주로 발달한다.
 ㄴ. (가)에서는 지열에 의해 데워진 지하수가 주기적으로 분출된다.
 ㄷ. (나)의 내부에서는 중유석, 석순, 석주 등을 관찰할 수 있다.
 ㄹ. (가), (나) 모두 지하수의 용식 작용에 의해 형성된다.
- ① ㄱ, ㄴ ② ㄱ, ㄷ ③ ㄴ, ㄷ ④ ㄴ, ㄹ ⑤ ㄷ, ㄹ

9. 다음은 온라인 학습 장면의 일부이다. 답글의 내용이 옳은 학생만을 고른 것은?

교사: 돼지고기를 금기시 하는 이 종교의 신자들에게 허용된 음식을 할랄(halal) 음식이라 합니다. 율법에 따라 도살, 처리가공된 식품에만 할랄 인증 마크를 부여하며, 실제로 사용되는 마크의 사례는 오른쪽과 같습니다.

이 종교의 특징을 답글로 남겨 주세요.

<한국의 인증 마크>

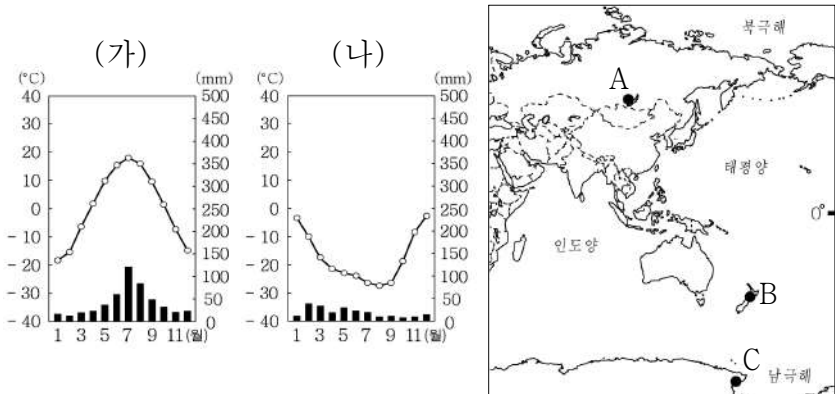
<유럽의 인증 마크>

답글(4)

↳ 갑: 민족 종교에 해당합니다.
 ↳ 을: 하나의 신만을 인정하는 유일신교입니다.
 ↳ 병: 살생을 금하며 윤회 사상을 중시합니다.
 ↳ 정: 신자들은 하루에 다섯 번씩 성지를 향해 기도합니다.

- ① 갑, 을 ② 갑, 병 ③ 을, 병 ④ 을, 정 ⑤ 병, 정

10. (가), (나) 그래프가 나타나는 지역을 지도의 A~C에서 고른 것은? [3점]



- (가) (나) (가) (나) (가) (나)
 ① A B ② A C ③ B A
 ④ B C ⑤ C A

11. 자료는 십자말풀이 일부이다. 이에 대한 설명으로 옳지 않은 것은? [3점]

냉·한대 기후 지역에 발달한 지형

<가로 열쇠>

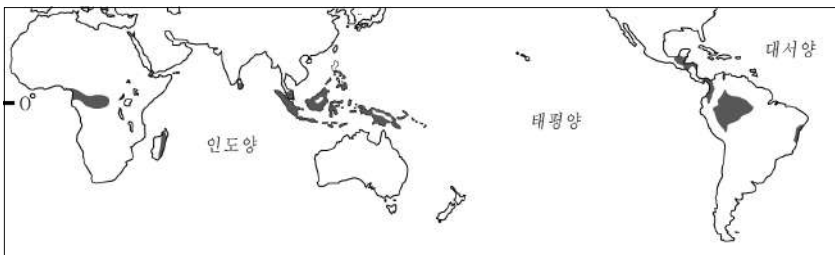
			㉞		
			㉟		
			㉠		
	㉡	㉢	㉣	㉤	㉥
	㉦		㉧		
㉨	㉩				

<세로 열쇠>

㉡ 빙하의 침식 작용으로 형성된 U자 모양의 골짜기
 ㉢ 일 년 내내 녹지 않고 얼어 있는 토양층

- ① ㉟은 '구조토'이다.
 ② ㉠은 유기물이 부족하여 농경에 불리한 편이다.
 ③ ㉡은 빙하의 침식 작용으로 형성된 지형이다.
 ④ ㉡가 바닷물에 잠기면 리아스 해안이 발달한다.
 ⑤ ㉢는 지구 온난화 현상으로 분포 범위가 축소되고 있다.

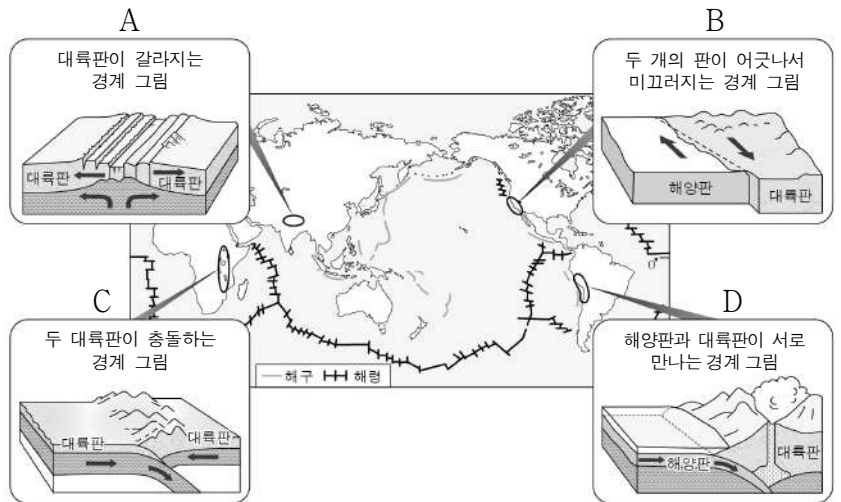
12. 지도는 어느 기후 지역의 분포를 나타낸 것이다. 이 기후 지역의 특징으로 옳은 것만을 <보기>에서 고른 것은?



- <보 기>
- ㄱ. 기온의 연교차가 기온의 일교차보다 크다.
 ㄴ. 회백색의 포드졸 토양이 주로 분포한다.
 ㄷ. 상록 활엽수가 우거진 숲이 넓게 발달한다.
 ㄹ. 연중 적도 수렴대의 영향을 받아 일 년 내내 강수량이 많다.

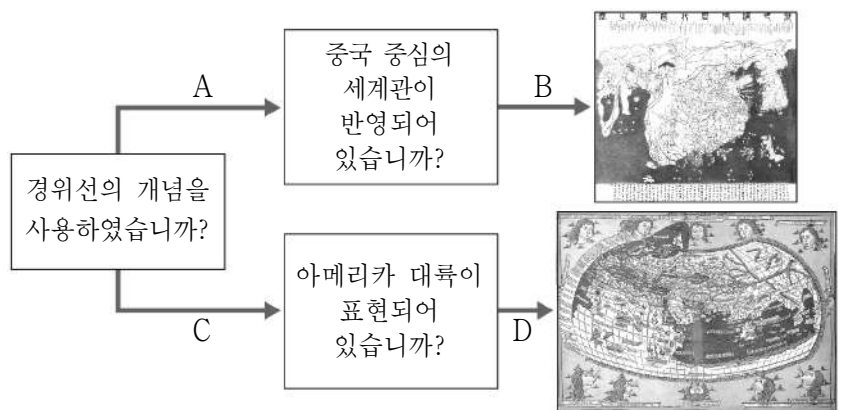
- ① ㄱ, ㄴ ② ㄱ, ㄷ ③ ㄴ, ㄷ ④ ㄴ, ㄹ ⑤ ㄷ, ㄹ

13. 다음은 판의 경계 유형에 관한 자료이다. 그림의 내용과 사례 지역의 위치가 옳게 연결된 것만을 A~D에서 고른 것은?



- ① A, B ② A, C ③ B, C ④ B, D ⑤ C, D

14. 다음 자료는 세계지도의 사례를 찾는 과정이다. A~D에 들어갈 대담으로 옳은 것은? (단, A~D는 '예', '아니요' 중 하나임.)

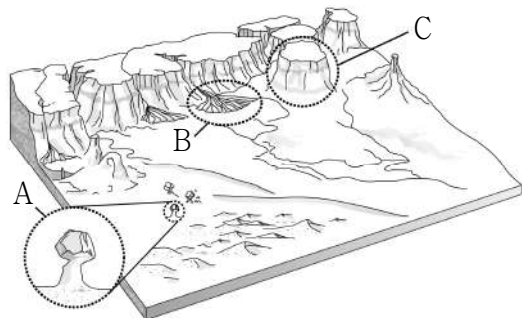


- A B C D
 ① 예 예 아니요 예
 ② 예 아니요 아니요 예
 ③ 아니요 예 예 아니요
 ④ 아니요 아니요 예 예
 ⑤ 아니요 아니요 예 아니요

15. 표의 (가)~(다)에 해당하는 지형을 모식도의 A~C에서 고른 것은?

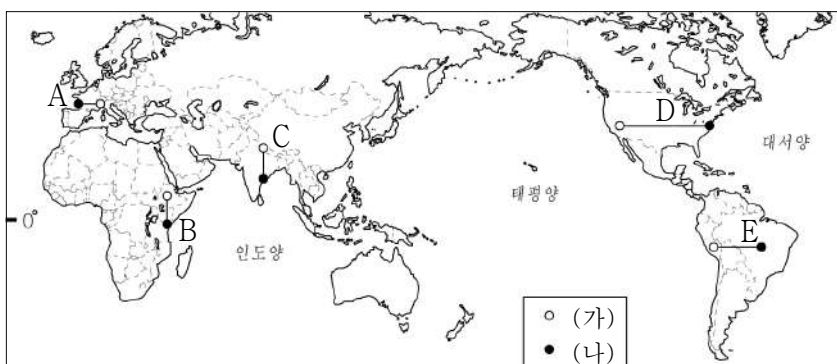
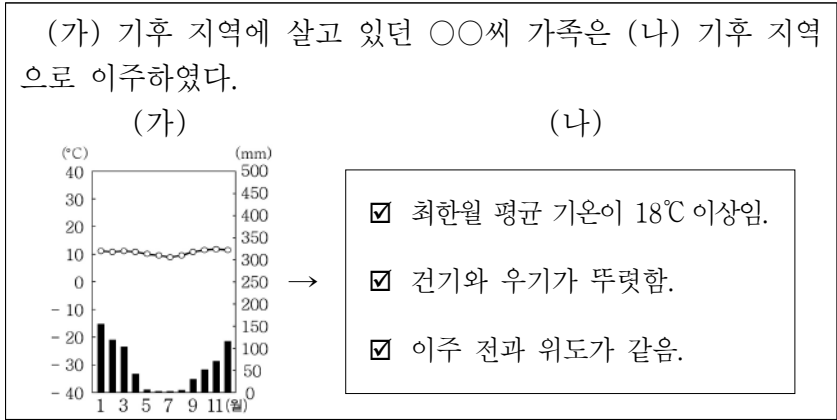
지형	특 징
(가)	바람에 날린 모래가 바위의 아랫부분을 깎아서 형성된 버섯 모양의 바위
(나)	골짜기 입구의 경사 급변점에 하천 운반 물질이 퇴적되어 형성된 지형
(다)	침식에 강한 경암*층이 덮개 역할을 하여 탁자 모양으로 남게 된 지형

* 경암: 단단한 암석



- (가) (나) (다)
 ① A B C
 ② A C B
 ③ B A C
 ④ B C A
 ⑤ C B A

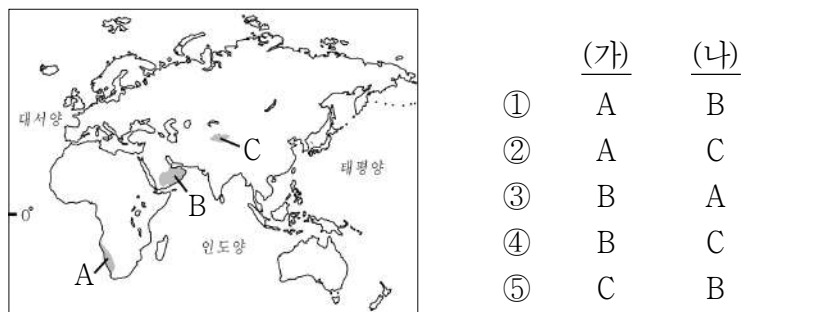
16. 다음 자료를 보고 (가), (나) 기후 지역이 옳게 연결된 선을 지도의 A~E에서 고른 것은? [3점]



- ① A ② B ③ C ④ D ⑤ E

17. 다음은 사막에 관한 다큐멘터리 대본의 일부이다. (가), (나) 사막이 위치한 지역을 지도의 A~C에서 고른 것은? [3점]

# 안개로 덮인 (가) 사막	# 사구로 덮인 (나) 사막
‘아무것도 없는 땅’이라는 의미를 가진 이 사막은 1년 내내 해안을 따라 흐르는 한류의 영향을 받는다. 해안에서 발생하는 안개는 이 지역 생태계의 수분 공급원이 되어 준다.	‘들어가면 나올 수 없는 곳’이라는 의미를 가진 이 사막은 바다로부터 멀리 떨어져 있어 수분을 공급받기 어렵다. 이 지역에 발달한 다양한 형태의 사구는 예로부터 교통에 큰 장애가 되었다.



18. 다음은 세계지리 수업의 한 장면이다. (가), (나)에 들어갈 내용으로 가장 적절한 것은?

교사 : 아래 제시된 그림을 보고 시 스택의 형성 과정을 설명해 볼까요?

학생 : 시 스택은 해식애가 (가)의 (나)에 의해 육지로 후퇴할 때 단단한 암석 부분이 남아 형성된 바위섬이나 돌기둥입니다.

- | | | | |
|------|----|------|----|
| ① 빗물 | 용식 | ② 파랑 | 침식 |
| ③ 파랑 | 퇴적 | ④ 하천 | 침식 |
| ⑤ 하천 | 퇴적 | | |

19. 다음은 퀴즈 쇼의 한 장면이다. (가)에 들어갈 내용으로 가장 적절한 것은? [3점]

문제 : 지도에 표시된 네 도시 중 ‘_____ (가) _____’라는 공통점이 있는 두 도시를 골라 쓰시오.



퀴즈 쇼 장면: 참가자들이 정답을 말하고, 진행자가 정답을 발표한다.

가	을	병
파리 밴쿠버 ○	베이징 밴쿠버 X	뉴욕 파리 X

예, 갑 학생이 정답을 맞혔습니다.

- ① 여름에 열대 저기압의 영향을 빈번하게 받는다.
 ② 개방적인 구조의 고상(高床) 가옥이 주로 발달한다.
 ③ 카사바 등을 재배하는 이동식 화전 농업이 활발하다.
 ④ 비슷한 위도의 다른 지역보다 기온의 연교차가 큰 편이다.
 ⑤ 바다에서 불어오는 편서풍의 영향으로 연중 강수량이 고른 편이다.

20. 자료는 방송 프로그램을 소개하는 장면의 일부이다. 밑줄 친 ‘이 종교’의 대표적인 경관으로 옳은 것은?



📹 촬영장소: 에스파냐 산티아고 순례길
 • 1993년 유네스코 세계유산으로 지정된 산티아고 순례길은 프랑스에서 출발하여 에스파냐에 이르는 약 800km의 길이다.
 • 순례의 목적지인 콤포스텔라 대성당은 이 종교의 대표적 성지로, 예수의 열두 제자 중 한 명인 성 야고보의 무덤이 있는 곳이다.

📅 기획 의도
 • 순례길에 위치한 마을에 숙박시설을 마련하여 저렴한 값의 잠자리와 식사 제공을 통해 여행자들의 다양한 모습을 담아내고자 한다.

- ① 십자가와 종탑
 ② 사리가 봉안된 탑과 불상
 ③ 첨탑과 둥근 지붕이 있는 모스크
 ④ 다양한 신들을 표현한 조각상이 있는 사원
 ⑤ 목욕과 화장(火葬) 등의 종교의식이 행해지는 강가의 가트

* 확인 사항
 ○ 답안지의 해당란에 필요한 내용을 정확히 기입(표기)했는지 확인하시오.

제 4 교시

사회탐구 영역 (동아시아사)

성명 [] 수험 번호 [] [] [] [] [] [] [] 2 [] [] [] [] 제 [] 선택

1. (가)에 들어갈 유물로 가장 적절한 것은?

(가)

이 유물은 비파 모양으로 만주와 한반도에서 주로 발견됩니다. 지배층의 권위를 상징하는 도구 등으로 사용되었습니다.

#청동기_문화 #고조선 #고인돌

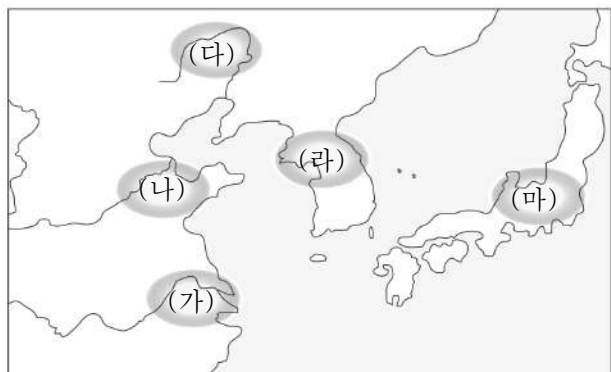
♡ 23 ... 6

- ①
- ②
- ③
- ④
- ⑤

2. 밑줄 친 '이 지역'을 지도에서 옳게 고른 것은?

이 지역에서는 사진과 같은 유물들이 사용되었고, 벼씨가 출토되는 것으로 보아 벼농사가 이루어졌음을 알 수 있습니다.

▲ 허무두 토기 ▲ 뼈보습



- ① (가) ② (나) ③ (다) ④ (라) ⑤ (마)

3. 밑줄 친 '이 나라'에 대한 설명으로 옳은 것은?

이 나라의 왕은 점을 치고 난 후, 그 내용을 거북의 배 껍질이나 짐승의 뼈에 새겨 넣었다. 이를 갑골문이라 하며 한자의 기원이 되었다. 갑골문이 은허에서 출토되면서, 문헌으로만 전해지던 이 나라가 실존했음이 증명되었다.

- ① 남송을 멸망시켰다.
- ② 소군이 통치하였다.
- ③ 자금성을 건설하였다.
- ④ 주자감을 설립하였다.
- ⑤ 왕이 제사장을 겸하였다.

4. 다음 자료를 활용한 탐구 활동으로 가장 적절한 것은? [3점]

- 남제의 사신이 북위에 갔을 때 고구려 사신과 나란히 앉게 되었다. 남제 사신이 “고구려는 우리의 신하로 따르고 있는데 어찌 우리와 나란히 설 수 있는가?”라고 항의하였다.
- 북주는 돌궐과 화친한 뒤 해마다 막대한 물자를 보냈다. 북제도 돌궐이 침략해 올 것을 두려워해 역시 돌궐에 많은 재물을 주었다.

- ① 아스카 문화의 특징을 검색한다.
- ② 통신사 파건의 목적을 찾아본다.
- ③ 남북조 시대의 다원적 외교를 살펴본다.
- ④ 신라의 삼국 통일 이후 국제 정세를 분석한다.
- ⑤ 혈연에 기초한 봉건제의 시행 배경을 조사한다.

5. 밑줄 친 '항해'를 추진한 왕조에 대한 설명으로 옳은 것은? [3점]

〈역사 속 오늘〉 7월 11일

정화, 첫 원정에 나서다

1405년 7월 11일, 영락제의 명령으로 정화의 항해가 시작되었다. 이후 30여 년 동안 총 7차례 걸쳐 이어졌는데, 동남아시아를 넘어 아프리카 동부 해안까지 진출하였다. 이는 유럽의 신항로 개척보다 앞선 것이다.

- ① 호라즘을 정복하였다.
- ② 안남 도호부를 설치하였다.
- ③ 맹안·모극제를 실시하였다.
- ④ 난징에서 베이징으로 천도하였다.
- ⑤ 압록강 유역의 강동 6주를 확보하였다.

동아시아사

6. (가) 황제에 대한 설명으로 옳은 것은?

동아시아사 Q&A

질문

답변
 동중서의 건의로 유교를 통치 이념으로 채택했어요.

답변
 남비엣을 정복하고 군현을 설치했어요.

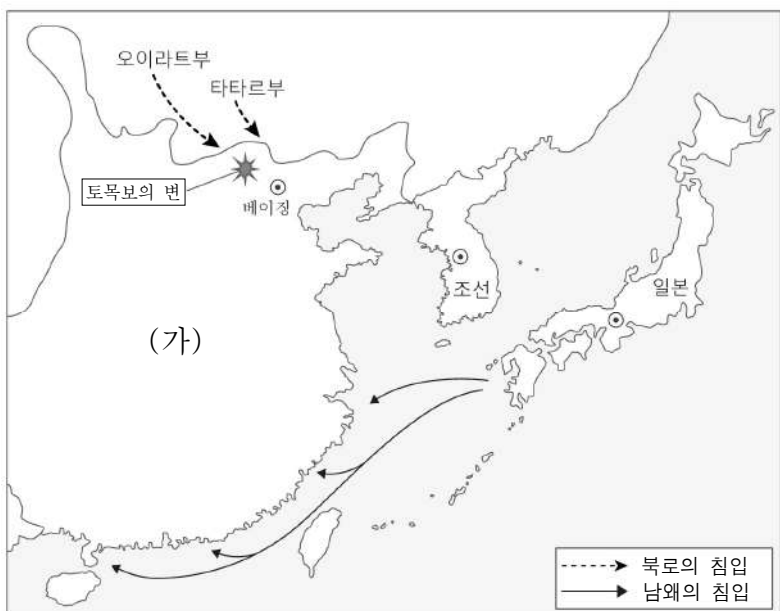
- ① 임안으로 천도하였다.
- ② 일조편법을 실시하였다.
- ③ 헤이조쿄를 건설하였다.
- ④ 4군과 6진을 개척하였다.
- ⑤ 장건을 서역에 파견하였다.

7. 다음 자료를 활용한 탐구 주제로 가장 적절한 것은? [3점]

- 주몽이 북부여에 있을 때 낳은 아들이 와서 태자가 되자, 비류와 온조는 ... (중략) ... 오간·마려 등 10명의 신하와 함께 남쪽으로 갔는데 따르는 백성이 많았다.
- 영가 5년에 흥노, 갈족 등이 진(晉)의 수도 뤼양 부근을 노략질하였다. ... (중략) ... 한족 출신의 고위 관료들은 뤼양 동남쪽으로 달아났다.

- ① 도왜인의 활동과 기술 전파
- ② 분서갱유의 발생 배경과 영향
- ③ 인구 이동과 새로운 왕조의 수립
- ④ 자국 중심의 독자적 천하관 형성
- ⑤ 교역망의 통합과 동서 교류의 확대

8. (가) 국가의 대외 관계에 대한 설명으로 옳은 것은? [3점]



- ① 쓰시마섬 도벌을 단행하였다.
- ② 주변국에 화번공주를 파견하였다.
- ③ 왜의 노국왕에게 금인을 내려주었다.
- ④ 견당사를 파견하여 문물을 수용하였다.
- ⑤ 무로마치 막부와 조공·책봉 관계를 맺었다.

9. (가) 전쟁 이후 동아시아 상황으로 옳은 것은? [3점]

○월의 고전 문학

간행인명: 권익성
 편집인명: 권익성
 발행인명: 권익성
 발행처명: 권익성
 발행일자: 2023. 10. 10.
 발행부수: 1,000부
 판매처명: 권익성
 판매처주소: 서울특별시 강남구 테헤란로 123
 판매처전화: 02-1234-5678

산성일기

『산성일기』는 (가) 을/를 중심으로 1년 간의 일을 한글로 기록한 작품이다. 남한산성 전투, 인조의 항복, 삼전도의 홍타이지 송덕비 건립 등에 관한 내용이 상세하게 기록되어 있다.


- ① 거란이 연운 16주를 차지하였다.
- ② 조선에서 북벌 운동이 추진되었다.
- ③ 일본에서 야마토 정권이 수립되었다.
- ④ 대월의 쩌홍다오가 몽골군을 물리쳤다.
- ⑤ 카이펑이 함락되고 북송이 멸망하였다.

10. (가)에 들어갈 문화유산으로 가장 적절한 것은?

탐구 보고서

주제: 동아시아 불교의 특징

1. 호국 불교
 동아시아 불교는 군주의 권위를 과시하고 통치의 정당성을 확보하기 위한 국가 불교로서의 성격을 지닌다.

(가)	북위 황제가 현세의 부처를 자처하며 자신의 모습을 본떠 만들었다고 전해진다.
 도다이사 대불전	나라 시대에 쇼무 천황이 불교의 힘으로 국가를 번성시키고자 건립하였다.

- ①


 원강 대불

②


 선암사 산신도

③


 금동 미륵보살 반가 사유상

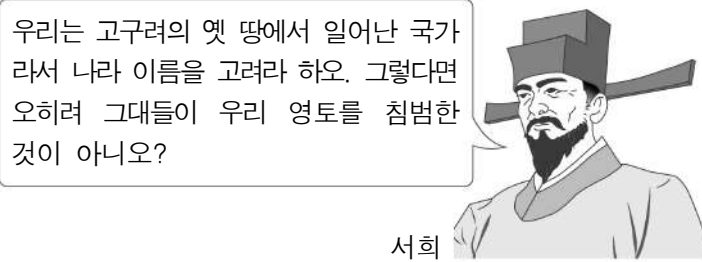
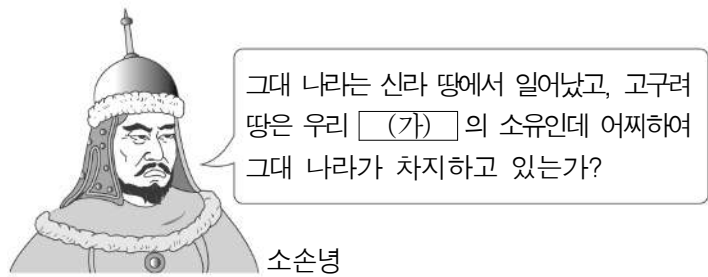
④


 하치만 신상

⑤


 홍산 여신상

11. (가) 국가에 대한 설명으로 옳은 것은?



- ① 군국제를 시행하였다.
- ② 남면관·북면관제를 실시하였다.
- ③ 카라코룸에서 대도로 천도하였다.
- ④ 신라와 연합하여 백제를 멸망시켰다.
- ⑤ 왕안석을 등용하여 개혁을 추진하였다.

12. (가) 국가 시기 동아시아에서 볼 수 있는 모습으로 가장 적절한 것은? [3점]

동아시아 랜선 여행 안내문

- 주제: (가)의 수도 장안을 중심으로 활동한 승려들
- 기간: 2023년 6월 ~ 7월
- 주요 문화재



▲ 선유사 혜초 기념비

인도 순례 후 『왕오천축국전』을 남긴 혜초의 기념비

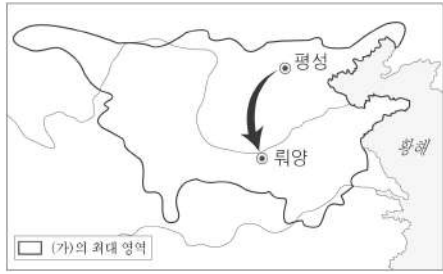


▲ 대안탑

현장이 인도에서 가져온 불경 등을 안치하기 위해 건립한 탑

- ① 양명학을 연구하는 학자
- ② 팔만대장경을 조판하는 장인
- ③ 해적을 소탕하는 청해진 병사
- ④ 조공을 바치는 야마타이국 사신
- ⑤ 아리타에서 자기를 제작하는 도공

13. (가) 국가에 대한 설명으로 옳은 것은?



(가)의 효문제는 튀양으로 천도한 후 관제를 개편하고 호복 착용 및 조정에서 선비어 사용을 금지하였다. 또한 한족과의 결혼을 장려하고 한족의 언어와 풍습을 적극적으로 받아들였다.

- ① 정복지에 다루가치를 파견하였다.
- ② 5호 16국 시대의 분열을 수습하였다.
- ③ 강남과 화북을 잇는 대운하를 건설하였다.
- ④ 백제의 부흥 운동을 돕기 위해 파병하였다.
- ⑤ 인재 선발을 위해 독서삼품과를 실시하였다.


14. (가) 제국에 대한 설명으로 옳은 것은?

- (가)의 목특이 40만 기병을 이끌고 한 고조를 백등산으로 몰아넣고 포위하였다. ... (중략) ... 한 고조가 사신을 보내 연지에게 많은 선물을 주자 포위망 한 곳을 풀어 주었다.
- (가)의 여러 왕과 장수들은 각각 다스리는 영역이 있었으며 그 안에서 물과 풀을 찾아 옮겨 다니며 살았다. 그들 중에서 좌현왕과 우현왕의 영역이 가장 컸다.

- ① 과거제를 실시하였다.
- ② 8조의 법을 시행하였다.
- ③ 문자와 화폐를 통일하였다.
- ④ 최고 통치자를 선우라 하였다.
- ⑤ 야요이 문화를 바탕으로 성립하였다.

15. 밑줄 친 '원정'이 전개되던 시기를 연표에서 옳게 고른 것은? [3점]

이 그림은 규슈 북부에 상륙한 몽골군과 일본군 사이의 전투를 그린 「몽고습래회사」입니다. 몽골은 일본에 조공을 요구하였다가 거절당하자, 고려와 연합군을 편성하여 일본 원정에 나섰지만 태풍 등으로 인해 실패하였습니다.



(가)	(나)	(다)	(라)	(마)
한 멸망	당 건국	발해 멸망	가마쿠라 막부 수립	조선 건국

- ① (가) ② (나) ③ (다) ④ (라) ⑤ (마)

16. 다음 율령을 반포한 국가에 대한 설명으로 옳은 것은? [3점]

자료로 보는 동아시아사	
<p>[자료]</p> <p>무릇 호적은 6년에 한 번 작성한다. 11월 상순부터 시작하여, 식(式)에 의하여 만든다. 리(里)별로 문서를 만들어서 모두 세 통을 사본으로 만든다. 두 통은 태정관에 보내고, 한 통은 국(國)에 보관한다.</p> <p>- 『영의해(令義解)』 -</p>	<p>[해설]</p> <p>다이호 율령을 고친 요로령의 해설서가 『영의해』이다. 율령 체제에서는 국가가 전 백성의 호적을 작성하여 관장하고, 전지(田地)를 호 단위로 배분하여 조세를 징수한다.</p>

- ① 후삼국을 통일하였다.
- ② 만리장성을 축조하였다.
- ③ 제자백가가 출현하였다.
- ④ 2관 8성제를 운영하였다.
- ⑤ 천호·백호제를 정비하였다.

17. 밑줄 친 '이 나라'에 대한 설명으로 옳은 것은?

이 나라의 대군주 쿠빌라이는 사절단을 교황에게 보낼 때, 금으로 된 패자*를 지급하였다. 거기에는 사신이 필요로 하는 숙소는 물론 사람과 말도 제공해야 한다는 내용이 들어 있었다.

- 마르코 폴로, 『동방견문록』 -

* 패자: 역참 통행증

- ① 교초를 발행하였다.
- ② 고조선을 정복하였다.
- ③ 별무반을 편성하였다.
- ④ 골품 제도를 운영하였다.
- ⑤ 다이카 개신을 단행하였다.

18. 다음 자료를 활용한 탐구 주제로 가장 적절한 것은? [3점]

○ 우리 나라의 유학 박사는 옛날부터 한·당의 주석을 읽고 경전에 일본어식 훈(訓)을 달았을 뿐이다. 이에 후지와라 세이카께서 강항 등에게 사서오경을 정서하게 하였다.

- 『하야시 라잔 전집』 -

○ 어제 뜻밖에 제게 보내주신 천주상, 역법서, 서학서들을 선물로 받고 제가 얼마나 감격했는지 상상도 못 하실 것 입니다. 이로 말미암아 저는 신부님께 큰 빛을 졌습니다.

- 소현세자가 아담 살에게 보낸 편지 -


- ① 불교의 토착화 사례
- ② 연행사 파견의 영향
- ③ 율령의 전파와 수용
- ④ 전쟁을 통한 문물 교류
- ⑤ 동아시아 문화권의 형성

19. (가) 사상에 대한 설명으로 옳은 것만을 <보기>에서 고른 것은? [3점]

그림 속에 담긴 역사

김홍도

대장간 서당도 무이귀도도 도담삼봉




그림은 무이산 제5곡에 무이정사를 짓고 저술 및 강학 활동을 하던 주희가 배를 타고 계곡을 내려오는 모습을 그린 것이다. 주희는 남송 시대 인물로 (가) 율/를 집대성하고, 거경공리와 격물치지를 수행 방법으로 제시하였다.

<보 기>

- ㄱ. 오경보다 사서를 중시하였다.
- ㄴ. 수행을 통한 해탈을 추구하였다.
- ㄷ. 고려 말 신진 사대부에게 수용되었다.
- ㄹ. 진시황제의 통치 정책을 뒷받침하였다.

- ① ㄱ, ㄴ ② ㄱ, ㄷ ③ ㄴ, ㄷ ④ ㄴ, ㄹ ⑤ ㄷ, ㄹ

20. 밑줄 친 '전쟁'이 동아시아에 끼친 영향으로 옳지 않은 것은?



천조장사전별도

도요토미 히데요시의 사망으로 왜군이 조선에서 철수하자, 전쟁에 참전한 명나라 군대가 귀국길에 오르는 장면을 그린 것이다. 당시 귀국길에 오른 병사 수는 약 14만여 명이었는데 그중에는 포르투갈 수병(水兵)도 있었다.

- ① 명의 재정이 악화되었다.
- ② 에도 막부가 수립되었다.
- ③ 전연의 맹약이 체결되었다.
- ④ 여진족이 후금을 건국하였다.
- ⑤ 조선의 국토가 황폐화되었다.

* 확인 사항

- 답안지의 해당란에 필요한 내용을 정확히 기입(표기)했는지 확인 하시오.

제 4 교시


사회탐구 영역 (세계사)

성명 수험 번호 2 제 [] 선택


1. (가) 문명에 대한 설명으로 옳은 것은?

(가) 미라전 기획안

- 기획 의도: (가)의 미라와 유물을 통해 고대 나일강 유역에서 찬란한 문명을 건설하였던 사람들의 내세관과 생활상을 이해하는 기회를 제공한다.
- 전시 기간: 2023년 ○월 ○일 ~ ○월 ○일
- 대표 전시품



▲ 미라의 관



▲ 「사자의 서」


- ① 피라미드를 축조하였다.
- ② 길가메시 서사시를 남겼다.
- ③ 함무라비 법전을 편찬하였다.
- ④ 갑골에 점을 친 내용을 기록하였다.
- ⑤ 모헨조다로에 계획도시를 건설하였다.

2. (가) 왕조에 대한 설명으로 옳은 것은? [3점]

- □□신문 주최 해외 역사 탐방 -

페르세폴리스를 가다!

페르세폴리스는 (가)의 다리우스 1세가 수도로 세운 도시입니다. 이 도시 유적은 이란의 테헤란에서 남쪽으로 650km 가량 떨어진 곳에 있습니다. 페르세폴리스 유적 탐방을 통해 (가)의 역사와 문화를 체험해 보고자 합니다.



- 탐방 기간: 2023년 ○월 ○일 ~ ○월 ○일
- 신청 방법: 신청서 작성 후 온라인 제출

- ① 밀레트 제도를 운영하였다.
- ② 이슬람 세력에 의해 멸망하였다.
- ③ 이베리아반도까지 영토를 확장하였다.
- ④ 카르타고 등 여러 도시를 건설하였다.
- ⑤ 왕의 눈이라 불린 감찰관을 파견하였다.

3. (가) 시대에 있었던 사실로 옳은 것은? [3점]

세계사 용어 사전

합종연횡

요약 (가) 시대에 진(秦)과 연(燕)·제(齊) 등 일곱 나라가 펼친 외교 전략을 일컫는 말

내용 진이 강대국으로 부상하자 소진은 진에 대항하기 위하여 연·제 등 6국이 힘을 합쳐야 한다는 합종책을 제시하였다. 한편 합종책에 맞서 진의 재상 장의는 6국이 진과 개별적으로 동맹을 맺는 외교 전략을 추진하였는데 이를 연횡책이라 한다.

- ① 고조선이 멸망하였다.
- ② 흉루몽이 유행하였다.
- ③ 임진왜란이 발발하였다.
- ④ 제자백가가 활약하였다.
- ⑤ 향거리선제가 시행되었다.

4. (가) 국가에 대한 설명으로 옳은 것은? [3점]

12세기 초 부족을 통일한 아구다는 (가)을/를 세우고, 송과 연합하여 거란(요)을 공격하였다. 이후 (가)은/는 거란(요)을 단독으로 무너뜨리고, 나아가 송마저 공격하여 수도를 함락시킨 후 황제를 포로로 끌고 갔다. 송은 남쪽으로 쫓겨 가 왕조를 재건하고 임안(항저우)을 수도로 삼았다.

- ① 상 왕조를 무너뜨렸다.
- ② 감함 무역을 실시하였다.
- ③ 맹안 모극제를 시행하였다.
- ④ 5대 10국 시대를 통일하였다.
- ⑤ 절도사 주전충에게 멸망하였다.

5. 밑줄 친 '이 종교'에 대한 탐구 활동으로 가장 적절한 것은?


메디나에서 온 대표들이 무함마드를 지켜줄 것을 서약하자 무함마드와 그 추종자들은 이주를 결정하였다. 무함마드의 메디나 이주는 알라를 유일신으로 섬기는 이 종교에서 헤지라로 불린다. 헤지라 이후 무함마드는 메카에서 그를 따라 이주해 온 사람들과 메디나 주민을 묶어 무슬림 공동체를 실현해 나갔다.

- ① 욕유에 담긴 내용을 분석한다.
- ② 자연을 찬미한 베다를 조사한다.
- ③ 브라만교가 성립된 배경을 알아본다.
- ④ 지구라트를 건설한 이유를 찾아본다.
- ⑤ 쿠란이 일상생활에 끼친 영향을 파악한다.

세계사

6. (가) 왕조에서 있었던 사실로 옳은 것은? [3점]

세계의 위대한 역사가들



사마천은 (가)의 역사가이다. 아버지의 뒤를 이어 태사령이 된 그는 『사기』를 본격적으로 편찬하기 시작하였다. 그러던 중 흉노에 투항한 이릉을 변호하다 무제의 노여움을 사서 치욕적인 처벌을 받는 어려움을 겪었다. 그럼에도 저술 활동을 계속하여 『사기』를 완성하였다.

- ① 조용조 제도가 실시되었다.
- ② 소금, 철의 전매제가 시행되었다.
- ③ 지폐인 교자, 회자가 발행되었다.
- ④ 대진 경교 유행 중국비가 건립되었다.
- ⑤ 이자성이 이끄는 농민군이 수도를 점령하였다.

7. (가) 왕조에서 있었던 사실로 옳은 것은?

문학으로 보는 중국사


춘망(春望)

나라가 패망하니 산과 강만 남아 있고
성 안의 봄에는 풀과 나무만 우거졌도다.

... (중략) ...

전쟁이 석 달이나 이어졌으니
집에서 온 편지는 만금의 가치가 있도다.

... (후략) ...




이 시는 두보가 쓴 「춘망」입니다. 이백과 더불어 (가)의 대표적 시인 중 한 사람인 두보는 안녹산이 이끄는 반란군에 붙잡혀 장안에 억류되었던 적이 있습니다. 이 시기에 고향을 그리워하는 애달픈 마음을 「춘망」이라는 시에 담았습니다.

- ① 교초가 발행되었다.
- ② 양세법이 시행되었다.
- ③ 수시력이 제작되었다.
- ④ 천공개물이 편찬되었다.
- ⑤ 공소, 회관이 설립되었다.

8. (가) 국가에 대한 설명으로 옳은 것은?


유적으로 보는 세계사



중국 닝샤 후이족 자치구에 위치한 (가)의 왕릉이다. 11세기 탕구트족이 세운 (가)은/는 비단길의 요충지를 점령하여 동서 교역의 이익을 차지하였고, 고유 문자를 제정하여 사용하였다.

- ① 발해를 멸망시켰다.
- ② 연운 16주를 차지하였다.
- ③ 반량전으로 화폐를 통일하였다.
- ④ 송으로부터 물자를 제공받았다.
- ⑤ 정북지에 도호부를 설치하였다.

9. 밑줄 친 '제국'에 대한 설명으로 옳은 것은? [3점]



그림은 테무친이 칸으로 추대되는 장면을 묘사하고 있다. 테무친은 흩어져 있던 부족을 통일하여 강력한 세력을 형성하였다. 그는 천호제를 정비하여 체계적인 군사·행정 조직을 편성하였으며, 이를 토대로 정복 전쟁을 벌여 제국의 지배 영역을 확장하였다.

- ① 역참제를 운영하였다.
- ② 지정은제를 시행하였다.
- ③ 내각 대학사를 설치하였다.
- ④ 전연의 맹약을 체결하였다.
- ⑤ 호경에서 낙읍으로 천도하였다.

10. 밑줄 친 '이 왕조'에 대한 설명으로 옳은 것은?

우마이야 왕조를 무너뜨리고 성립된 이 왕조는 비아랍인에 대한 세제상의 차별을 철폐하는 등 모든 이슬람교도의 평등을 내세웠다. 아랍어를 공용어로 보급하고, 이슬람교 전파에 노력하는 한편, 상업 활동을 대대적으로 확대하였다. 또한 바그다드를 건설하여 수도로 삼았는데, 바그다드는 이후 이슬람 문명의 학문, 경제, 무역, 문화의 중심지로 성장하였다.

- ① 시박사를 설치하였다.
- ② 우즈베크인에게 멸망하였다.
- ③ 당과 탈라스에서 전투를 벌였다.
- ④ 통제거 등 대운하를 건설하였다.
- ⑤ 사산 왕조 페르시아를 정복하였다.

11. 밑줄 친 '폐하'에 대한 설명으로 옳은 것은? [3점]



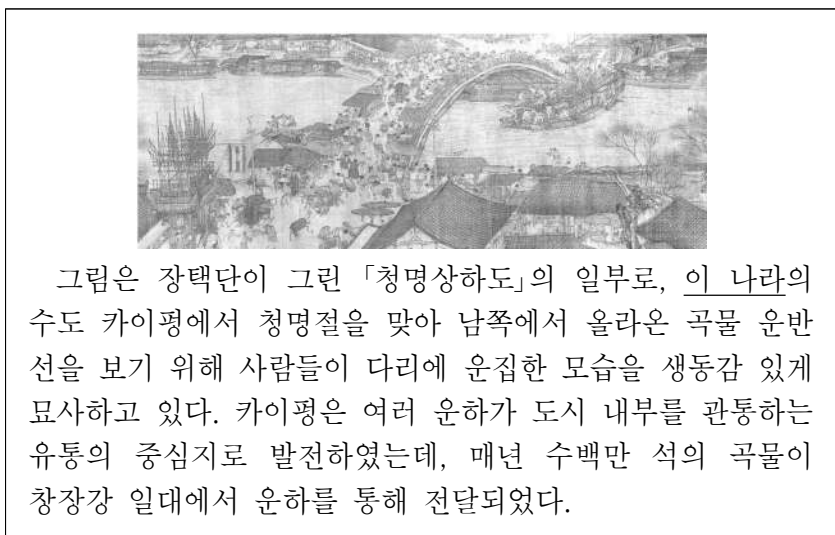
- ① 과거제를 도입하였다.
- ② 군국제를 시행하였다.
- ③ 만리장성을 축조하였다.
- ④ 오경정의를 편찬하였다.
- ⑤ 파스파 문자를 만들었다.

12. 다음 가상 편지에서 밑줄 친 '막부'에 대한 설명으로 옳은 것은?

얼마 전 나가사키의 데지마에서 네덜란드 의서를 구하였네. 이 책을 처음 펼쳐 인체의 내부를 세밀하게 묘사한 그림을 보는 순간 눈앞이 활짝 열리는 느낌이 들었네. 자네가 네덜란드어를 익혔으니 이 책을 함께 번역하여 막부에 바치는 게 어떻겠나? 분명 의학을 공부하는 이들에게 큰 도움이 될 걸세.

- ① 일조편법을 실시하였다.
- ② 헤이안쿄로 수도를 옮겼다.
- ③ 산킨코타이 제도를 시행하였다.
- ④ 고사기, 만엽집 등을 편찬하였다.
- ⑤ 두 차례에 걸친 원의 침략을 받았다.

13. 밑줄 친 '이 나라'에 대한 설명으로 옳은 것은? [3점]



- ① 조광윤이 건국하였다.
- ② 만한 병용제를 실시하였다.
- ③ 티베트, 신장을 복속시켰다.
- ④ 북면관·남면관제를 시행하였다.
- ⑤ 황소의 난으로 국력이 쇠퇴하였다.

14. (가) 왕조에 대한 설명으로 옳은 것은? [3점]

사료로 공부하는 세계사

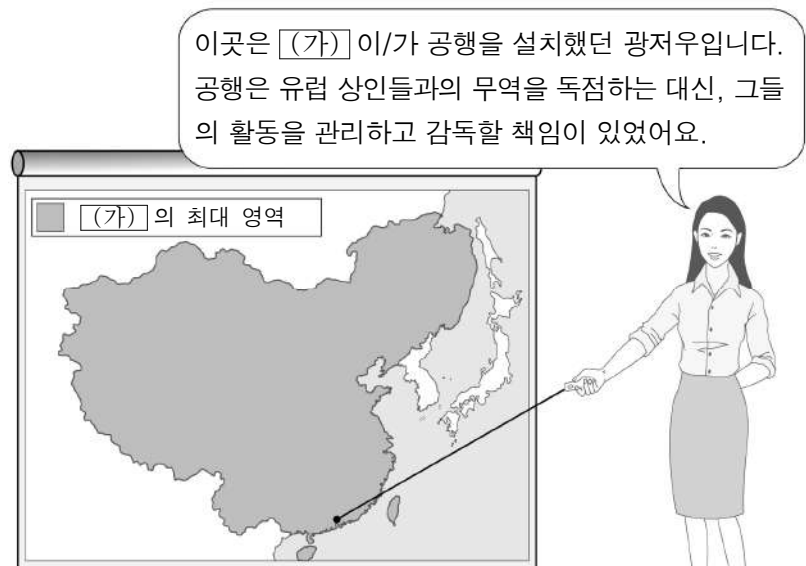
나는 이제 군대를 보내 여러 오랑캐를 북으로 몰아냄으로써 백성을 도탄에서 구하고 한족의 예의와 제도를 회복하고자 한다. ... (중략) ... 그러므로 먼저 포고하여 알린다. 군대가 이르거든 백성은 피하지 마라.

해설

이 사료는 주원장이 원을 몰아내기 위해 진군할 것이니 백성들에게 동요하지 말 것을 당부하는 격문이다. 그는 흥건적의 반란에 가담하였다가 반원 세력을 규합하여 난징에 **(가)**을/를 세우고 황제 자리에 올랐다.

- ① 변발을 강요하였다.
- ② 이갑제를 실시하였다.
- ③ 사고전서를 편찬하였다.
- ④ 9품중정제를 시행하였다.
- ⑤ 진승·오광의 난을 진압하였다.

15. (가) 왕조에서 볼 수 있는 모습으로 가장 적절한 것은?



- ① 견수사에 동행하는 승려
- ② 도다이사를 건축하는 인부
- ③ 황건적의 난을 진압하는 군인
- ④ 장건을 서역으로 파견하는 황제
- ⑤ 고구마, 옥수수를 재배하는 농민

16. 밑줄 친 '그'에 해당하는 인물로 옳은 것은?

마카오 여행기

2023년 ○월 ○일

주요 방문 장소: 세인트 폴 성당, 몬테 요새

마카오시 중심에 있는 역사 지구를 방문하였다. 세인트 폴 성당을 지나 몬테 요새 전망대로 오르는 길에 한 예수회 선교사의 동상을 보고 잠시 그의 행적을 검색해 보았다. 그는 1582년 마카오에 도착한 후 중국에서 활동하기 위해 중국어와 문화를 익혔다고 한다. 이후 베이징으로 진출하여 「곤여만국전도」, 『천주실의』 등을 남겼다.

- ① 티무르 ② 아담 샬 ③ 마테오 리치
- ④ 마르코 폴로 ⑤ 이븐 바투타

17. 밑줄 친 '이 제국'에 대한 설명으로 옳은 것은?

무라트 1세는 이 제국에 예니체리라는 새로운 부대를 편성하였다. 예니체리는 처음에는 전쟁 포로나 노예 등으로 충원되었으나, 데브시르메 제도 도입 후 정복지의 크리스티교도 청소년 등을 차출하여 구성되었다. 이들은 결혼하거나 상업에 종사하는 것이 금지되었지만 높은 봉급을 받고 고위직으로 올라가는 기회를 얻기도 하였다.

- ① 은허 유적을 남겼다.
- ② 카스트제를 만들었다.
- ③ 조로아스터교를 국교로 삼았다.
- ④ 콘스탄티노폴리스를 정복하였다.
- ⑤ 알렉산드로스의 침공으로 멸망하였다.

18. (가)에 들어갈 내용으로 가장 적절한 것은? [3점]

탐구 활동 보고서

주제: (가)

1. 배경
 - 문치주의 정책으로 인한 국방력 약화
 - 세폐 제공 등으로 인한 재정 지출 증가
2. 내용
 - 부국책: 청묘법, 시역법, 모역법, 균수법 실시
 - 강병책: 보갑법, 보마법 실시
3. 경과
 - 대지주·대상인층의 반대
 - 구법당의 반대로 당쟁 심화

- ① 다이카 개선 ② 상앙의 변법
- ③ 왕망의 정책 ④ 왕안석의 신법
- ⑤ 장거정의 개혁

19. (가)에 들어갈 내용으로 적절하지 않은 것은? [3점]

교사 확인 평가

수업 활동지

2학년 ○반 ○○○

◦ 주제 : 남북조 시대 파악하기
 ◦ 활동 1 : 지도에서 빗금으로 표시된 국가의 역사에 대해 정리해 봅시다.



- 요문제 때 뤼양으로 천도
- (가)
- 동위, 서위로 분열

- ① 한화 정책을 시행
- ② 과거제에 전시를 도입
- ③ 5호 16국의 분열 수습
- ④ 원강 석굴 사원을 축조
- ⑤ 토지 제도로 균전제 실시

20. (가) 황제에 대한 설명으로 옳은 것은?

학습 주제 : ○ 왕조의 황제들

우리 모듬은 (가)에 대하여 이야기해 보자.

타이완의 정씨 세력을 제압하여 지배력을 강화하였어.

러시아와 네르친스크 조약을 체결해 국경을 안정시켰어.



- ① 건당사를 폐지하였다.
- ② 군기처를 설치하였다.
- ③ 자금성을 건설하였다.
- ④ 삼번의 난을 진압하였다.
- ⑤ 고구려 원정을 단행하였다.

* 확인 사항

◦ 답안지의 해당란에 필요한 내용을 정확히 기입(표기)했는지 확인 하시오.

제 4 교시

사회탐구 영역 (경제)

성명 수험 번호 2 제 [] 선택

1. 표는 경제 활동의 사례 ㉠ ~ ㉣을 경제 활동의 유형과 객체에 따라 구분한 것이다. 이에 대한 설명으로 옳은 것은?

구분		경제 활동의 유형	
		소비	생산
경제 활동의 객체	재화	㉠	㉡
	서비스	㉢	㉣

- ① 학생이 책가방을 구입하는 것은 ㉠에 해당한다.
- ② 의사가 환자에게 약을 처방하는 것은 ㉡에 해당한다.
- ③ 강사가 유료 인터넷 강의를 제작하는 것은 ㉢에 해당한다.
- ④ 관객들이 극장에서 영화를 관람하는 것은 ㉣에 해당한다.
- ⑤ ㉠ ~ ㉣은 모두 부가 가치를 창출하는 경제 활동의 사례이다.

2. 그림은 신문 기사的一部分이다. 이를 통해 알 수 있는 정부의 경제적 역할로 가장 적절한 것은?

□□신문 2023년 ○○월 ○○일

정부는 교통 인프라가 제대로 갖추어지지 않은 5개 지역의 도로망을 새로 구축하고 정부 차원에서 관리하겠다고 밝혔다. 이를 통해 정부는 물류 비용을 절감하고 지역 주민의 불편을 해소할 수 있을 것으로 기대하고 있다.

- ① 정부 활동에 필요한 재원을 조달한다.
- ② 소득 재분배를 통해 불평등을 완화한다.
- ③ 재정 활동을 통해 물가 안정을 유도한다.
- ④ 공정 경쟁 질서 확립을 위해 규칙을 제정한다.
- ⑤ 시장에서 충분히 공급되지 않는 사회 간접 자원을 공급한다.

3. A, B에 대한 옳은 설명만을 <보기>에서 고른 것은? (단, A와 B는 각각 직접세와 간접세 중 하나임.) [3점]

조세는 납세자와 담세자가 일치하는 A와 일치하지 않는 B로 구분할 수 있다. 일반적으로 A에는 과세 대상 금액이 커질수록 세율이 높아지는 누진세율이 적용되고, B에는 과세 대상 금액에 상관없이 세율이 동일한 비례세율이 적용된다.

<보 기>

ㄱ. A는 간접세이다.
 ㄴ. B는 주로 소득이나 재산에 부과된다.
 ㄷ. A는 B에 비해 소득 재분배 효과가 크다.
 ㄹ. B는 A에 비해 조세 부담의 역진성이 크다.

- ① ㄱ, ㄴ ② ㄱ, ㄷ ③ ㄴ, ㄷ ④ ㄴ, ㄹ ⑤ ㄷ, ㄹ

4. 다음 자료에 대한 분석으로 옳은 것은? [3점]

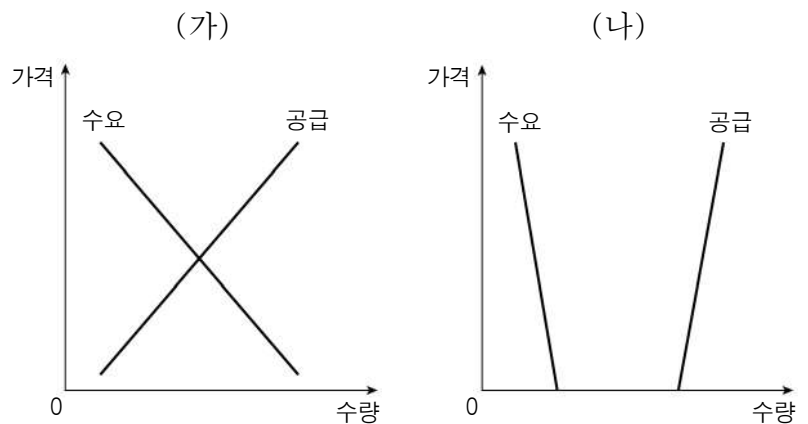
표는 갑이 A재 또는 B재를 선택하는 데 따른 편익과 기회 비용을 나타낸다. 갑은 편익과 기회비용만을 고려하여 A재와 B재 중 하나를 합리적으로 선택하려고 한다.

(단위: 만 원)

구분		A재	B재
편익		240	260
기회 비용	명시적 비용	㉠	100
	(가)	160	140

- ① ㉠은 '120'이다.
- ② (가)는 매몰 비용이다.
- ③ A재 선택의 기회비용은 B재 선택의 기회비용보다 작다.
- ④ A재 가격이 10% 하락하면 A재 선택의 순편익은 양(+)의 값을 갖는다.
- ⑤ B재 가격이 10% 상승하더라도 갑의 선택은 변함이 없다.

5. 그림은 재화 (가), (나)의 수요와 공급 곡선을 나타낸다. 이에 대한 옳은 설명만을 <보기>에서 고른 것은? (단, (가)와 (나)는 각각 무상재와 경제재 중 하나임.)



<보 기>

ㄱ. (가)는 경제재, (나)는 무상재이다.
 ㄴ. (나)는 모든 가격 수준에서 수요량이 공급량보다 많다.
 ㄷ. (나)는 수요가 증가하거나 공급이 감소하는 경우 (가)로 변하기도 한다.
 ㄹ. (가), (나)는 모두 희소성을 갖는다.

- ① ㄱ, ㄴ ② ㄱ, ㄷ ③ ㄴ, ㄷ ④ ㄴ, ㄹ ⑤ ㄷ, ㄹ

경제

6. 밑줄 친 ㉠, ㉡에 대한 설명으로 옳은 것은?

갑국 정부는 일회용 컵 보증금제를 도입하였다. 이 제도는 커피 전문점 등에서 일회용 컵에 음료를 주문하는 사람에게 ㉠ 보증금을 부과하여 일회용 컵 사용을 줄이고, 사용한 일회용 컵을 반납하면 ㉡ 보증금을 환급하여 일회용 컵 회수율을 높이는 것을 목적으로 한다.

- ① ㉠은 일회용 컵 사용자의 비용을 증가시키는 요인이다.
- ② ㉡은 사용한 일회용 컵 반납에 대한 부정적 유인이다.
- ③ ㉠은 ㉡과 달리 편익이나 비용에 변화를 주어 경제 주체가 특정 방식으로 행동하도록 하는 요인이다.
- ④ 성적이 우수한 학생에게 장학금을 지급하는 것은 ㉠과 같은 유형의 경제적 유인에 해당한다.
- ⑤ 제한 속도를 위반한 운전자에게 범칙금을 부과하는 것은 ㉡과 같은 유형의 경제적 유인에 해당한다.

7. 표는 질문에 따라 국민 경제 주체를 구분한 것이다. 이에 대한 설명으로 옳은 것은? (단, A ~ C는 각각 가계, 기업, 정부 중 하나임.) [3점]

질문	경제 주체	A	B	C
재정 활동의 주체입니까?	㉠	아니요	예	예
이윤 극대화를 목적으로 합니까?	㉡	아니요	아니요	㉢
(가)		아니요	예	아니요

- ① ㉠, ㉡은 '예', ㉢은 '아니요'이다.
- ② A는 생산물 시장에서 수요자이다.
- ③ B는 생산 요소 시장에서 공급자이다.
- ④ C는 효용 극대화를 추구하는 경제 주체이다.
- ⑤ (가)에는 '민간 부문의 경제 주체입니까?'가 들어갈 수 있다.

8. (가) ~ (다)에 나타나는 기본적인 경제 문제에 대한 설명으로 옳은 것은? [3점]

(가) A 기업은 매출을 늘리기 위해 신제품을 개발할지 기존 인기 제품 생산에 주력할지 고민하고 있다.
 (나) B 기업은 일손 부족 문제 해결을 위해 자동화 설비를 확충할지 인력을 더 고용할지 고민하고 있다.
 (다) C 기업은 직원들의 연봉을 책정할 때 경력을 기준으로 할지 실적을 기준으로 할지 고민하고 있다.

- ① (가)에는 '어떻게 생산할 것인가'를 결정하는 문제가 나타난다.
- ② (나)에는 '무엇을 얼마나 생산할 것인가'를 결정하는 문제가 나타난다.
- ③ (다)에는 '누구에게 어떻게 분배할 것인가'를 결정하는 문제가 나타난다.
- ④ (가)는 (나), (다)와 달리 자원의 희소성으로 인해 발생한다.
- ⑤ (가) ~ (다)는 모두 효율성이 아닌 형평성을 고려해서 해결해야 하는 문제이다.

9. 그림은 경제 수행평가 활동지의 일부이다. 이에 대한 설명으로 옳은 것은? (단, A와 B는 각각 계획 경제 체제와 시장 경제 체제 중 하나임.)

경제 수행평가 활동지 점수 40 / 40

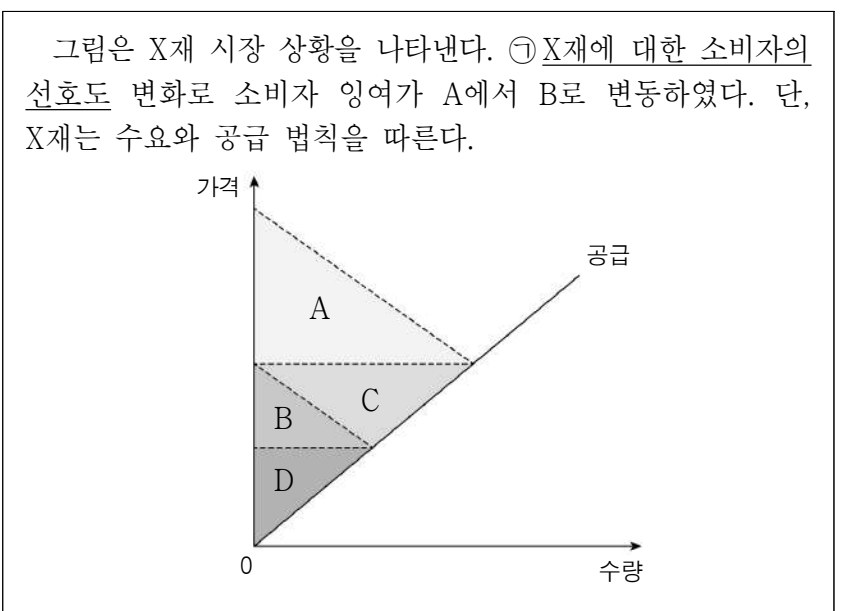
이름: ○○○

● 경제 체제 A, B의 특징을 각각 2개씩만 서술하시오. (특징 1개당 10점, 총 40점)

경제 체제	특징
A	<ul style="list-style-type: none"> • 정부의 명령과 통제에 의해 경제 문제를 해결한다, • _____ ㉠ _____
B	<ul style="list-style-type: none"> • 시장 원리에 의해 경제 문제를 해결한다, • _____ ㉡ _____

- ① A는 시장 경제 체제, B는 계획 경제 체제이다.
- ② A에서는 '보이지 않는 손'에 의한 자원 배분을 강조한다.
- ③ B에서는 A보다 개인의 이윤 추구 동기가 강하게 나타난다.
- ④ ㉠에는 '경제 주체 간 자유로운 경쟁을 강조한다.'가 들어갈 수 있다.
- ⑤ ㉡에는 '생산 수단의 사적 소유를 인정하지 않는다.'가 들어갈 수 있다.

10. 다음 자료에 대한 옳은 분석만을 <보기>에서 고른 것은? [3점]



<보 기>

- ㄱ. ㉠은 증가하였다.
- ㄴ. 균형 가격이 하락하였고 균형 거래량은 감소하였다.
- ㄷ. 생산자 잉여는 C만큼 감소하였다.
- ㄹ. 총잉여는 A+C만큼 감소하였다.

- ① ㄱ, ㄴ ② ㄱ, ㄷ ③ ㄴ, ㄷ ④ ㄴ, ㄹ ⑤ ㄷ, ㄹ

11. 다음 자료에 대한 옳은 분석만을 <보기>에서 고른 것은? [3점]

표는 갑 기업의 X재 생산량에 따른 총수입과 총비용을 나타낸다. 갑 기업은 X재를 5개까지 생산할 수 있고, 생산된 X재는 모두 판매된다.

생산량(개)	1	2	3	4	5
총수입(만 원)	5	10	15	20	25
총비용(만 원)	2	4	8	14	22

* 평균 비용 = 총비용 / 생산량

<보 기>

ㄱ. X재의 가격은 5만 원이다.
 ㄴ. X재 생산량이 3개일 때 이윤은 최대가 된다.
 ㄷ. X재 생산량이 증가할수록 평균 비용은 지속적으로 감소한다.
 ㄹ. X재 생산량을 3개에서 4개로 늘릴 때 추가적으로 얻는 수입이 추가적으로 발생하는 비용보다 크다.

- ① ㄱ, ㄴ ② ㄱ, ㄷ ③ ㄴ, ㄷ ④ ㄴ, ㄹ ⑤ ㄷ, ㄹ

12. 다음 자료에 대한 분석으로 옳은 것은? [3점]

- B, C재는 각각 A재의 연관재이며, B재와 C재는 독립재이다.
- A~C재는 모두 수요와 공급 법칙을 따르며, A재의 수요와 B, C재의 공급은 변동이 없다.
- 그림은 A재의 가격 변화에 따른 B, C재의 판매 수입 변화를 나타낸다.

- ① B재는 A재의 대체재이다.
 ② A재의 가격이 하락하면 B재의 수요는 감소한다.
 ③ A재의 생산비가 상승하면 B재의 판매 수입은 증가한다.
 ④ A재의 공급자 수가 감소하면 C재의 가격은 상승한다.
 ⑤ A재의 공급이 증가하면 C재의 균형 거래량은 증가한다.

13. 교사의 질문에 대한 학생의 답변으로 옳은 것은?

<X재 공급량의 변동과 공급의 변동>

㉠과 ㉡이 나타나는 원인에 대해 설명해 볼까요?

- ① ㉠의 원인으로 X재 가격의 하락을 들 수 있습니다.
 ② ㉠의 원인으로 X재 생산 기술의 발전을 들 수 있습니다.
 ③ ㉡의 원인으로 X재 공급자 수의 증가를 들 수 있습니다.
 ④ ㉡의 원인으로 X재 공급자의 미래 가격 상승 예상을 들 수 있습니다.
 ⑤ ㉡의 원인으로 X재 생산에 지급되는 정부 보조금의 감소를 들 수 있습니다.

14. 밑줄 친 ㉠, ㉡에 대한 옳은 설명만을 <보기>에서 고른 것은?

갑국 정부가 발표한 경제 성장률 전망치가 예상을 밑돌면서 경기 침체에 대한 국민들의 우려가 커지고 있다. 이에 갑국에서는 ㉠ 기업들의 은행 대출을 통한 신규 투자 감소와 ㉡ 가계의 저축 증대가 나타나고 있다.

<보 기>

ㄱ. ㉠은 자금 수요가 감소하는 요인이다.
 ㄴ. ㉠은 균형 이자율이 상승하는 요인이다.
 ㄷ. ㉡은 자금 공급이 증가하는 요인이다.
 ㄹ. ㉡은 자금 거래량이 감소하는 요인이다.

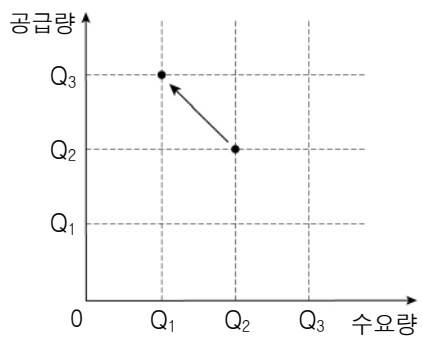
- ① ㄱ, ㄴ ② ㄱ, ㄷ ③ ㄴ, ㄷ ④ ㄴ, ㄹ ⑤ ㄷ, ㄹ

15. 다음에 나타난 시장 실패의 원인으로 가장 적절한 것은?

시장에서 거래 당사자들이 가진 정보의 양이 서로 다를 경우, 상대적으로 정보가 부족한 당사자는 자신에게 불리한 선택을 하는 경향이 있고 상대적으로 정보가 많은 당사자는 자신의 이익만을 위해 행동하는 경향이 있다. 이처럼 거래 당사자들이 가진 정보의 양이 서로 다를 경우 시장의 자원 배분 기능이 왜곡될 수 있다.

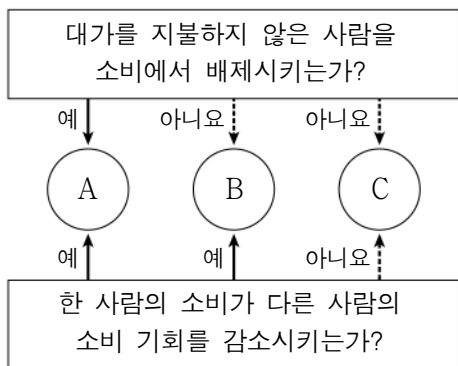
- ① 소비의 비배제성 ② 정보의 비대칭성
 ③ 시장의 진입 장벽 ④ 판매자 간 가격 담합
 ⑤ 생산 측면의 외부 효과

16. 그림은 정부의 가격 규제로 인한 X재 시장 상황의 변화를 나타낸다. 이에 대한 분석으로 옳은 것은? (단, X재는 수요와 공급 법칙을 따름.) [3점]



- ① 최고 가격제가 시행되었다.
- ② 소비자 보호를 위한 가격 규제이다.
- ③ 가격 규제 이후 시장 거래량은 Q₁이다.
- ④ 가격 규제 이후 총잉여는 변함이 없다.
- ⑤ 가격 규제 이후 Q₁Q₃만큼의 초과 수요가 발생하였다.

17. 그림은 재화의 유형 A ~ C를 질문에 따라 구분한 것이다. 이에 대한 설명으로 옳은 것은? (단, A ~ C는 각각 희소성이 있는 재화임.)



- ① A는 공공재이다.
- ② 국방 서비스는 B에 해당한다.
- ③ 공해상의 어족 자원은 C에 해당한다.
- ④ A는 B와 달리 무임승차자 문제가 발생할 수 있다.
- ⑤ B는 C에 비해 남용으로 인한 고갈 문제가 발생할 가능성이 높다.

18. (가), (나)에 대한 분석 및 추론으로 가장 적절한 것은?

(가) 갑국 정부는 가격을 담합한 기업들에 대해 과징금을 부과하는 등의 노력을 통해 공정한 경쟁 질서를 확립하였다.
 (나) 을국 정부는 기업이 신규 사업에 진출할 때 거쳐야 할 행정 절차를 복잡하게 규정하여 기업의 경쟁력이 약화되는 결과를 초래하였다.

- ① (가)는 정부 실패를 개선한 사례이다.
- ② (가)를 통해 정부의 개입은 시장 구조를 왜곡시킬 수 있음을 알 수 있다.
- ③ (나)는 정부의 과도한 규제로 인한 정부 실패의 사례이다.
- ④ (나)를 통해 시장 기구보다 정부의 개입을 통한 자원 배분이 효율적임을 알 수 있다.
- ⑤ (가), (나)를 통해 '작은 정부'가 최선의 정부임을 알 수 있다.

19. 표는 X재 시장의 가격별 공급량과 초과 수요량을 나타낸다. 이에 대한 옳은 분석만을 <보기>에서 고른 것은? (단, X재는 수요와 공급 법칙을 따름.) [3점]

가격(원)	100	200	300	400	500
공급량(개)	80	90	100	110	120
초과 수요량(개)	40	20	0	-20	-40

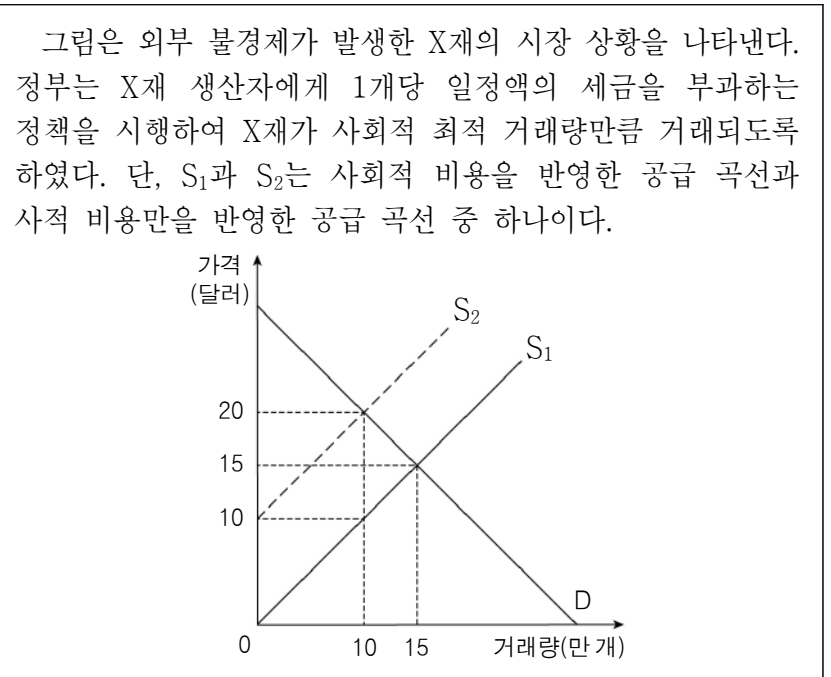
* 초과 수요량 = 수요량 - 공급량

<보 기>

ㄱ. 균형 가격은 300원이다.
 ㄴ. 가격이 200원일 때 가격 상승 압력이 발생한다.
 ㄷ. 초과 공급량은 가격이 500원일 때 가장 적다.
 ㄹ. 모든 가격 수준에서 수요량이 10개씩 감소하고 공급량이 10개씩 증가하면, 균형 가격은 400원이 된다.

- ① ㄱ, ㄴ ② ㄱ, ㄷ ③ ㄴ, ㄷ ④ ㄴ, ㄹ ⑤ ㄷ, ㄹ

20. 다음 자료에 대한 분석으로 옳은 것은? [3점]



- ① 소비 측면에서 외부 효과가 발생하였다.
- ② 사회적 최적 거래량은 15만 개이다.
- ③ X재 1개당 5달러의 세금이 부과되었다.
- ④ 정책 시행 후 X재 가격은 5달러 상승하였다.
- ⑤ 정책 시행 후 X재 판매 수입은 25만 달러 증가하였다.

* 확인 사항

○ 답안지의 해당란에 필요한 내용을 정확히 기입(표기)했는지 확인 하시오.

제 4 교시

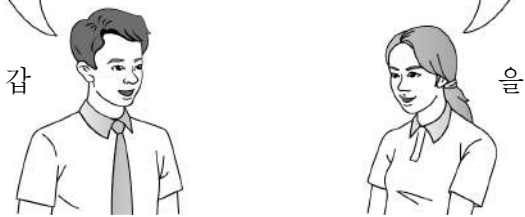
사회탐구 영역 (정치와법)

성명 수험 번호 2 제 [] 선택

1. 정치를 바라보는 갑, 을의 관점에 대한 설명으로 옳은 것은?

정부가 일회용품 사용을 줄이기 위한 정책을 결정하는 것처럼 정치권력을 획득하고 유지·행사하는 과정과 관련된 국가 고유의 활동만을 정치라고 볼 수 있어.

아니야. 가족회의에서 일회용품 사용을 줄이기 위한 방안을 결정하는 것도 정치라고 볼 수 있어. 정치는 모든 사회 집단에서 갈등을 조정하고 해결해 나가는 활동이기 때문이야.



- ① 갑의 관점은 국가 형성 이전에 나타난 정치 현상을 설명하기에 용이하다.
- ② 을의 관점은 다른 사회 집단의 활동과 구별되는 국가 활동의 특수성을 강조한다.
- ③ 갑의 관점은 을의 관점에 비해 정치 과정에 참여하는 주체가 다양하다고 본다.
- ④ 을의 관점은 갑의 관점에 비해 복잡하고 다원화된 현대 사회의 정치 현상을 설명하기에 적합하다.
- ⑤ 갑, 을의 관점 모두 시민 단체 내의 의사 결정 과정을 정치라고 본다.

2. 우리나라 헌법의 기본 원리 A에 대한 설명으로 가장 적절한 것은?

제1, 2차 세계 대전에 대한 반성으로 각국은 국제 사회의 공존과 번영을 위한 방안을 헌법에 규정하였다. 독일은 침략적 전쟁의 부인을, 스페인과 네덜란드는 국제 분쟁의 평화적 해결을 헌법에 규정하였다. 우리나라도 국제법의 존중, 상호주의 원칙에 따른 외국인의 지위 보장 등을 규정하여 A를 구현하고자 하였다.

- ① 국가가 국제 질서를 존중하고 평화를 추구하여야 한다는 원리이다.
- ② 국가의 의사를 결정할 수 있는 최고 권력인 주권이 국민에게 있다는 원리이다.
- ③ 국가가 국민의 자율적인 문화 활동을 보장하고 문화를 보호·지원해야 한다는 원리이다.
- ④ 국가가 국민의 인간다운 생활을 보장하기 위하여 적극적인 역할을 해야 한다는 원리이다.
- ⑤ 국가는 개인의 자유를 중시하며 국민의 동의와 지지를 바탕으로 국가 권력을 행사해야 한다는 원리이다.

3. 갑국, 을국의 정부 형태에 대한 설명으로 옳은 것은? (단, 갑국, 을국의 정부 형태는 각각 전형적인 대통령제와 의원 내각제 중 하나임.) [3점]

○ 갑국에서는 의회가 국민이 직접 선출한 행정부 수반에 대해 탄핵 소추안을 의결하였다.
○ 을국에서는 행정부 수반이 의회 해산권을 행사하여 총선거를 통해 의회가 다시 구성되었다.

- ① 갑국의 정부 형태는 권력 융합에 충실한 정부 형태이다.
- ② 을국의 정부 형태는 행정부 수반의 임기가 엄격히 보장된다.
- ③ 갑국과 달리 을국의 정부 형태에서 의회 의원은 각료를 겸직할 수 있다.
- ④ 을국과 달리 갑국의 정부 형태에서 의회는 내각 불신임권을 가진다.
- ⑤ 갑국, 을국의 정부 형태 모두 행정부가 의회에 대해 정치적 책임을 진다.

4. 밑줄 친 ㉠, ㉡이 공통적으로 해당되는 기본권의 유형에 대한 설명으로 옳은 것은?

○ 갑은 출근 시 ○○역 사거리의 교통 혼잡으로 인해 지각을 자주 하였다. 이에 갑은 △△ 지방 자치 단체에 ○○역 사거리의 회전 교차로 설치를 요청하는 ㉠ 청원서를 제출하였다.
○ 을은 폭행 혐의로 구속 상태에서 수사를 받았으나 목격자의 진술이 잘못된 것으로 확인되어 무죄 취지의 불기소 처분을 받았다. 이에 을은 국가를 상대로 자신을 구금한 것에 대한 ㉡ 보상을 청구하였다.

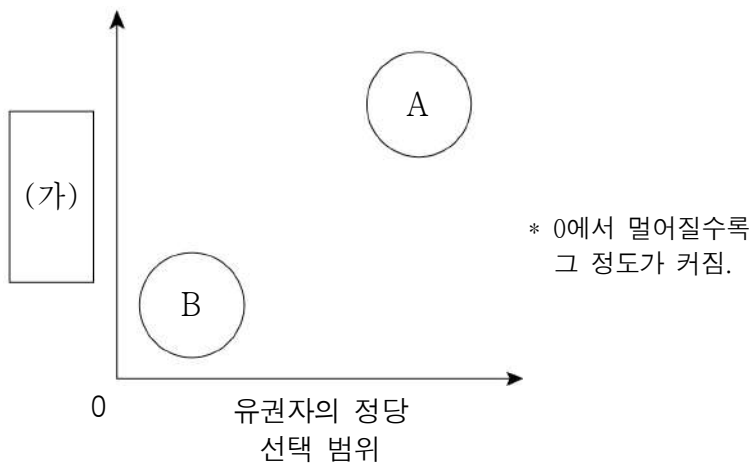
- ① 합리적 이유 없이 차별을 받지 않을 권리이다.
- ② 실질적 평등의 실현을 위해 등장한 현대적 권리이다.
- ③ 국가 권력에 의한 침해 배제를 소극적 권리이다.
- ④ 국가의 정치적 의사 결정에 참여할 수 있는 능동적 권리이다.
- ⑤ 다른 기본권이 침해되었을 때 이를 구제하기 위한 수단적 권리이다.

5. 우리나라 헌법 기관 A~C에 대한 설명으로 옳은 것은? [3점]

A의 장(長)은 헌법에 따라 B에게 갑을 대법관 후보자로 임명 제청하였다. C는 갑의 대법관 임명 동의안 심사를 위한 인사청문회를 개최하고 갑의 대법관 임명 동의안을 의결하였다. 이후 B는 갑을 대법관으로 임명하였다.

- ① A는 위헌 정당 해산 심판권을 가진다.
- ② B는 긴급 재정·경제 처분 및 명령권을 가진다.
- ③ C는 국가의 세입·세출의 결산을 검사한다.
- ④ A는 B의 조약 체결·비준에 대한 동의권을 가진다.
- ⑤ B와 달리 C는 헌법 개정안을 발의할 수 있다.

6. 그림은 정당 제도의 유형 A, B의 일반적 특징을 비교한 것이다. 이에 대한 설명으로 옳은 것은? (단, A, B는 각각 양당제와 다당제 중 하나임.)



- ① A는 B에 비해 강력한 정책 추진에 유리하다.
- ② A는 B에 비해 정책 실패에 대한 책임 소재가 분명하다.
- ③ B는 A에 비해 정당 간 대립 시 중재가 어렵다.
- ④ B는 A에 비해 군소 정당의 난립 가능성이 높다.
- ⑤ (가)에는 '다수당의 횡포가 나타날 가능성'이 들어갈 수 있다.

7. 다음 자료에 대한 분석으로 옳은 것은? [3점]

의사 갑은 환자의 실밥 부위 상태를 직접 확인하지 않고 간호 조무사에게 실밥 제거를 맡겨 의료법 위반 혐의로 기소되었다. ○○ 지방 법원 단독 판사로부터 벌금형을 선고받은 갑은 ① 2심에서도 원심 형이 유지되었다. 이에 갑은 ㉠ 대법원에 소를 제기하였으나 기각되었다.

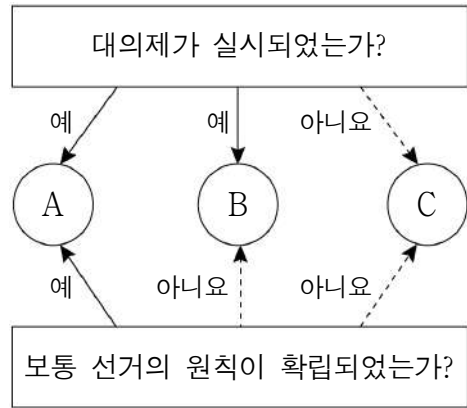
- ① 갑은 민사 재판의 당사자이다.
- ② ①은 고등 법원이 담당하였다.
- ③ 갑은 ①의 판결에 불복하였다.
- ④ ㉠은 갑의 항고 사건을 담당하였다.
- ⑤ 갑은 원칙적으로 ㉠의 판결에 대해 상소할 수 있다.

8. A, B에 해당하는 권한으로 옳은 것은? [3점]

우리나라 헌법은 권력 분립의 원리에 따라 국가 기관 간 상호 견제 수단을 규정하고 있다. 예를 들어 입법부가 행정부를 견제하는 수단으로 A를, 사법부가 행정부를 견제하는 수단으로 B를 들 수 있다. 이러한 상호 견제 수단은 국가 기관의 위헌·위법한 권력 행사를 방지함으로써 국민의 자유와 권리 보장에 기여할 수 있다.

- | | |
|----------------|--------------|
| A | B |
| ① 사면권 | 탄핵 심판권 |
| ② 탄핵 심판권 | 국무총리 임명 동의권 |
| ③ 국정 감사권 | 사면권 |
| ④ 국무총리 임명 동의권 | 명령·규칙·처분 심사권 |
| ⑤ 명령·규칙·처분 심사권 | 국정 감사권 |

9. A~C에 대한 설명으로 옳은 것은? (단, A~C는 각각 고대 아테네 민주 정치, 근대 민주 정치, 현대 민주 정치 중 하나임.)

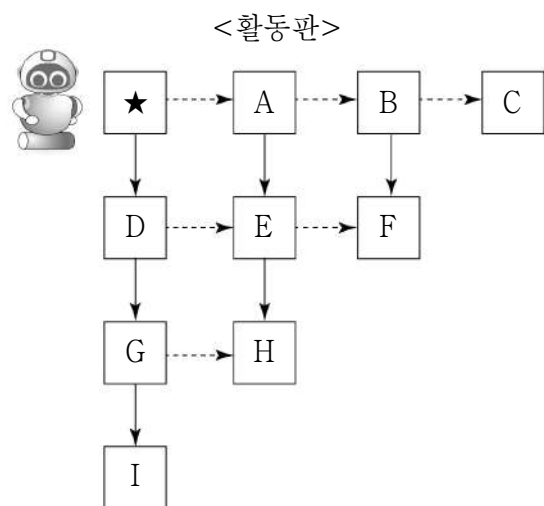


- ① A에서는 추천, 운번제를 통해 공직자를 선출하였다.
- ② B에서는 모든 사회 구성원의 정치 참여가 보장되었다.
- ③ C에서는 천부 인권 사상을 바탕으로 통치가 이루어졌다.
- ④ B와 달리 A는 국민 주권의 원리에 기반한다.
- ⑤ C와 달리 B는 입헌주의 원리를 통한 민주 정치를 지향한다.

10. 다음 자료의 활동 규칙을 따를 때, 로봇의 이동 경로로 옳은 것은? [3점]

[활동 규칙]
 ○ 표의 순서에 따라 우리나라 선거 제도에 대한 각 설명의 진위를 판단한다.
 ○ 해당 설명이 옳으면 실선 화살표(→)를 따라 한 칸을 이동하고, 옳지 않으면 점선 화살표(---→)를 따라 한 칸을 이동한다. 단, <활동판>에서 로봇의 처음 위치는 ★이다.

순서	우리나라 선거 제도에 대한 설명
1	대통령 선거는 4년마다 실시된다.
2	비례 대표 국회 의원 선거는 정당 명부식 비례 대표제를 채택하고 있다.
3	기초 의회 지역구 의원 선거는 중·대선거구제가 적용된다.



- ① A→B→C
- ② A→E→F
- ③ A→E→H
- ④ D→E→H
- ⑤ D→G→I

11. 밑줄 친 ㉠의 실시로 인한 기대 효과로 옳지 않은 것은?

우리나라는 지방 자치 단체의 예산 편성 등 예산 과정에 주민이 참여할 수 있는 절차를 마련하여 운영하는 ㉠ 주민 참여 예산 제도를 실시하고 있다. 이를 통해 주민들은 실시 희망 사업을 제안하거나, 제안된 사업의 우선순위 결정에 의견을 제시하는 등 예산 편성 과정에 직접 참여할 수 있다.

- ① 대의제의 한계가 보완될 것이다.
- ② 주민의 자치 의식이 신장될 것이다.
- ③ 정책 결정의 정당성이 확보될 것이다.
- ④ 예산 편성 과정의 신속성이 확보될 것이다.
- ⑤ 지방 재정 운영의 투명성이 제고될 것이다.

12. 표는 질문에 따라 법치주의의 유형 A, B를 구분한 것이다. 이에 대한 설명으로 옳은 것은? [3점]

구분	A	B
법률이 절차적 합법성뿐만 아니라 실질적 정당성도 갖추어야 함을 강조하는가?	예	아니요
(가)	아니요	예
(나)	예	예

- ① A는 독재를 정당화하는 근거로 악용될 우려가 있다.
- ② B는 통치자를 제외한 모든 사람이 법에 구속되어야 한다고 본다.
- ③ B와 달리 A는 국가 권력의 자의적인 행사를 경계한다.
- ④ (가)에는 '위헌 법률 심사제의 필요성을 강조하는가?'가 들어갈 수 있다.
- ⑤ (나)에는 '국민의 기본권을 제한할 때 법적 근거를 강조하는가?'가 들어갈 수 있다.

13. 밑줄 친 ㉠~㉣에 대한 설명으로 옳은 것은? [3점]

㉠○○도 고독사 예방 및 사회적 고립 가구 지원 조례
 제1조(목적) 이 ㉡조례는 「고독사 예방 및 관리에 관한 법률」에 따라 소외·단절된 가구의 사회적 고립 및 고독사 예방을 위하여 필요한 사항을 규정함으로써 도민 삶의 질 향상을 목적으로 한다.
 ... (중략) ...
 제8조(협력체계 구축) ㉢도지사는 고독사 예방 및 사회적 고립 가구 지원에 관한 사업을 체계적으로 추진하기 위하여 ㉣시·군, 관련 기관 및 단체 등과 유기적인 협력체계를 구축하여야 한다.

- ① ㉠은 기초 자치 단체, ㉣은 광역 자치 단체이다.
- ② ㉠ 의회는 지방 자치 단체를 대표하고 지방 행정 사무를 총괄한다.
- ③ ㉠의 주민에게는 ㉡의 개정 및 폐지 청구권이 인정되지 않는다.
- ④ ㉢은 ㉠ 의회가 편성한 예산을 심의하고 확정하는 권한을 가진다.
- ⑤ ㉢은 ㉡의 범위에서 ㉠의 사무에 관한 규칙을 제정할 수 있다.

14. (가)에 들어갈 수 있는 옳은 내용만을 <보기>에서 있는 대로 고른 것은?

교사: 우리나라의 정부 형태에 대해 말해 볼까요?
 갑: 우리나라는 기본적으로 대통령제를 채택하고 있습니다.
 을: 하지만 (가) 는 것을 통해 의원 내각제 요소도 가지고 있다는 것을 알 수 있습니다.
 교사: 두 학생 모두 옳게 대답했네요.

— <보 기> —
 ㄱ. 국무총리 제도를 두고 있다
 ㄴ. 행정부는 법률안을 제출할 수 있다
 ㄷ. 국회는 국무 위원의 해임을 건의할 수 있다
 ㄹ. 행정부 수반이 국가 원수의 지위를 동시에 가진다

- ① ㄱ, ㄴ ② ㄱ, ㄹ ③ ㄷ, ㄹ
- ④ ㄱ, ㄴ, ㄷ ⑤ ㄴ, ㄷ, ㄹ

15. 다음 사례에 대한 분석으로 옳은 것은? [3점]

갑은 안경사가 아닌 자의 안경업소 개설을 금지하고 이를 어길 시 처벌하도록 규정한 △△법을 위반하였다는 이유로 기소되어 유죄 판결을 받아 항소하였다. 갑은 항소심 계속 중 해당 법률 조항들이 직업의 자유를 침해한다며 ○○ 법원에 위헌 법률 심판 제청 신청을 하였고, ○○ 법원은 헌법 재판소에 위헌 법률 심판을 제청하였다. 이에 헌법 재판소는 해당 법률 조항들이 과잉 금지의 원칙에 위반되지 않는다고 결정하였다.

- ① 갑이 침해당했다고 주장하는 기본권은 적극적 성격의 권리이다.
- ② ○○ 법원은 해당 법률 조항들이 헌법에 위반된다고 판단하였다.
- ③ 헌법 재판소는 해당 법률 조항들에 대해 위헌 심사형 헌법 소원 심판을 하였다.
- ④ 헌법 재판소는 해당 법률 조항들이 목적의 정당성을 충족하지 못한다고 판단하였다.
- ⑤ 헌법 재판소의 결정으로 인해 안경사가 아닌 자의 안경업소 개설이 가능해졌다.

16. 밑줄 친 ㉠~㉣에 대한 옳은 설명만을 <보기>에서 고른 것은? [3점]



찬반 여론이 팽팽했던 ㉠〇〇법 개정안이 국회 소관 ㉡상임 위원회의 심사를 거쳐 오늘 ㉢본회의를 통과하였습니다. 이에 ㉣대통령의 법률안 거부권 행사 여부에 대한 국민들의 관심이 높아지고 있습니다.

<보 기>

- ㄱ. ㉡은 국회의 효율적인 의사 진행을 위해 운영된다.
- ㄴ. ㉢에서 ㉠이 통과되기 위해서는 국회 재적 의원 과반수의 출석과 출석 의원 과반수의 찬성이 필요하다.
- ㄷ. ㉢에서 ㉠이 통과된 후 국민 투표를 거쳐야 법률로 확정된다.
- ㄹ. ㉣로 인해 ㉠은 즉시 폐기된다.

- ① ㄱ, ㄴ ② ㄱ, ㄷ ③ ㄴ, ㄷ ④ ㄴ, ㄹ ⑤ ㄷ, ㄹ

17. 밑줄 친 ㉠~㉣에 대한 설명으로 옳은 것은?

갑국에서는 출산율이 역대 최저를 기록했다는 ㉠언론의 보도가 나간 후, 저출산 극복을 위한 ㉡시민 단체의 캠페인과 함께 ㉢저출산 관련 정책 수립을 촉구하는 대규모 집회가 열리는 등 저출산 대책에 대한 국민들의 요구가 커졌다. 이에 정부는 국민들이 ㉣온라인 소통 플랫폼을 통해 제안한 다양한 의견을 반영하여 ㉤저출산 대책을 수립하였다.

- ① ㉠은 정책 결정 기구에 해당한다.
- ② ㉡은 정치 과정에서 산출에 해당한다.
- ③ ㉠과 달리 ㉡은 여론을 형성하는 기능을 한다.
- ④ ㉢과 달리 ㉣은 정치 참여 주체의 정치적 효능감 향상에 기여할 수 있다.
- ⑤ ㉤과 달리 ㉣은 정치 참여의 시·공간적 제약을 완화할 수 있는 방법이다.

18. 정치 참여 집단 A~C의 일반적 특징에 대한 설명으로 옳은 것은? (단, A~C는 각각 정당, 이익 집단, 시민 단체 중 하나임.)

- '특수 이익보다 공익의 실현을 중시하는가?'라는 질문으로 A와 B를 구분할 수 없다.
- '공직 선거에 후보자를 공천하는가?'라는 질문으로 A와 C를 구분할 수 있다.

- ① A는 정부와 의회를 매개하는 역할을 한다.
- ② B는 자신들의 활동에 대해 정치적 책임을 진다.
- ③ A와 달리 B는 정치 사회화 기능을 수행한다.
- ④ B와 달리 C는 정권 획득을 목적으로 한다.
- ⑤ C와 달리 A는 정부 정책에 대한 감시와 비판의 기능을 수행한다.

19. A, B에 해당하는 민주 선거의 원칙으로 옳은 것은?

- 갑국은 의회 의원 선거에서 원주민 유권자에게는 2표를, 이주민 유권자에게는 1표를 부여하였다. 이는 유권자에게 표를 달리 부여하여 유권자의 투표 가치에 차이가 발생한 것이므로 A에 어긋난다.
- 을국은 의회 의원 선거에서 일정 금액 이상의 세금을 납부한 국민에게만 선거권을 부여하였다. 이는 일정 금액 이상의 세금을 납부할 능력이 없는 국민의 선거권을 제한한 것이므로 B에 어긋난다.

- | | | | | | |
|---|-------|-------|---|-------|-------|
| | A | B | | A | B |
| ① | 보통 선거 | 평등 선거 | ② | 보통 선거 | 직접 선거 |
| ③ | 평등 선거 | 보통 선거 | ④ | 평등 선거 | 직접 선거 |
| ⑤ | 직접 선거 | 보통 선거 | | | |

20. 다음 자료에 대한 분석으로 옳은 것은? [3점]

갑국 의회는 지역구 의원 10명, 비례 대표 의원 10명으로 구성된다. 유권자는 지역구 의원 선출을 위해 후보자에 1표, 비례 대표 의원 선출을 위해 정당에 1표를 행사한다. 지역구 의원 선거에서는 각 선거구에서 득표순으로 2명이 선출되며, 각 정당은 선거구별로 1명의 후보자만 공천한다. 비례 대표 의원 선거에서는 전국을 하나의 선거구로 하여 정당 투표를 실시하고 각 정당이 얻은 득표율에 비례하여 각 정당의 의석을 배분한다. 표는 최근 갑국 의회 의원 선거 결과를 나타낸다. 단, 정당은 A~D당만 존재하고 무소속 후보자는 없으며, 투표율은 100%이고 무효표는 없다.

< 지역구 의원 선거 결과 >

(단위: 표)

구분	A당	B당	C당	D당
선거구 1	50	35	10	5
선거구 2	35	40	10	15
선거구 3	30	35	15	20
선거구 4	30	15	50	5
선거구 5	55	25	15	5

< 비례 대표 의원 선거 결과 >

(단위: %)

구분	A당	B당	C당	D당
정당별 득표율	40	30	10	20

- ① 지역구 의원 선거구 제도는 소선거구제이다.
- ② 지역구 의원 선거에서 사표가 가장 많이 발생한 정당은 A당이다.
- ③ B당은 지역구 의석률이 비례 대표 의석률에 비해 낮다.
- ④ C당은 지역구 득표율이 지역구 의석률에 비해 높다.
- ⑤ D당은 C당에 비해 총의석률이 높다.

* 확인 사항

- 답안지의 해당란에 필요한 내용을 정확히 기입(표기)했는지 확인하십시오.

제 4 교시

사회탐구 영역 (사회·문화)

성명 수험 번호 2 제 [] 선택

1. 밑줄 친 ㉠ ~ ㉣과 같은 현상의 일반적인 특징에 대한 설명으로 옳은 것은?


멀티태스킹이란 한 번에 두 가지 이상의 일을 동시에 처리하는 것을 의미한다. 멀티태스킹을 자주, 오래 할수록 ㉠ 뇌 회백질 밀도가 낮아진다는 ㉡ 연구 결과가 발표되었다. 뇌 회백질은 인지 기능과 감정 조절 기능을 담당하는데, 그 밀도가 낮아지면 인지 능력과 감정 조절 능력이 떨어진다. 전문가들은 이를 방지하기 위해 ㉢ 한 번에 한 가지 일에만 집중할 것을 권장하고 있다.

- ① ㉠과 같은 현상은 확률의 원리가 적용된다.
- ② ㉡과 같은 현상은 존재 법칙이 적용된다.
- ③ ㉢과 같은 현상은 몰가치성을 지닌다.
- ④ ㉠과 같은 현상은 ㉡과 같은 현상에 비해 인과 관계가 분명하다.
- ⑤ ㉢과 같은 현상은 ㉠과 같은 현상과 달리 보편성이 나타난다.

2. 일탈 이론 A, B에 대한 설명으로 옳은 것은? (단, A, B는 각각 머튼의 아노미 이론, 차별 교제 이론 중 하나임.) [3점]

< 수업용 읽기 자료 >

- 물질적 성공에 대한 포부가 큰 갑은 자신의 예금에 은행 대출금을 더해 주식에 투자하였다. 그런데 주가가 폭락하고 금리도 오르면서 대출 이자조차 갚지 못할 처지에 놓이게 되자 좌절하였다. 이후 갑은 친구들을 상대로 사기 행각을 벌였다.
- 평범한 직장인이었던 을은 사기 전과자들과 어울리게 되면서 문서를 위조하거나 신분을 도용하는 기술을 익히고 사기를 통해 얻게 되는 이익에 큰 관심을 가지게 되었다. 이후 을은 대도시로 이주하여 사기 행각을 벌였다.

교사  제시된 사례에서 갑의 일탈 행동은 A를 통해 설명할 수 있고, 을의 일탈 행동은 B를 통해 설명할 수 있습니다.

- ① A는 문화적 목표와 제도화된 수단 간의 괴리로 인해 일탈이 발생한다고 본다.
- ② A는 일탈 행동을 예방하기 위한 방법으로 일탈 집단과의 접촉 차단을 강조한다.
- ③ B는 특정 행위에 대한 차별적 제재로 인해 일탈이 발생한다고 본다.
- ④ A는 B와 달리 일탈 행동이 발생하는 과정에서 나타나는 상호 작용에 주목한다.
- ⑤ B는 A와 달리 일탈을 규정하는 객관적 기준이 존재한다고 본다.

3. 다음 자료에 대한 옳은 설명만을 <보기>에서 고른 것은? (단, A, B는 각각 사회 실재론, 사회 명목론 중 하나임.)

< 형성 평가지 >

이름 : ○○○

문제 : 개인과 사회의 관계를 바라보는 관점에 대한 설명이 옳으면 ○, 옳지 않으면 ×로 답란에 표시하십시오.

설명	답란	점수
A는 사회가 개인의 권리 보장을 위한 수단이라고 본다.	○	/점
B는 사회 규범의 구속성보다 개인의 능동성을 중시한다.	×	/점
B는 개인이 사회 속에서만 존재 의미를 가진다고 본다.	○	①
(가)	○	/점


* 답란별로 채점하며, 맞으면 1점, 틀리면 0점임.


< 보 기 >


ㄱ. A는 사회가 개인의 외부에 존재하는 객관적 실체라고 본다.
 ㄴ. B는 개인의 행동이 사회에 의해 구조화된다고 본다.
 ㄷ. ㉠은 '0점'이다.
 ㄹ. (가)에는 'A는 사회 문제 해결을 위해 제도 개혁보다 의식 개선을 강조한다.'가 들어갈 수 있다.

- ① ㄱ, ㄴ ② ㄱ, ㄷ ③ ㄴ, ㄷ ④ ㄴ, ㄹ ⑤ ㄷ, ㄹ

4. 사회·문화 현상을 바라보는 갑, 을의 관점에 대한 설명으로 옳은 것은? [3점]

사회자  최근 출산율이 낮아지고 있는 이유가 무엇이라고 생각하십니까?

갑  출산에 대해 긍정적인 의미보다 부정적인 의미를 부여하는 젊은 세대가 증가하고 있기 때문입니다.

을  기성 세대에 유리한 분배 구조로 인해 출산에 필요한 경제적 여건을 마련할 수 없는 젊은 세대가 증가하고 있기 때문입니다.

- ① 갑의 관점은 사회가 본질적으로 조화와 균형을 이루고 있다고 본다.
- ② 을의 관점은 집단 간의 대립과 갈등을 사회의 필연적 속성으로 파악한다.
- ③ 갑의 관점은 을의 관점과 달리 지배 계급의 이익을 대변하는 논리라는 비판을 받는다.
- ④ 을의 관점은 갑의 관점과 달리 상황 정의에 기초한 개인 간의 상호 작용을 중시한다.
- ⑤ 갑, 을의 관점은 모두 사회 제도나 사회 구조에 초점을 두고 사회·문화 현상을 설명한다.

[5~6] 다음 자료를 보고 물음에 답하시오.

연구자 갑은 자신이 개발한 재난 대응 훈련 프로그램의 효과를 검증하기 위해 '㉠ 재난 대응 훈련 프로그램이 청소년의 ㉡ 재난 대응 능력을 향상시킬 것이다.'라는 가설을 설정하고 연구를 진행하였다. 갑은 ㉢ ○○고등학교 학생 100명을 무작위로 선정하여 각각 50명씩 A, B 집단으로 나누고 ㉣ 재난 대응 능력 지수를 측정하였다. 8주간 ㉤ A 집단은 재난 대응 훈련 프로그램을 적용하고, ㉥ B 집단은 평소와 같이 생활하도록 하였다. 이후 두 집단을 대상으로 재난 대응 능력 지수를 측정하였고, ㉦ 수집한 자료를 분석한 결과는 아래 표와 같다.

< 재난 대응 능력 지수 > (단위: 점)

구분	A 집단	B 집단
사전 검사	70	70
사후 검사	85	71

* 표의 값은 100점 만점을 기준으로 한 해당 집단의 평균값이며, 지수가 높을수록 그 정도가 높거나 큼.
** 분석 결과는 통계적으로 유의미함.

5. 밑줄 친 ㉠~㉦에 대한 설명으로 옳은 것은? [3점]

- ① ㉠은 종속 변인, ㉡은 독립 변인이다.
- ② ㉢은 갑의 연구에서 모집단에 해당한다.
- ③ ㉣은 독립 변인에 대한 조작적 정의에 해당한다.
- ④ ㉤은 실험 집단, ㉥은 통제 집단이다.
- ⑤ ㉦은 2차 자료이다.

6. 위 연구에 대한 옳은 분석 및 추론만을 <보기>에서 고른 것은? [3점]

<보 기>

- ㄱ. 방법론적 이원론에 기초한 연구에 해당한다.
- ㄴ. B 집단은 A 집단과 달리 재난 대응 훈련 프로그램의 영향을 받았다.
- ㄷ. 사전 검사 대비 사후 검사 점수의 증가율은 B 집단보다 A 집단이 크다.
- ㄹ. 가설은 수용될 것이다.

- ① ㄱ, ㄴ ② ㄱ, ㄷ ③ ㄴ, ㄷ ④ ㄴ, ㄹ ⑤ ㄷ, ㄹ

7. 사회 집단의 유형 A~D에 대한 설명으로 옳은 것은?

사회 집단은 구성원의 결합 의지에 따라 A와 B로 구분할 수 있고, 구성원 간의 접촉 방식에 따라 C와 D로 구분할 수 있다. 가족은 각각의 구분 기준에 따라 A와 C에 해당한다.

- ① A의 사례로 친족, 회사를 들 수 있다.
- ② B는 결합 자체를 목적으로 한다.
- ③ C는 구성원 간 친밀한 대면 접촉을 바탕으로 한다.
- ④ D는 구성원에 대한 비공식적 통제가 일반적이다.
- ⑤ A, D는 B, C와 달리 수단적·형식적 인간관계가 주로 나타난다.

8. 다음 글에서 강조하는 사회·문화 현상의 탐구 태도에 대한 설명으로 가장 적절한 것은?

연구자는 자신의 이해관계나 주관적 가치가 연구에 개입되는 것을 방지해야 한다. 또한 연구자 자신도 특정 사회의 구성원으로서 그 사회의 가치와 규범을 내면화하기 때문에 자신이 속한 사회의 지배적인 가치가 연구에 개입되지 않도록 노력해야 한다.

- ① 현상을 있는 그대로 관찰해야 함을 강조한다.
- ② 연구 결과를 잠정적인 결론으로 인식해야 함을 강조한다.
- ③ 현상의 이면에 담긴 의미를 적극적으로 살펴봐야 함을 강조한다.
- ④ 자신의 주장에 대한 비판을 무조건적으로 수용해야 함을 강조한다.
- ⑤ 현상이 발생한 특정 맥락이나 배경을 바탕으로 현상을 이해해야 함을 강조한다.

9. 자료 수집 방법 A, B의 일반적인 특징에 대한 설명으로 옳은 것은? [3점]

- 갑은 '상대 평가 방식이 학업 스트레스에 미치는 영향 연구'에 A를 활용하였다. 갑은 무작위로 선정된 중·고등학교 500명을 대상으로 상대 평가 방식에 대한 주관적 인식, 학업 스트레스 정도 등을 묻는 구조화된 문항에 답하게 하였다.
- 을은 '아프리카 ○○부족의 전통 문화에 관한 연구'에 B를 활용하였다. 을은 6개월 동안 ○○부족원들과 함께 생활하면서 그들의 전통 의상, 전통 춤, 식생활 등에 대해 상세하게 관찰하여 기록하였다.

- ① A는 기존의 연구 동향을 파악하는 데 주로 사용된다.
- ② B는 실제성 높은 자료를 수집하기에 용이하다.
- ③ A는 B에 비해 예상치 못한 상황에 대한 통제가 어렵다.
- ④ B는 A에 비해 시간과 비용 측면에서 효율성이 높다.
- ⑤ A, B는 모두 조사 대상자와의 언어적 상호 작용이 필수적이다.

10. 문화 이해 태도 A~C에 대한 설명으로 옳은 것은? (단, A~C는 각각 자문화 중심주의, 문화 상대주의, 문화 상대주의 중 하나임.)

A는 다른 문화에 비해 자신의 문화를 우월한 것으로 평가하는 태도이고, B는 다른 문화에 비해 자신의 문화가 열등하다고 평가하는 태도이다. 이에 반해 C는 문화를 우월하거나 열등하다고 평가할 수 없다고 본다.

- ① A는 문화의 다양성을 보존하는 데 기여한다.
- ② B는 국수주의를 초래할 가능성이 높다.
- ③ C는 각 문화가 가지고 있는 고유한 가치를 존중한다.
- ④ A는 B와 달리 다른 문화의 수용에 적극적이다.
- ⑤ C는 B에 비해 자문화의 정체성을 상실할 우려가 크다.

11. 밑줄 친 ㉠ ~ ㉤에 대한 설명으로 옳은 것은?

㉠ 프로 야구 선수였던 갑은 은퇴 후 ㉡ ○○대학교 야구팀 ㉢ 감독으로 부임하였다. 팀의 낮은 경기력을 끌어올리기 위해 새로운 훈련 프로그램을 도입하고 ㉣ 다양한 경기 전략도 적용하였다. 그 결과 작년 대학 야구 대회에서 우승을 차지하며 ㉤ '우수 감독상'을 수상하였다. 그러던 중 ㉥ ◇◇프로 야구팀에서 감독직을 제의받았다. 이에 갑은 현재 팀의 감독을 계속 맡을지 프로 야구팀의 감독을 맡을지 ㉦ 고민하고 있다.

- ① ㉠은 ㉢과 달리 성취 지위이다.
- ② ㉡은 갑의 재사회화에 해당한다.
- ③ ㉣은 갑의 역할 행동에 대한 보상이다.
- ④ ㉤은 ㉡과 달리 갑의 내집단이다.
- ⑤ ㉦은 갑의 역할 갈등에 해당한다.

12. 표는 사회·문화 현상의 연구 방법 A, B를 구분한 것이다. 이에 대한 설명으로 옳은 것은? (단, A, B는 각각 양적 연구, 질적 연구 중 하나임.) [3점]

질문	연구 방법	
	A	B
계량화된 자료의 통계 분석을 중시하는가?	예	아니요
(가)	예	예

- ① A는 연구 대상자가 구성하는 생활 세계의 이해를 연구의 초점으로 한다.
- ② B는 변인 간의 관계 규명을 통한 법칙 발견을 목적으로 한다.
- ③ A는 B와 달리 편지, 일기와 같은 비공식적 자료를 중시한다.
- ④ B는 A와 달리 객관적이고 정밀한 연구에 적합하다.
- ⑤ (가)에는 '경험적 자료를 바탕으로 사회·문화 현상을 연구하는가?'가 들어갈 수 있다.

13. A, B의 일반적인 특징에 대한 설명으로 옳은 것은? (단, A, B는 각각 관료제, 탈관료제 중 하나임.)

A는 직위에 따른 업무의 내용과 수행 절차가 문서로 표준화되어 있다. 그런데 간단한 업무의 처리에도 복잡한 규칙과 절차를 거쳐야 하는 경직된 조직 운영은 현대 사회의 빠른 변화에 대응하지 못하는 원인이 되기도 한다. 이에 의사 결정 권한의 분산, 개인의 자율성 강조, 구성원 간 수평적 관계의 강조 등을 특징으로 하는 새로운 조직 형태인 B가 등장하였다.

- ① A는 B에 비해 업무의 세분화 정도가 높다.
- ② A는 B에 비해 성과에 따른 보상을 중시한다.
- ③ A는 B와 달리 상향식 의사 결정 방식이 지배적이다.
- ④ B는 A에 비해 업무 처리 절차의 예측 가능성이 높다.
- ⑤ B는 A와 달리 효율적인 과업 수행을 추구한다.

14. 다음 자료에 대한 옳은 설명 및 분석만을 <보기>에서 고른 것은? [3점]

연구자 갑은 ○○지역 직장인들을 대상으로 시사 정보를 얻기 위해 이용하는 매체와 응답한 매체에 대한 신뢰도를 조사하였다. 이용자 수는 복수 응답이 가능한 질문에서 해당 매체를 이용한다고 응답한 사람의 수로 나타났다. 신뢰도는 100점 만점으로, 응답자가 해당 매체에 대해 평가한 신뢰도 점수의 평균값으로 산출하였다. 조사 결과는 아래 표와 같다.

구분	이용자 수(명)	신뢰도(점)
신문	120	49
라디오	80	32
㉠ 텔레비전	740	65
㉡ 뉴 미디어	950	24

— <보 기> —

㉠. ㉠은 ㉡에 비해 정보 생산자와 소비자 간의 경계가 명확하다.

㉡. ㉡은 ㉠에 비해 정보 전달과 수용의 시·공간적 제약이 크다.

㉢. 일방향 매체보다 쌍방향 매체의 이용자 수가 많다.

㉣. 이용자 수가 가장 많은 매체의 신뢰도가 가장 높다.

- ① ㉠, ㉡ ② ㉠, ㉢ ③ ㉡, ㉣ ④ ㉡, ㉣ ⑤ ㉢, ㉣

15. 다음 두 사례에 공통적으로 나타나 있는 문화의 속성에 대한 옳은 설명만을 <보기>에서 있는 대로 고른 것은? [3점]

- 갑국에서 반려동물을 키우는 사람들이 늘어나면서 대부분의 사람들이 반려동물을 가족의 일원으로 여기게 되었다. 이에 따라 반려동물을 위한 식품, 패션 등 관련 시장이 급성장하였고, 최근에는 반려동물과 관련한 보험 상품까지 등장하고 있다.
- 을국 사람들은 과거와 달리 쓰레기를 분리하여 배출하는 것을 당연한 일로 여기고 있다. 이에 따라 분리 배출을 쉽게 할 수 있는 포장 도구나 기술이 새롭게 만들어졌다. 또한 폐기물을 수거하는 업체와 수거된 폐기물을 재활용하는 기업도 늘어나고 있다.

— <보 기> —

㉠. 문화는 고정된 것이 아니라 지속적으로 변화한다.

㉡. 문화는 구성원 간 원활한 상호 작용의 토대가 된다.

㉢. 문화는 경험이나 상징을 통해 다음 세대로 전승된다.

㉣. 문화는 여러 요소가 유기적으로 결합된 총체로 존재한다.

- ① ㉠, ㉡ ② ㉠, ㉣ ③ ㉢, ㉣
- ④ ㉠, ㉡, ㉣ ⑤ ㉡, ㉣, ㉣

16. 다음 자료에 대한 설명으로 옳은 것은? [3점]

이번 주말에 가족과 함께 ○○구청이 주관하는 바자회에 가려고 해. 너희들은 뭘 할 거야?

갑

을: 지난주에 가입한 ◇◇시민 단체의 환경 캠페인에 같은 대학에 다니는 친구들과 가려고 해.

병: 입사와 동시에 가입한 △△ 회사 노동조합에서 주최하는 등반 대회에 참석하려고 해.

정: 동네 친구들과 함께 만든 마을 봉사단에서 준비한 도시락 배달 봉사 활동을 할 거야.

- ① 갑은 2차적 사회화 기관에 속해 있다.
- ② 을이 소속된 자발적 결사체는 2개이다.
- ③ 병이 소속된 공식 조직은 2개이다.
- ④ 정은 비공식 조직에 속해 있다.
- ⑤ 을, 정은 병과 달리 공식적 사회화 기관에 속해 있다.

17. 다음 자료에 대한 옳은 설명만을 <보기>에서 있는 대로 고른 것은? [3점]

< 학습 활동지 >

이름: ○○○

- 학습 주제: 문화를 바라보는 관점
- 주요 내용

문화를 바라보는 관점	의미
A	문화 현상을 다른 요소나 전체와의 관련성 속에서 파악하는 관점
B	한 사회의 문화를 그 사회의 자연환경, 사회적 상황, 역사적 맥락 등을 고려하여 이해하는 관점
비교론적 관점	(가)

< 보 기 >

- ㄱ. A는 상대론적 관점, B는 총체론적 관점이다.
- ㄴ. A는 문화에 대한 편협하고 왜곡된 이해를 방지하는 데 기여한다.
- ㄷ. B는 해당 문화 향유자의 입장에서 문화의 고유한 의미를 파악하고자 한다.
- ㄹ. (가)에는 '문화 간의 유사성과 차이점을 분석하여 한 사회의 문화가 지닌 보편성과 특수성을 파악하는 관점'이 들어갈 수 있다.

- ① ㄱ, ㄴ ② ㄱ, ㄷ ③ ㄷ, ㄹ
- ④ ㄱ, ㄴ, ㄹ ⑤ ㄴ, ㄷ, ㄹ

18. 다음 사례에 나타난 연구 윤리상의 문제점으로 가장 적절한 것은?

연구자 갑은 고등학생의 학급 임원 활동 경험이 학교 생활 만족도에 미치는 영향을 알아보기 위한 연구를 실시하였다. 먼저 ○○고등학교 재학생 전체를 연구 대상으로 선정하고, 학생과 보호자의 허락을 받아 설문 조사를 진행하였다. 이후 갑은 별도의 안내 없이 설문에 응답한 학생 중 일부를 무작위로 선정하여 심층 면접을 실시하였다. 갑은 연구 결과를 발표하면서 연구 대상자들의 개인 정보를 알아볼 수 없게 처리하였다.

- ① 사회적으로 유해한 연구 주제를 선정하였다.
- ② 연구 목적 달성을 위해 수집한 자료를 조작하였다.
- ③ 수집한 자료를 연구 목적 이외의 다른 용도로 활용하였다.
- ④ 결과 발표 과정에서 연구 대상의 익명성을 보장하지 않았다.
- ⑤ 연구에 대한 충분한 정보를 연구 대상에게 제공하지 않았다.

19. 밑줄 친 ㉠, ㉡에 대한 설명으로 옳은 것은?

○○시에서는 '모두를 위한 영화 도시'를 목표로 다양한 활동을 벌이고 있다. ○○시는 세계 여러 나라의 생활 양식과 가치관을 담은 영화를 소개하여 외국 ㉠ 문화를 간접 체험할 수 있는 장을 마련하고 있다. 또한 다채로운 장르의 영화를 상영하여 ㉡ 문화 시민으로서의 예술 감상 기회를 제공하고 있다.

- ① ㉠은 생활 양식의 총체를 의미한다.
- ② ㉡은 '노인 문화'의 '문화'와 동일한 의미이다.
- ③ ㉡은 인간이 후천적으로 학습한 모든 것을 의미한다.
- ④ ㉠은 ㉡과 달리 평가적 의미를 내포하고 있다.
- ⑤ ㉡은 ㉠과 달리 물질문화만을 의미한다.

20. (가)에 대한 설명으로 옳지 않은 것은?

한 사회의 일부 구성원들이 공유하는 문화를 (가)라고 한다. 온라인 대화에서 20대 대학생들이나 30대 직장인들은 그들끼리만 통하는 특유의 줄임말을 사용하거나 신조어를 공유하여 소통하는 모습을 볼 수 있다. 이처럼 비슷한 연령, 유사한 경험 등을 가진 특정 영역의 사람들끼리 공유하는 문화는 (가)에 해당한다.

- ① (가)는 사회가 다원화될수록 다양해진다.
- ② (가)는 다양한 문화적 욕구 해결에 기여한다.
- ③ (가)는 특정 집단의 정체성과 일체감 형성에 기여한다.
- ④ 사회 변화에 따라 주류 문화가 (가)로 변화하기도 한다.
- ⑤ 한 사회 내에 존재하는 모든 (가)의 총합은 주류 문화이다.

* 확인 사항

- 답안지의 해당란에 필요한 내용을 정확히 기입(표기)했는지 확인하십시오.