

11. 다음 중 ㉠에 들어갈 말은?

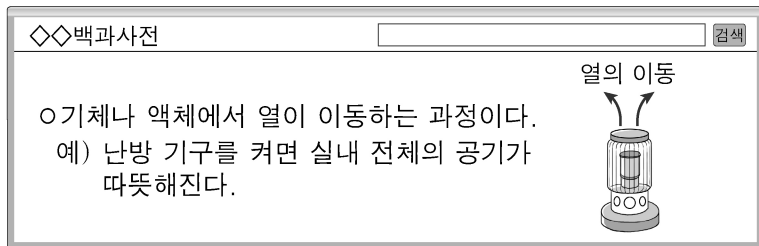


- ① 개수 ② 상하 ③ 좌우 ④ 색깔

12. 다음 중 전기를 절약하는 방법으로 가장 적절한 것은?

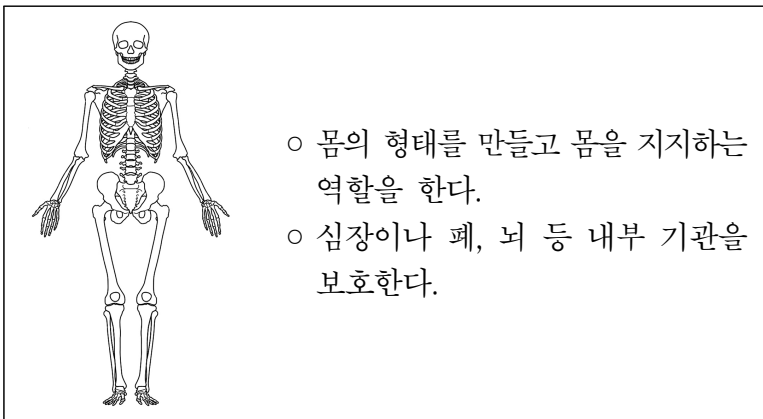
- ① 아무도 없는 방에 전등을 켜 놓는다.
 ② 에어컨을 켤 때에는 문을 열어 둔다.
 ③ 냉장고 문을 열어 놓고 물을 마신다.
 ④ 사용하지 않는 전기 제품의 플러그를 뽑아 놓는다.

13. 다음 설명에 해당하는 것은?




- ① 구름 ② 대류 ③ 안개 ④ 이슬

14. 다음 설명에 해당하는 것은?



- ① 뼈 ② 위 ③ 콩팥 ④ 혈액

15. 다음 설명에서 ㉠에 들어갈 말은?



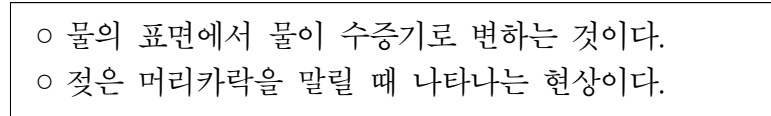
- ① 굴절 ② 반사 ③ 운동 ④ 정지

16. 그림은 모닥불을 피우는 모습을 나타낸 것이다. 다음 중 연소의 조건에 해당하지 않는 것은?



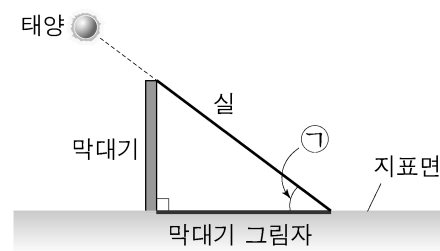
- ① 물
 ② 산소
 ③ 탈 물질
 ④ 발화점 이상의 온도

17. 다음 설명에 해당하는 것은?



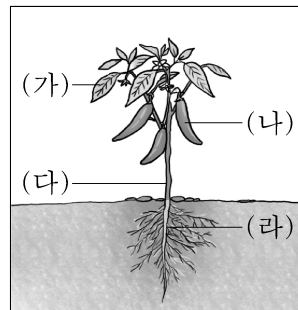
- ① 용해 ② 응결 ③ 증발 ④ 광합성

18. 그림은 태양이 지표면과 이루는 각을 측정하는 실험을 나타낸 것이다. ㉠에 해당하는 것은?



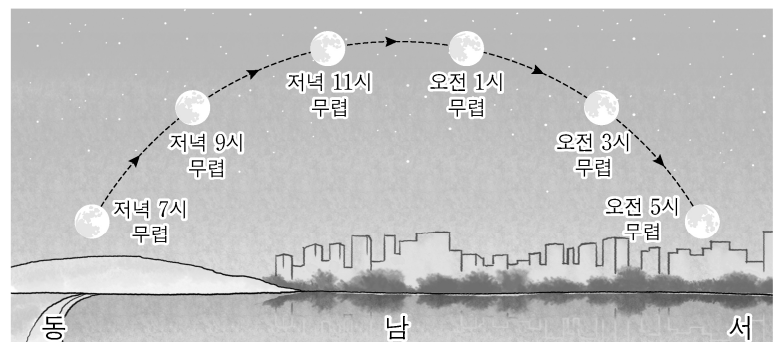
- ① 달 온도
 ② 달 모양
 ③ 태양 고도
 ④ 태양 나이

19. 그림의 식물에서 뿌리에 해당하는 것은?



- ① (가)
 ② (나)
 ③ (다)
 ④ (라)

20. 그림은 같은 장소에서 하루 동안 관측한 달의 위치를 나타낸 것이다. 다음 중 시간에 따라 달의 위치가 다르게 보이는 까닭은?



- ① 달의 밝기
 ② 달의 모양
 ③ 지구의 자전
 ④ 지구의 크기