

제 4 교시 사회

1. ㉠에 들어갈 내용으로 옳은 것은?



㉠은 적도를 기준으로 북쪽으로 북위 0°~90°, 남쪽으로 남위 0°~90°로 나타냅니다.

- ① 경도 ② 위도 ③ 랜드마크 ④ 도로명 주소

2. ㉠에 들어갈 기후로 옳은 것은?

○ 건조 기후는 연 강수량을 기준으로 ㉠와 스텝 기후로 구분한다.
 ○ ㉠지역은 스텝 기후 지역보다 강수량이 적으며, 오아시스나 관개 수로를 이용해 밀, 대추야자 등을 재배한다.

- ① 사막 기후 ② 툰드라 기후
- ③ 열대 우림 기후 ④ 서안 해양성 기후

3. 다음 설명에 해당하는 지형은?

석회암이 지하수에 녹으며 형성된 지형으로, 종유석, 석순, 석주 등이 나타난다.

- ① 갯벌 ② 오름 ③ 주상 절리 ④ 석회동굴

4. 다음 설명에 해당하는 자원의 특성은?

자원이 지구상에 고르게 분포하지 않고 일부 지역에 집중되어 분포하는 특성이다.

- ① 창의성 ② 편재성 ③ 학습성 ④ 공유성

5. ㉠에 들어갈 내용으로 옳은 것은?

㉠은/는 여성 100명에 대한 남성의 수를 말한다. 일부 국가에서는 남아 선호 사상 등으로 인해 ㉠ 불균형의 문제가 발생하기도 한다.

- ① 관습 ② 도덕 ③ 문화 ④ 성비

6. 다음 설명에 해당하는 것은?

자신이 그 집단에 속해 있다는 소속감과 '우리'라는 공동체 의식이 강한 집단이다.

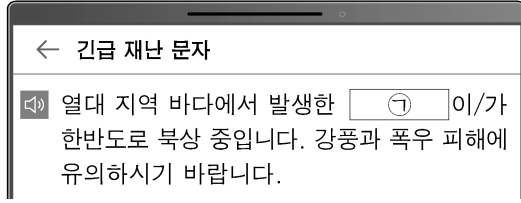
- ① 내집단 ② 외집단 ③ 역할 갈등 ④ 역할 행동

7. 다음 설명에 해당하는 정치 주체는?

이해관계를 같이하는 사람들이 자신들의 특수한 이익을 실현하기 위해 만든 단체이다.

- ① 개인 ② 대통령 ③ 감사원 ④ 이익 집단

8. ㉠에 들어갈 내용으로 옳은 것은?



- ① 황사 ② 가뭄
- ③ 태풍 ④ 폭설

9. ㉠, ㉡에 해당하는 것으로 옳은 것은?

국가의 주권이 미치는 범위를 영역이라고 하며, ㉠와/과 영해의 수직 상공을 ㉡(이)라고 한다.

- ㉠ ㉡ ㉠ ㉡
- ① 영토 영공 ② 영공 영토
- ③ 영토 배타적 경제 수역 ④ 영공 배타적 경제 수역

10. 다음에서 설명하고 있는 것은?

○ 의미: 한 개인이 자신이 속한 사회의 언어, 규범, 가치관 등을 배워 나가는 과정
 ○ 기능: 자신만의 독특한 개성과 자아를 형성함.

- ① 선거 ② 사회화 ③ 심급 제도 ④ 빈부 격차

11. ㉠, ㉡에 해당하는 것으로 옳은 것은?



㉠은 도시의 수나 면적, 그리고 도시 거주 인구가 증가하는 현상을 말해.

도시의 무분별한 팽창을 막고 녹지를 확보하기 위해 ㉡을 설정하기도 해.



- ㉠ ㉡ ㉠ ㉡
- ① 도시화 도심 ② 인구 공동화 도심
- ③ 도시화 개발 제한 구역 ④ 인구 공동화 개발 제한 구역

12. 다음 설명에 해당하는 국가 기관은?

법을 해석하고 적용하여 분쟁을 해결해 주는 역할을 한다.

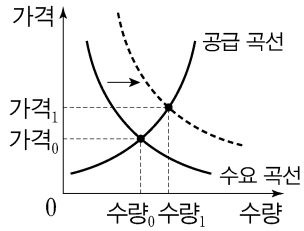
- ① 법원 ② 국세청 ③ 기상청 ④ 금융 감독원

13. 다음 설명에 해당하는 것은?

개인과 개인 사이에서 일어난 법률관계에 관한 다툼을 해결하기 위한 재판이다.

- ① 선거 재판 ② 행정 재판 ③ 민사 재판 ④ 형사 재판

14. 그래프와 같이 수요 곡선이 오른쪽으로 이동했을 때, 균형 가격과 균형 거래량의 변화로 옳은 것은? (단, 다른 조건은 일정함.)



	균형 가격	균형 거래량
①	상승	감소
②	상승	증가
③	하락	감소
④	하락	증가

15. 다음에서 설명하고 있는 제도는?

- 의미: 국가 기관에서 선거 과정을 관리하고 선거 운동 비용의 일부를 국가와 지방 자치 단체가 부담하는 제도
- 목적: 선거 운동의 과열과 부정 선거 방지, 후보자에게 선거 운동의 균등한 기회 보장

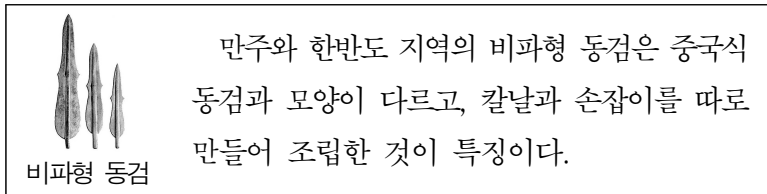
- ① 의원 내각제 ② 주민 투표제
③ 선거 공영제 ④ 주민 소환제

16. ㉠, ㉡에 들어갈 경제 활동으로 옳은 것은?

- (㉠): 필요한 재화나 서비스를 만들어 내거나 그 가치를 높이는 활동
- (㉡): 필요한 재화나 서비스를 구매하여 사용하는 활동

- | | | | | | |
|---|----|----|---|----|----|
| | ㉠ | ㉡ | | ㉠ | ㉡ |
| ① | 소비 | 생산 | ② | 분배 | 생산 |
| ③ | 생산 | 분배 | ④ | 생산 | 소비 |

17. 다음에서 설명하는 유물이 처음으로 제작된 시대는?



- ① 구석기 시대 ② 신석기 시대
③ 청동기 시대 ④ 철기 시대

18. 다음 정책을 시행한 고구려의 왕은?

- 남진 정책을 추진함.
- 수도를 평양으로 옮김.
- 백제의 수도 한성을 함락함.

- ① 진흥왕 ② 장수왕 ③ 충선왕 ④ 선덕여왕

19. 다음 설명에 해당하는 고려 후기 정치 세력은?

- 명분과 도덕을 중시하는 성리학을 공부함.
- 공민왕의 개혁에 참여하며 정치 세력을 형성함.
- 대표적 인물: 정몽주, 정도전 등

- ① 사림 ② 진골 ③ 6두품 ④ 신진 사대부

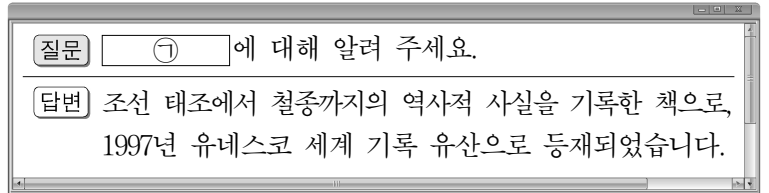
20. 밑줄 친 ㉠에 해당하는 나라는?

대조영이 세운 ㉠나라에 대해 알고 있니?
응, 9세기 전반에는 고구려의 옛 땅을 대부분 회복하고 전성기를 이루어 당으로부터 해동성국이라 불리었어.



- ① 발해 ② 신라 ③ 고조선 ④ 후백제

21. ㉠에 들어갈 책으로 옳은 것은?



- ① 농사직설 ② 동의보감
③ 고려사절요 ④ 조선왕조실록

22. 다음 설명에 해당하는 민족 운동은?

- 일제 강점기 최대 규모의 민족 운동임.
- 대한민국 임시 정부 수립의 계기가 됨.

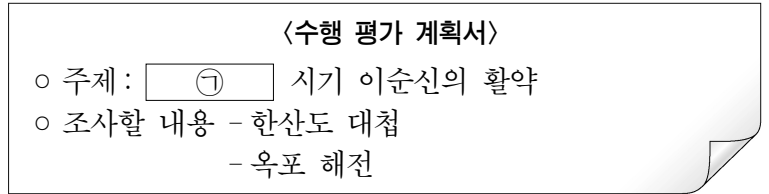
- ① 3·1 운동 ② 새마을 운동
③ 국채 보상 운동 ④ 물산 장려 운동

23. 밑줄 친 ㉠에 해당하는 법은?

광해군 시기에 ㉠공납의 폐단을 극복하고 국가 재정을 확보하고자 경기도에서 처음 시행한 법이다. 집집마다 토산물을 납부하게 한 방식을 바꾸어 토지를 기준으로 하여 쌀로 납부하도록 하였다.

- ① 대동법 ② 유신 헌법
③ 노비안검법 ④ 국가 총동원법

24. ㉠에 들어갈 내용으로 옳은 것은?



- ① 병자호란 ② 신미양요 ③ 임진왜란 ④ 정묘호란

25. 다음 설명에 해당하는 정부는?

분단 이후 최초로 남과 북의 정상이 평양에서 만나 6·15 남북 공동 선언을 발표하였다(2000년). 이 선언에서 남과 북은 경제, 문화 등 교류와 협력을 활성화하고 이산 가족 문제 등을 조속히 풀어 나가기로 합의하였다.

- ① 전두환 정부 ② 노태우 정부
③ 김영삼 정부 ④ 김대중 정부