

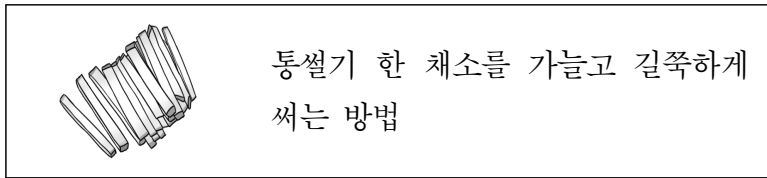
제 3 교시

실과

1. 다음 중 식품군과 그에 속하는 식품을 바르게 연결한 것은?

식품군	식품
① 곡류	쌀, 새우
② 채소류	당근, 오이
③ 과일류	감자, 옥수수
④ 유제품류	두부, 치즈

2. 다음 설명에 해당하는 썰기 방법은?



- ① 다지기 ② 채썰기 ③ 깎둑썰기 ④ 반달썰기

3. <보기>에서 주생활에 해당하는 것만을 모두 고른 것은?

<보기>

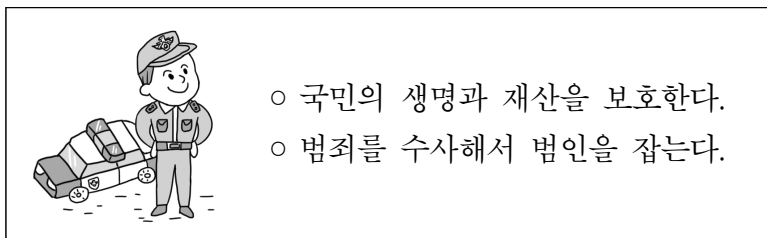
ㄱ. 요리하기	ㄴ. 옷 만들기
ㄷ. 방 청소하기	ㄹ. 설거지하기

- ① ㄱ ② ㄴ ③ ㄷ ④ ㄱ, ㄹ

4. 다음 중 안전과 위생을 고려한 식품 선택 방법으로 가장 적절한 것은?

- ① 감자는 싹이 난 것을 선택한다.
- ② 채소는 상처가 난 것을 선택한다.
- ③ 고기는 불쾌한 냄새가 나는 것을 고른다.
- ④ 달걀은 껍데기가 까슬까슬한 것을 고른다.

5. 다음 설명에 해당하는 직업은?



- ① 교사 ② 화가 ③ 경찰관 ④ 운동선수

6. ㉠에 들어갈 알맞은 말은?

< ㉠ 을/를 보호하는 방법 >

- 웹 사이트의 비밀번호를 주기적으로 바꾼다.
- 검증되지 않은 웹 사이트에 전화번호를 올리지 않는다.

- ① 초상권 ② 개인 정보
- ③ 지식 재산 ④ 사이버 중독

7. 다음 설명에 해당하는 손바느질 방법은?

<바느질하는 방법> <앞면> <뒷면>

- 천을 튼튼하게 이을 때 사용한다.
- 앞면의 바늘땀은 촘촘하고, 뒷면의 바늘땀은 겹쳐진다.

- ① 홈질 ② 박음질
- ③ 시침질 ④ 실 꿰기

8. 다음 설명에 해당하는 식물 가꾸기 도구는?

땅을 파거나 흙과 식물을 옮기는 데 사용한다.

- ① 장갑 ② 거름망 ③ 모종삽 ④ 전지가위

9. 다음 설명에 해당하는 것은?

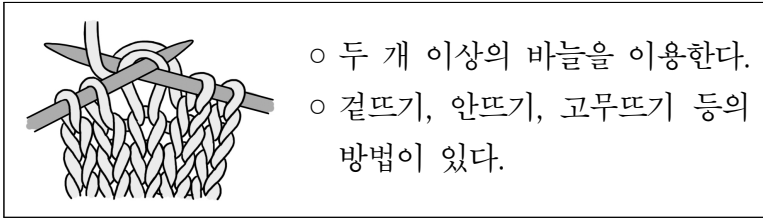
혈연, 결혼, 입양 등으로 관계를 맺고 함께 생활하는 사람들

- ① 가족 ② 개인 ③ 친구 ④ 회사

10. 다음 중 용돈을 관리하는 방법으로 적절하지 않은 것은?

- ① 용돈 기입장을 작성한다.
- ② 용돈을 계획대로 쓰려고 노력한다.
- ③ 필요성을 고려하여 용돈을 사용한다.
- ④ 용돈을 인터넷 도박 게임에 모두 쓴다.

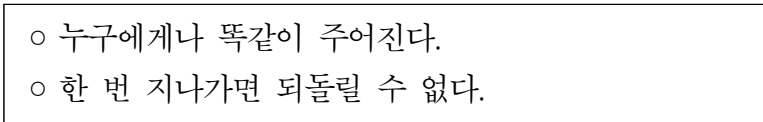
11. 다음 설명에 해당하는 생활 소품 만들기 방법은?



- 두 개 이상의 바늘을 이용한다.
- 겹뜨기, 안뜨기, 고무뜨기 등의 방법이 있다.

- ① 십자수 ② 재봉틀
- ③ 대바늘뜨기 ④ 코바늘뜨기

12. 다음 설명에 해당하는 생활 자원은?



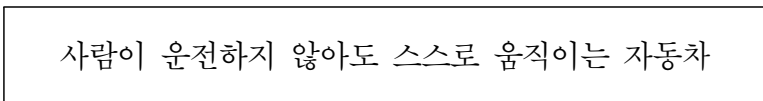
- 누구에게나 똑같이 주어진다.
- 한 번 지나가면 되돌릴 수 없다.

- ① 시간 ② 용돈
- ③ 지식 ④ 흥미

13. 다음 중 옷의 신체 보호 기능으로 적절하지 않은 것은?

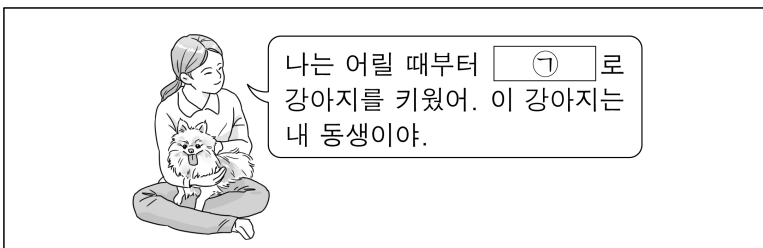
- ① 자신의 개성을 표현한다.
- ② 위험으로부터 몸을 보호한다.
- ③ 더위나 추위로부터 체온을 유지한다.
- ④ 땀을 흡수하여 피부를 청결하게 유지한다.

14. 다음 설명에 해당하는 것은?



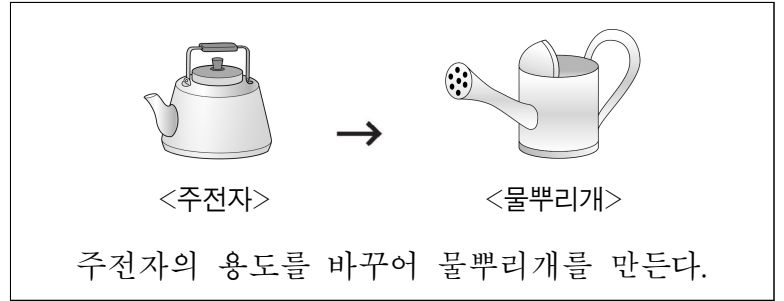
- ① 냉장고 ② 수술 로봇
- ③ 전자 칠판 ④ 자율 주행 자동차

15. ㉠에 들어갈 알맞은 말은?



- ① 반려동물 ② 실험 동물
- ③ 야생 동물 ④ 특수 동물

16. 다음 설명에 해당하는 발명 기법으로 가장 적절한 것은?



- ① 빼기 기법 ② 반대로 하기 기법
- ③ 용도 바꾸기 기법 ④ 자연물 본뜨기 기법

17. 다음 중 로봇의 센서와 사람의 감각 기관을 바르게 연결한 것은?

센서	감각 기관
① 빛	눈
② 소리	코
③ 색깔	귀
④ 온도	코

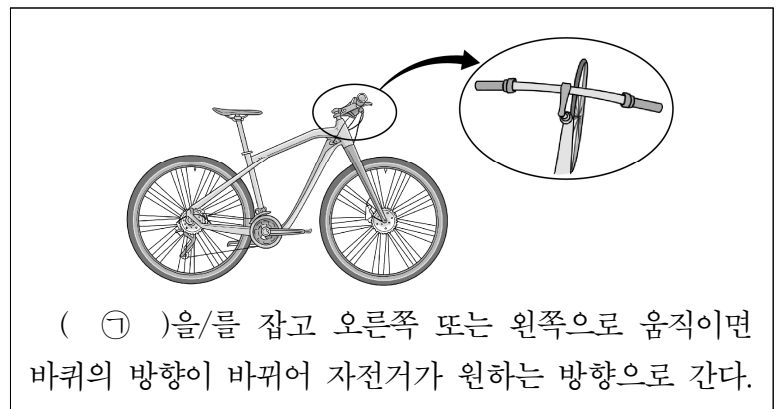
18. 다음 중 가족 구성원 간의 배려와 돌봄을 실천하는 방법으로 가장 적절한 것은?

- ① 가족 간에 예의를 지키지 않는다.
- ② 가족의 부족한 점을 찾아 꾸짖는다.
- ③ 가족에게 일어난 어려움을 모른 척한다.
- ④ 서로의 의견을 존중하여 의사 결정한다.

19. 다음 중 안전한 옷차림으로 적절하지 않은 것은?

- ① 황사가 많은 날에는 마스크를 착용한다.
- ② 비가 오는 밤에는 어두운 색의 옷을 입는다.
- ③ 자전거를 탈 때에는 안전모와 보호대를 착용한다.
- ④ 등산할 때 긴 옷을 입어 곤충으로부터 몸을 보호한다.

20. ㉠에 들어갈 자전거의 구성 요소는?



- ① 안장 ② 핸들 ③ 경음기 ④ 전조등