

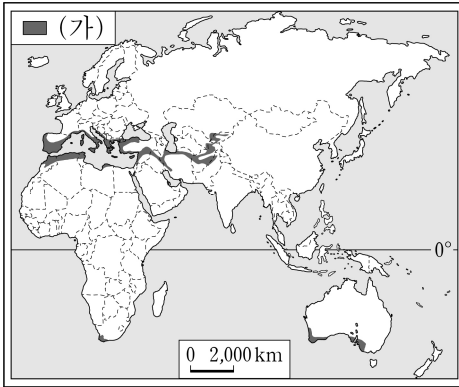
제 4 교시 사회

1. 다음에서 설명하는 것은?

어떤 장소나 지역에 대한 정보를 수치화하여 컴퓨터에 입력·저장한 후, 가공·분석·처리하여 다양하게 표현해 주는 체계

- ① 시차 ② 표준시
- ③ 랜드마크 ④ 지리 정보 시스템

2. 다음 자료에서 (가)에 해당하는 기후는?



○ 지도에 표시된 (가)는 여름에는 고온 건조하고, 겨울에는 온난 습윤하다.
○ 이 지역은 주로 올리브, 포도 등의 수목 농업이 이루어진다.

- ① 고산 기후 ② 툰드라 기후
- ③ 지중해성 기후 ④ 열대 우림 기후

3. 다음 내용에 해당하는 지형은?

○ 용암이 빠른 속도로 식어 굳으면서 다각형의 기둥 모양으로 쪼개짐.
○ 주로 제주도에 분포함.

- ① 갯벌 ② 모래사장 ③ 석회동굴 ④ 주상절리

4. 다음에서 설명하는 자연재해는?

○ 집중 호우에 의한 하천의 범람으로 발생
○ 가옥이나 농경지 등이 침수되어 재산 및 인명 피해 발생

- ① 홍수 ② 황사 ③ 폭염 ④ 가뭄

5. 다음 설명에 해당하는 자원은?

○ 자동차 보급의 확산으로 수요가 급증함.
○ 편재성이 매우 크고, 국제적 이동량이 많음.
○ 주요 수출국: 사우디아라비아, 러시아, 아랍 에미리트 등

- ① 구리 ② 석유 ③ 석탄 ④ 철광석

6. 다음에서 설명하는 것은?

푸드 마일리지 줄이기 위한 대안으로 등장하였으며, 지역에서 생산된 먹거리를 해당 지역에서 직접 소비하는 것을 뜻한다.

- ① 공정 무역 ② 로컬 푸드 ③ 혼합 농업 ④ 플랜테이션

7. 개발 제한 구역의 설정 목적으로 가장 적절한 것은?

- ① 도시 내 시가지 개발
- ② 대규모 중공업 단지 조성
- ③ 도시의 무질서한 팽창 방지
- ④ 각종 건축물의 자유로운 건설

8. ㉠, ㉡에 들어갈 말로 옳은 것은?

○ ㉠은/는 국가의 주권이 미치는 해역이다.
○ ㉡은/는 국가의 주권이 미치는 육지와 바다의 수직 상공이다.

- ㉠ ㉡ ㉠ ㉡
- ① 영해 영공 ② 영해 영토
- ③ 영공 영해 ④ 영토 영공

9. 다음 상황을 설명하는 용어로 적절한 것은?

○○은 신인 가수 그룹의 리더로서 중요한 오디션이 있던 날, 어머니의 건강이 위독하다는 연락을 받았다. 그는 오디션에 참가해야 할지 어머니에게 가야 할지 고민에 빠졌다.

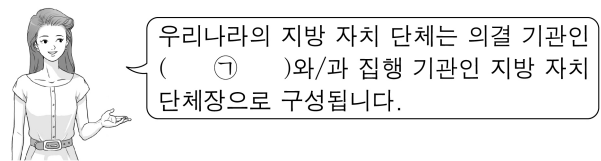
- ① 외집단 ② 재사회화 ③ 역할 갈등 ④ 지역 갈등

10. 다음 내용에 해당하는 문화의 속성은?

문화는 한 사회의 구성원들이 공통으로 가지는 생활 양식이다. 이를 통하여 사회 구성원들은 특정한 상황에서 서로의 행동을 쉽게 이해하고 예측할 수 있다.

- ① 공유성 ② 선천성 ③ 수익성 ④ 일회성

11. ㉠에 들어갈 내용으로 적절한 것은?



우리나라의 지방 자치 단체는 의결 기관인 (㉠)와/과 집행 기관인 지방 자치 단체장으로 구성됩니다.

- ① 국회 ② 대통령 ③ 국무회의 ④ 지방 의회

12. 다음에서 설명하는 일반적인 정부 형태는?

국민이 선거를 통해 의회를 구성하고, 의회 다수당의 대표가 총리(수상)가 된다. 총리는 내각을 구성할 권한을 가진다.

- ① 대통령제 ② 절대 왕정
- ③ 귀족 정치제 ④ 의원 내각제

13. ㉠에 들어갈 국민의 기본권은?

○ 의미: 국가 권력의 간섭을 받지 않고 자유롭게 생활할 수 있는 권리
○ 관련 조항: 모든 국민은 직업선택의 자유를 가진다. (헌법 제15조)

- ① 자유권 ② 평등권 ③ 참정권 ④ 사회권

14. 다음의 역할을 담당하는 국가 기관은?

○ 선거와 국민 투표의 공정한 관리
○ 정당 및 정치 자금에 관한 사무, 선거 참여 홍보 활동

- ① 감사원 ② 선거 관리 위원회
③ 헌법 재판소 ④ 국가 인권 위원회

15. ㉠에 들어갈 경제 개념은?

(㉠)은/는 어떤 것을 선택함으로써 포기하게 되는 대안의 가치 중 가장 큰 것을 의미하며, 편익과 더불어 합리적 선택을 위해 고려해야 할 요소이다.


- ① 수요 ② 실업 ③ 기회비용 ④ 물가 지수

16. ㉠에 해당하는 경제 주체는?

인플레이션 발생 시, (㉠)은/는 물가 안정을 위해 과도한 재정 지출을 줄이고, 공공요금 인상을 억제하며, 세금을 늘리는 정책을 집행한다.

- ① 가계 ② 정부 ③ 기업 ④ 법원

17. 다음 유물이 처음으로 제작된 시대는?



○ 명칭: 빗살무늬 토기
○ 용도: 식량을 저장하고 음식을 조리하는 데 사용함.

- ① 구석기 시대 ② 신석기 시대
③ 청동기 시대 ④ 철기 시대

18. 다음 설명에 해당하는 고구려의 왕은?

○ '영락'이라는 독자적인 연호를 사용함.
○ 신라에 침입한 왜군을 물리치고 금관가야를 공격함.
○ 영토를 넓혀 만주와 한반도 중부에 걸치는 대제국을 건설함.

- ① 내물왕 ② 신문왕 ③ 근초고왕 ④ 광개토 대왕

19. ㉠에 해당하는 국가는?

< ㉠ 의 발전 과정 >
○ 대조영: 만주 동모산 근처에서 나라를 세움.
○ 무왕: 장문휴를 보내 당의 산둥 반도를 공격함.
○ 선왕: 당으로부터 '해동성국'이라 불리며 전성기를 이룸.

- ① 가야 ② 발해 ③ 부여 ④ 백제

20. ㉠에 들어갈 내용으로 옳은 것은?

<공민왕의 개혁 정치>
○ 쌍성총관부를 공격하여 철령 이북의 땅을 되찾음.
○ 신돈을 등용하고 ㉠.

- ① 삼국을 통일함 ② 경복궁을 중건함
③ 훈민정음을 창제함 ④ 전민변정도감을 설치함

21. 다음 설명에 해당하는 전쟁은?

○ 원인: 조선 인조 때 청의 군신 관계 요구 거부
○ 전개: 청의 침략 → 남한산성에서 항전
○ 결과: 조선이 삼전도에서 항복, 청과 군신 관계 체결

- ① 병자호란 ② 임진왜란 ③ 살수 대첩 ④ 봉오동 전투

22. ㉠에 들어갈 내용으로 가장 적절한 것은?

○ 조선 후기 ㉠
- 한글 소설, 사실시조 유행
- 판소리와 탈춤 공연
- 풍속화와 민화의 유행

- ① 성리학의 전래 ② 불교 예술의 발달
③ 서민 문화의 발달 ④ 서양 문물의 수용

23. 다음 설명에 해당하는 사건은?

김옥균, 박영효 등의 급진 개화파가 정변을 일으켜 근대 국가 건설을 목표로 한 개혁을 추진하였으나, 청군의 개입으로 3일 만에 실패하였다.

- ① 3·1 운동 ② 갑신정변
③ 흥경래의 난 ④ 만민 공동회

24. 다음 대화 내용에 해당하는 제도는?

이제부터 군포를 1년에 1필만 내는 법이 시행된다고 하네. 정말인가? 군포를 반만 내도 되니 부담이 줄어들겠군.



- ① 균역법 ② 진대법 ③ 호패법 ④ 유신 헌법

25. 다음 설명에 해당하는 사건은?

○ 신군부의 비상계엄 전국 확대에 반발하여 일어남.
○ 광주에서 계엄군의 무력 진압으로 많은 사상자가 발생함.
○ 1980년대 민주화 운동의 중요한 원동력이 됨.

- ① 6·10 만세 운동 ② 국채 보상 운동
③ 동학 농민 운동 ④ 5·18 민주화 운동