

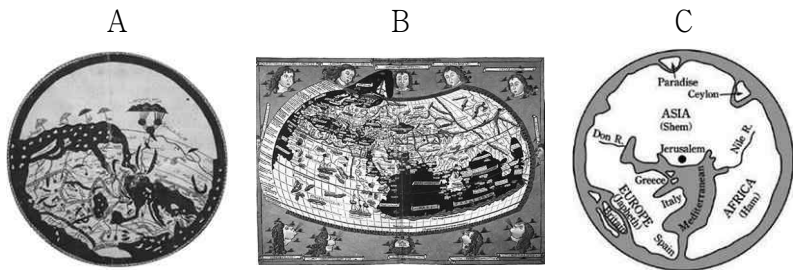
제 4 교시

사회탐구 영역 (세계지리)

성명 [] 수험번호 [] 3 [] 제 [] 선택

1. 다음은 수업 시간에 두 지도의 공통점과 차이점을 게시하는 장면이다. (가), (나) 지도를 A~C에서 고른 것은?

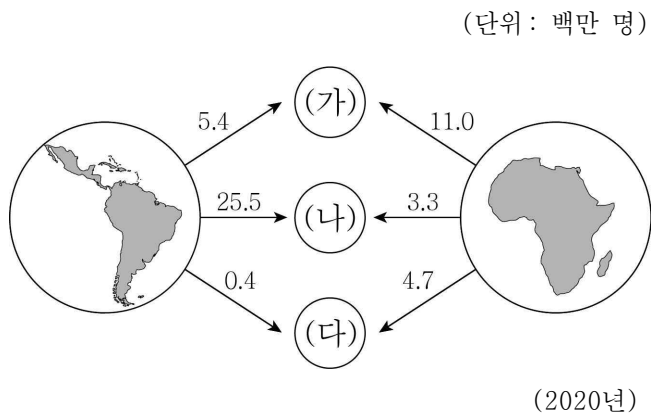
공통점		차이점
(가), (나)는 모두 아메리카 대륙이 표현되어 있지 않다.	(가), (나)는 모두 지구가 구체(球體)라는 인식이 반영되어 있다.	(가)는 지도의 위쪽이 남쪽, (나)는 북쪽이다.



* 15세기에 복원한 것임.

- | | | | | | |
|---|-----|-----|---|-----|-----|
| | (가) | (나) | | (가) | (나) |
| ① | A | B | ② | A | C |
| ③ | B | A | ④ | B | C |
| ⑤ | C | A | | | |

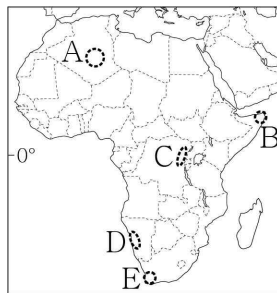
2. 그림은 라틴 아메리카와 아프리카에서 세 지역(대륙)으로의 유출 인구를 나타낸 것이다. (가)~(다) 지역(대륙)에 대한 설명으로 옳은 것은? (단, (가)~(다)는 각각 아시아, 앵글로아메리카, 유럽 중 하나임.) [3점]



- (가)에서 인구가 가장 많은 국가는 미국이다.
- (나)에는 경제 블록을 결성하여 단일 통화를 쓰고 있는 국가들이 있다.
- (나)는 (가)보다 국가 수가 많다.
- (다)는 (가)보다 도시화율이 높다.
- (다)는 (나)와의 인구 이동에서 인구 순 유출이 나타난다.

3. 다음 자료의 ㉠이 위치한 지역을 지도의 A~E에서 고른 것은?

다큐멘터리 '비룽가'는 ㉠ 비룽가 국립 공원의 슬픈 현실을 담아내고 있다. 비룽가 국립 공원에는 활화산이 곳곳에 분포하며, 이곳의 열대 우림에는 고릴라들이 서식한다. 하지만 첨단 산업에서 필수 광물로 쓰이는 콜탄의 수요가 증가하면서 콜탄 광산을 두고 정부군과 반군 사이에 분쟁이 끊이지 않고 있으며, 이로 인해 고릴라 서식지가 무분별하게 파괴되고 있다.



- A
- B
- C
- D
- E

4. 지도에 표시된 지역의 환경 문제를 조사하고자 한다. 각 지역의 조사 주제로 옳은 것만을 A~D에서 있는 대로 고른 것은?

- A, B
- A, C
- B, D
- A, C, D
- B, C, D

5. 다음 자료는 네 종교의 특징을 문답식으로 정리한 것이다. (가)~(라) 종교에 대한 설명으로 옳은 것은? (단, (가)~(라)는 각각 불교, 이슬람교, 그리스도교, 힌두교 중 하나임.) [3점]

질문	종교	(가)	(나)	(다)	(라)
보편 종교에 해당합니까?		예	아니요	예	예
기원지가 남부 아시아에 위치합니까?		아니요	예	예	아니요
카슈미르 분쟁의 주요 원인이 된 종교입니까?		아니요	예	아니요	예

- (가)는 돼지고기를 금기시한다.
- (나)는 유일신교이다.
- (다)의 대표적인 종교 경관은 십자가와 종탑이다.
- (가)는 (다)보다 세계 신자 수가 많다.
- (라)는 (나)보다 기원 시기가 이른다.

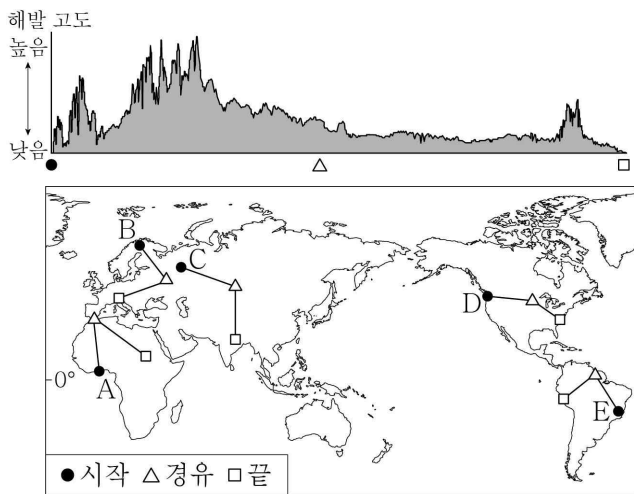
6. 표의 A~D 국가에 대한 설명으로 옳은 것은? (단, A~D는 각각 브라질, 아르헨티나, 에콰도르, 칠레 중 하나임.) [3점]

국가	지리 정보	면적 (만 km ²)	1인당 국내 총생산 (달러)	수도의 위치
A		277	8,586	34°36'S 58°23'W
B		76	13,220	33°26'S 70°39'W
C		852	6,815	15°48'S 47°54'W
D		28	5,627	0°15'S 78°35'W

(2020년)

- ① A는 포르투갈어를 공용어로 사용한다.
- ② D의 팜파스에서는 기업적 목축업이 이루어진다.
- ③ B는 C보다 철광석 생산량이 많다.
- ④ C는 B보다 국가 내 민족(인종) 구성에서 혼혈이 차지하는 비율이 높다.
- ⑤ D는 A보다 수도의 해발 고도가 높다.

7. 그림과 같은 지형 단면이 나타나는 구간을 지도의 A~E에서 고른 것은?



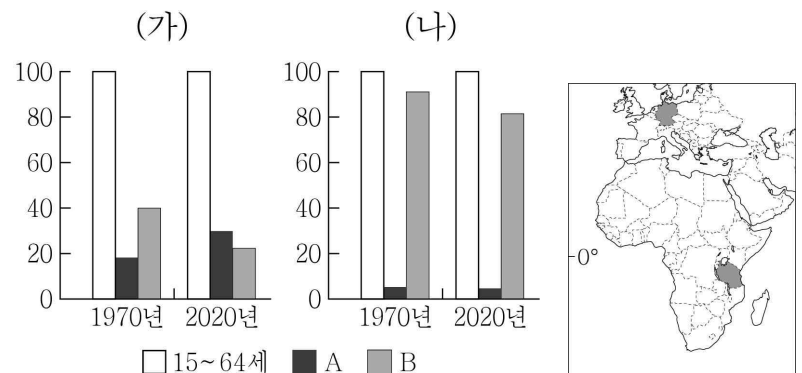
- ① A ② B ③ C ④ D ⑤ E

8. 다음 자료의 ㉠에 대한 설명으로 옳지 않은 것은?

‘구이린의 산수는 천하제일이 다(桂林山水甲天下)’라는 말이 있을 정도로 구이린의 빼어난 풍경은 예로부터 시인과 화가들의 작품 소재가 되었다. 특히 하천과 어우러져 ㉠가과르게 치솟은 돌산은 이 지역을 대표하는 경관이다. 높이 약 백여 미터에 달하는 돌산이 이어지며 연출되는 기묘한 분위기로 인하여 구이린은 수많은 영화의 배경으로 이용되었다.

- ① 주된 기반암은 석회암이다.
- ② 점성이 큰 마그마의 분출로 형성되었다.
- ③ 주변 지역의 토양은 대체로 붉은색을 띤다.
- ④ 강수량이 풍부한 습윤 기후 지역에서 잘 형성된다.
- ⑤ 주변 지역에 중유석과 석순이 있는 동굴이 분포한다.

9. 그래프는 지도에 표시된 두 국가의 연령별 인구 변화를 나타낸 것이다. 이에 대한 옳은 설명만을 <보기>에서 고른 것은? (단, A, B는 각각 0~14세 인구, 65세 이상 인구 중 하나임.) [3점]



* (가), (나) 국가의 각 시기 15~64세 인구를 100으로 했을 때의 상대값임.

- < 보기 >
- ㄱ. A는 0~14세 인구, B는 65세 이상 인구이다.
 - ㄴ. (가)는 (나)보다 2020년 노령화 지수가 높다.
 - ㄷ. (가)는 (나)보다 1970년 유소년 부양비가 높다.
 - ㄹ. (나)는 (가)보다 1970~2020년 자연적 인구 증가율이 높다.

- ① ㄱ, ㄴ ② ㄱ, ㄷ ③ ㄴ, ㄷ ④ ㄴ, ㄹ ⑤ ㄷ, ㄹ

10. (가)~(다) 국가에 대한 옳은 설명만을 <보기>에서 고른 것은? (단, (가)~(다)는 각각 멕시코, 미국, 캐나다 중 하나임.) [3점]

(나), (다)와 자유 무역 협정을 맺은 이후로 (나), (다)와의 무역 적자가 증가했고, 제조업 일자리가 감소하였습니다.

(다)보다 (가)와의 무역액이 많으며, (가)에 대한 무역 의존도가 매우 높습니다.

마킬라도라를 중심으로 제조업이 발달하고 있지만, (가)에서 옥수수 수입량이 증가하면서 농민들이 피해를 입었습니다.

- < 보기 >
- ㄱ. (가)는 (다)보다 국가 내 3차 산업 종사자 비율이 높다.
 - ㄴ. (나)는 (다)보다 국가 내 영어 사용자 비율이 높다.
 - ㄷ. (다)는 (나)보다 1인당 국내 총생산이 많다.
 - ㄹ. (다)는 (가)로의 수출액보다 (나)로의 수출액이 많다.

- ① ㄱ, ㄴ ② ㄱ, ㄷ ③ ㄴ, ㄷ ④ ㄴ, ㄹ ⑤ ㄷ, ㄹ

11. (가)~(다) 도시에 대한 설명으로 옳은 것은?

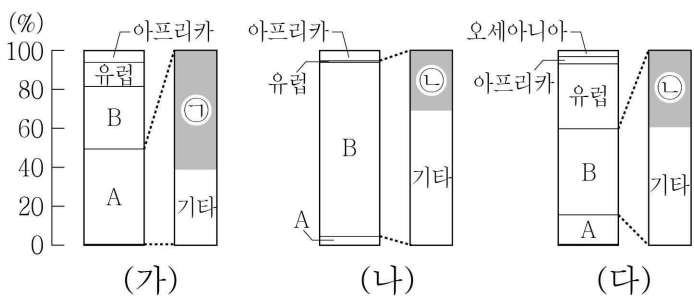
(가) 월스트리트, 브로드웨이 등 세계의 경제, 문화 중심지 역할을 하는 장소가 있으며, 허드슨강에 있는 자유의 여신상은 이 도시의 대표적인 랜드마크이다.

(나) 아시아에 진출하려는 다국적 기업들의 전초 기지 역할을 하였다. 과거 영국의 식민지였으나 중국에 반환되었고, 최근에는 자치권을 확보하려는 민주화 시위가 일어나기도 하였다.

(다) 유럽 연합(EU)의 본부 및 주요 기관, 북대서양 조약 기구(NATO)의 본부 등이 위치하고 있어 유럽의 정치적 수도 역할을 하고 있다.

- ① (가)는 태평양 연안에 위치한다.
- ② (다)에는 에펠탑과 루브르 박물관이 있다.
- ③ (가)는 (다)보다 도시 발달의 역사가 길다.
- ④ (나)는 (가)보다 세계 도시 체계에서 상위 계층을 차지한다.
- ⑤ (가)와 (다) 간 항공기 운항 편수는 (나)와 (다) 간 항공기 운항 편수보다 많다.

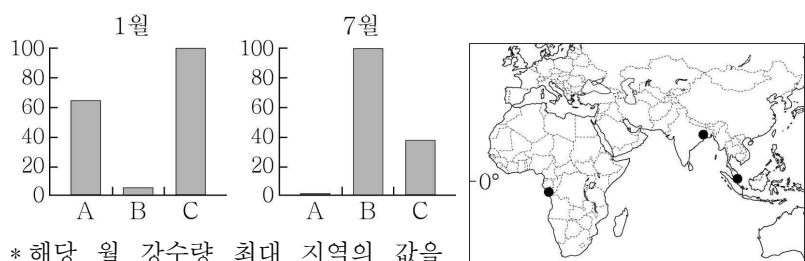
12. 그래프는 세계 3대 식량 작물의 생산량 현황을 나타낸 것이다. 이에 대한 설명으로 옳은 것은? (단, A, B는 각각 아메리카, 아시아 중 하나임.) [3점]



* ㉠, ㉡은 각 작물의 해당 지역(대륙) 내 생산량 1위 국가임. (2019년)

- ① ㉠은 중국, ㉡은 미국이다.
- ② (가)는 (나)보다 세계 생산량이 많다.
- ③ (다)는 (가)보다 바이오 에탄올의 원료로 많이 사용된다.
- ④ A는 B보다 밀 생산량이 많다.
- ⑤ (가)의 기원지는 B에 위치한다.

13. 그래프는 지도에 표시된 세 지역의 강수량을 나타낸 것이다. A~C 지역에 대한 설명으로 옳은 것은? [3점]



* 해당 월 강수량 최대 지역의 값을 100으로 했을 때의 상대값임.

- ① A는 1월에 아열대 고압대의 영향을 받는다.
- ② B는 1월보다 7월의 낮 길이가 길다.
- ③ C는 기온의 연교차가 기온의 일교차보다 크다.
- ④ A는 B보다 계절풍의 영향을 많이 받는다.
- ⑤ B는 C보다 연간 대류성 강수의 발생 빈도가 높다.

14. (가)~(다) 화석 에너지에 대한 설명으로 옳은 것은?

2022년 러시아와 우크라이나의 전쟁 여파로 세계 에너지 시장이 불안정해졌다. (가)의 세계 최대 수출 국가인 러시아는 자국에 대한 경제 제재에 동참한 유럽 국가에 파이프라인을 통한 (가)의 공급량을 줄이려는 움직임을 보이고 있어 유럽 국가들의 긴장감이 높아지고 있다. 한편 탄소 중립을 표방하던 독일은 (가)의 공급이 불안정해지자 화석 에너지 중 대기 오염 물질을 가장 많이 배출하는 (나)의 소비량을 늘리고 있다. 또한 러시아는 세계에서 가장 많이 소비되는 화석 에너지인 (다)을/를 저렴하게 판매하고 있어 경제 제재에 동참하지 않은 일부 국가는 러시아로부터 (다)의 구매량을 늘리고 있다.

- ○○신문, 2022년 5월 △△일 -

- ① (가)는 산업 혁명 당시 주요 에너지원이었다.
- ② (나)는 주로 신생대 제3기층에 매장되어 있다.
- ③ (다)의 세계 최대 생산 국가는 중국이다.
- ④ (가)는 (다)보다 수송용으로 많이 이용된다.
- ⑤ (다)는 (나)보다 국제 이동량이 많다.

15. 다음 글의 ㉠~㉣에 대한 옳은 설명만을 <보기>에서 고른 것은?

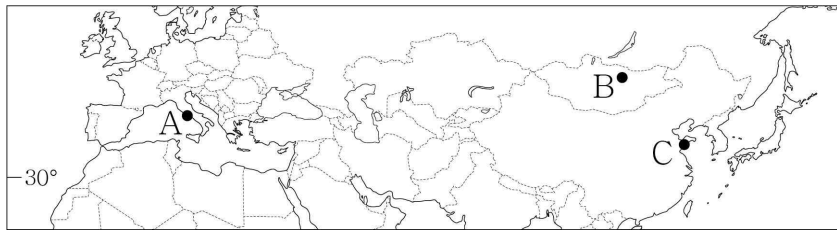
몬순 아시아는 남부 아시아, 동남아시아, 동아시아로 지역을 구분할 수 있다. 남부 아시아에는 히말라야산맥에서 발원한 ㉠인더스강, 갠지스강 등이 흐르며, 해안을 따라 ㉡서고츠산맥과 동고츠산맥이 분포한다. 동남아시아에서는 지형의 영향으로 ㉢메콩강, 짜오프라야강, 이라와디강 등 큰 하천이 대체로 북쪽에서 남쪽으로 흐른다. 동아시아의 ㉣중국에는 평야보다 고원과 산지가 넓게 분포해 있으며, 판의 경계에 위치한 일본에서는 화산 활동과 지진이 활발하게 일어난다.

< 보 기 >

㉠. ㉠의 하류에 방글라데시가 위치한다.
 ㉡. ㉡의 서쪽 사면은 동쪽 사면보다 연 강수량이 많다.
 ㉢. ㉢의 유역에서는 쌀이 밀보다 많이 재배된다.
 ㉣. ㉣은 서쪽에서 동쪽으로 갈수록 해발 고도가 대체로 높아진다.

- ① ㉠, ㉡ ② ㉠, ㉢ ③ ㉡, ㉢ ④ ㉡, ㉣ ⑤ ㉢, ㉣

16. 지도에 표시된 세 지역의 기후 특성을 옳게 비교한 항목만을 ㉠~㉣에서 고른 것은?

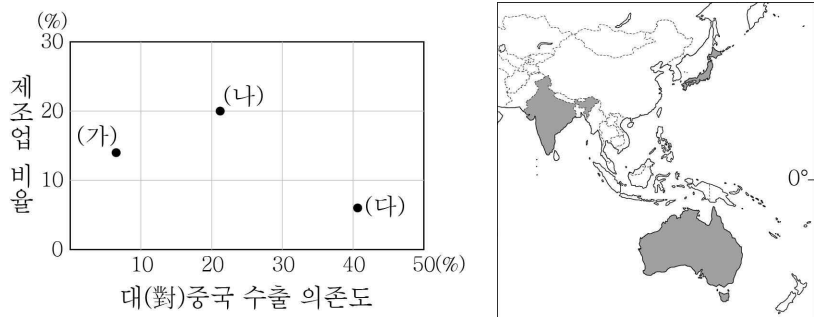


항목 \ 지역	A	B	C
연 강수량	□	■	■
기온의 연교차	□	■	■
최한월 평균 기온	■	□	■
6~8월 강수 집중률	■	■	□

적음, 작음, 낮음 ← 많음, 큼, 높음

- ① ㉠, ㉡ ② ㉠, ㉢ ③ ㉡, ㉣ ④ ㉡, ㉣ ⑤ ㉢, ㉣

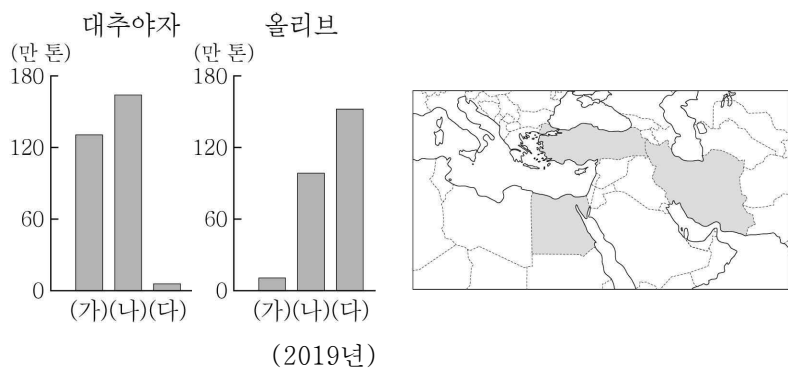
17. 그래프는 지도에 표시된 세 국가의 특징을 나타낸 것이다. (가)~(다) 국가에 대한 설명으로 옳은 것은? [3점]



* 제조업 비율은 각 국가의 국내 총생산액 중 제조업 생산액 비율임.
 ** 대(對)중국 수출 의존도는 각 국가의 총수출액 중 중국으로의 수출액 비율임. (2020년)

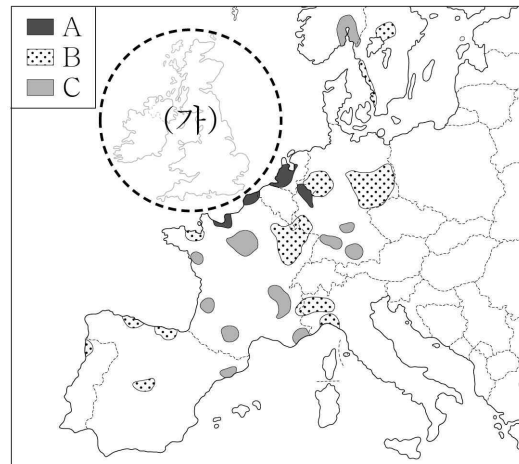
- ① (나)는 벵갈루루를 중심으로 첨단 산업이 발달하였다.
 ② (다)는 몬순 아시아에 위치한다.
 ③ (가)는 (나)보다 1차 산업 종사자 수가 많다.
 ④ (나)는 (다)보다 석탄 수출량이 많다.
 ⑤ (다)는 (가)보다 인구 밀도가 높다.

18. 그래프는 지도에 표시된 세 국가의 작물별 생산량을 나타낸 것이다. (가)~(다) 국가에 대한 설명으로 옳은 것은? [3점]



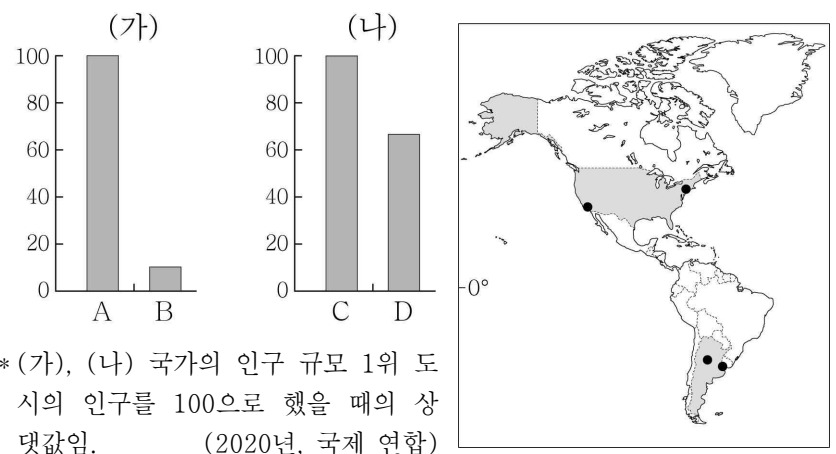
- ① (가)는 지중해 연안에 위치한다.
 ② (나)는 국토의 대부분이 신기 조산대에 속한다.
 ③ (가)는 (나)보다 쌀 생산량이 많다.
 ④ (나)는 (다)보다 제조업 생산액이 많다.
 ⑤ (가)와 (다)는 국경을 접하고 있다.

19. 지도는 유럽의 주요 공업 지역을 A~C 유형으로 구분한 것이다. (가)에 들어갈 지도로 옳은 것은? (단, A~C는 각각 쇠퇴하는 공업 지역, 첨단 기술 산업 지역, 해운·하운 교통 발달 지역 중 하나임.)



- ① ② ③ ④ ⑤
-

20. 그래프는 지도에 표시된 두 국가의 인구 규모 1위와 2위 도시의 인구를 비교한 것이다. 이에 대한 옳은 설명만을 <보기>에서 고른 것은? (단, A~D는 각각 지도에 표시된 네 도시 중 하나임.) [3점]



* (가), (나) 국가의 인구 규모 1위 도시의 인구를 100으로 했을 때의 상대값임. (2020년, 국제 연합)

- < 보 기 >
 ㄱ. A는 C보다 생산자 서비스업 종사자 수가 많다.
 ㄴ. D는 B보다 해상 교통 발달에 유리하다.
 ㄷ. (나)는 (가)보다 국내 총생산이 많다.
 ㄹ. C는 (나)의 수도이다.

- ① ㄱ, ㄴ ② ㄱ, ㄷ ③ ㄴ, ㄷ ④ ㄴ, ㄹ ⑤ ㄷ, ㄹ

* 확인 사항
 ○ 답안지의 해당란에 필요한 내용을 정확히 기입(표기)했는지 확인하십시오.