


제 4 교시

사회탐구 영역(사회·문화)

성명		수험번호				3				제 () 선택
----	--	------	--	--	--	---	--	--	--	----------

1. 밑줄 친 ㉠~㉣과 같은 현상의 일반적인 특징에 대한 설명으로 옳은 것은?

제주도 서귀포 앞 바다에서는 ㉠ 돌고래들이 무리 지어 헤엄치는 모습이 자주 목격된다. 이 무리 중에는 ㉡ 놀이 공원



에서 운영하는 돌고래 쇼에 시달리다가 ㉢ 대법원 판결에 의해 제주도 바다로 방생된 남방큰돌고래도 있다. ㉣ 남방큰돌고래의 평균 수명은 40년이다. 그러나 냉동 생선만 먹으며 휴일도 없이 일 년 내내 쇼를 해야 하는 수족관에서는 겨우 4년밖에 살지 못한다.

- ① ㉠과 같은 현상은 ㉢과 같은 현상과 달리 가치 함축적이다.
- ② ㉡과 같은 현상은 ㉣과 같은 현상에 비해 인과 관계가 분명하다.
- ③ ㉢과 같은 현상은 ㉠과 같은 현상과 달리 확률의 원리가 적용된다.
- ④ ㉠, ㉡과 같은 현상은 ㉣과 같은 현상과 달리 보편성과 특수성이 공존한다.
- ⑤ ㉡과 같은 현상은 ㉠, ㉢, ㉣과 같은 현상과 달리 존재 법칙의 지배를 받는다.

2. 다음의 수업 상황에서 (가)에 들어갈 교사의 진술로 적절하지 않은 것은?

교사: 문화 동화, 문화 병존, 문화 융합에 해당하는 사례 중에서 각자 2개씩 조사하여 제시해 볼까요?

학생	제시한 사례
갑	<ul style="list-style-type: none"> ○ 전통 복식이 사라지고 서양에서 들어온 복식이 보편화된 경우 ○ 고유의 가옥 형태가 사라지고 외국에서 유입된 아파트 문화가 보편화된 경우
을	<ul style="list-style-type: none"> ○ 과거 식민 통치 시절에 사용된 외국어를 현재에도 고유한 언어와 함께 공용어로 사용하는 경우 ○ 유럽에서 넘어온 팝 음악이 유행이지만 전통적인 민속 음악을 즐기는 사람들도 여전히 많은 경우
병	<ul style="list-style-type: none"> ○ 전통 종교와 외래 종교가 나란히 존재하는 경우 ○ 전통 음식 문화와 외국에서 들어온 음식 문화가 접목되어 제3의 새로운 음식 문화가 나타난 경우

교사: 모두 옳게 제시했군요. (가)

- ① 갑은 자문화의 요소가 사라진 사례를 제시했네요.
- ② 을은 문화 병존과 문화 융합에 해당하는 사례를 제시했네요.
- ③ 병이 제시한 사례에는 기존 문화와 외래문화가 만나 새로운 문화 요소를 창조한 사례가 있네요.
- ④ 갑은 을, 병과 달리 문화 동화의 사례만을 제시했네요.
- ⑤ 여러분이 제시한 사례 중 문화 병존의 사례가 가장 많네요.

3. 다음 자료에 대한 옳은 설명만을 <보기>에서 고른 것은?

(가) 북알래스카의 이누피악족(族)은 과거에는 카약을 타고 바다 포유류를 사냥하며 이동 생활을 하였으나 지금은 ㉠ 눈자동차(snowmobile), 전기 설비 등 현대적 거주 환경을 갖춘 마을에서 정착하여 생활하고 있다.

(나) 시베리아의 축치족(族)은 형이 죽은 경우 동생이 계승자가 되어 형수와 결혼하고 조카들을 돌보는 ㉡ 형제연혼의 관습을 갖고 있다. 이는 유목과 어로를 통해 생계를 유지해야 하는 환경적 조건과 밀접하게 관련되어 있다.

< 보 기 >

ㄱ. ㉠은 비물질문화, ㉡은 물질문화에 해당한다.
 ㄴ. (가)는 시간의 흐름에 따라 문화가 변화함을 보여 준다.
 ㄷ. (나)는 문화 구성 요소들이 상호 유기적으로 결합되어 있음을 보여 준다.
 ㄹ. (가), (나)에서 공통적으로 부각되는 문화의 속성은 축적성이다.

- ① ㄱ, ㄴ ② ㄱ, ㄷ ③ ㄴ, ㄷ ④ ㄴ, ㄹ ⑤ ㄷ, ㄹ

4. 다음 연구에 대한 옳은 설명만을 <보기>에서 있는 대로 고른 것은? [3점]

갑은 고등학교에서 ㉠ 수업 중 스마트 기기 활용 여부가 ㉡ 학업 성취도에 미치는 영향을 알아보려고 하였다. 이를 위해 △△고등학교에서 ㉢ □□ 과목을 수강하는 학생 40명, ㉣ ○○ 과목을 수강하는 학생 40명을 무작위로 선정하였다. 이후 과목별로 A 집단(20명)과 B 집단(20명)으로 나누어 한 학기 동안 A 집단은 ㉤ 개인별로 지급된 스마트 기기를 활용하는 수업을 실시하고, B 집단은 평소대로 개인별 스마트 기기 활용 없이 수업을 실시하였다. 스마트 기기 활용 수업 이전과 이후의 학업 성취도 측정 결과는 아래 표와 같았고, 두 과목 중 ㉥ 한 과목에서만 수업 중 스마트 기기 활용이 학업 성취도에 유의미한 영향을 미치는 것으로 나타났다. (단위: 점)

구분		□□ 과목		○○ 과목	
		A 집단	B 집단	A 집단	B 집단
학업 성취도	사전 검사	63	61	72	71
	사후 검사	63	62	85	73

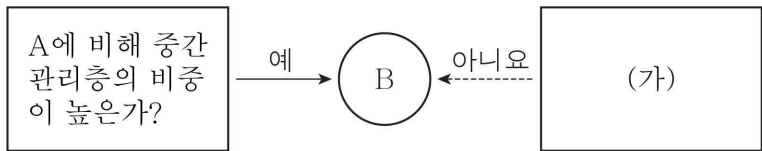
* 학업 성취도는 100점 만점이며, 제시된 숫자는 각 집단 학생들의 학업 성취도 수준을 대표할 수 있도록 통계적으로 산출한 점수임.

< 보 기 >

ㄱ. ㉠은 독립 변인, ㉡은 종속 변인이다.
 ㄴ. ㉢은 실험 집단, ㉣은 통제 집단이다.
 ㄷ. ㉤은 독립 변인의 효과를 측정하기 위한 실험 처치이다.
 ㄹ. ㉥은 '○○ 과목'이다.

- ① ㄱ, ㄴ ② ㄱ, ㄷ ③ ㄴ, ㄹ
 ④ ㄱ, ㄷ, ㄹ ⑤ ㄴ, ㄷ, ㄹ

5. 그림은 사회 조직의 운영 원리 A, B의 특징을 파악하기 위한 것이다. 이에 대한 설명으로 옳은 것은? (단, A와 B는 각각 관료제, 탈관료제 중 하나이다.)



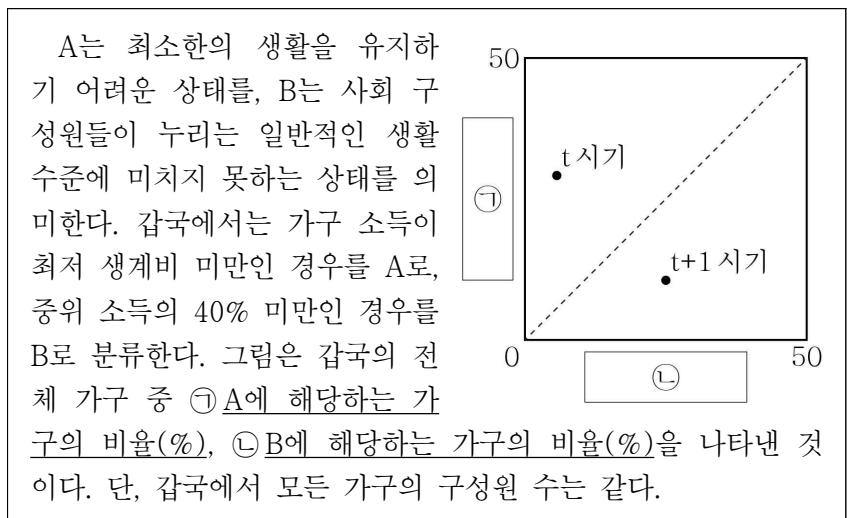
- ① A는 B에 비해 연공서열에 따른 보상 체계를 중시한다.
- ② A는 B에 비해 조직 구성원의 재량권 및 자율성이 낮다.
- ③ B는 A와 달리 상향식 의사 결정 방식을 중시한다.
- ④ B는 A에 비해 권한과 책임에 따른 위계 서열을 중시한다.
- ⑤ (가)에 '업무 수행의 효율성을 추구하는가?'가 들어갈 수 있다.

6. 밑줄 친 ㉠~㉣에 대한 설명으로 옳은 것은?

갑은 ㉠ 아버지의 뜻에 따라 의예과에 진학하기 위해 열심히 공부했지만 낙방했다. 그 후 ㉡ 생물학과에 입학했으나 본인이 원하던 학과가 아니었기에 대학 생활은 뒷전으로 하고 ㉢ 지역 사진 동호회에 가입하여 활동하였다. 사진작가, 아나운서, ㉣ 외교관 등 다양한 진로에 대해 ㉤ 고민이 많던 갑은 어느 날 과학 철학서를 읽은 후 생물학 공부에 매진하게 되었다. 현재 ㉥ 세계적 권위의 생물학자로 존경받고 있는 갑은 평소의 신념에 따라 생태주의 운동을 표방하는 ㉦ ○○ 환경 단체에 가입하여 열정적으로 활동하고 있다.

- ① ㉠은 귀속 지위, ㉡은 성취 지위이다.
- ② ㉢은 2차적 사회화 기관, ㉣은 공식적 사회화 기관이다.
- ③ ㉤은 갑의 역할 갈등에 해당한다.
- ④ ㉥은 갑의 역할에 대한 보상에 해당한다.
- ⑤ ㉦은 갑의 내집단지자 준거 집단이다.

7. 다음 자료에 대한 옳은 분석만을 <보기>에서 고른 것은? [3점]

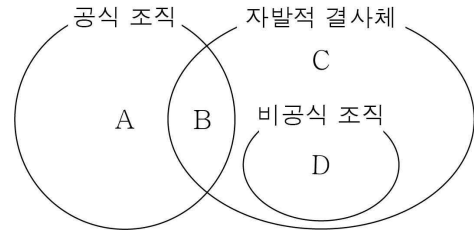


< 보 기 >

ㄱ. ㉠과 ㉡을 더하면 갑국의 전체 빈곤율이 된다.
 ㄴ. ㉠과 ㉡은 모두 객관화된 기준에 의해 측정된다.
 ㄷ. t 시기에는 A이지만 B는 아닌 가구가 있다.
 ㄹ. t+1 시기에는 중위 소득의 40%가 최저 생계비보다 낮다.

- ① ㄱ, ㄴ ② ㄱ, ㄷ ③ ㄴ, ㄷ ④ ㄴ, ㄹ ⑤ ㄷ, ㄹ

8. 그림은 사회 집단 및 사회 조직의 사례 A~D를 성격에 따라 구분한 것이다. 이에 대한 설명으로 옳은 것은? [3점]



- ① 노동조합은 A, 동네 조기 축구회는 C에 해당한다.
- ② 시민 단체는 B, 회사 내 등산 동호회는 D에 해당한다.
- ③ A는 B와 달리 공식적 규범과 절차가 체계화된 집단이다.
- ④ B는 C와 달리 가입과 탈퇴가 자유로운 집단이다.
- ⑤ D는 A와 달리 형식적이고 수단적인 인간관계가 지배적인 집단이다.

9. 밑줄 친 ㉠, ㉡에 대한 설명으로 옳은 것은?

○ 갑국의 시민 단체는 최근에 심각해지고 있는 국내 생태계 파괴 문제를 해결하기 위해 ㉠ 유해 외래종 퇴치 운동을 전개하고 있다.
 ○ 을국의 ○○ 단체는 소수 특권층에 의한 자국의 봉건적 체제에 반대하여 ㉡ 신분제를 철폐하고 민주주의 국가를 건설하기 위한 운동을 전개하고 있다.

- ① ㉠은 사회 구조 전체의 근본적 변화를 목적으로 한다.
- ② ㉡은 과거 사회 구조로 돌아가려는 복고적 성격을 띤다.
- ③ ㉠은 ㉡과 달리 사회 운동에 해당하지 않는다.
- ④ ㉡은 ㉠과 달리 점진적 변화를 추구하고 있다.
- ⑤ ㉠과 ㉡ 모두 자신의 활동을 정당화하는 신념을 바탕으로 한다.

10. 표는 갑국의 지역별 총부양비와 노년 부양비를 나타낸 것이다. 이에 대한 설명으로 옳은 것은? (단, 갑국은 A~C 지역만으로 구성되며, A 지역의 인구는 B 지역의 2배이고 B 지역의 인구는 C 지역의 2배이다.) [3점]

구분	A 지역	B 지역	C 지역
총부양비	400	150	150
노년 부양비	50	100	75

*총부양비 = $\{(0 \sim 14\text{세 인구} + 65\text{세 이상 인구}) / 15 \sim 64\text{세 인구}\} \times 100$
 *유소년 부양비 = $(0 \sim 14\text{세 인구} / 15 \sim 64\text{세 인구}) \times 100$
 *노년 부양비 = $(65\text{세 이상 인구} / 15 \sim 64\text{세 인구}) \times 100$

- ① 갑국의 총부양비는 300이다.
- ② 15~64세 인구는 B 지역이 C 지역보다 적다.
- ③ 유소년 부양비가 가장 낮은 지역은 C 지역이다.
- ④ 지역별 인구 중 65세 이상 인구가 차지하는 비율은 B 지역이 가장 높다.
- ⑤ A~C 지역 모두 지역별 인구 중 15~64세 인구가 차지하는 비율이 50%를 넘는다.

11. 표는 사회·문화 현상을 바라보는 관점 A~C를 구분한 것이다. 이에 대한 옳은 설명만을 <보기>에서 고른 것은? (단, A~C는 각각 기능론, 갈등론, 상징적 상호 작용론 중 하나이다.)

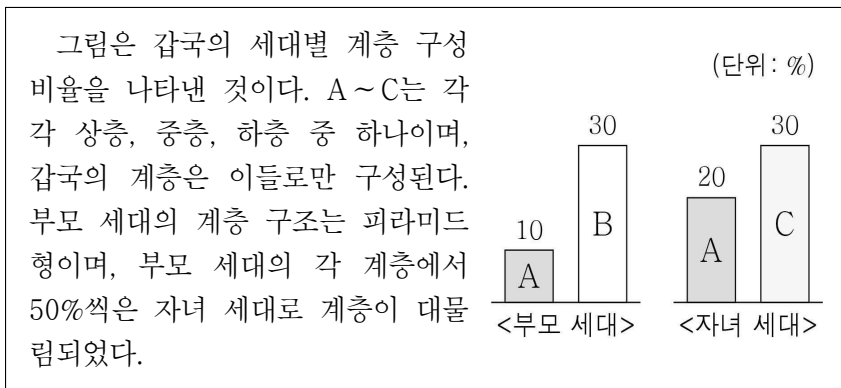
구분	해당 관점
사회 구성 요소의 상호 의존 관계에 주목하는 관점	A
개인의 주관적 상황 정의에 주목하는 관점	B
(가)	A, C

< 보 기 >

ㄱ. (가)에 '사회 구조에 초점을 두어 사회·문화 현상을 이해하는 관점'이 들어갈 수 있다.
 ㄴ. A는 사회가 본질적으로 조화와 균형을 이루고 있다고 본다.
 ㄷ. B는 집단 간 갈등을 사회 변동의 원동력으로 본다.
 ㄹ. C는 A와 달리 사회를 유기체와 유사하다고 본다.

- ① ㄱ, ㄴ ② ㄱ, ㄷ ③ ㄴ, ㄷ ④ ㄴ, ㄹ ⑤ ㄷ, ㄹ

12. 다음 자료에 대한 분석으로 옳은 것은? [3점]



- ① A는 하층이고, C는 상층이다.
 ② 자녀 세대의 계층 구조는 피라미드형이다.
 ③ 세대 간 상승 이동을 한 중층 자녀는 없다.
 ④ 세대 간 상승 이동이 세대 간 하강 이동보다 많다.
 ⑤ 자녀 세대는 부모 세대와 달리 개방적 계층 구조가 나타난다.

13. 다음 글에 나타난 사회 변동의 방향을 바라보는 관점에 대한 옳은 설명만을 <보기>에서 고른 것은?

문명의 변동은 3단계로 이루어진다. 1단계는 모든 현상이 초자연적인 존재들에 의해 산출된다고 보는 신학적 단계이며, 2단계는 자연적·추상적 법칙들이 현상의 설명 도구가 되는 형이상학적 단계이다. 마지막 단계는 추론과 관찰을 통한 과학적 탐구가 강조되는 실증적 단계이다. 이 단계에 도달한 사회는 합리성을 토대로 산업과 과학의 발전을 이룩하게 된다.

< 보 기 >

ㄱ. 운명론적 사고라는 비판을 받는다.
 ㄴ. 사회 변동은 곧 진보를 의미한다고 본다.
 ㄷ. 사회는 생성, 성장, 쇠퇴, 소멸을 반복한다고 본다.
 ㄹ. 사회는 단순한 형태에서 복잡한 형태로 발전한다고 본다.

- ① ㄱ, ㄴ ② ㄱ, ㄷ ③ ㄴ, ㄷ ④ ㄴ, ㄹ ⑤ ㄷ, ㄹ

14. 다음은 문화 이해의 태도를 활용한 게임이다. 이에 대한 옳은 설명만을 <보기>에서 고른 것은? [3점]

○ 게임 방법: 갑~병은 각자 카드 A~D가 1장씩 들어있는 꾸러미를 배부받는다. 갑은 자문화 중심주의, 을은 문화 상대주의, 병은 문화 상대주의의 특징에 해당하는 카드를 2장씩 골라야 한다. 두 장 모두 옳게 고르면 2점, 한 장만 옳게 고르면 1점, 두 장 모두 잘못 고르면 0점을 받는다.

A	B	C	D
문화의 다양성을 보존하는 데 기여한다.	타 문화를 추중하여 자문화의 가치를 폄해한다.	특정 문화를 기준으로 문화의 우열을 판단한다.	자기 문화의 정체성을 보존할 수 있다.

○ 게임 결과: 갑은 카드 A와 ㉠ 을, 을은 카드 B와 ㉡ 을, 병은 카드 C와 ㉢ 을 골랐다.

< 보 기 >

ㄱ. ㉠이 B라면 갑은 2점을 획득한다.
 ㄴ. ㉡이 C, ㉢이 B라면 을은 2점, 병은 0점을 획득한다.
 ㄷ. ㉢이 A이든 D이든 병이 획득하는 점수는 1점이다.
 ㄹ. ㉠이 B, ㉡이 C, ㉢이 D라면 최고 득점자는 갑이다.

- ① ㄱ, ㄴ ② ㄱ, ㄷ ③ ㄴ, ㄷ ④ ㄴ, ㄹ ⑤ ㄷ, ㄹ

15. 다음 자료에 대한 분석으로 옳은 것은? [3점]

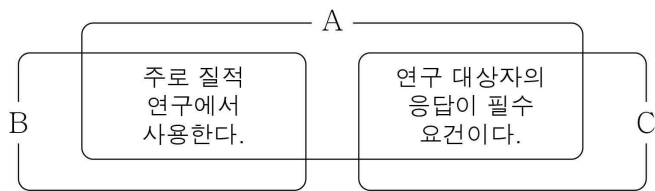
성별에 따른 임금 수준의 차이는 '임금 성비'라는 지표를 통해 파악해 볼 수 있다. 임금 성비는 '(여성의 평균 임금 / 남성의 평균 임금) × 100'으로 계산한다. 표는 갑국의 성별에 따른 월 평균 임금의 변화 추이를 전체 업종과 ○○ 업종으로 구분하여 나타낸 것이다.

(단위: 달러)

구분		t년	t+1년	t+2년
전체 업종	남성	1,000	1,500	2,000
	여성	600	900	1,500
○○ 업종	남성	800	1,300	1,800
	여성	700	1,200	1,800

- ① 전체 업종에서 t년과 t+2년의 임금 성비는 같다.
 ② 임금 성비는 모든 시점에서 ○○ 업종이 전체 업종보다 낮다.
 ③ ○○ 업종과 달리 전체 업종에서는 성별 임금 수준의 불평등이 심화되고 있다.
 ④ 전체 업종에서 월 평균 임금의 전년 대비 상승률은 남성의 경우 t+1년과 t+2년이 동일하다.
 ⑤ ○○ 업종에서 월 평균 임금의 전년 대비 상승률은 t+1년과 t+2년 모두 여성이 남성보다 높다.

16. 그림은 자료 수집 방법 A~C의 특징을 비교한 것이다. 이에 대한 설명으로 옳은 것은? (단, A~C는 각각 면접법, 질문지법, 참여 관찰법 중 하나이다.) [3점]



- ① A는 문맹자에게 실시할 수 없다.
- ② B는 인위적으로 통제된 상황에서 변수의 효과를 관찰한다.
- ③ C는 비표준화·비구조화된 자료 수집 방법이다.
- ④ A는 C에 비해 연구자의 편견이 개입될 가능성이 작다.
- ⑤ B는 C에 비해 실제성이 높은 생생한 자료의 수집에 용이하다.

17. 다음 글에 나타난 개인과 사회의 관계를 바라보는 관점에 부합하는 진술만을 <보기>에서 고른 것은?

아무리 내성적이고 과묵한 사람이라 할지라도 적극적으로 활동적인 태도를 요구하는 집단의 구성원이 되면 차츰 외향적으로 변해가기 마련이다. 이처럼 개개인의 성향도 그가 속한 사회의 영향을 받아 결정된다.

- < 보 기 >
- ㄱ. 개인의 사고와 행동은 사회에 의해 구속된다.
 - ㄴ. 개인은 자율적으로 행동하는 능동적 존재이다.
 - ㄷ. 사회는 개인의 외부에서 독자적으로 작동한다.
 - ㄹ. 사회의 속성은 개개인의 속성으로 환원될 수 있다.

- ① ㄱ, ㄴ ② ㄱ, ㄷ ③ ㄴ, ㄷ ④ ㄴ, ㄹ ⑤ ㄷ, ㄹ

18. 다음 자료에 대한 설명으로 옳은 것은? (단, A와 B는 각각 낙인 이론, 뒤르켐의 아노미 이론 중 하나이다.) [3점]

표는 각 질문에 대해 A와 B의 입장을 ‘예’ 또는 ‘아니요’로 표시한 후, 답변 중 일부만 보이도록 하고 나머지 답변은 가린 것이다.

질문	답변	
	A	B
일탈을 규정하는 객관적인 기준이 있다고 보는가?		
(가)		아니요
(나)	아니요	
‘예’인 답변의 개수	1개	2개

- ① (가)에 ‘1차적 일탈이 2차적 일탈로 이어지는 과정에 주목하는가?’가 들어갈 수 있다.
- ② (나)에 ‘문화적 목표와 제도적 수단 간의 괴리를 일탈 행동의 원인으로 보는가?’가 들어갈 수 있다.
- ③ B는 일탈 집단과의 교류로 일탈 행동이 학습된다고 본다.
- ④ A는 B와 달리 사회 구조적 차원에서 일탈 행동의 원인을 설명한다.
- ⑤ 일탈 행동에 대한 대책으로 A는 사회 규범의 통제력 회복을, B는 낙인에 대한 신중한 접근을 강조한다.

19. 밑줄 친 ㉠~㉣에 대한 옳은 설명만을 <보기>에서 고른 것은?

㉠ 정보 사회의 도래로 대면 접촉이 줄어들면서 파편화된 인간관계에 대한 우려도 있지만, ㉡ SNS(사회 관계망 서비스) 등 뉴 미디어의 발달이 타인과의 교류와 연대를 확장시켜 사회적 결속을 강화할 수 있다는 예측도 있다. 예를 들어 ㉢ 산업 사회에서는 고립되어 있던 개인들이 ㉣ SNS를 통해 관심사가 비슷한 사람들과 거주 지역에 관계없이 폭넓게 교류하며 결속을 다지고 적극적인 사회 구성원으로 활동할 수 있다.

- < 보 기 >
- ㄱ. ㉡은 쌍방향 매체의 정보 전달 비중을 확대시킨다.
 - ㄴ. ㉣은 사회적 관계 형성의 공간적 제약을 극복하는 모습을 보여 준다.
 - ㄷ. ㉠은 ㉢에 비해 가정과 일터의 분리 정도가 높다.
 - ㄹ. ㉣은 ㉠과 달리 다품종 소량 생산 방식이 지배적이다.

- ① ㄱ, ㄴ ② ㄱ, ㄷ ③ ㄴ, ㄷ ④ ㄴ, ㄹ ⑤ ㄷ, ㄹ

20. 다음 자료에 대한 분석으로 옳은 것은? (단, 갑국의 사회 보장 제도는 우리나라와 동일하다.) [3점]

○ 갑국 보건복지부 누리집의 한 장면

Q: ○○ 연금을 받고 있으면 △△ 연금을 받지 못하나요?

A: 결론부터 말씀드리면 받을 수 있습니다. △△ 연금의 기본적인 수급자 선정 기준은 연령과 소득 인정액입니다. 만 65세 이상이면서 소득 인정액이 기준 금액 이하이면 △△ 연금을 받을 수 있습니다.

* ○○ 연금: 가입자, 고용주 등이 분담해서 마련한 기금을 통해 노령, 장애 등에 대한 연금 급여를 지급하여 생활 안정을 도모하는 제도

○ 갑국의 지역별 인구 대비 ○○ 연금, △△ 연금 수급자 비율(%)

구분	A 지역	B 지역	C 지역	전체
○○ 연금 수급자	20	20	㉠	25
△△ 연금 수급자	10	15	15	㉡
○○ 연금과 △△ 연금의 중복 수급자	5	10	10	9

* 갑국은 A~C 지역만으로 구성되며, ○○ 연금과 △△ 연금의 중복 수급자의 수는 B 지역이 A 지역의 3배이다.

- ① ㉠은 14, ㉡은 30이다.
- ② 갑국의 ○○ 연금 수급자는 △△ 연금 수급자보다 적다.
- ③ 사후 처방적 성격이 강한 제도의 수급자는 A 지역이 B 지역보다 많다.
- ④ 강제 가입의 원칙이 적용되는 제도의 수급자는 B 지역이 C 지역보다 많다.
- ⑤ ○○ 연금과 △△ 연금 중 어느 하나의 수급자도 아닌 사람은 C 지역이 A 지역보다 많다.

* 확인 사항

○ 답안지의 해당란에 필요한 내용을 정확히 기입(표기)했는지 확인하십시오.