


제 4 교시

사회탐구 영역(동아시아사)

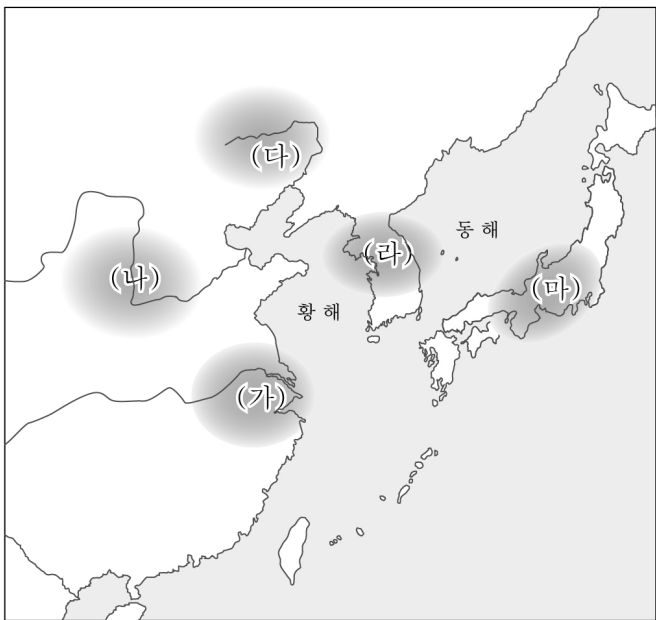
성명	수험번호	3	제 [] 선택
----	------	---	----------

1. 밑줄 친 ‘이 지역’을 지도에서 옳게 고른 것은?

신석기 시대 유물 카드



이 유물은 이 지역에서 발달한
홍산 문화의 토기이다. 바닥이 뚫려
있어 물건의 저장보다 제사에 사용
된 것으로 추정된다.



- ① (가) ② (나) ③ (다) ④ (라) ⑤ (마)

2. (가) 인물에 대한 설명으로 옳은 것은?

고사성어로 공부하는 동아시아사

사면초가(四面楚歌)
“사방이 적으로 둘러싸인 고립무원의 상태”

이 고사성어는 해하 전투에서 초(楚)의 군대를 포위한
한(漢)의 군대가 초의 노래를 울려 퍼지게 하여 적군의 사
기를 떨어뜨린 것에서 유래한다. 이 전투를 끝으로 초나
라와의 전쟁에서 최종 승리를 거둔 (가) 은/는 진(秦)
멸망 이후의 분열을 통일하고 황제에 올랐다.

- ① 군국제를 시행하였다.
② 분서갱유를 단행하였다.
③ 다이호 율령을 반포하였다.
④ 장건을 서역에 파견하였다.
⑤ 베이징에 자금성을 건설하였다.

3. (가) 국가에 대한 설명으로 옳은 것은?

(가) 의 사신이 그들의 군주인 선우의 표식을 들고 가면
월지는 음식을 대접하고 감히 괴롭히지 못하였다. 이는 일찍이
(가) 이/가 월지를 괴롭힌 적이 있었기 때문이다. 그러나
월지는 한(漢)의 사신이 폐물을 내놓지 않으면 음식과 탈 것
을 주지 않았는데, 자신들과 한이 멀리 떨어져 있다는 것을
믿고 한을 두려워하지 않았기 때문이다.

- 『한서』 -

- ① 골품제를 시행하였다.
② 낙랑군을 축출하였다.
③ 안남 도호부를 설치하였다.
④ 좌현왕과 우현왕을 두었다.
⑤ 남면관제와 북면관제를 실시하였다.

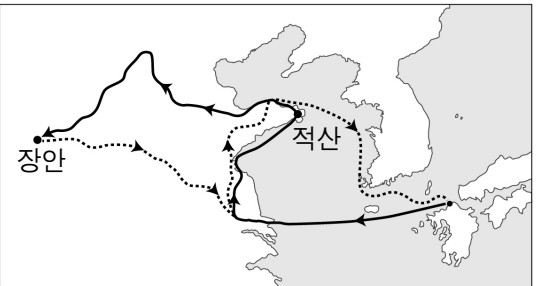
4. (가) 국가에 대한 설명으로 옳은 것은?

(가) 의 수도를 평성에서 뤼양으로 옮긴 효문제는 순행
으로 뤼양을 비울 때 아들 원순에게 뤼양의 방비와 각종 제사를
맡겼다. 그러나 남쪽의 더운 날씨를 견디지 못해 북쪽으로 돌
아갈 생각만 하던 원순은 아버지의 명령을 어기고 측근들과
몰래 모의해 평성으로 도망가려 하였다.

- ① 남비엣을 멸망시켰다.
② 사고전서를 편찬하였다.
③ 선비족과 한족의 융합을 시도하였다.
④ 송첸감포에게 문성 공주를 출가시켰다.
⑤ 호라즘을 정복하고 비단길을 장악하였다.

5. (가) 인물이 활동한 시기에 볼 수 있는 모습으로 가장 적절한 것은? [3점]

『입당구법순례행기』에 기록된 (가) 의 이동 경로



당으로 건너가 수년간 불법을 연구한 승려 (가) 은/는
불교와 관련된 많은 자료를 모아 일본으로 돌아왔다. 그가
남긴 『입당구법순례행기』에는 이동 경로와 함께 장안과 적
산 등에서 겪은 일들이 자세하게 서술되어 있다.

- ① 청해진을 순찰하는 장보고
② 쇼토쿠 태자의 스승이 된 혜자
③ 몽골과의 강화를 추진하는 장거정
④ 구법을 위해 인도로 출발하는 현장
⑤ 왜의 노국왕에게 금인을 하사하는 광무제

동아시아사

6. (가) 국가에 대한 설명으로 옳은 것은? [3점]

동북의 여러 오랑캐들이 모두 (가)에 복속되었으나, 발해만이 아직 복속되지 않았다. 이에 (가)은/는 남쪽으로 중원을 공격하고자 하였으나, 발해가 뒤에서 기습할까 두려워하였다. 그리하여 먼저 군사를 일으켜 발해를 공격하여 멸망시켰다.

- ① 지정은제를 시행하였다.
- ② 맹안·모극제를 실시하였다.
- ③ 송과 전연의 맹약을 체결하였다.
- ④ 행성을 설치하고 다루가치를 파견하였다.
- ⑤ 중국의 남북조와 모두 조공·책봉 관계를 맺었다.

7. 밑줄 친 '이 전쟁' 중에 있었던 사실로 옳은 것은?

도요토미 히데요시의 명을 받은 고니시 유키나가의 부산 침공으로 시작된 이 전쟁에 명(明) 황제께서 천하의 군사를 동원하여 우리를 구제하셨습니다. 이에 백성들은 지금까지도 그 은혜를 마음과 뼈에 새기고 있습니다. 그리하여 차라리 대국에게 잘못 보이는 한이 있더라도 차마 명(明)을 저버릴 수는 없다고 하니, 이것은 은혜를 베푼 것이 두터워 사람을 깊이 감동시켰기 때문입니다.


- ① 기유약조가 체결되었다.
- ② 토목보의 변이 일어났다.
- ③ 모문룡이 가도에 주둔하였다.
- ④ 일본이 명에게 무역 재개 등을 요구하였다.
- ⑤ 윤관이 별무반을 이끌고 여진을 정벌하였다.

8. 밑줄 친 '이 막부' 시기 동아시아 각국의 상황으로 옳은 것만을 <보기>에서 고른 것은? [3점]

동아시아사 산책 2022년 여름호

호이안에 남아있는 일본의 흔적을 찾아서

국제 무역항으로 번성했던 호이안에는 일본 상인들의 마을이 형성되었다. 그러나 슈인장 무역을 허용하던 이 막부가 크리스티교의 확산 등을 이유로 해금 정책을 실시하면서, 일본 상인들의 마을은 점차 쇠퇴하였다. 하지만 지금까지도 일본의 영향을 받은 건축물들이 남아있는데, 대표적인 것이 일본인 다리로 불리는 내원교이다.



▲ 내원교(來遠橋)
- 베트남 꽝남성 호이안

- < 보 기 >
- ㄱ. 한국 - 내상, 만상 등 사상이 활동하였다.
 - ㄴ. 중국 - 산둥반도에 발해관이 설치되었다.
 - ㄷ. 중국 - 홍타이지가 조선에 군신 관계를 요구하였다.
 - ㄹ. 일본 - 센고쿠 다이묘들이 조총을 활용하여 각축을 벌였다.

- ① ㄱ, ㄴ ② ㄱ, ㄷ ③ ㄴ, ㄷ ④ ㄴ, ㄹ ⑤ ㄷ, ㄹ

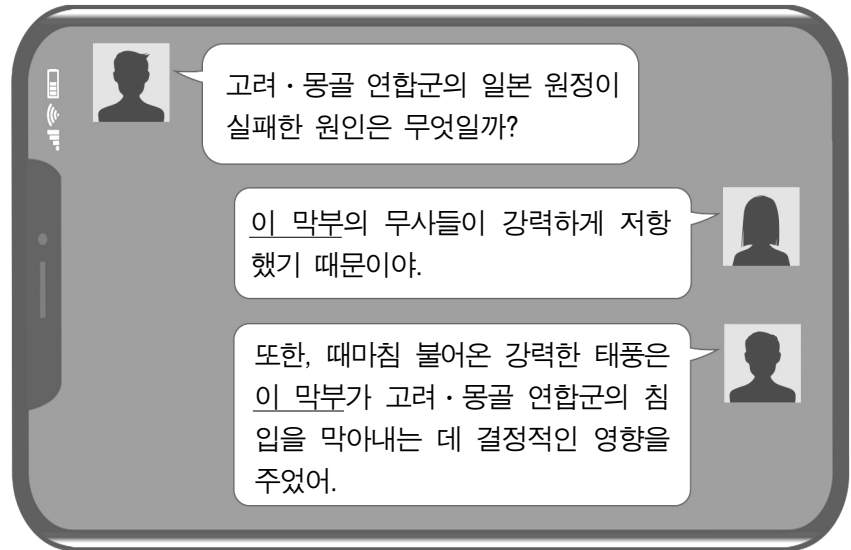
9. 다음 상황이 전개된 시기를 연표에서 옳게 고른 것은? [3점]

화북을 차지한 청이 점차 남쪽으로 세력을 확대하자, 반청운동의 거점을 확보하기 위해 타이완에 도착한 정성공은 네덜란드군의 질란디아 요새를 공격하기 시작했다. 약 9달간의 전투 끝에 네덜란드군은 항복하였고, 모든 재산을 질란디아 요새에 남겨두고 물러났다. 네덜란드군은 바타비아로 떠났고, 정성공은 타이완을 장악하였다.

	(가)	(나)	(다)	(라)	(마)
나가시노 전투	에도 막부 수립	후금 건국	인조 반정	병자호란 발발	천계령 해제

- ① (가) ② (나) ③ (다) ④ (라) ⑤ (마)

10. 밑줄 친 '이 막부'에 대한 설명으로 옳은 것은?



고려·몽골 연합군의 일본 원정이 실패한 원인은 무엇일까?

이 막부의 무사들이 강력하게 저항했기 때문이야.

또한, 때마침 불어온 강력한 태풍은 이 막부가 고려·몽골 연합군의 침입을 막아내는 데 결정적인 영향을 주었어.


- ① 견당사를 파견하였다.
- ② 다이카 개신을 단행하였다.
- ③ 남북조의 분열을 수습하였다.
- ④ 명과 감함 무역을 시작하였다.
- ⑤ 미나모토노 요리토모가 개창하였다.

11. (가) 인물에 대한 설명으로 옳은 것은?

그는 총명하여 어느 글이라도 익히지 못하는 것이 없었습니다. 그가 훌륭한 인재란 것을 알게 된 도쿠가와 이에야스는 수도에 집을 지어 주고 해마다 쌀을 2천 석씩 주었습니다. 그러나 그는 집을 버리고 살지 아니하였고 곡식도 받지 않았습니다.

- 『간양록』 -

강항이 (가)에 대해 서술한 기록입니다. (가)은/는 강항의 도움으로 사서오경왜훈을 저술하였습니다.




- ① 해체신서를 편찬하였다.
- ② 백운동 서원을 건립하였다.
- ③ 곤여만국전도를 제작하였다.
- ④ 하야시 라잔에게 성리학을 전수하였다.
- ⑤ 공자, 맹자 시대 유학으로의 복귀를 추구하였다.

12. (가)에 대한 설명으로 옳은 것만을 <보기>에서 고른 것은? [3점]

< 이와미 광산 > 전시실 안내


일본의 (가) 생산량이 전 세계 3분의 1에 달하던 16세기 말 이와미 광산의 모습을 살펴보세요!

제2 전시실



(가) 을/를 회취법을 활용하여 제련하는 모습을 재현해 놓았습니다.

제1 전시실



16세기 말, 일본의 대외 무역과 관련된 자료를 전시하고 있습니다.

정보 코너 | 오리엔테이션실

- < 보 기 >
- ㄱ. 한국 - 왜관을 통해 일본에 수출한 주요 상품이었다.
 - ㄴ. 중국 - 일조편법에서 세금 납부에 이용되었다.
 - ㄷ. 중국 - 아편 밀무역 증가로 영국에 수출되었다.
 - ㄹ. 일본 - 송에서 대량으로 수입하여 화폐로 유통되었다.
- ① ㄱ, ㄴ ② ㄱ, ㄷ ③ ㄴ, ㄷ ④ ㄴ, ㄹ ⑤ ㄷ, ㄹ

13. 다음 문서가 작성된 해에 있었던 사실로 옳은 것은? [3점]

양력을 널리 쓰기 위해 다가오는 음력 11월 17일을 양력 1월 1일로 삼았으니, 올해 음력 11월 17일 이후에는 내년도 예산으로 새로 편성할 예정입니다.

금년도 월별 예산표 중 음력 11월 17일부터 12월 말일까지는 예산 배부를 정지할 것이니 이러한 내용을 알고 계시기 바랍니다.

내각 총리대신 김홍집

- ① 여권통문이 발표되었다.
- ② 타이완이 일본에 할양되었다.
- ③ 경인선 개통식이 거행되었다.
- ④ 광저우에 공행이 설치되었다.
- ⑤ 대일본 제국 헌법이 제정되었다.


14. (가) 왕조 시기의 동아시아 문화에 대한 설명으로 옳지 않은 것은?

메타버스로 체험하는 (가) 의 문화


홍루몽 웹툰 보기



연화 그리기



경극 공연 감상




메타버스를 활용한 체험 활동에 학생 여러분을 초대합니다. 직접 만든 아바타로 (가) 의 대표적인 문화를 체험하세요. 웹툰으로 재탄생한 홍루몽을 보며 (가) 의 건륭제 시기 사회 모습을 파악할 수 있습니다. 또한 당시 민간에서 유행했던 연화 그리기, 종합 공연 예술로 평가되는 경극 공연 감상 등 다양한 온라인 체험 활동에 참여해 보세요!

- ① 한국 - 한글 소설이 유행하였다.
- ② 중국 - 대안탑이 창건되었다.
- ③ 중국 - 고증학이 발전하였다.
- ④ 일본 - 우키요에가 발달하였다.
- ⑤ 일본 - 데라코야가 확산되었다.

15. 밑줄 친 '이 사건'에 대한 설명으로 옳은 것은? [3점]

유네스코 세계유산인 이화원은 중국 정원 조경의 걸작으로 평가됩니다. 서구 열강에 의해 파괴된 이후 서태후가 재건하였으나, 1899년 산둥에서 시작된 이 사건을 진압하기 위해 출병한 8개국 연합군에 의해 다시 한번 파손되었습니다.



- ① 부청멸양을 구호로 내세웠다.
- ② 공화정 수립을 목표로 삼았다.
- ③ 금릉 기기국 설치의 계기가 되었다.
- ④ 태평천국 운동이 발생하는 원인이 되었다.
- ⑤ 변법자강 운동이 일어나는 데 영향을 끼쳤다.

16. 밑줄 친 '이 조약'에 대한 설명으로 옳은 것은? [3점]

○○일보 1997. 7. 1.

영국, 홍콩을 중국에 반환하다

홍콩 컨벤션센터에서 열린 홍콩 주권 이양식에서 1997년 7월 1일을 기해 영국은 홍콩의 주권을 공식적으로 중국에 반환하였다. 1842년에 체결된 이 조약으로 영국에 할양되었던 홍콩이 반환된 순간이었다. 중국의 특별행정구로 새롭게 출범한 홍콩은 향후 50년간 정치·경제·사법 등의 분야에서 높은 수준의 자치권을 인정받게 되었다.

- ① 외교관의 베이징 주재를 인정하였다.
- ② 크리스티고 포교 자유가 약속되었다.
- ③ 페리 함대의 무력 시위로 체결되었다.
- ④ 베이징에 외국군의 주둔을 허용하였다.
- ⑤ 상하이 등 5개 항구의 개항을 포함하였다.

17. 밑줄 친 '전쟁'에 대한 설명으로 옳은 것은?

이번 전쟁의 결과 체결된 포츠머스 조약으로 극동에서 정치적 균형은 명백하게 일본 쪽으로 기울어졌습니다. 이제부터 청국과 만주 지역 주민들에게 미칠 일본의 영향력은 우리에게 좋지 않은 결과를 가져올 것입니다. 게다가 일본이 다룬, 뒤순을 차지하면서 남만주의 경제를 전적으로 장악하게 될 것입니다.

- 「그로테코프의 상주 보고서」 -

- ① 루거우차오 사건을 빌미로 일어났다.
- ② 삼국 간섭이 일어나는 계기가 되었다.
- ③ 을사조약이 체결되는 데 영향을 주었다.
- ④ 제1차 국·공 합작이 성립되는 결과를 가져왔다.
- ⑤ 전개 과정에서 일본이 21개조 요구를 제시하였다.

18. 다음 뉴스가 보도된 시기를 연표에서 옳게 고른 것은?

뉴스 속보

오늘 양국이 합의한 중·일 공동 성명에 근거하여 일본 정부는 중화 인민 공화국이 중국의 유일한 합법 정부임을 승인하였습니다. 이로써 다나카 내각 출범 후 2개월여 만에 일본은 중국과 국교를 정상화하였습니다.

(가)	(나)	(다)	(라)	(마)
-----	-----	-----	-----	-----

미·일 제네바 통킹만 사건 닉슨 독트린 파리 평화 미·중
안보 조약 회담 개최 발발 발표 협정 체결 국교 수립
체결

- ① (가) ② (나) ③ (다) ④ (라) ⑤ (마)

19. 밑줄 친 '이 회의'에 대한 설명으로 옳은 것은? [3점]

자료로 보는 동아시아사

열강으로부터 외면받은 한국의 독립

위 자료는 미국 상원 의원인 스펜서가 제작하여 미국 의회에 배포한 것으로, 한국의 독립이 이 회의에서 논의되어야 한다는 대한민국 임시 정부 한국 대표단의 주장이 담겨 있다. 그러나 스펜서의 도움과 한국 대표단의 노력에도 불구하고 제1차 세계 대전의 주요 승전국들은 이 회의에서 해군 군비 축소와 영·일 동맹의 폐기 등을 결정하였을 뿐, 한국의 독립 문제는 논의조차 하지 않았다.

- ① 카이로 선언의 이행을 확인하였다.
- ② 애치슨 라인의 발표에 영향을 주었다.
- ③ 5·4 운동이 일어나는 원인이 되었다.
- ④ 산둥반도의 이권이 중국에 반환되는 결과를 낳았다.
- ⑤ 일본이 북위 50도 이남의 사할린을 차지하는 계기가 되었다.

20. (가), (나) 시기 사이에 있었던 사실로 옳은 것만을 <보기>에서 고른 것은? [3점]

(가) 중국 공산당은 철강 증산을 위해 재래식 용광로를 보급하고, 인민공사를 조직하여 농업을 집단화하는 등 근대적 공산주의 국가 건설을 위해 대약진 운동을 시작하였다.

(나) 제6차 베트남 공산당 전당 대회에서는 국가 관리 하에 시장 경제 체제로 경제 운영 방식을 변화시키기 위해 개혁·개방을 표방하는 도이머이 정책이 채택되었다.

<보 기>

ㄱ. 문화 대혁명이 일어났다.
 ㄴ. 일본의 주권이 회복되었다.
 ㄷ. 제1차 석유 파동이 발생하였다.
 ㄹ. 타이완의 계엄령이 해제되었다.

- ① ㄱ, ㄴ ② ㄱ, ㄷ ③ ㄴ, ㄷ ④ ㄴ, ㄹ ⑤ ㄷ, ㄹ

* 확인 사항

- 답안지의 해당란에 필요한 내용을 정확히 기입(표기)했는지 확인하십시오.