

제 4 교시

사회탐구 영역(정치와 법)

성명	수험 번호	2	제 [] 선택
----	-------	---	----------

1. 정치를 바라보는 갑, 을의 관점에 대한 설명으로 옳은 것은?

교사: 정치의 의미에 대해 이야기해 보세요.

갑: 정치권력의 획득, 유지, 행사와 관련된 활동만이 정치입니다.

을: 사회 구성원 간 대립과 갈등을 조정하고 해결하는 과정이 정치입니다.

- ① 갑의 관점은 국가 형성 이전의 정치 현상을 설명하기 어렵다.
- ② 을의 관점은 정치 주체를 소수의 통치 엘리트로 한정한다.
- ③ 을의 관점은 정치를 국가 및 통치 기구에서만 나타나는 활동으로 본다.
- ④ 갑의 관점은 을의 관점에 비해 다원화된 현대 사회의 정치 현상을 설명하는 데 적합하다.
- ⑤ 갑, 을의 관점 모두 시민 단체 회원들이 총회에서 대표를 선출하는 것을 정치라고 본다.

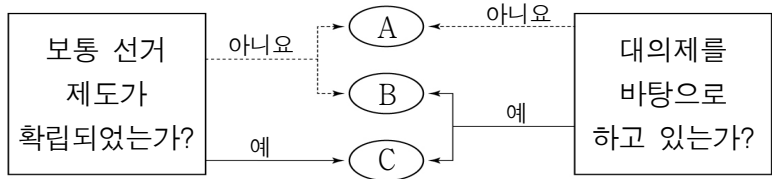
2. 법의 이념 A에 대한 옳은 설명만을 <보기>에서 고른 것은?

「의사상자 등 예우 및 지원에 관한 법률」은 직무 외의 행위로 위해(危害)에 처한 다른 사람의 생명·신체 또는 재산을 구하다가 사망하거나 부상을 입은 사람과 그 유족 또는 가족에 대하여 그 희생과 피해의 정도에 합당한 예우와 지원을 함으로써 의사상자의 숭고한 뜻을 기리는 것을 목적으로 한다. 이처럼 한 사람의 희생에 대해 합당한 보상을 해주는 것은 법이 추구하는 궁극적 이념인 A에 부합한다.

- <보기>
- ㄱ. A의 본질적 내용은 평등이다.
 - ㄴ. 법의 목적이 아닌 법의 형식만을 중시하는 것이다.
 - ㄷ. 같은 것은 같게, 다른 것은 다르게 대우하는 것이다.
 - ㄹ. 정의롭지 못한 법도 무질서보다는 낫다고 보는 것이다.

- ① ㄱ, ㄴ ② ㄱ, ㄷ ③ ㄴ, ㄷ ④ ㄴ, ㄹ ⑤ ㄷ, ㄹ

3. A~C에 대한 옳은 설명만을 <보기>에서 고른 것은? (단, A~C는 각각 고대 아테네 민주 정치, 근대 민주 정치, 현대 민주 정치 중 하나이다.) [3점]



- <보기>
- ㄱ. A에서는 모든 성인에게 참정권을 부여하였다.
 - ㄴ. B에서는 입헌주의 원리를 통해 민주주의를 추구하였다.
 - ㄷ. B에서는 C와 달리 여성의 참정권이 제한되었다.
 - ㄹ. A~C 모두 천부 인권 사상의 영향을 받아 발전하였다.

- ① ㄱ, ㄴ ② ㄱ, ㄷ ③ ㄴ, ㄷ ④ ㄴ, ㄹ ⑤ ㄷ, ㄹ

4. 다음은 우리나라 헌법 개정 절차에 관한 헌법 조항의 일부이다.

㉠~㉣에 들어갈 옳은 내용만을 <보기>에서 고른 것은? [3점]

제128조 ① 헌법 개정은 ㉠의 발의로 제안된다.
 제129조 제안된 헌법 개정안은 ㉡이 20일 이상의 기간 이를 공고하여야 한다.
 제130조 ① 국회는 헌법 개정안이 공고된 날로부터 60일 이내에 의결하여야 하며, 국회의 의결은 ㉢의 찬성을 얻어야 한다.
 ② 헌법 개정안은 국회가 의결한 후 30일 이내에 국민 투표에 붙여 ㉣의 찬성을 얻어야 한다.
 ③ 헌법 개정안이 제2항의 찬성을 얻은 때에는 헌법 개정은 확정되며, ㉤은 즉시 이를 공포하여야 한다.

- <보기>
- ㄱ. ㉠은 '국회 재적 의원 10인 이상 또는 대통령'이다.
 - ㄴ. ㉡, ㉣은 모두 '대통령'이다.
 - ㄷ. ㉢은 '재적 의원 과반수'이다.
 - ㄹ. ㉣은 '국회 의원 선거권자 과반수의 투표와 투표자 과반수'이다.

- ① ㄱ, ㄴ ② ㄱ, ㄷ ③ ㄴ, ㄷ ④ ㄴ, ㄹ ⑤ ㄷ, ㄹ

5. 우리나라 헌법의 기본 원리 A, B에 대한 설명으로 가장 적절한 것은?

- A는 국민의 안전, 자유와 권리, 행복이 전쟁으로 위협당하는 것을 막고, 세계 평화와 인류 공영을 추구해야 한다는 원리이다.
- B는 모든 국민의 실질적 자유와 평등, 그리고 인간다운 생활을 할 권리를 보장하기 위하여 국가가 적극적으로 나서야 한다는 원리이다.

- ① A는 복지 국가의 원리이다.
- ② A를 실현하기 위해 근로자에 대한 최저 임금제를 실시한다.
- ③ B를 실현하기 위해 상호주의 원칙에 따라 외국인의 지위를 보장한다.
- ④ B는 근대 자유방임적 시장 경제 체제에서 나타난 문제를 극복하는 과정에서 등장하였다.
- ⑤ A는 B와 달리 법률을 제정하는 기본 방향이 된다.

정치와 법

6. 법치주의의 유형 A, B에 대한 설명으로 옳은 것은?

□ A 는 법률의 실질적 내용은 묻지 않고, 법률의 형식을 갖춘 규범에 따른 통치라면 법치로 인정된다고 본다. □ B 는 법률의 형식뿐 아니라 법률의 내용도 고려하여, 어떤 법률이 인간의 존엄성, 국민의 자유와 권리를 침해하는 부당한 것이라면 그에 따른 통치는 법적 정당성을 상실한다고 본다.

- ① A는 통치의 형식적 합법성뿐 아니라 정당성도 중시한다.
- ② B는 주로 독재자의 통치권을 강화하는 수단으로 이용된다.
- ③ A는 B와 달리 국가 기관의 권력 남용을 통제하는 제도를 강조한다.
- ④ B는 A와 달리 통치자를 제외한 모든 사람이 법에 구속되어야 한다고 본다.
- ⑤ A, B는 모두 국민의 자유와 권리를 제한할 때 법적 근거가 있어야 한다고 본다.

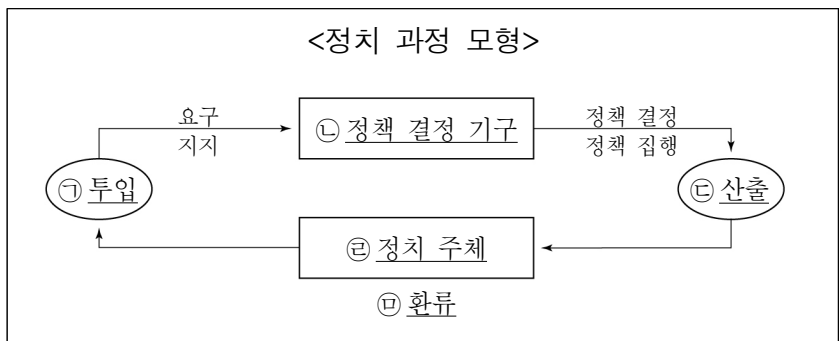
7. 표는 불법 행위 성립 요건에 관한 질문을 통해 사례 A~D를 구분한 것이다. 이에 대한 설명으로 옳은 것은? [3점]

(○: 예, ×: 아니요)

질문	사례	A	B	C	D
가해 행위로 인하여 손해가 발생하였는가?		○	○	○	○
가해 행위에 고의 또는 과실이 있는가?		○	×	○	○
가해 행위에 위법성이 있는가?		×	○	○	○
가해자의 책임 능력이 인정되는가?		○	○	×	○

- ① A에는 '전방 주시 의무를 게을리하며 운전을 하던 중 사고를 내 앞차의 운전자를 다치게 한 갑(39세)의 경우'가 해당할 수 있다.
- ② B에는 '전동 키포드를 타던 중 조작 실수로 행인을 치어서 다치게 한 을(27세)의 경우'가 해당할 수 있다.
- ③ C에는 '놀이터에서 공놀이를 하다가 실수로 공을 놓쳐 이웃에게 찰과상을 입힌 병(5세)의 경우'가 해당할 수 있다.
- ④ D에는 '자신을 향해 달려오는 야생 멧돼지를 피하기 위해 어쩔 수 없이 이웃집 현관문을 훼손한 정(43세)의 경우'가 해당할 수 있다.
- ⑤ A, B, C는 D와 달리 일반 불법 행위가 성립한다.

8. 밑줄 친 ㉠~㉣에 대한 옳은 설명만을 <보기>에서 고른 것은?



<보 기>

㉠. 정당은 ㉣에 해당한다.
 ㉡. 시민의 입법 청원은 ㉢의 사례에 해당한다.
 ㉢. 시민 단체, 이익 집단 모두 ㉢에 해당한다.
 ㉣. 선거에 참여하는 것은 ㉠, ㉡의 사례에 해당한다.

- ① ㉠, ㉡ ② ㉠, ㉢ ③ ㉡, ㉢ ④ ㉡, ㉣ ⑤ ㉢, ㉣

9. 우리나라 헌법 기관 A~E에 대한 설명으로 옳은 것은? [3점]

□□통상조약 A 비준 동의 완료
 A는 본회의를 열어 정부가 제출한 □□통상조약에 대한 비준 동의안을 의결했다.

B, 신임 C에 ○○○ 임명
 B는 지난 달 30일, 신임 C에 ○○○을 임명하였다. C는 B의 명을 받아 행정 각 부를 통할한다.

정부, C 주재 D 개최
 정부는 D의 부의장인 C 주재로 진행된 제△△회 D에서 내년도 국정 운영 계획 등 정부 중요 정책을 심의하였다.

E, 국가결산보고서 제출
 E는 지난해 정부의 세입·세출 결산 등을 검사한 보고서를 A에 제출하였다.

- ① A는 B에 대한 탄핵 소추권을 가진다.
- ② A는 D의 구성원을 해임할 수 있다.
- ③ B는 국정 감사 및 조사권을 통해 A를 견제한다.
- ④ C는 우리나라 정부 형태의 전형적인 대통령제 요소이다.
- ⑤ E의 장(長)은 C의 동의를 얻어 B가 임명한다.

10. 다음 자료에 대한 옳은 분석 및 추론만을 <보기>에서 고른 것은? [3점]

갑국은 전형적인 의원 내각제 정부 형태를 채택하고 있다. 갑국의 의회 의석수는 100석이며, t대와 t+1대의 선거 결과는 표와 같다.

정당	t대		t+1대	
	의석수(석)	득표율(%)	의석수(석)	득표율(%)
A당	51	40	31	32
B당	40	45	35	37
C당	5	9	27	25
D당	4	6	7	6
합계	100	100	100	100

* 갑국 의회 의원은 지역구 의원으로만 구성됨.
 ** t대의 선거구 수는 100개, t+1대의 선거구 수는 50개임.

<보 기>

㉠. t대에는 동일 선거구 내에서 당선자 간 표의 등가성 문제가 발생할 수 있다.
 ㉡. t대에 A당은 B당과 달리 과대 대표되었다.
 ㉢. t대에서는 t+1대와 달리 연립 내각이 구성되었을 것이다.
 ㉣. t대는 소선거구제, t+1대는 중·대선거구제를 채택하였다.

- ① ㉠, ㉡ ② ㉠, ㉢ ③ ㉡, ㉢ ④ ㉡, ㉣ ⑤ ㉢, ㉣

11. 밑줄 친 ㉠, ㉡에 대한 설명으로 옳은 것은?

갑은 자동차 운전 중 휴대전화를 사용하여 범칙금 통고서를 받았으나 이에 불복하여 정식 재판을 청구하였다. 재판 중 갑은 재판의 전제가 된 법률 조항에 대하여 ㉠ 위헌 법률 심판 제청 신청을 하였으나 기각되었고, 이에 해당 법률 조항의 위헌 여부에 대한 ㉡ 헌법 소원 심판을 청구하였다.

- ① ㉠은 갑의 신청 없이 법원이 직권으로 할 수 없다.
- ② ㉡은 위헌 심사형 헌법 소원 심판이다.
- ③ ㉡의 결과에 불복할 경우 갑은 대법원에 상고할 수 있다.
- ④ ㉡을 담당하는 기관은 명령·규칙의 위헌·위법 여부에 대한 최종 심사권을 가진다.
- ⑤ ㉠의 신청은 헌법 재판소에, ㉡의 청구는 법원에 해야 한다.

12. 다음 자료에 대한 옳은 설명만을 <보기>에서 고른 것은? (단, A~C는 각각 정당, 시민 단체, 이익 집단 중 하나이다.) [3점]

- A는 B와 달리 ㉠ (한)다.
- A와 C는 모두 ㉡ (한)다.

<보 기>

ㄱ. ㉠이 '특수 이익을 추구'면, A는 시민 단체이다.
 ㄴ. ㉡이 '정치적 책임을 지지 않는'이면, B는 정당이다.
 ㄷ. A가 정당이면, ㉠에 '공직 선거에 후보자를 공천'이 들어갈 수 있다.
 ㄹ. A가 시민 단체이고 C가 이익 집단이면, ㉡에 '정부 활동을 감시'가 들어갈 수 없다.

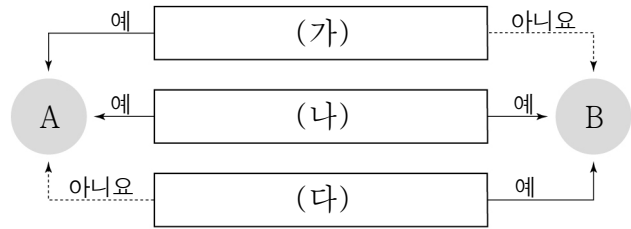
- ① ㄱ, ㄴ ② ㄱ, ㄷ ③ ㄴ, ㄷ ④ ㄴ, ㄹ ⑤ ㄷ, ㄹ

13. 다음 답변의 근거가 된 민법의 기본 원리에 대한 설명으로 옳은 것은?

질문	몇 년 전 저는 개발 제한 구역 안에 있는 제 소유 토지에 별장을 지었습니다. 이후 관할 구청으로부터 허가를 받지 않은 건축물이라는 이유로 철거 통지를 받았습니다. 이러한 통지가 적법한 것인가요?
답변	헌법 제23조에 따르면 모든 국민의 재산권은 보장된다고 하면서도 그 행사에 있어서는 법률에 따라 일정한 제약을 받을 수 있다고 밝히고 있습니다. 따라서 개발 제한 구역 내 토지에 대한 사유 재산권의 행사가 행정 처분으로 인해 제한된다고 하더라도 이를 위법한 것이라고 볼 수는 없습니다.

- ① 개인의 소유권은 공공복리를 위하여 제한될 수 있다.
- ② 개인은 자신에게 고의나 과실이 있는 경우에만 책임을 진다.
- ③ 개인은 국가의 간섭 없이 자기의 의사에 따라 법률관계를 형성할 수 있다.
- ④ 계약의 내용이 사회 질서에 반하거나 공정하지 못한 경우에는 법적 효력이 발생하지 않는다.
- ⑤ 과실이 없는 경우에도 일정한 요건이 충족되면 그 행위로 발생한 손해에 대해 배상 책임을 질 수 있다.

14. 그림은 (가)~(다) 질문에 따라 전형적인 정부 형태 A, B를 구분한 것이다. 이에 대한 설명으로 옳은 것은? [3점]



* 단, A에서는 B와 달리 행정부 수반이 법률안 거부권을 가진다.

- ① A에서 행정부 수반은 의회에 대해 정치적 책임을 진다.
- ② B에서 행정부 수반은 국가 원수의 지위를 동시에 가진다.
- ③ (가)에는 '행정부가 법률안 제출권을 가지는가?'가 들어갈 수 있다.
- ④ (나)에는 '국민의 선거에 의해 의회가 구성되는가?'가 들어갈 수 있다.
- ⑤ (다)에는 '사법권의 독립이 보장되는가?'가 들어갈 수 있다.

15. 밑줄 친 ㉠, ㉡이 추구하는 민주 선거의 원칙만을 옳게 짝지은 것은?

거소 투표는 유권자가 일정한 사유로 사전 투표일이나 선거일에 투표소를 방문할 수 없을 때 자신이 머무르는 장소에서 선거관리 위원회가 보내준 투표용지에 기표한 후 이를 우편으로 보내는 제도이다. 이는 ㉠ 유권자가 제한 없이 투표에 참여할 수 있도록 함으로써 실질적 선거권을 보장하려는 것이다. 하지만 투표 과정에서 ㉡ 투표자의 기표 내용이 공개될 수 있어 이를 예방하기 위한 방안 마련이 필요하다.

- | | |
|---------|-------|
| ㉠ | ㉡ |
| ① 보통 선거 | 평등 선거 |
| ② 보통 선거 | 비밀 선거 |
| ③ 평등 선거 | 보통 선거 |
| ④ 평등 선거 | 직접 선거 |
| ⑤ 평등 선거 | 비밀 선거 |

16. 다음 사례에 대한 법적 판단으로 옳은 것은? [3점]

고등학생 갑(17세)은 을(30세)이 운영하는 신발 가게에서 고가의 한정판 운동화를 구매하였다. 갑은 이 운동화의 가격이 자신의 용돈 범위를 크게 벗어나 구매를 망설였지만, 한정판 운동화를 되팔면 이익을 얻을 수 있다고 판단하였다. 다음날 갑의 법정 대리인 병은 갑이 자신의 동의 없이 고가의 운동화를 구매한 사실을 알게 되었다.

- ① 갑은 단독으로 유효한 법률 행위를 하였으므로 매매 계약을 취소할 수 없다.
- ② 갑이 을과의 매매 계약을 취소하기 위해서는 병의 동의를 얻어야만 한다.
- ③ 갑이 매매 계약 체결시 병의 동의를 받은 것처럼 속임수를 썼을 경우, 갑과 병 모두 매매 계약을 취소할 수 없다.
- ④ 병의 동의가 없었으므로 갑의 매매 계약은 무효이다.
- ⑤ 병은 을에게 일정 기간을 정하여 매매 계약을 유효로 할지 여부에 대한 확답을 촉구할 수 있다.

17. 기본권의 유형 A, B에 대한 설명으로 옳은 것은? (단, A, B는 각각 자유권, 사회권 중 하나이다.)

질문	기본권	A	B
역사적으로 가장 오래된 기본권인가?		예	아니요
다른 기본권 보장을 위한 수단적 성격의 권리인가?		아니요	㉠
(가)		아니요	예

- ① A는 국가 권력으로부터 간섭받지 않을 권리이다.
- ② B는 국가의 정치 과정에 참여할 수 있는 권리이다.
- ③ A는 B와 달리 적극적 성격의 권리이다.
- ④ ㉠은 '예'이다.
- ⑤ (가)에는 '다른 기본권 보장의 전제 조건이 되는 권리인가?'가 들어갈 수 있다.

18. 밑줄 친 ㉠ ~ ㉥에 대한 설명으로 옳지 않은 것은?

교사: 우리나라에서 주민들이 지방 자치에 참여할 수 있는 방법에는 어떤 것들이 있는지 발표해 볼까요?
 갑: 자신이 속한 ㉠ 지방 자치 단체의 선거에 참여할 수 있습니다.
 을: 일정한 요건을 갖춘 주민들이 ㉡ 지방 의회에 ㉢ 조례의 개정 또는 폐지를 청구할 수 있습니다.
 병: ㉣ 규칙의 제정, 개정 또는 폐지와 관련된 의견을 ㉤ 지방 자치 단체의 장에게 제출할 수 있습니다.
 정: ㉥ 주민 소환 제도를 통해 임기 중에 있는 선출직 지방 공직자를 공직에서 물러나게 할 수 있습니다.
 교사: 네, 모두 옳게 발표하였습니다.

- ① ㉠은 광역 자치 단체와 기초 자치 단체로 구분된다.
- ② ㉡은 지방 자치 단체의 의결 기관에 해당한다.
- ③ ㉢ 의원은 지역구 의원과 비례 대표 의원으로 구성된다.
- ④ ㉤은 법령 또는 ㉢의 범위 내에서 ㉤을 제정할 수 있다.
- ⑤ ㉥은 ㉤의 대상에 해당하지 않는다.

19. 다음 사례에 대한 법적 판단으로 옳은 것은? [3점]

○ 갑(51세)이 운영하는 커피 전문점 직원 을(17세)은 음료를 전달하던 중, 실수로 뜨거운 음료를 쏟아 병의 손에 화상을 입혔다.
 ○ A(7세)는 하교 후 자신의 집에서 친구 B와 놀던 중, 부모(법정 대리인)의 돌봄이 소홀한 틈을 타 심한 장난을 치다가 실수로 B의 다리에 골절상을 입게 하였다.

- ① 갑의 사용자 배상 책임이 인정되면 병은 을에게 손해 배상을 청구할 수 없다.
- ② 을에게 고의가 없으면 불법 행위가 성립하지 않는다.
- ③ A의 법정 대리인은 책임 무능력자의 감독자 책임을 진다.
- ④ A와 A의 법정 대리인은 공동 불법 행위 책임을 진다.
- ⑤ B는 병과 달리 정신적 손해에 대해서는 배상을 청구할 수 없다.

20. 다음 자료에 대한 분석 및 추론으로 옳은 것은? [3점]

갑국의 의회는 세 개의 선거구에서 선출된 세 명의 지역구 의원으로만 구성된다. 현행 갑국 의회 의원 선거에서 유권자는 각 선거구에 출마한 모든 후보자에 대해 선호 순위를 표시하는 방식으로 한 번만 투표한다. 그러나 복잡한 당선자 결정 방식 때문에 갑국 의회는 단순 다수 대표제를 도입하는 선거 제도 개편안을 논의하고 있다. (단, 개편안에서 유권자의 구성은 최근 선거와 동일하며, 유권자는 최근 선거 결과의 1순위 지지 후보자에게 1표를 행사한다고 가정한다.)

<현행 당선자 결정 방식>

- 투·개표가 끝나면 당선자 결정 라운드를 실시함.
- 1라운드: 선거구별 후보자의 1순위 득표수를 기준으로 과반수 득표자가 있으면 그 후보자를 당선자로 결정함. 과반수 득표자가 없는 경우 1+n 라운드를 진행함.
- 1+n라운드: 직전 라운드 최하위 득표자는 탈락함. 탈락 후보를 1순위로 지지한 유권자의 표는 2순위 지지 후보자에게 넘겨짐. 합산 결과 과반수 득표자를 당선자로 결정함. (최하위 득표자가 2인 이상이면 모두 탈락시킴.)
- n은 숫자 1부터 오름차순으로 진행하며, 당선자가 나올 때까지 1+n 라운드를 반복함.

<갑국 의회 의원 최근 선거 결과>

제 1 선거구					제 2 선거구					제 3 선거구				
후보자 유권자	A당 후보	B당 후보	C당 후보	D당 후보	후보자 유권자	A당 후보	B당 후보	C당 후보	D당 후보	후보자 유권자	A당 후보	B당 후보	C당 후보	D당 후보
㉠	1	2	3	4	㉡	3	1	2	4	㉢	3	2	1	4
㉣	3	1	2	4	㉤	3	1	4	2	㉥	3	4	1	2
㉦	2	1	4	3	㉧	4	1	2	3	㉨	2	3	4	1
㉩	2	3	4	1	㉪	1	2	3	4	㉫	3	2	1	4
㉬	1	2	4	3	㉭	2	4	3	1	㉮	1	3	4	2
㉯	3	1	2	4	㉰	1	2	3	4	㉱	4	2	1	3
㉲	2	3	1	4	㉳	2	3	1	4	㉴	2	1	3	4

* 투표율은 100%, 무효표는 없음.
 ** 선호도가 가장 높은 후보자가 1순위, 선호도가 가장 낮은 후보자가 4순위임.

- ① 현행 선거 제도에서 A당의 의석수는 1석이다.
- ② 현행 선거 제도에서 제2 선거구 유권자 ㉭, ㉰의 표는 최종 당선자 표에 합산된다.
- ③ 현행 선거 제도의 제3 선거구는 2라운드에서 당선자가 결정된다.
- ④ 개편안으로의 선거 제도 변경에 대해 B당은 반대할 것이다.
- ⑤ 개편안을 적용하면 당선자가 바뀌는 선거구는 1개이다.

* 확인 사항

- 답안지의 해당란에 필요한 내용을 정확히 기입(표기)했는지 확인 하시오.