
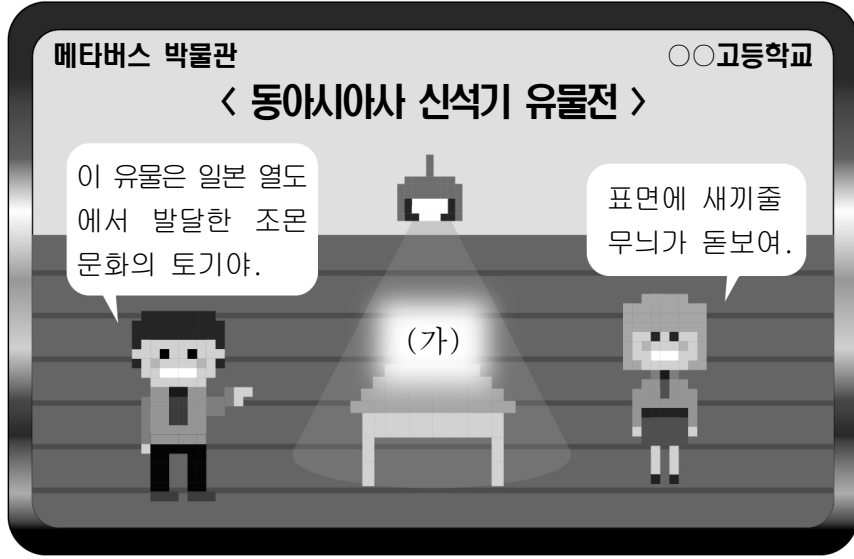


제 4 교시

사회탐구영역(동아시아사)

성명	수험 번호	2	제 [ ] 선택
----	-------	---	----------

1. (가)에 들어갈 유물로 적절한 것은?



2. 밑줄 친 '황제'에 대한 설명으로 옳은 것은? [3점]

동아시아사 답사 보고서

### 비단길을 개척한 장건의 발자취

일시: 2022.00.00. ~ 00.00. / 장소: 중국 간쑤성 둔황 일대

**1일차: 막고굴 탐방**

대월지로 떠나는 장건을 묘사한 벽화를 봄. 장건은 황제의 명을 받아 대월지로 가서 동맹을 체결하려 하였으나 목적 달성에는 실패함.

**2일차: 양관 박물관 견학**

비단길의 관문에 위치한 양관 박물관에서 장건의 동상을 봄. 장건은 황제의 명을 받고 오손과 동맹을 맺기 위해 재차 서역에 파견되었으며 비단길 개척에 기여함.

- 남비엣을 정복하였다.
- 분서갱유를 일으켰다.
- 다이카 개신을 단행하였다.
- 베이징에 자금성을 건설하였다.
- 히미코에게 친위왜왕의 칭호를 내렸다.

3. (가) 국가에 대한 설명으로 옳은 것은? [3점]

한 고조가 평성의 백등산으로 나아가자 (가)의 목특 선우가 정예병을 이끌고 황제를 포위하였다. 한 고조는 진평의 계책에 따라 사람을 시켜 연지\*에게 후한 선물을 주었다. 이에 연지가 목특 선우에게 한나라 땅을 얻는 것이 도움이 되지 않는다고 하였다. 선우는 연지의 말을 받아들여 한쪽 포위망을 풀어 주었다.

\* 연지: 선우의 부인을 일컫는 말

- 왕망이 건국하였다.
- 고조선을 멸망시켰다.
- 팔기제를 시행하였다.
- 8조의 법을 실시하였다.
- 좌현왕과 우현왕을 두었다.

4. (가) 황제에 대한 설명으로 옳은 것은?

유네스코와 유산

### 중국 최초의 황제 여산에 묻히다!

세계유산 0000

- 세계유산 소개 -

- 명칭: 0000
- 위치: 중국 산시성
- 등재년도: 1987년

법가 사상을 바탕으로 부국 강병에 성공하여 전국 시대를 통일한 (가)의 무덤이다. 능의 사방으로 내성과 외성 두 겹의 성벽을 쌓는 등 당시 수도 셴양의 도시 계획을 반영하여 무덤을 조성한 것이 특징이다.

- 만리장성을 축조하였다.
- 삼번의 난을 진압하였다.
- 준왕을 몰아내고 집권하였다.
- 항우와의 전쟁에서 승리하였다.
- 왜의 노국왕에게 금인을 하사하였다.

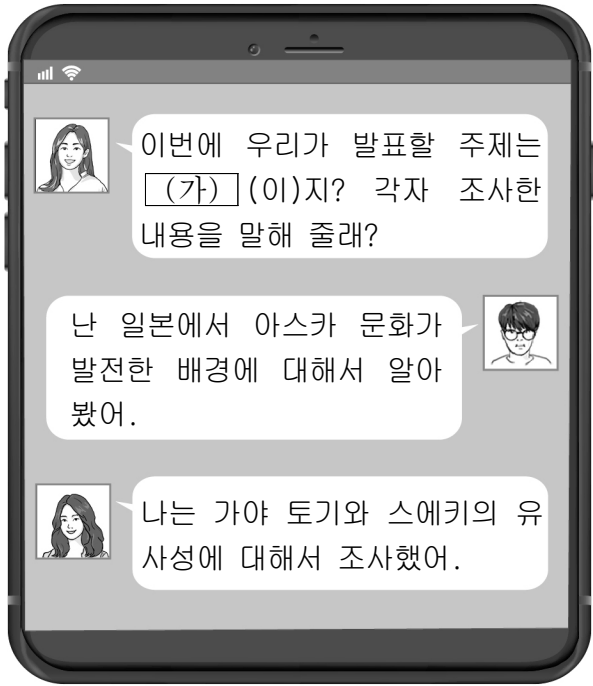
5. (가) 국가에 대한 설명으로 옳은 것은?

야율아보기가 건국한 (가)은/는 10세기 중엽 석경당을 지원한 대가로 연운 16주 지역을 할양받았다. 이후 중원에서 건국된 송은 전략적 요충지인 연운 16주 지역을 지속적으로 공격하였다. 하지만 (가)은/는 후방에 위치하고 있는 고려로 인해 송과의 전쟁에 전력을 다할 수 없었고, 이에 고려를 침공하였다.

- 슈인장을 발급하였다.
- 헤이안쿄를 건설하였다.
- 일조편법을 시행하였다.
- 남면관제와 북면관제를 실시하였다.
- 베트남 북부에 안남 도호부를 설치하였다.

동아시아사

6. (가)에 들어갈 내용으로 가장 적절한 것은? [3점]



- ① 도왜인이 끼친 영향
- ② 율령의 전파와 수용
- ③ 제자백가의 등장 배경
- ④ 임진왜란이 가져온 변화
- ⑤ 농경민과 유목민의 교류

7. (가) 왕조의 대외 관계에 대한 설명으로 옳은 것은?

동아시아사 신문

### 문성 공주, 토번으로 시집가다

(가)의 황제는 토번의 군주 송첸캉포의 지속적인 혼인 요청으로 문성 공주를 토번에 시집보냈다. 송첸캉포는 돌궐과 토욕혼이 모두 (가)의 공주와 혼인을 맺은 사실을 알게 된 후 혼인을 요청하였다. 하지만 요청이 거절당하자 그는 군대를 동원해 송주를 공격하였고, 이후에도 수차례 혼인을 요청한 끝에 이번 혼인이 성사되었다.

- ① 남송으로부터 매년 세폐를 받았다.
- ② 신라와 연합하여 백제를 멸망시켰다.
- ③ 거란(요)과 전연의 맹약을 체결하였다.
- ④ 전흉다오의 활약으로 몽골군을 물리쳤다.
- ⑤ 신패를 발급하여 대외 무역을 통제하였다.

8. 다음 율령을 실시한 국가의 통치 체제에 대한 설명으로 옳은 것은?

무릇 국(國)에 큰일이 생겨 치역\*을 통해 사신을 여러 곳에 보낸 경우 담당 관리가 사신의 직위, 이름과 출발 날짜, 지급한 말의 수, 이용 목적 등을 적어서 매년 태정관에 보낸다. 태정관에서는 이를 자세히 조사하여 치역을 부당하게 이용한 경우가 있으면, 심문하여 죄의 유무를 판결한다.

\* 치역(馳驛): 말을 갈아타던 곳

- ① 정책을 심의하는 문하성을 두었다.
- ② 제사를 담당하는 신기관을 설치하였다.
- ③ 중앙 교육 기관으로 주자감을 설립하였다.
- ④ 관리 선발을 위해 독서삼품과를 실시하였다.
- ⑤ 군사 행정 조직으로 맹안·모극제를 운영하였다.

9. (가) 인물에 대한 설명으로 옳은 것은? [3점]

일본국 승려 (가) 와/과 일행이 견당선을 타고 당 나라에 온 목적은 불법을 구하고 성지를 순례하기 위한 것입니다. 아직 목적을 이루지 못했는데 견당사 일행이 일찍 귀국해 함께 돌아갈 수 없게 되어 적산 법화원에 머무르게 되었습니다. 곧 불법을 구하기 위해 오대산을 순례하려고 합니다. 귀 관청의 조사와 심문을 받고 위 사유를 갖추어 적었습니다.

개성 4년 7월 20일

- ① 왕오천축국전을 집필하였다.
- ② 쇼토쿠 태자의 스승이 되었다.
- ③ 불교 공인을 위해 순교하였다.
- ④ 입당구법순례행기를 저술하였다.
- ⑤ 원강 석굴의 대불을 조성하였다.

10. 밑줄 친 '이 황제'에 대한 설명으로 옳은 것은? [3점]

이 황제는 수도를 평성에서 뤼양으로 옮기고, 호복 착용을 금지시켰어.

맞아. 그는 조정에서 선비어 사용을 금지하는 조치를 취하였어.

- ① 적극적인 한화 정책을 추진하였다.
- ② 중국의 남북조 시대를 통일하였다.
- ③ 왜구의 근거지인 쓰시마를 토벌하였다.
- ④ 호라즘을 정벌하고 비단길을 장악하였다.
- ⑤ 동중서의 건의를 수용하여 태학을 설립하였다.

11. (가) 막부 시기 동아시아에서 있었던 사실로 옳은 것은?

이곳은 (가) 을/를 세운 미나모토노 요리토모의 무덤입니다. 거대한 무사단을 거느렸던 그는 12세기 말 무가 정권을 수립하였고, 천황으로부터 쇼군의 칭호를 받았습니다.



- ① 오닌의 난이 발생하였다.
- ② 다이호 율령이 반포되었다.
- ③ 광저우에 공행이 설치되었다.
- ④ 이여송이 벽제관 전투에서 패배하였다.
- ⑤ 몽골과 고려 연합군이 일본을 공격하였다.

12. 다음 요구가 제기된 시기를 연표에서 옳게 고른 것은? [3점]

혼례와 조선 분할, 두 가지 조건 중 하나는 응해야 할 것이다. 그렇지 않으면 다시 조선을 공격하라는 명령을 내릴 것이다. 명 황제에게 전달해 달라. 회답을 기다리겠다. 4도와 수도는 명에 속하고, 나머지 4도는 나 히데요시에게 속한다. 이것이 화평의 우선 조건이다. 그리고 지금 내가 갖고 있는 4도를 명의 보호령으로 하고 싶다면, 명은 혼례에 응해야 할 것이다.

	(가)	(나)	(다)	(라)	(마)
센고쿠 시대 통일	에도 막부 수립	후금 건국	인조 반정	정묘 호란	이자성의 베이징 점령

- ① (가)    ② (나)    ③ (다)    ④ (라)    ⑤ (마)

13. (가)에 들어갈 내용으로 가장 적절한 것은?

**제스스회 동아시아사 퀴즈 대회**

마지막 힌트입니다.      문제 이 인물은 누구일까요?

1단계 — 칭기즈 칸의 손자입니다.

2단계 — 남송을 멸망시켰습니다.

3단계 — 원으로 국호를 정하였습니다.

4단계 — (가)

- ① 낙랑군을 축출하였습니다.
- ② 대도로 수도를 옮겼습니다.
- ③ 정화의 함대를 파견하였습니다.
- ④ 나가시노 전투에서 승리하였습니다.
- ⑤ 5대 10국 시대의 혼란을 수습하였습니다.

14. (가) 인물에 대한 설명으로 옳은 것은? [3점]


동아시아의 성리학자

(가)      안향      후지와라 세이카

성리학을 집대성한 남송의 (가) 은/는 인간의 본성은 순수하지만 욕망과 기(氣)에 의해 혼탁해진다고 보았다. 이에 인간 본성을 회복하기 위한 실천적 수양 방법으로 거경공리와 격물치지를 강조하였다.

- ① 국자감을 설립하였다.
- ② 백운동 서원을 세웠다.
- ③ 사서집주를 편찬하였다.
- ④ 조선의 강항과 교류하였다.
- ⑤ 에도 막부의 의례를 정비하였다.

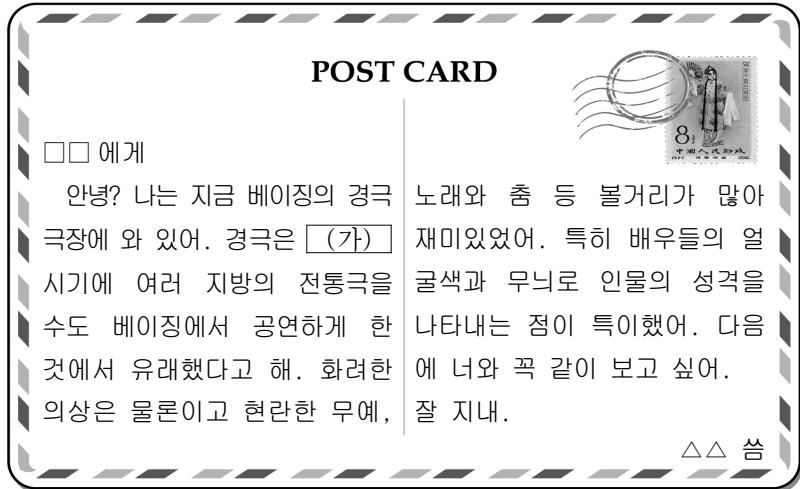
15. 밑줄 친 '이 막부' 시기 동아시아의 경제 상황으로 옳은 것은?



그림은 니혼바시 일대 어시장의 풍경을 표현한 우키요에이다. 도쿠가와 이에야스가 수립한 이 막부는 도시 정비 계획에 따라 니혼바시라는 다리를 건설하였다. 이후 니혼바시 일대는 중앙과 지방을 연결하는 교통과 상업의 중심지로 발전하였다. 또한 이 지역의 변화한 모습은 당시 유행하던 우키요에의 단골 소재로 활용되었다.

- ① 한국 - 3포에 왜관이 설치되었다.
- ② 한국 - 청해진이 해상 무역의 거점이 되었다.
- ③ 중국 - 산시 상인이 전국 각지에서 활약하였다.
- ④ 중국 - 교초가 발행되어 전국적으로 유통되었다.
- ⑤ 일본 - 중국과의 감함 무역이 실시되었다.

16. (가) 왕조 시기에 동아시아에서 볼 수 있는 모습으로 적절하지 않은 것은? [3점]



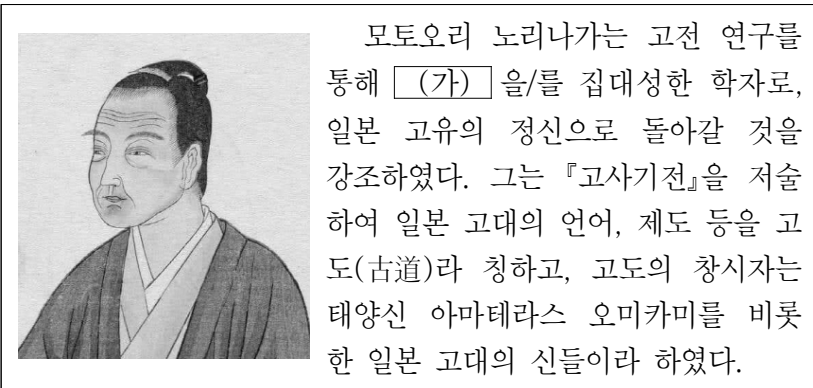
- ① 한국 - 민화를 판매하는 상인
- ② 한국 - 판소리 공연을 관람하는 농민
- ③ 중국 - 홍루몽을 읽고 있는 신사
- ④ 일본 - 가부키를 공연하는 배우
- ⑤ 일본 - 헤이조쿄 건설에 동원된 장인

17. 밑줄 친 '명령'이 내려진 배경으로 옳은 것은? [3점]

강희제는 즉위 후 연해에 거주하는 백성을 내지로 이주시키고 해금을 엄히 하라는 명령을 내렸다. 이에 산둥에서 광둥에 이르는 연해의 주민들을 내륙으로 이주시켰다. 또한 가옥을 불태워 돌아가지 못하게 하였고, 바다로 나가 무역하는 것을 엄금하였다.

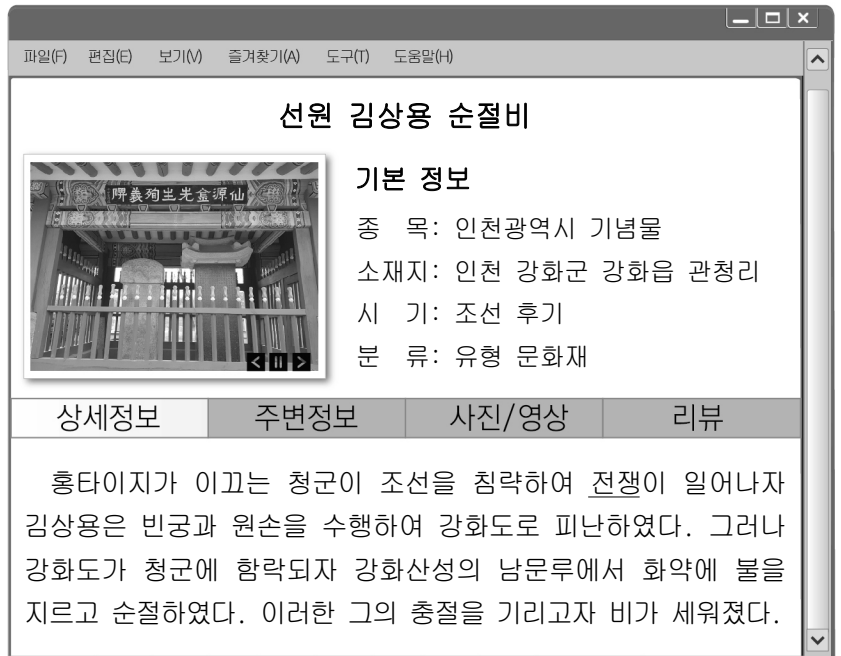
- ① 류큐가 중계 무역으로 발전하였다.
- ② 조선이 일본과 국교를 재개하였다.
- ③ 고다이코 천황이 요시노로 피신하였다.
- ④ 일본에서 크리스티교 금지령이 내려졌다.
- ⑤ 정씨 세력 등이 반청 운동을 전개하였다.

18. (가) 학문에 대한 설명으로 옳은 것은?



- ① 개인의 해탈을 중시하였다.
- ② 존왕 운동에 영향을 주었다.
- ③ 심즉리와 지행합일을 강조하였다.
- ④ 고대 유학으로의 복귀를 주장하였다.
- ⑤ 청에서 대규모 편찬 사업으로 발전하였다.

19. 밑줄 친 '전쟁'이 끼친 영향으로 옳은 것은? [3점]



- ① 기유약조가 체결되었다.
- ② 산킨코타이 제도가 시행되었다.
- ③ 조선에서 북벌 운동이 추진되었다.
- ④ 명 황제가 토목보에서 포로로 잡혔다.
- ⑤ 윤관에 의해 동북 지역에 9성이 축조되었다.

20. (가) 국가에 대한 설명으로 옳은 것은?



이 그림은 쇼군에게 선물을 전달하고, 외국의 소식을 알려주기 위해 (가) 의 상관장이 에도로 가는 행렬을 그린 것이다. (가) 은/는 막부의 쇄국 정책 속에서도 서양 국가 중 유일하게 나가사키의 데지마에서 제한된 무역을 허락받았다.

- ① 갈레온 무역을 주도하였다.
- ② 난학의 발달에 영향을 주었다.
- ③ 마카오를 교역의 거점으로 삼았다.
- ④ 초량 왜관을 통해 인삼을 수출하였다.
- ⑤ 중국에 매카트니 사절단을 파견하였다.

\* 확인 사항

○ 답안지의 해당란에 필요한 내용을 정확히 기입(표기)했는지 확인하십시오.