

제 4 교시

사회탐구 영역(정치와 법)

| | | | | | | | | | | |
|----|--|------|--|--|--|---|--|--|--|----------|
| 성명 | | 수험번호 | | | | 2 | | | | 제 () 선택 |
|----|--|------|--|--|--|---|--|--|--|----------|

1. 정치를 바라보는 갑, 을의 관점에 대한 설명으로 옳은 것은?



- ① 갑의 관점은 의회의 법률 제정 과정을 정치로 보지 않는다.
- ② 을의 관점은 국가 형성 이전의 정치 현상을 설명하는 데 적합하다.
- ③ 을의 관점은 다원화된 현대 사회의 정치 현상을 설명하기에 적합하다.
- ④ 갑의 관점과 달리 을의 관점은 노사 간의 임금 협상을 정치로 본다.
- ⑤ 을의 관점에 비해 갑의 관점은 정치 과정에 참여하는 주체가 다양하다고 본다.

2. 빈칸 (가)에 들어갈 적절한 내용만을 <보기>에서 고른 것은? (단, A, B는 각각 직접 민주제, 간접 민주제 중 하나이다.)

[3점]

민주 정치의 형태에는 A와 B가 있다. A를 지지하는 측에서는 “공동체의 모든 구성원이 모여 주요 정책을 결정하는 B가 시간과 비용 측면에서 비효율적이므로, 다수의 국민이 투표로 대표자를 선출하고 선출된 대표자로 하여금 정부를 구성하여 통치하게 해야 한다.”라고 주장한다. 하지만 B를 지지하는 측에서는 “A가 B에 비해 (가)”라고 비판한다.

- < 보 기 > —
- ㄱ. 중우 정치의 가능성이 높다.
 - ㄴ. 대표자가 민의를 왜곡할 가능성이 높다.
 - ㄷ. 국민의 정치적 무관심이 나타날 가능성이 높다.
 - ㄹ. 영토가 넓고 인구가 많은 국가에서는 적합하지 않다.

- ① ㄱ, ㄴ ② ㄱ, ㄷ ③ ㄴ, ㄷ ④ ㄴ, ㄹ ⑤ ㄷ, ㄹ

3. 밑줄 친 ‘이것’에 해당하는 내용으로 옳은 것은?

이것은 국가 의사를 결정하는 최고 권력이 국민에게 있음을 의미하는데, 우리 헌법 조항 ‘... 모든 권력은 국민으로부터 나온다.’를 통해 확인할 수 있다. 또한 헌법에 명시된 언론·출판·집회·결사의 자유 보장, 국민의 참정권 보장 등을 통해서도 확인할 수 있다.

- ① 법치주의 ② 입헌주의
- ③ 국민 주권주의 ④ 대의제의 원리
- ⑤ 권력 분립의 원리

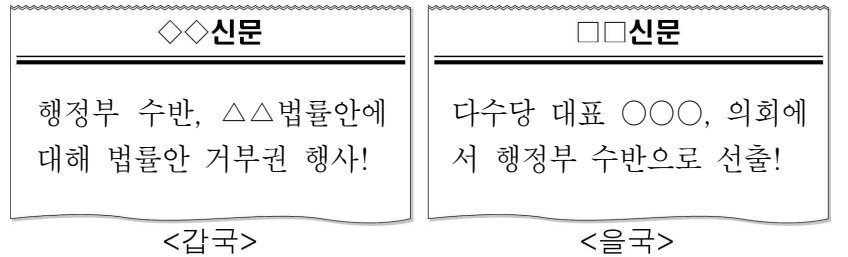
4. 다음 헌법 조항에 대한 옳은 설명만을 <보기>에서 고른 것은?

제10조 모든 국민은 인간으로서의 존엄과 가치를 가지며, 행복을 추구할 권리를 가진다. 국가는 개인이 가지는 불가침의 기본적 인권을 확인하고 이를 보장할 의무를 진다.

- < 보 기 > —
- ㄱ. 기본권 보장의 궁극적인 목적을 밝히고 있다.
 - ㄴ. 헌법이 지향하는 최고의 가치를 규정하고 있다.
 - ㄷ. 헌법에 열거된 기본권만 보장됨을 명시하고 있다.
 - ㄹ. 기본권은 천부적 권리가 아니라 실정법상 권리임을 보여주고 있다.

- ① ㄱ, ㄴ ② ㄱ, ㄷ ③ ㄴ, ㄷ ④ ㄴ, ㄹ ⑤ ㄷ, ㄹ

5. 그림은 갑국과 을국에서 발간된 신문 기사의 일부이다. 두 나라의 정부 형태에 대한 설명으로 옳은 것은? (단, 갑국과 을국의 정부 형태는 각각 전형적인 대통령제와 의원 내각제 중 하나이다.) [3점]



- ① 갑국의 의회는 내각 불신임권을 가진다.
- ② 갑국의 국가 원수와 행정부 수반은 동일인이다.
- ③ 을국의 의회 의원은 각료를 겸직할 수 없다.
- ④ 을국의 행정부 수반은 임기가 엄격하게 보장된다.
- ⑤ 갑국과 달리 을국은 사법부의 독립이 보장된다.

6. 다음 사례에서 갑과 을이 공통적으로 침해받았다고 주장하는 기본권의 유형에 대한 설명으로 옳은 것은? [3점]

○ 갑은 자신의 문신 시술소에서 유명 연예인에게 문신 시술을 했다가 '무면허 의료 행위'를 이유로 기소되었다. 이에 갑은 비의료인에게 문신 시술을 할 수 없도록 한 현행법이 자신의 기본권을 침해한다며 반발하고 있다.

○ 교도소에 수감 중인 을은 교도소장이 시행령에 근거하여 자신과 변호사 간의 편지를 먼저 개봉하고 내용을 확인한 것을 알게 되었다. 이에 을은 해당 법령이 자신의 기본권을 침해하였다고 주장한다.

- ① 가장 최근에 등장한 현대적 권리이다.
- ② 국민이 정치에 참여할 수 있는 권리이다.
- ③ 국가에 특정 행위를 요구할 수 있는 권리이다.
- ④ 다른 기본권을 보장하기 위한 수단적 권리이다.
- ⑤ 국가의 간섭을 받지 않을 소극적·방어적 권리이다.

7. 다음 자료의 우리나라 국가 기관 A~C에 대한 설명으로 옳은 것은? (단, A~C는 각각 국회, 대통령, 헌법 재판소 중 하나이다.) [3점]

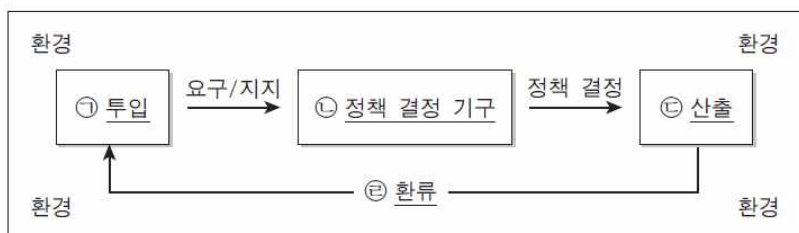
○○신문 ○○○○년 △△월 □□일

[오늘의 이슈]
반려동물의 법적 지위를 물건이 아닌 동물로 규정한 민법 개정안, A에 제출돼

- 동물권 보호에 대한 여론을 고려할 때 A를 무난히 통과할 것으로 예상되며 B 역시 법률안 거부권을 행사하지 않을 것으로 보여 ...
- 기존 민법 조항이 위헌이라며 C에 헌법 소원 심판을 청구했던 ○○ 시민 연대는 환영의 뜻을 밝혀 ...

- ① A는 법을 집행하는 기관이다.
- ② B는 외국에 대하여 국가를 대표한다.
- ③ C는 행정부 최고의 심의 기관이다.
- ④ A의 장(長)은 B가 임명한다.
- ⑤ A, C 모두 국민의 직접 선거에 의해 구성된다.

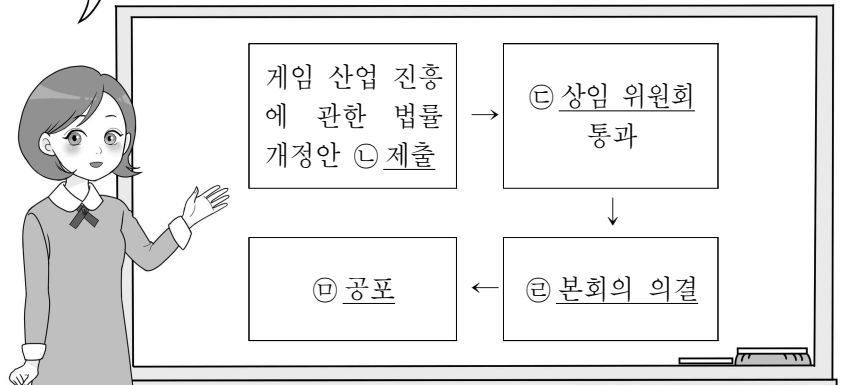
8. 그림은 정치 과정을 나타낸 것이다. 밑줄 친 ㉠~㉢에 대한 설명으로 옳지 않은 것은?



- ① 사회가 다원화될수록 ㉠이 활발해진다.
- ② 언론의 자유를 보장하는 것은 ㉠의 활성화에 기여한다.
- ③ 행정부와 국회는 ㉢에 해당한다.
- ④ 시민 단체의 입법 청원은 ㉢에 해당한다.
- ⑤ 선거를 통해 ㉡이 이루어질 수 있다.

9. 밑줄 친 ㉠~㉢에 대한 설명으로 옳은 것은? [3점]

보호자와 자녀가 게임 이용 시간을 자율적으로 조정하는 내용을 담은 ㉠ 게임 산업 진흥에 관한 법률 개정안이 다음과 같은 과정을 거쳐 법률로 확정되었어요.



- ① ㉠은 헌법보다 상위법이다.
- ② ㉡은 행정부를 통해서만 가능하다.
- ③ ㉢은 법률안을 전문적으로 심사하는 역할을 담당한다.
- ④ ㉢은 국회 재적 의원 3분의 2 이상의 찬성을 요구한다.
- ⑤ ㉣은 국회 의장만이 할 수 있다.

10. 그림의 (가)에 들어갈 옳은 답변만을 <보기>에서 고른 것은? [3점]

법률 상담 묻고 답하기

Q: 저는 올해 16세인 고등학생입니다. 방학을 맞이하여 커피 전문점에서 아르바이트를 하려고 합니다. 제가 근로 계약을 체결할 때 알아야 할 법적 지식에는 무엇이 있을까요?

A: _____ (가)

- < 보 기 >
- ㄱ. 독자적으로 임금을 청구할 수 없습니다.
 - ㄴ. 성인과 동일하게 최저 임금제의 적용을 받습니다.
 - ㄷ. 1일 근로 시간은 최대 5시간을 초과할 수 없습니다.
 - ㄹ. 근로 계약 체결 시 법정 대리인의 동의가 필요합니다.

- ① ㄱ, ㄴ ② ㄱ, ㄷ ③ ㄴ, ㄷ ④ ㄴ, ㄹ ⑤ ㄷ, ㄹ

11. 다음 자료의 관점 A에 대한 설명으로 옳은 것은?

<수행 평가 문제>
국제 관계를 바라보는 관점 A를 반영하여 '정치와 법'으로 4행시를 완성하시오.

<학생 답안 및 교사 평가>

| 학생 답안 | | 교사 평가 |
|----------|-------------------------------------|------------------------------------|
| 정 | 치를 국가 간 관계 측면에서 바라볼 때 국제 사회 역시 | 국제 관계를 바라보는 관점 A를 옳게 표현했네요. |
| 치 | 고받고 싸우는 약육강식의 동물 세계와 다름없네. | |
| 와 | 들와들 떨고 있는 약소국의 모습을 통해 | |
| 법 | 과 이성보다는 힘이 지배하는 국제 사회의 현실을 엿볼 수 있네. | |

- ① 국가를 도덕적·이성적 행위 주체로 본다.
- ② 국제 사회에는 중앙 정부가 존재한다고 본다.
- ③ 자국의 이익보다 국제 사회의 이익을 우선시한다.
- ④ 국가 간 상호 의존적 관계를 경시한다는 비판을 받는다.
- ⑤ 국제법과 국제기구를 통한 국제 문제의 해결을 중시한다.


12. 다음 사례에 대한 옳은 법적 판단만을 <보기>에서 고른 것은? [3점]

아파트에 거주하는 대학생 갑은 코로나 19로 인해 집에서 원격 수업을 듣고 있었다. 그런데 위층에 거주하는 을이 집에서 운동을 하여 원격 수업을 듣기 힘들 정도로 큰 소음이 지속적으로 발생했다. 갑은 을에게 원격 수업 시간만이라도 운동을 자제해 달라고 요청했으나 을은 갑의 요구를 무시하였다. 갑은 소음으로 인한 스트레스가 극심하여 병원 진료를 받았고, 결국 을을 상대로 손해 배상을 청구하는 소송을 제기하여 현재 1심 판결을 기다리고 있다.

- < 보 기 > —
- ㄱ. 갑은 형사 소송을 제기하였다.
 - ㄴ. 소송에서 갑은 원고, 을은 피고이다.
 - ㄷ. 갑이 제기한 소송은 3심제의 적용을 받는다.
 - ㄹ. 을이 재판에서 패소하면 형사 처벌을 받는다.

- ① ㄱ, ㄴ ② ㄱ, ㄷ ③ ㄴ, ㄷ ④ ㄴ, ㄹ ⑤ ㄷ, ㄹ

13. 밑줄 친 ㉠~㉣에 대한 설명으로 옳은 것은?



코로나 19가 확산되면서 몇몇 ㉠ 국가들이 코로나 19 백신 특허를 보유하지 않은 기업도 백신을 생산할 수 있어야 한다고 주장하고 있습니다. 이에 대해 ㉡ 세계 보건 기구(WHO) 사무총장과 ㉢ 국제 연합(UN) 회원국 일부는 긍정적인 반응을 보였으나, 특허권을 보유한 ㉣ 다국적 제약 회사들은 반대하고 있습니다.

- ① ㉠은 국제 사회의 기본적 행위 주체이다.
- ② ㉡은 국제 비정부 기구이다.
- ③ ㉢은 사익보다 공익을 추구하는 행위 주체이다.
- ④ ㉡, ㉢ 모두 개인이 회원으로 가입할 수 있다.
- ⑤ ㉡, ㉢의 영향력은 세계화로 인해 감소하고 있다.

14. 다음은 정치와 법 수업 시간의 한 장면이다. 이에 대한 설명으로 옳은 것은? (단, A~C는 각각 고대 아테네 민주 정치, 근대 민주 정치, 현대 민주 정치 중 하나이다.) [3점]

교사: A, B, C의 특징에 대해 발표해 보세요.
갑: A에서는 모든 시민이 모여 국가의 중요 사안을 직접 결정했어요.
을: B와 달리 C에서는 여성과 노동자의 참정권이 제한되었어요.
병: _____ (가)
교사: 갑, 을, 병 모두 옳게 발표했습니다.

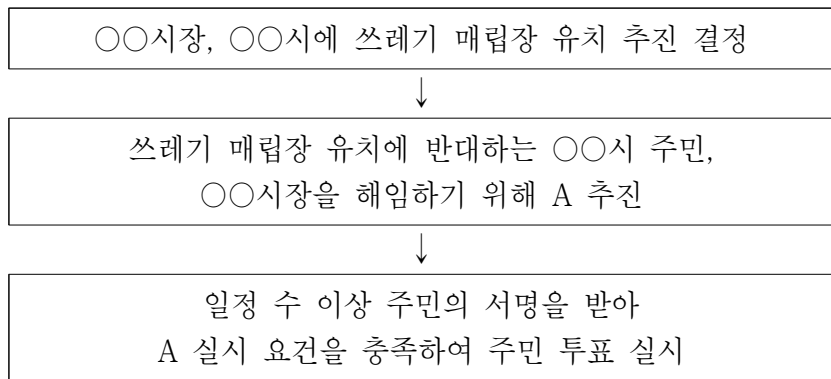
- ① A에서는 보통 선거의 원칙이 확립되었다.
- ② B에서는 추천제와 운번제를 통해 공직자를 충원하였다.
- ③ C는 천부 인권 사상의 영향을 받았다.
- ④ A와 달리 C에서는 신분제를 채택하였다.
- ⑤ (가)에 'A~C 모두 시민 혁명을 통해 형성되었어요.'가 들어갈 수 있다.

15. 다음은 우리나라 헌법 조항이다. 해당 조항이 공통적으로 추구하는 바로 가장 적절한 것은?

- 형사 피고인은 유죄의 판결이 확정될 때까지는 무죄로 추정된다.(제27조 제4항)
- 사법권은 법관으로 구성된 법원에 속한다.(제101조 제1항)
- 법관은 헌법과 법률에 의하여 그 양심에 따라 독립하여 심판한다.(제103조)
- 재판의 심리와 판결은 공개한다.(제109조)

- ① 공정한 재판의 실현 ② 재판의 신속한 진행
- ③ 국민의 알 권리 보장 ④ 국민의 주권 의식 함양
- ⑤ 법관의 정치적 중립 보장

16. 다음 자료에 나타난 A 제도의 의의로 가장 적절한 것은?



- ① 직접 민주제의 한계를 극복할 수 있다.
- ② 지역 주민의 주인 의식을 높일 수 있다.
- ③ 지방 의회 의원의 대표성을 강화할 수 있다.
- ④ 정책 결정 과정에 소요되는 비용을 줄일 수 있다.
- ⑤ 지방 자치 단체장의 소신 있는 정책 수행을 촉진할 수 있다.

17. 다음 자료를 통해 도출할 수 있는 선거의 기능으로 가장 적절한 것은?

최근 실시한 갑국의 총선에서 집권 여당인 A당이 참패하고 B당이 과반수 의석을 차지하였다. 그 원인으로 두 달 전에 갑국에서 발생한 화산 폭발에 대한 정부의 미숙한 대응이 거론되고 있다. 특히 화산 폭발을 충분히 예측할 수 있었음에도 불구하고, 정부와 집권당의 안일한 대처로 인해 피해 규모가 커졌다는 사실을 알게 된 국민들의 분노가 표에 반영된 것으로 알려졌다.

- ① 정치권력을 심판하고 통제한다.
- ② 대의 민주제의 한계를 보완한다.
- ③ 사회를 통합하는 기능을 수행한다.
- ④ 사회 구성원 간의 갈등을 해소한다.
- ⑤ 국민에게 정치 교육의 기회를 제공한다.

18. 표에 대한 설명으로 옳은 것은? (단, A~C는 각각 정당, 이익 집단, 시민 단체 중 하나이다.) [3점]

| 구분 | A | B | C |
|-----------------|-----|---|-----|
| 공익을 추구하는가? | 아니요 | 예 | 예 |
| 선거에 후보자를 공천하는가? | 아니요 | 예 | 아니요 |
| (가) | 예 | 예 | 아니요 |

- ① A는 정권 획득을 목적으로 한다.
- ② B는 의회와 행정부를 매개하는 기능을 한다.
- ③ A는 B와 달리 국민에 대한 정치 사회화 기능을 담당한다.
- ④ C는 A와 달리 정책 결정 과정에 영향력을 행사한다.
- ⑤ (가)에 '자신들의 행위에 대해 정치적 책임을 지는가?'가 들어갈 수 있다.

19. 다음 자료에 대한 옳은 설명만을 <보기>에서 고른 것은? (단, A와 B는 각각 공법과 사법 중 하나이다.)

법은 규율하는 생활 관계에 따라 A, B로 구분할 수 있다. 개인 간의 사적인 관계에는 A가 적용되고, 개인과 국가 또는 국가 기관 상호 간의 관계에는 B가 적용된다. 예를 들어 (가)에는 A가 적용되고, (나)에는 B가 적용된다.

< 보기 >

- ㄱ. A는 공법, B는 사법이다.
- ㄴ. 우리나라의 민법은 A에 해당한다.
- ㄷ. (가)에 '법원에 재판을 청구하는 것'이 들어갈 수 있다.
- ㄹ. (나)에 '신호 위반 차량 운전자에게 경찰관이 범칙금을 부과하는 것'이 들어갈 수 있다.

- ① ㄱ, ㄴ ② ㄱ, ㄷ ③ ㄴ, ㄷ ④ ㄴ, ㄹ ⑤ ㄷ, ㄹ

20. 다음 자료는 정치와 법 수업 시간에 이루어진 방 탈출 게임이다. 이에 대한 설명으로 옳은 것은? [3점]

[규칙] 민주 선거 원칙에 관한 질문 3개에 모두 옳게 응답한 학생만 방에서 탈출할 수 있다.

<질문 1> 일정 연령 이상의 모든 국민에게 선거권을 부여하는 원칙은?

<질문 2> 자유로운 선택을 위해 투표 내용을 타인이 알 수 없게 하는 원칙은?

<질문 3> 모든 유권자에게 동등한 가치를 지닌 1표를 부여하는 원칙은?

[게임에 참여한 학생 갑~병의 응답]

| 구분 | <질문 1> | <질문 2> | <질문 3> |
|----|--------|--------|--------|
| 갑 | 직접 선거 | 비밀 선거 | ㉠ |
| 을 | 보통 선거 | ㉡ | 평등 선거 |
| 병 | ㉢ | 비밀 선거 | 평등 선거 |

- ① 갑은 <질문 1>에 대해 옳게 응답했다.
- ② 을, 병 모두 <질문 3>에 대해 옳지 않게 응답했다.
- ③ ㉠이 '평등 선거'라면 갑은 방을 탈출할 수 있다.
- ④ ㉡이 '직접 선거'라면 을은 방을 탈출할 수 있다.
- ⑤ ㉢이 '보통 선거'라면 병은 방을 탈출할 수 있다.

* 확인 사항

- 답안지의 해당란에 필요한 내용을 정확히 기입(표기)했는지 확인하십시오.