

제 ③ 교시 음악

[1~2] 다음은 「종달새의 하루」의 일부이다. 물음에 답하시오.



1. ①을 바르게 표현한 가락선은?

- ① ② ③ ④

2. ②에 들어갈 쉼표는?

- ① ② ③ ④

3. 길이가 가장 긴 음표는?

- ① ② ③ ④

4. '조금 여리게'를 나타내는 쉼여림 기호는?

- ① *p* ② *mp* ③ *mf* ④ *f*

5. 현악기에 해당하지 않는 것은?

- ① 기타
 ② 하프
 ③ 호른
 ④ 바이올린

[6~7] 다음은 「종소리」의 일부이다. 물음에 답하시오.




6. ①에 사용된 악상 기호는?

- ① 늘임표 ② 도돌이표 ③ 스타카토 ④ 크레센도

7. 위 악곡의 쉼여림으로 알맞은 것은?

- ① ② ③ ④

8. 다음 음을 소프라노 리코더로 소리내는 방법은?

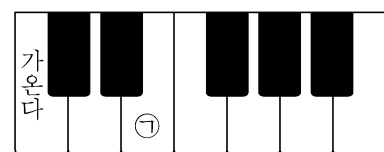


- ① ② ③ ④
 ○ 열기 ● 닫기

9. 2/4 박자의 알맞은 박자 짓기는?





- ① ② ③ ④

10. 다음 ①에 해당하는 음은?



- ① ② ③ ④

11. $\frac{4}{4}$ 박자에 알맞은 리듬꼴은?

- ①  ② 
- ③  ④ 

12. 다음 설명에 해당하는 극음악은?

- 19세기에 영국에서 시작된 현대적이고 대중적인 음악극
- 음악, 연극, 춤 등이 결합되어 표현된 종합 무대 예술
- 대표 작품: 「캣츠」, 「라이언 킹」, 「레 미제라블」 등


- ① 경극 ② 창극 ③ 가부키 ④ 뮤지컬

13. 다음 두 곡의 공통점은?

- 대취타 ○ 라데츠키 행진곡

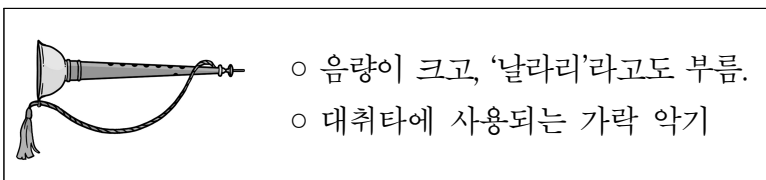
- ① 생일 축하곡
② 3박자의 춤곡
③ 행진할 때 연주하는 곡
④ 제사를 지낼 때 연주하는 곡

14. 풍물놀이에서 사용되는 악기가 아닌 것은?



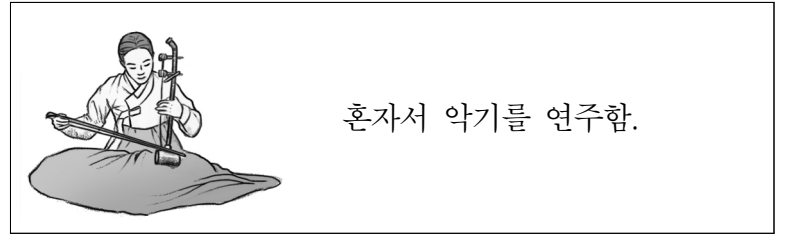
- ① 북 ② 장구 ③ 가야금 ④ 팽파리

15. 다음 설명에 해당하는 국악기는?



- ① 소금 ② 해금 ③ 거문고 ④ 태평소

16. 다음 설명에 해당하는 연주 형태는?

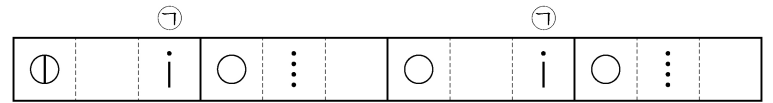


- ① 독주 ② 제창 ③ 합주 ④ 합창

17. 우리나라 민요가 아닌 것은?

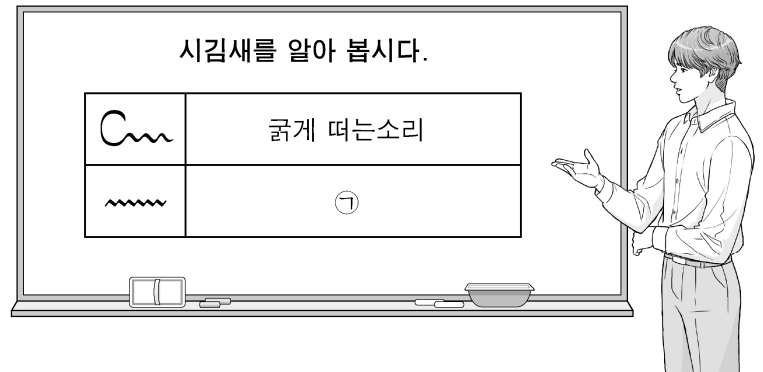
- ① 널리리아 ② 체체쿨레
③ 풍구타령 ④ 진도 아리랑

18. 다음 장구 장단에서 ㉠에 알맞은 구름은?



- ① 덩 ② 쿵 ③ 기덕 ④ 더러러러

19. 다음 ㉠에 해당하는 시김새는?



- ① 꺾는소리 ② 잘게 떠는소리
③ 밀어 올리는 소리 ④ 흘러내리는 소리

20. 다음 두 노래의 공통점으로 옳은 것은?



- ① 대표적인 판소리 작품이다.
② 주로 일을 하면서 불렀던 노래이다.
③ 기악 합주곡으로 만들어진 현대 음악이다.
④ 초장, 중장, 종장의 3장 형식으로 되어 있다.