

제 6 교시

한국사

1. 다음에서 설명하는 유물은?

- 구석기 시대를 대표하는 펜석기임.
- 사냥을 하거나 가죽을 벗기는 용도로 사용함.



2. 다음에서 설명하는 왕은?

- 신라를 도와 왜를 격퇴함.
- '영락'이라는 독자적 연호를 사용함.
- 4세기 말 즉위 후 고구려의 영토를 크게 넓힘.

- ① 세종      ② 고이왕      ③ 공민왕      ④ 광개토 대왕

3. 다음에서 설명하는 기구는?

- 국방에 관계된 일을 회의로 결정함.
- 식목도감과 함께 고려의 독자적인 정치 기구임.
- 원 간섭기에 도평의사사로 명칭과 권한을 변경함.

- ① 집사부      ② 정당성      ③ 도병마사      ④ 군국기무처

4. 다음에서 ㉠에 들어갈 내용으로 옳은 것은?

〈조선 성종의 정책〉

- 경연 활성화
- 홍문관 설치
- ㉠

- ① 경국대전 반포
- ② 기인 제도 실시
- ③ 삼청 교육대 운영
- ④ 전민변정도감 설치

5. 다음에서 설명하는 문화유산은?

문화유산 카드

- 위치: 경상북도 토함산
- 특징: 불국사와 함께 불국토의 이상 세계를 표현한 통일신라 시기의 대표적 건축물

- ① 경복궁      ② 무령왕릉      ③ 수원 화성      ④ 경주 석굴암

6. 다음에서 ㉠에 들어갈 내용으로 옳지 않은 것은?


〈수행평가 계획서〉

주제: 흥선 대원군이 주도한 정책

- 1모둠: 경복궁 중건
- 2모둠: ㉠

- ① 서원 정리                      ② 당백전 발행
- ③ 호포제 시행                    ④ 훈민정음 창제

7. 다음에서 설명하는 화폐는?



조선 후기에 주조된 화폐로 17세기 말 전국적으로 유통되면서 물품 구입이나 세금 납부 수단으로 사용되었다.

- ① 호폐      ② 명도전      ③ 상평통보      ④ 독립 공채

8. 다음에서 ㉠에 해당하는 지역은?

㉠은 군사 전략 요충지로 큰 역할을 해 왔다. 고려 시대에는 몽골의 침입을 피해 이곳으로 수도를 옮긴 적이 있었고, 조선 시대에는 이곳에서 병인양요가 발발하였다.

- ① 강화도      ② 거문도      ③ 울릉도      ④ 제주도

9. 다음에서 설명하는 신문은?

- 한글판과 영문판으로 발행됨.
- 서재필 등이 정부의 지원을 받아 창간함.
- 국민을 계몽하고 국내 사정을 외국인에게도 전달함.

- ① 독립신문      ② 동아일보      ③ 조선일보      ④ 한성순보

10. 다음에서 ㉠에 들어갈 내용으로 옳은 것은?

〈다큐멘터리 기획안〉

- 제목: 녹두장군의 꿈!
- 의도: 동학 농민군 지도자 전봉준의 삶을 조명한다.
- 내용: 1부 고부 농민 봉기를 주도하다.  
2부 ㉠

- ① 거중기를 제작하다.              ② 신민회를 조직하다.
- ③ 천리장성을 축조하다.          ④ 황토현 전투에서 승리하다.

11. 다음 질문에 대한 답으로 옳은 것은?

1907년에 1,300만 원에 달하는 대한 제국의 빚을 갚기 위해 서상돈 등이 대구에서 시작한 국권 회복 운동은 무엇일까요?

- ① 새마을 운동                      ② 위정척사 운동
- ③ 국채 보상 운동                  ④ 서경 천도 운동

12. 다음에서 ㉠ 시기에 들어갈 사건은?

1945. 8. 15. 광복 → ㉠ → 1948. 8. 15. 대한민국 정부 수립

- ① 기묘사화                          ② 5·10 총선거
- ③ 오페르트 도굴 사건          ④ 6·15 남북 공동 선언 발표

13. 다음에서 설명하는 일제 식민 정책은?

1910년대 일제가 시행한 경제 정책으로, 토지 소유권자가 정해진 기간 내에 직접 신고하여 소유지로 인정받는 신고주의 원칙에 따라 진행되었다.

- ① 균역법                              ② 노비안검법
- ③ 토지 조사 사업                  ④ 경부 고속 국도 개통

14. 다음 대화 내용에 해당하는 단체는?

1927년 비타협적 민족주의자들과 사회주의자들이 협력하여 창립한 단체를 알고 있지?

응. 광주 학생 항일 운동이 일어나자 진상 조사단을 파견하였지.



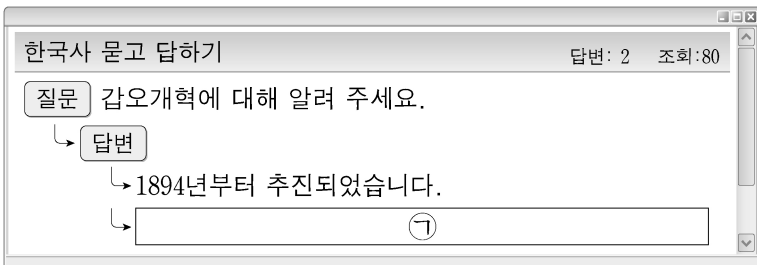
- ① 삼별초      ② 신간회      ③ 통신사      ④ 화랑도

15. 다음에서 설명하는 사건은?

1919년에 일어난 일제 강점기 최대 규모의 민족 운동이다. 일제의 통치 방식이 바뀌는 계기가 되었으며, 대한민국 임시 정부 수립에 영향을 주었다.

- ① 3·1 운동                              ② 제주 4·3 사건
- ③ 임술 농민 봉기                      ④ 12·12 군사 반란

16. 다음에서 ㉠에 들어갈 내용으로 옳은 것은?



- ① 별무반이 창설되었습니다.      ② 신분제가 폐지되었습니다.
- ③ 척화비가 건립되었습니다.      ④ 세도 정치가 시작되었습니다.

17. 다음 밑줄 친 ㉠에 해당하는 것은?

일제는 한국인을 전쟁에 효율적으로 동원하고 일왕에 충성하는 백성으로 만들고자 ㉠ 황국 신민화 정책을 실시하였다.

- ① 골품제 실시                              ② 사사오입 개헌
- ③ 신사 참배 강요                          ④ 사심관 제도 시행

18. 다음 대본에서 ㉠에 들어갈 말로 가장 적절한 것은?

장면 #27 평화 시장에서 시위하는 모습  
 전태일: 우리 노동자들은 열악한 작업 환경에서 장시간 노동으로 고통 받고 있다. 우리는 기계가 아니다!  
 ㉠

- ① 신탁 통치를 반대한다!
- ② 근로 기준법을 준수하라!
- ③ 군사력을 강화하여 청을 정벌하자!
- ④ 교조 최제우의 억울함을 풀어 주시오!

19. 다음에서 설명하는 정부는?

- 금융 실명제를 실시함.
- 지방 자치제를 전면적으로 시행함.
- 국제 통화 기금(IMF)에 구제 금융 지원을 요청함.

- ① 김영삼 정부                              ② 박정희 정부
- ③ 이승만 정부                              ④ 전두환 정부

20. 다음에서 설명하는 것은?

- 국제 사회가 한국의 독립을 처음으로 약속함.
- 1943년 미·영·중 정상들이 모여 전후 처리를 논의함.

- ① 팔관회                                      ② 화백 회의
- ③ 만민 공동회                              ④ 카이로 회담

21. 다음에서 ㉠에 해당하는 사건으로 옳은 것은?



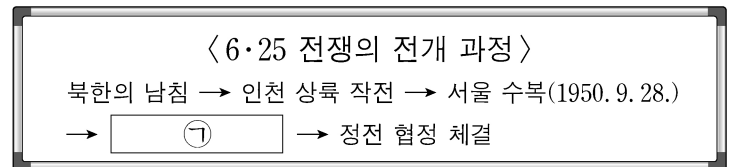
- ① 자유시 참변                              ② 6·10 만세 운동
- ③ 5·18 민주화 운동                      ④ 제너럴 셔먼호 사건

22. 다음에서 설명하는 종교는?

나철 등을 중심으로 단군 신앙을 내세웠으며, 중광단을 조직하여 독립운동을 전개하였다.

- ① 도교      ② 기독교      ③ 대종교      ④ 천주교

23. 다음에서 ㉠에 해당하는 사건은?



- ① 1·4 후퇴      ② 명량 대첩      ③ 무신 정변      ④ 아관 파천

24. 다음에서 설명하는 단체는?

- 1919년 만주에서 김원봉 등이 주도하여 결성함.
- 신채호의 「조선 혁명 선언」을 활동 지침으로 삼음.

- ① 별기군                                      ② 의열단
- ③ 교정도감                                  ④ 조선어 학회

25. 다음에서 ㉠에 해당하는 것은?

1972년, 서울과 평양에서  ㉠ 이/가 동시에 발표되었다. 이는 분단 후 남북한이 통일과 관련하여 최초로 합의한 것이며, 자주·평화·민족 대단결의 통일 원칙을 명시하였다.

- ① 시무 28조                                  ② 전주 화약
- ③ 4·13 호헌 조치                          ④ 7·4 남북 공동 성명