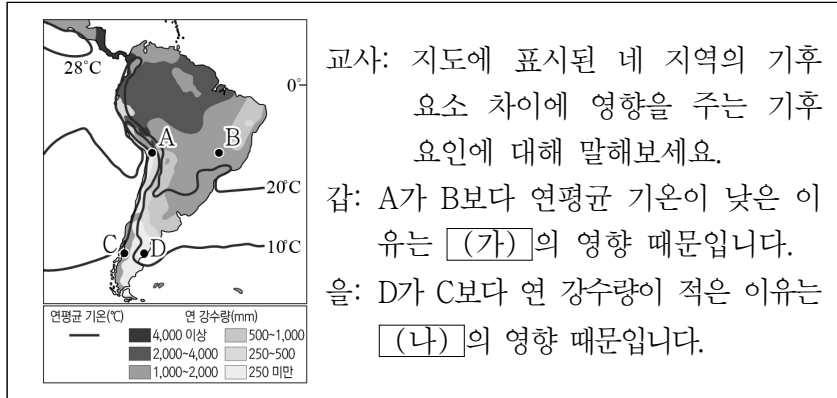
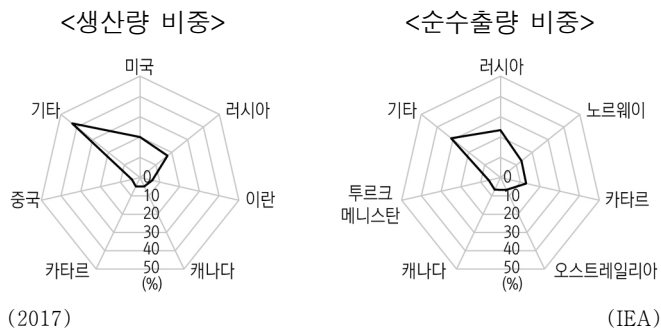


5. (가), (나)에 들어갈 기후 요인으로 가장 적절한 것은?



- | | | | |
|---------|-------|---------|-------|
| (가) | (나) | (가) | (나) |
| ① 위도 | 수륙 분포 | ② 위도 | 해발 고도 |
| ③ 수륙 분포 | 지형 | ④ 해발 고도 | 지형 |
| ⑤ 해발 고도 | 수륙 분포 | | |

6. 그래프는 어느 화석 에너지 자원의 국가별 생산량 및 순수출량 비중을 나타낸 것이다. 이 자원에 대한 설명으로 옳은 것은? [3점]



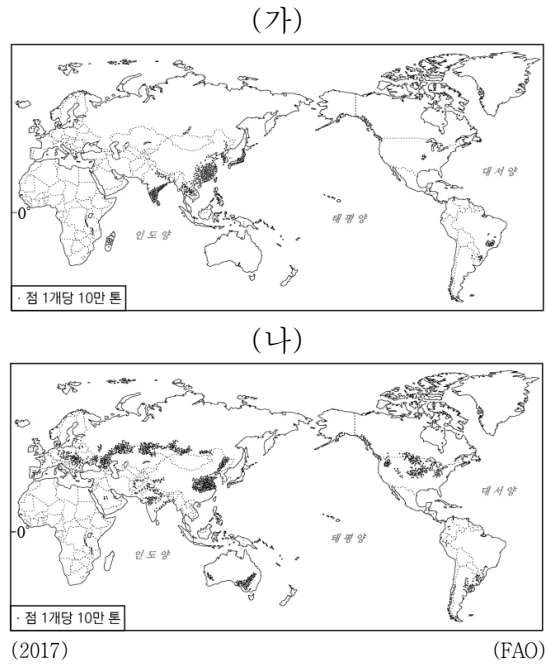
- 제철 공업용으로 이용되는 비중이 높다.
- 주로 고기 조산대 주변에 매장되어 있다.
- 냉동 액화 기술의 발달로 소비량이 급증했다.
- 세계 1차 에너지 소비 구조에서 차지하는 비중이 가장 높다.
- 화석 에너지 자원 중 연소 시 대기 오염 물질 배출량이 가장 많다.

7. 다음은 세계지리 수업 내용을 정리한 노트의 일부이다. ㉠~㉥에 대한 설명으로 옳지 않은 것은?

< ㉠ 건조 기후 지역의 지형 >	
형성 원인	지형
바람	<ul style="list-style-type: none"> 사구: 바람에 날려 온 모래가 쌓여서 이루어진 언덕 ㉠: 바람에 날린 모래의 침식 작용을 받아 여러 개의 평평한 면과 모서리가 생긴 돌
유수 (流水)	<ul style="list-style-type: none"> ㉡ 와디: 비가 내릴 때만 일시적으로 흐르는 하천 ㉢ 선상지: 골짜기 입구에 하천의 운반 물질이 쌓여 형성된 부채꼴 모양의 지형 ㉣ 플라야호: 비가 많이 내렸을 때 건조 분지의 평탄한 저지대에 일시적으로 물이 고여 생긴 호수

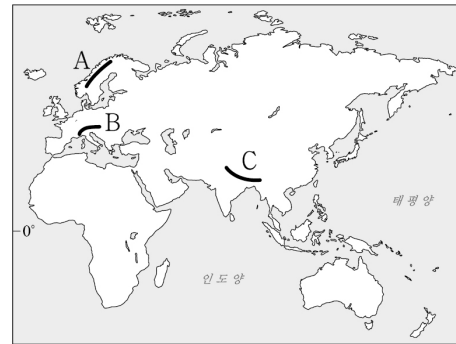
- ㉠은 사막 기후와 스텝 기후로 구분된다.
- ㉡은 삼릉석이다.
- ㉢은 비가 오지 않을 때에는 교통로로 이용되기도 한다.
- ㉣이 연속적으로 이어진 지형을 바다다라고 한다.
- ㉤에 고인 물은 농업 용수나 식수로 활용된다.

8. 지도는 두 식량 작물의 재배지를 나타낸 것이다. (가), (나) 식량 작물에 대한 설명으로 옳은 것은? (단, (가), (나)는 각각 밀, 쌀 중 하나임.)



- (가)의 기원지는 서남아시아이다.
- (나)는 계절풍 기후 지역의 충적 평야에서 주로 재배된다.
- (가)는 (나)보다 단위 면적당 생산량이 많다.
- (가)는 (나)보다 기후 적응력이 커서 재배 범위가 넓다.
- (나)는 (가)보다 국제 이동량이 적다.

9. 지도의 A~C 산맥에 대한 설명으로 옳은 것은? [3점]



- A는 판과 판의 경계에 위치한다.
- C에서는 화산 활동이 빈번하게 일어난다.
- A는 B보다 산지의 연속성이 뚜렷하다.
- C는 A보다 평균 해발 고도가 높다.
- A~C 중 산지 형성 시기가 가장 이른 것은 B이다.

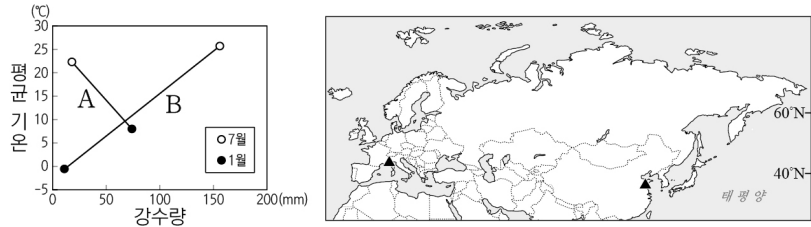
10. 다음은 세계지리 수업의 발표 장면이다. 두 학생이 공통적으로 말하고 있는 분쟁 지역을 지도의 A~E에서 고른 것은?

인도양의 눈물로 알려진 이곳에서는 불교도와 힌두교도 간의 분쟁이 끊임없이 일어나고 있습니다.

영국의 식민지였던 이곳은 독립 후 지금까지 신탈리족과 타밀족 간의 갈등이 이어지고 있습니다.

- A
- B
- C
- D
- E

11. 그래프는 지도에 표시된 두 지역의 기후 특성을 나타낸 것이다. A, B 지역에 대한 설명으로 옳지 않은 것은? [3점]



- ① A에서는 수목 농업이 이루어진다.
- ② B는 7월에 아열대 고압대의 영향으로 건기가 나타난다.
- ③ A는 B보다 겨울철 강수 집중률이 높다.
- ④ B는 A보다 계절풍의 영향을 많이 받는다.
- ⑤ A는 대륙 서안, B는 대륙 동안에 위치해있다.

12. 다음 글의 (가) 도시와 비교한 (나) 도시의 상대적 특징에 대한 설명으로 옳은 것만을 <보기>에서 고른 것은? [3점]

○ (가) 은/는 해협을 사이에 두고 서쪽은 유럽, 동쪽은 아시아에 걸쳐 있는 도시로, 고대로부터 이어져 내려온 다수의 유적들이 분포한다. 이 도시에는 산업화와 더불어 이주민이 폭증하면서 슬럼인 '게제콘두'가 형성되어 있다.

○ (나) 은/는 산업 혁명을 거치면서 중계 무역 기지로서의 국제적 위상이 높아졌다. 오래된 건물과 현대식 건물이 조화를 이룬 '더 시티'는 세계 금융의 중심지이며, 템즈 강변의 '카나리워프'는 새로운 업무 중심지로 성장하고 있다.

<보 기>

ㄱ. 국제 항공 승객의 수가 많다.
 ㄴ. 세계 경제에 미치는 영향력이 작다.
 ㄷ. 도시 기반 시설의 공급 정도가 높다.
 ㄹ. 생산자 서비스업에 종사하는 인구의 비중이 낮다.

- ① ㄱ, ㄴ ② ㄱ, ㄷ ③ ㄴ, ㄷ ④ ㄴ, ㄹ ⑤ ㄷ, ㄹ

13. 다음은 영국의 두 해안을 나타낸 것이다. ㉠~㉣에 대한 설명으로 옳은 것만을 <보기>에서 고른 것은?



코끼리 형상의 ㉠아치형 바위가 있고, 앞에는 작은 섬 같은 ㉡바위 기둥이 보인다.

깎은 듯 높은 ㉢해안 절벽이 뻗어 있고, 인근에는 ㉣모래사장이 넓게 펼쳐져 있다.

<보 기>

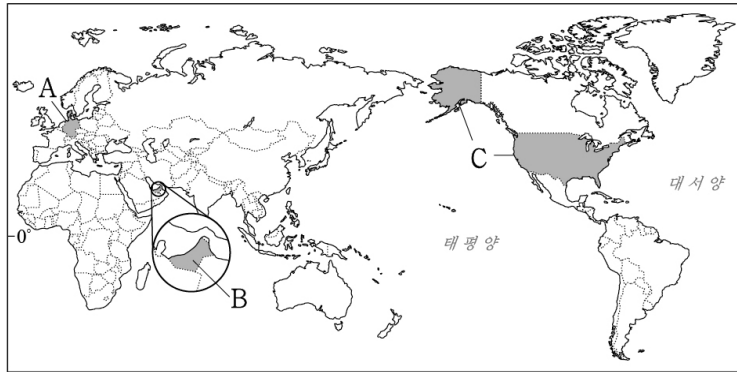
ㄱ. ㉡은 파랑의 차별 침식으로 형성된다.
 ㄴ. ㉢은 시간이 지남에 따라 육지 쪽으로 후퇴한다.
 ㄷ. ㉣은 주로 조류의 퇴적 작용으로 형성된다.
 ㄹ. ㉠은 ㉢보다 파랑 에너지가 분산되는 곳에 주로 형성된다.

- ① ㄱ, ㄴ ② ㄱ, ㄷ ③ ㄴ, ㄷ ④ ㄴ, ㄹ ⑤ ㄷ, ㄹ

14. 표는 지도에 표시된 세 국가로의 인구 유입 상위 5개국을 나타낸 것이다. (가)~(다) 국가를 지도의 A~C에서 고른 것은? [3점]

국가 순위	(가)	(나)	(다)
1위	폴란드	멕시코	인도
2위	터키	중국	방글라데시
3위	러시아	인도	파키스탄
4위	카자흐스탄	필리핀	이집트
5위	사우디아라비아	엘살바도르	필리핀

(2019) (국제 연합)



- | | | | | | | | |
|---|-----|-----|-----|---|-----|-----|-----|
| | (가) | (나) | (다) | | (가) | (나) | (다) |
| ① | A | B | C | ② | A | C | B |
| ③ | B | A | C | ④ | B | C | A |
| ⑤ | C | A | B | | | | |

15. 다음은 세계 유산을 소개하는 글의 일부이다. ㉠~㉣에 대한 설명으로 옳은 것만을 <보기>에서 고른 것은?

할롱 베이

이곳에는 용이 내뿜은 보석이 변해서 ㉠탑 모양의 석회암 봉우리가 되었다는 전설이 있다. 대규모 ㉡석회동굴은 또 다른 주요 관광 자원이다.

파묵칼레

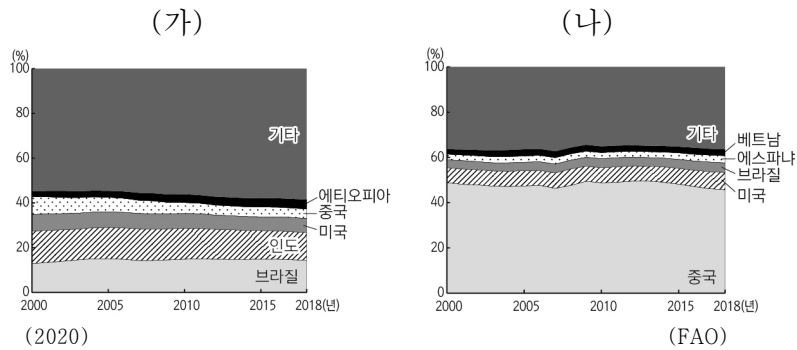
이곳은 온천수가 흘러내리며 형성된 ㉢계단 모양의 석회 지형이다. 이 모습이 하얀 목화 송이를 쌓아둔 것 같아 '목화의 성'이라고 불린다.

<보 기>

ㄱ. ㉠은 차별적인 용식 및 침식 작용에 의해 형성된다.
 ㄴ. ㉡에는 중유석, 석순, 석주 등이 나타난다.
 ㄷ. ㉢은 물리적 풍화 작용에 의해 형성된다.
 ㄹ. ㉠~㉣은 습윤 기후 지역보다 건조 기후 지역이 발달에 유리하다.

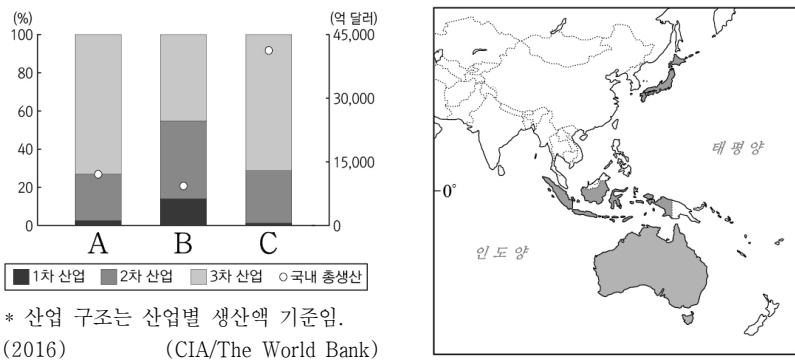
- ① ㄱ, ㄴ ② ㄱ, ㄷ ③ ㄴ, ㄷ ④ ㄴ, ㄹ ⑤ ㄷ, ㄹ

16. 그래프는 두 가축의 국가별 사육 두수 비중의 변화를 나타낸 것이다. (가), (나) 가축에 대한 설명으로 옳은 것은? (단, (가), (나)는 각각 돼지, 소, 양 중 하나임.) [3점]



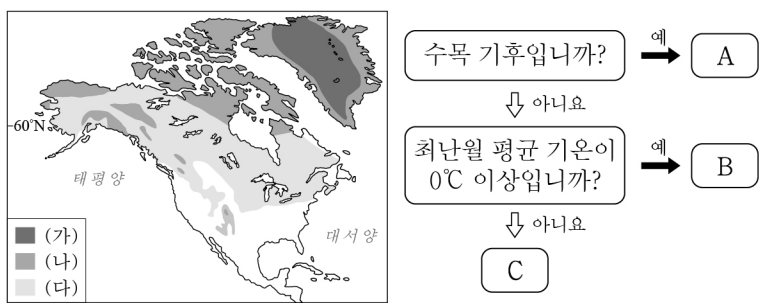
- ① (가)는 치즈, 버터 등과 같은 유제품의 원료를 제공해준다.
- ② (나)는 모직 공업이 발달하면서 기업적 사육이 활발해졌다.
- ③ (가)는 (나)보다 세계 총 사육 두수가 적다.
- ④ (나)는 (가)보다 벼농사 지역에서의 노동력 대체 효과가 크다.
- ⑤ (가)는 돼지, (나)는 소이다.

17. 그래프는 지도에 표시된 세 국가의 산업 구조와 국내 총생산을 나타낸 것이다. A~C 국가에 대한 설명으로 옳은 것은? [3점]



- ① A는 B보다 인구 밀도가 높다.
- ② B는 A보다 1인당 국내 총생산이 많다.
- ③ C는 B보다 기술 집약적 제품의 수출 비중이 높다.
- ④ A~C 중 석탄 생산량이 가장 많은 곳은 C이다.
- ⑤ A는 일본, B는 인도네시아, C는 오스트레일리아이다.

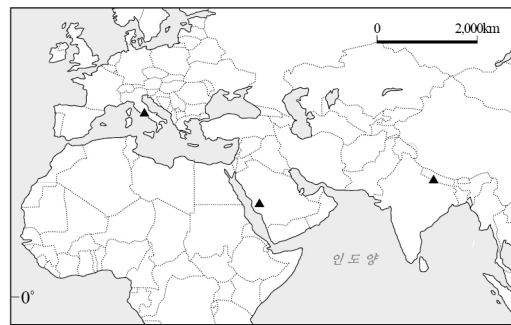
18. 지도에 표시된 (가)~(다) 지역의 기후를 그림의 A~C에서 고른 것은? [3점]



- | | | | | | | | |
|---|-----|-----|-----|---|-----|-----|-----|
| | (가) | (나) | (다) | | (가) | (나) | (다) |
| ① | A | B | C | ② | B | A | C |
| ③ | B | C | A | ④ | C | A | B |
| ⑤ | C | B | A | | | | |

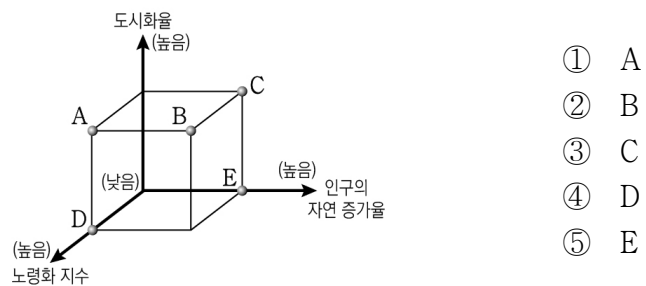
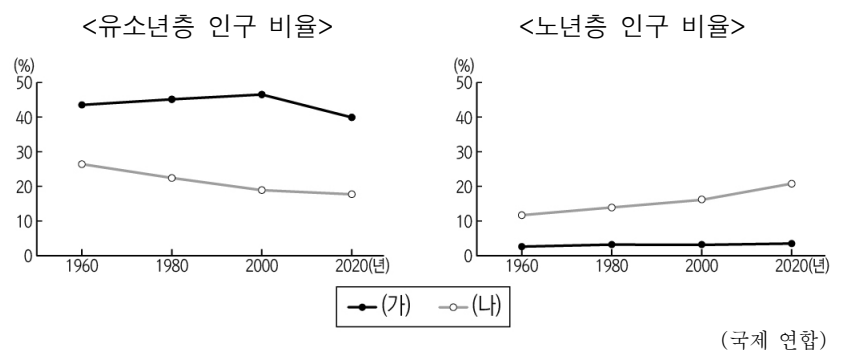
19. 다음은 세 종교의 성지를 촬영하기 위한 장면 설정이다. 이에 대한 설명으로 옳은 것은? (단, 지도에 표시된 세 지점 중 각각 한 지점에서 촬영할 예정이며, 각각 불교, 이슬람교, 그리스도교 중 하나임.)

A 종교	B 종교	C 종교
<ul style="list-style-type: none"> ○ 촬영 지역 : 예언자가 탄생한 곳 ○ 촬영 장면 : 신앙 실천 5대 의무 중 하나인 순례를 위해 카바 신전을 방문하는 신자의 모습 	<ul style="list-style-type: none"> ○ 촬영 지역 : 교황청이 위치한 곳 ○ 촬영 장면 : 성 베드로 대성당에서 미켈란젤로의 작품을 감상하고 있는 신자의 모습 	<ul style="list-style-type: none"> ○ 촬영 지역 : 4대 성지 중 한 곳 ○ 촬영 장면 : 마아테비 사원에서 석가모니가 묘사된 부조를 감상하고 있는 신자의 모습



- ① A의 주요 종교 경관으로는 불상과 사리가 들어간 탑이 있다.
- ② B는 교리에 따라 술과 돼지고기를 금기시한다.
- ③ C는 로마 제국의 국교가 되면서 유럽 전역으로 확대되었다.
- ④ A의 촬영지는 B의 촬영지보다 고위도에 위치한다.
- ⑤ B는 C보다 전 세계 신자 수가 더 많다.

20. 다음 자료는 두 국가의 연령층별 인구 비율 변화를 나타낸 것이다. (가) 국가에 대한 (나) 국가의 상대적 특징을 그림의 A~E에서 고른 것은? (단, (가), (나)는 각각 에티오피아, 프랑스 중 하나임.) [3점]



- ① A
- ② B
- ③ C
- ④ D
- ⑤ E

* 확인 사항

○ 답안지의 해당란에 필요한 내용을 정확히 기입(표기)했는지 확인 하시오.