

제 4 교시

사회탐구 영역 (사회·문화)

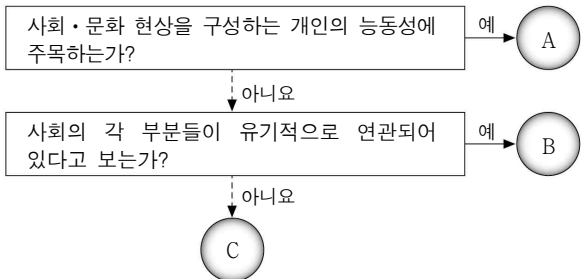
성명 수험 번호 2 제 [] 선택

1. 밑줄 친 ㉠~㉣과 같은 현상의 일반적 특징에 대한 설명으로 옳은 것은? [3점]

한 연구소가 ㉠음료 발효 과정에서 발생하는 이산화 탄소를 대기에 방출하지 않고, 비료를 만드는 데 활용하는 기술을 개발했다. 2022년부터 ㉡작물 재배에 적용할 예정인 이 기술이 상용화되면 ㉢온실가스 감축 목표 달성에 큰 도움이 될 것으로 기대된다.

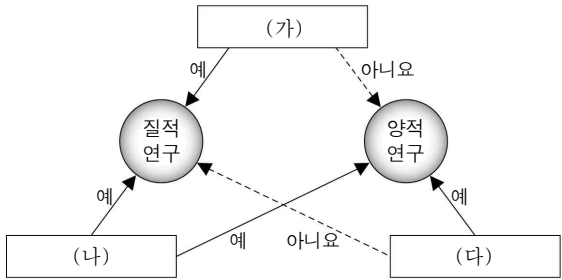
- ① ㉠과 같은 현상은 가치 함축적이다.
- ② ㉡과 같은 현상은 존재 법칙이 적용된다.
- ③ ㉢과 같은 현상은 필연성과 확실성의 원리가 적용된다.
- ④ ㉡, ㉢과 같은 현상은 ㉠과 같은 현상과 달리 개연성의 원리가 적용된다.
- ⑤ ㉠, ㉢과 같은 현상은 ㉡과 같은 현상과 달리 보편성이 강하게 나타난다.

2. 사회·문화 현상을 바라보는 관점 A~C에 대한 설명으로 옳은 것은? (단, A~C는 각각 갈등론, 기능론, 상징적 상호 작용론 중 하나이다.)



- ① A는 사회 집단 간 갈등이 사회 발전의 원동력이라고 본다.
- ② B는 사회가 스스로 균형을 유지하려는 속성을 지닌다고 본다.
- ③ C는 일상생활 속 사회적 상호 작용의 맥락을 중시한다.
- ④ A는 B와 달리 기득권층의 이익을 대변한다는 비판을 받는다.
- ⑤ B는 C와 달리 사회 구조가 개인에게 끼치는 영향력을 경시한다는 비판을 받는다.

3. 그림은 양적 연구와 질적 연구를 구분한 것이다. (가)~(다)에 들어갈 수 있는 질문으로 옳은 것은? [3점]



- ① (가) - 방법론적 일원론을 바탕으로 하는가?
- ② (가) - 일반화 및 법칙 발견을 목적으로 하는가?
- ③ (나) - 경험적 자료를 활용하여 연구하는가?
- ④ (다) - 연구자가 연구 대상으로부터 분리될 수 없다고 보는가?
- ⑤ (다) - 사회·문화 현상의 주관적 의미 해석에 초점을 두는가?

4. 다음 사례를 연구 윤리 측면에서 평가한 진술로 가장 적절한 것은?

연구자 갑은 체육공원이 들어설 부지 선정을 위한 연구를 진행하면서 최종 후보지인 A, B 지역의 주민들에게 연구와 관련된 모든 정보를 제공하고 희망자를 대상으로 설문 조사를 실시하였다. 갑은 수집한 자료 중 자신이 살고 있는 A 지역에 유리한 자료만을 분석하여 근거 자료로 제시하면서, A 지역이 체육공원이 들어설 부지로 적합하다는 결과를 발표하였다.

- ① 조사 대상자에게 연구의 목적을 알리지 않았다.
- ② 조사 대상자의 자발적 참여를 보장하지 않았다.
- ③ 연구 결과를 연구 이외의 목적으로 유출하였다.
- ④ 수집하지 않은 자료를 근거로 결론을 도출하였다.
- ⑤ 연구자의 의도에 부합하는 자료만을 선택하여 분석하였다.

5. 다음 자료에 대한 설명으로 옳은 것은? (단, A~C는 각각 문화 상대주의, 문화 상대주의, 자문화 중심주의 중 하나이다.)

| 질문 | 구분 | A | B | C |
|-------------------|----|-----|-----|-----|
| 문화를 평가의 대상으로 보는가? | | 아니요 | 예 | 예 |
| 타문화를 일방적으로 추종하는가? | | ㉠ | 아니요 | ㉡ |
| (가) | | 예 | 아니요 | 아니요 |

- ① ㉠은 '예', ㉡은 '아니요'이다.
- ② A는 국수주의를 초래할 수 있다.
- ③ B는 집단 구성원의 결속력을 약화시킨다.
- ④ C는 자기 문화를 객관적으로 이해하는 데 유용하다.
- ⑤ (가)에는 '문화를 해당 사회의 맥락에서 파악하는가?'가 들어갈 수 있다.

6. 다음 글에 부각된 사회 구조의 특성에 대한 옳은 설명만을 <보기>에서 고른 것은?

건물의 구조처럼 사회를 구성하고 개인의 사회적 행위를 유형화시키는 정형화된 틀을 사회 구조라고 한다. 사람들의 동선이 건물 구조에 의해 결정되듯이 개인의 사회적 행위는 사회 구조에 강하게 영향을 받는다.

<보 기>

- ㄱ. 구성원들과 무관하게 독립적으로 존재한다.
- ㄴ. 구성원들이 구조화된 행동을 하도록 유도한다.
- ㄷ. 구성원들의 사고 방식과 행동에 강제력을 행사한다.
- ㄹ. 구성원들의 가치관 변화 등으로 인해 변동될 수 있다.

- ① ㄱ, ㄴ ② ㄱ, ㄷ ③ ㄴ, ㄷ ④ ㄴ, ㄹ ⑤ ㄷ, ㄹ

7. 그림은 사회화 기관의 유형 A, B를 구분한 것이다. 이에 대한 옳은 설명만을 <보기>에서 고른 것은?(단, A, B는 각각 2차적 사회화 기관, 비공식적 사회화 기관 중 하나이다.) [3점]



<보 기>

- ㄱ. A는 주로 기초적인 사회화를 담당한다.
- ㄴ. B는 사회화 자체를 목적으로 형성된 사회화 기관이다.
- ㄷ. A, B는 모두 개인의 자아 정체성 형성에 영향을 준다.
- ㄹ. (가)에는 '회사'가 들어갈 수 있다.

- ① ㄱ, ㄴ ② ㄱ, ㄷ ③ ㄴ, ㄷ ④ ㄴ, ㄹ ⑤ ㄷ, ㄹ

8. 밑줄 친 ㉠~㉣에 대한 설명으로 옳지 않은 것은? [3점]

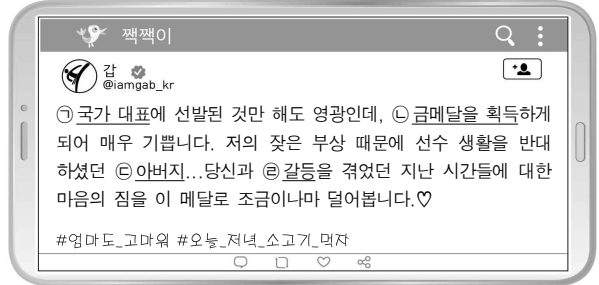
연구자 갑은 ㉠ 아버지의 육아 참여가 ㉡ 자녀의 사회성에 미치는 영향을 주제로 연구를 진행하였다. 갑은 ㉢ '아버지가 육아에 적극적으로 참여할수록 자녀의 사회성이 높을 것이다.' 라는 가설을 설정하고, ㉣ ○○시에 거주하는 아버지와 그 자녀 각각 800명을 대상으로 ㉤ 질문지법을 통해 자료를 수집하였다. ㉥ 자료 분석 결과는 다음과 같고, 통계적으로 유의미하였다.

| 아버지의 1일 평균 육아 참여 시간 | 자녀의 사회성 지수* |
|---------------------|-------------|
| 1시간 미만 | 7.3 |
| 1시간 이상 ~ 3시간 미만 | 8.5 |
| 3시간 이상 | 9.4 |

* 10점 척도이며 숫자가 클수록 그 정도가 높음.

- ① ㉠은 독립 변인, ㉡은 종속 변인이다.
- ② ㉢은 개념의 조작적 정의가 필요하다.
- ③ ㉣은 모집단에 대해 대표성을 가진다.
- ④ ㉤은 통계 처리가 용이한 자료 수집 방법이다.
- ⑤ ㉥을 통해 가설이 수용되었음을 알 수 있다.

9. 다음은 갑의 SNS 게시물 중 일부이다. 밑줄 친 ㉠~㉣에 대한 옳은 설명만을 <보기>에서 고른 것은?



<보 기>

- ㄱ. ㉠은 갑의 준거 집단이다.
- ㄴ. ㉡은 갑의 역할 갈등에 해당한다.
- ㄷ. ㉠, ㉡은 모두 성취 지위이다.
- ㄹ. ㉢은 ㉠으로서 갑의 역할에 대한 보상이다.

- ① ㄱ, ㄴ ② ㄱ, ㄷ ③ ㄴ, ㄷ ④ ㄴ, ㄹ ⑤ ㄷ, ㄹ

10. 다음 자료에 대한 옳은 설명만을 <보기>에서 고른 것은?(단, A~C는 각각 공식 조직, 비공식 조직, 자발적 결사체 중 하나이다.) [3점]

- A는 공통의 관심사나 목표를 가진 사람들이 자발적으로 결성하는 사회 집단이다. B는 C의 구성원들이 조직 내에서 취미나 공통의 관심사를 바탕으로 자발적으로 구성하며, B의 구성원은 모두 C의 구성원이다.
- 갑은 ○○ 회사의 직원으로서 애사심을 갖고 근무 중이다. 그는 요리를 좋아해서 회사 내 요리 동호회에 가입하여 열심히 활동하고 있는데, 최근 □□ 시민 단체가 주최한 온라인 요리 대회에도 참가하였다.

<보 기>

- ㄱ. A는 가입과 탈퇴가 비교적 자유롭다.
- ㄴ. B는 C와 달리 특정한 목표와 과업 달성을 중시한다.
- ㄷ. '□□ 시민 단체'는 A와 C에 모두 해당한다.
- ㄹ. '○○ 회사'는 '회사 내 요리 동호회'와 달리 B에 해당한다.

- ① ㄱ, ㄴ ② ㄱ, ㄷ ③ ㄴ, ㄷ ④ ㄴ, ㄹ ⑤ ㄷ, ㄹ

11. 다음 자료에 대한 설명으로 옳은 것은? [3점]

○○고등학교 사회·문화 1학기 주제 탐구 활동 보고서
모둠명: □□□


| 단계 | 활동 내용 요약 |
|-------|---|
| 주제 선정 | ㉠○○고등학교의 잔반 줄이기 캠페인 실시 여부와 잔반 배출량 간의 상관관계를 연구하기로 함. |
| (가) | '잔반 줄이기 캠페인을 실시하면 잔반 배출량이 줄어든 것이다.'라는 감정적 결론을 진술함. |
| (나) | 캠페인 실시 시기와 잔반 배출량 측정 방법 등을 결정함. |
| (다) | 2개월간 매일 점심 급식 직후 잔반 배출량을 측정함. |
| (라) | 잔반 줄이기 캠페인을 실시한 달이 그렇지 않은 달에 비해 잔반 배출량이 15% 줄어든 것을 확인함. |

- ① ㉠은 질적 연구를 수행하기 적합한 주제이다.
- ② (가)에서는 연구 결과를 토대로 대안을 제시한다.
- ③ (나)에서는 연구에 필요한 세부 계획을 수립한다.
- ④ (다)에서는 연구자의 적극적인 가치 개입이 필요하다.
- ⑤ (라)에서는 연구자의 감정 이입적 이해가 필수적이다.


12. 개인과 사회의 관계를 바라보는 갑, 을의 관점에 대한 설명으로 옳은 것은?

사회 규범은 개인을 초월하여 존재하는 실체로서, 개인에게 일방적인 구속력을 행사하기 때문에 따를 수밖에 없습니다.

사회 규범은 개인 간에 형성된 사회적 약속으로서, 개인이 그것의 필요성에 동의하기 때문에 스스로 따르는 것입니다.



갑



을

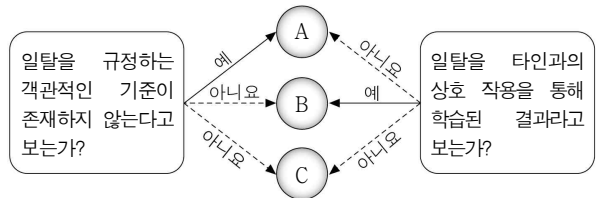
- ① 갑의 관점은 사회에 대한 개인의 우월성을 강조한다.
- ② 갑의 관점은 사회 현상이 개인의 자율적 의지에 따라 형성된다고 본다.
- ③ 을의 관점은 개인이 사회 속에서만 존재 의미를 갖는다고 본다.
- ④ 을의 관점은 사회가 개인의 집합체에 붙여진 이름에 불과하다고 본다.
- ⑤ 갑, 을의 관점은 모두 개인을 사회에 종속된 존재로 본다는 비판을 받는다.

13. 밑줄 친 ㉠~㉢에 대한 설명으로 옳은 것은? [3점]

㉠○○대학교는 학교 운영에 구성원들의 의견을 적극 반영하여 교직원들과 학생들의 만족도가 매우 높다. 최근에는 ㉡총학생회의 건의를 수용하여 ㉢교내 동아리 활동을 위한 시설 건립을 결정하였다. 이러한 소식이 방송을 통해 알려지면서 ○○대학교에 대한 ㉣수험생들의 선호도가 높아지고 있다.

- ① ㉠은 목표가 명확한 공식 조직이다.
- ② ㉡은 인간관계 자체가 목적인 사회 집단이다.
- ③ ㉢은 구성원들의 본질 의지에 따라 형성된 공동 사회이다.
- ④ ㉠은 ㉢의 내집단이자 준거 집단이다.
- ⑤ ㉠, ㉡은 ㉢과 달리 주로 비공식적 제재를 통해 구성원을 통제한다.

14. 일탈 이론 A~C에 대한 설명으로 옳은 것은? (단, A~C는 각각 낙인 이론, 뒤르케임의 아노미 이론, 차별 교제 이론 중 하나이다.)



- ① A는 일탈자로서의 정체성 형성 과정에 주목한다.
- ② B는 사회 규범의 통제력 약화를 일탈의 원인으로 본다.
- ③ C는 일탈자와의 접촉 차단을 일탈의 대책으로 제시한다.
- ④ B는 A와 달리 차별적인 제재를 일탈의 원인으로 본다.
- ⑤ C는 A와 달리 일탈을 초래하는 사회 구조의 영향력을 간과한다.

15. 자료 수집 방법 A~C의 일반적인 특징에 대한 설명으로 옳은 것은? (단, A~C는 각각 면접법, 실험법, 참여 관찰법 중 하나이다.) [3점]

| 연구 사례 | 자료 수집 방법 |
|--|----------|
| 인터넷을 통한 대중과의 소통 방식이 갖는 의미를 이해하기 위해 인터넷 개인 방송 채널 운영자 5명을 인터뷰함. | A |
| 장애 학생과 비장애 학생 간의 상호 작용 방식을 알아보기 위해 통합 교육을 실시하고 있는 고등학교에서 3개월 동안 학생들의 일상을 관찰함. | B |
| 경제 교육 프로그램이 고등학생의 합리적 소비 능력 향상에 미치는 효과를 알아보기 위해 해당 프로그램을 실시하고, 프로그램 실시 전후의 검사를 통해 소비 능력 지수를 비교함. | C |

- ① A는 B와 달리 실제성이 높은 자료를 수집할 수 있다.
- ② B는 A와 달리 연구 대상자와의 언어적 상호 작용이 필수적이다.
- ③ C는 B와 달리 자료 수집 상황에 대한 통제 정도가 낮다.
- ④ A, B는 C와 달리 질적 자료를 수집하는 데 주로 사용된다.
- ⑤ A~C는 모두 2차 자료를 수집하는 데 주로 사용된다.

16. 다음 사례에 공통적으로 부각된 문화의 속성에 대한 진술로 가장 적절한 것은? [3점]

- '눈치'라는 단어는 전체적인 맥락이나 상황을 파악하고 분위기를 재는 것을 의미한다. 한국인이라면 누구나 눈치의 중요성을 잘 안다. 하지만 개인주의적 성향이 강한 서구인들은 '눈치'라는 단어를 쉽게 이해하지 못한다.
- 밑반찬의 개념이 없는 외국인들은 한국의 식당에서 따로 주문하지 않은 밑반찬이 나오는 것에 놀라고, 부족하면 무료로 추가 제공된다는 사실에 다시 한번 놀란다.

- ① 구성원의 사고와 행동의 동질성을 형성한다.
- ② 시간이 흐르면서 그 형태나 의미가 변화한다.
- ③ 한 부분의 변동이 다른 부분의 변동을 초래한다.
- ④ 전승된 문화에 새로운 요소가 추가되어 풍부해진다.
- ⑤ 여러 문화 요소들이 관련을 맺으며 하나의 체계를 형성한다.

17. 밑줄 친 ㉠, ㉡에 대한 옳은 설명만을 <보기>에서 고른 것은?

갑: 요즘 코로나 19 때문에 공연장이나 미술관 같은 ㉠ 문화 시설을 이용할 수 없어서 아쉬워. 하지만 온라인 기반의 콘서트나 전시회가 늘어나면서 집에서 편하게 볼 수 있어 좋은 것 같아.
 을: 맞아, 덕분에 인터넷이나 TV 등을 통해 한국 ㉡ 문화를 쉽게 접하고 그 매력에 빠져든 외국인들도 늘어나고 있대.

- < 보 기 > —
- ㄱ. ㉠은 인간의 본능적인 모든 행동을 포함한다.
 - ㄴ. ㉠은 수준이 높거나 교양있는 것을 의미한다.
 - ㄷ. ㉡은 '문화 시민'에서의 '문화'와 동일한 의미이다.
 - ㄹ. ㉡은 한 사회 구성원들이 공유하는 생활 양식의 총체를 의미한다.


- ① ㄱ, ㄴ ② ㄱ, ㄷ ③ ㄴ, ㄷ ④ ㄴ, ㄹ ⑤ ㄷ, ㄹ

18. A, B의 일반적 특징에 대한 설명으로 옳은 것은? (단, A, B는 각각 관료제와 탈관료제 중 하나이다.)

A는 산업 사회의 지배적인 조직 운영 원리로서 규약과 절차에 따른 업무 수행을 강조한다. 반면 B는 정보화를 배경으로 확산되고 있는 조직 운영 원리로서 규약과 절차에 과도하게 집착하지 않으며 업무 담당자의 재량권을 폭넓게 허용한다.

- ① A는 대규모 조직의 운영에는 적합하지 않다.
- ② B는 외부 환경 변화에 대한 유연한 대응이 용이하다.
- ③ A는 B에 비해 구성원의 창의성이 발휘되기 용이하다.
- ④ B는 A에 비해 중간 관리층의 역할이 증시된다.
- ⑤ A, B 모두 무사안일주의의 문제가 나타나기 쉽다.

19. 다음 자료에 나타난 사회화 유형에 대한 옳은 설명만을 <보기>에서 고른 것은?



* 라이브 커머스: 라이브 영상과 채팅을 통해 소비자와 실시간으로 소통하며 상품을 판매하는 방식의 전자 상거래

- < 보 기 > —
- ㄱ. 성인기 이후에만 일어나는 과정이다.
 - ㄴ. 대중 매체가 미치는 영향력이 점차 줄어들고 있다.
 - ㄷ. 변화 속도가 빠른 현대 사회에서 중요성이 높아졌다.
 - ㄹ. 결혼 이주민을 위한 한국어 교육은 이 유형에 해당한다.

- ① ㄱ, ㄴ ② ㄱ, ㄷ ③ ㄴ, ㄷ ④ ㄴ, ㄹ ⑤ ㄷ, ㄹ

20. 다음 글에 나타난 문화 이해의 관점에 대한 옳은 설명만을 <보기>에서 고른 것은? [3점]

과거 중국에서는 숟가락과 젓가락을 식사 필수품으로 여기던 때가 있었다. 하지만 차를 마시는 습관이 자리를 잡으면서 점차 국물 있는 음식을 덜 먹게 되었다. 또한 겨울철 농사 지역이 확대되면서 사람들 대부분은 국수와 만두 같은 밀가루 음식을 자주 먹게 되었다. 이에 따라 젓가락이 주요 식사 도구가 되고, 숟가락은 서서히 부수적인 도구로 남게 되었다.

- < 보 기 > —
- ㄱ. 문화에 대한 편협한 시각을 극복하는 데 이바지한다.
 - ㄴ. 모든 사회의 문화가 공통점을 지니고 있음을 강조한다.
 - ㄷ. 문화의 각 구성 요소는 상호 유기적 관계를 맺고 있다고 본다.
 - ㄹ. 타문화와의 비교를 통해 자기 문화에 대한 객관적 이해를 가능하게 한다.

- ① ㄱ, ㄴ ② ㄱ, ㄷ ③ ㄴ, ㄷ ④ ㄴ, ㄹ ⑤ ㄷ, ㄹ

* 확인 사항
 ○ 답안지의 해당란에 필요한 내용을 정확히 기입(표기)했는지 확인 하시오.