


2 (동아시아사)

사회탐구 영역

6. (가) 왕조의 대외 관계에 대한 설명으로 옳은 것은? [3점]

자료로 보는 동아시아사



[해설] 자료는 장희 태자 묘에 그려진 예빈도이다. 그림에는 □(가)의 관리가 외국 사신을 맞이하는 모습이 묘사되어 있다. □(가)의 수도 장안은 여러 나라에서 온 사신뿐 아니라 유학생 등이 왕래하는 국제 교류의 장이었다.

- ① 서하를 공격하여 멸망시켰다.
- ② 광저우에 공행을 설치하였다.
- ③ 토번에 화번공주를 파견하였다.
- ④ 왜의 노국왕에게 금인을 하사하였다.
- ⑤ 전흥다오의 활약으로 몽골군을 물리쳤다.

7. (가) 국가에 대한 설명으로 옳은 것은?


아구다가 마침내 연호를 세우고 국호를 □(가) (이)라고 하였다. ... (중략) ... 아구다가 보낸 사신이 카이펑에 도착하자 송의 황제는 채경과 동관으로 하여금 거란을 협공할 방안을 논의하게 하였다. ... (중략) ... □(가) 은/는 군사를 모아 랴오허강을 건넌 뒤 거란의 중경을 공격하여 함락시켰다.

- ① 남비엣을 멸망시켰다.
- ② 연행사를 파견하였다.
- ③ 맹안·모극제를 운영하였다.
- ④ 선우 아래 좌현왕과 우현왕을 두었다.
- ⑤ 베트남 북부에 안남 도호부를 설치하였다.

8. 밑줄 친 '이 학문'이 동아시아 각국에 끼친 영향으로 적절한 것은?

[3점]

○○ 박물관 박물관 소개 관람 안내 전시 소장품




『격몽요결』은 조선 시대에 이 학문을 발전시킨 이이가 저술한 것이다. 이 책에는 주희가 집대성한 이 학문의 수양 방법인 거경궁리(居敬窮理)를 일상생활에서 실천하는 방안 등이 담겨 있다.

- ① 한국 - 골품제가 시행되었다.
- ② 한국 - 독서삼품과가 실시되었다.
- ③ 중국 - 제자백가가 출현하였다.
- ④ 일본 - 다이호 율령이 반포되었다.
- ⑤ 일본 - 사서오경왜훈이 저술되었다.

9. 밑줄 친 '막부' 시기 동아시아의 경제 상황으로 옳지 않은 것은?

[3점]



이 그림은 데지마를 떠난 네덜란드 상관장 일행이 코끼리와 함께 이동하는 모습을 그린 것이다. 막부는 크리스티교를 금지하고 해외 무역을 통제하였으나, 네덜란드 상인에게는 데지마에서의 무역을 허락하였다. 이후 네덜란드 상관장은 정기적으로 쇼군을 알현하고 코끼리, 낙타 등을 선물로 바쳤다.

- ① 한국 - 대동법이 시행되었다.
- ② 한국 - 청해진이 설치되었다.
- ③ 중국 - 강남 지역에 시진이 발달하였다.
- ④ 중국 - 산시 상인이 전국적으로 활약하였다.
- ⑤ 일본 - 조카마치가 발전하였다.

10. (가)에 대한 설명으로 옳은 것만을 <보기>에서 고른 것은?

이것은 포토시 광산에서 원주민이 □(가) 을/를 생산하는 모습을 그린 것입니다. 이곳에서 생산된 다량의 □(가) 은/는 멕시코의 아카풀코에서 갈레온선을 통해 마닐라로 운반되어 중국의 비단, 도자기 등과 교환되었습니다.



< 보기 >

- ㄱ. 한국 - 3포 왜란이 일어나는 원인이 되었다.
- ㄴ. 한국 - 왜관을 통해 일본에 수출된 주요 상품이었다.
- ㄷ. 중국 - 일조편법에서 세금 납부에 이용되었다.
- ㄹ. 일본 - 회취법의 도입으로 생산량이 증가하였다.

- ① ㄱ, ㄴ ② ㄱ, ㄷ ③ ㄴ, ㄷ ④ ㄴ, ㄹ ⑤ ㄷ, ㄹ

11. 자료에 나타난 전쟁이 동아시아에 끼친 영향으로 옳은 것은?

홍타이지가 용골대를 보내 장차 황제라 칭하겠다는 뜻을 전하였다. ... (중략) ... 적군이 쳐들어오자 임금이 한성을 떠나 강화도로 가려하였지만 적들이 사현에 이르자 황급히 남한산성으로 들어갔다. ... (중략) ... 적의 장수가 두 대군과 윤방 등을 위협하여 장계를 짓게 하고 나업을 남한산성으로 보내 강화도를 함락하였다고 통보하였다.

- ① 조선에서 인조반정이 일어났다.
- ② 조선에서 북벌론이 대두되었다.
- ③ 일본에서 오닌의 난이 발생하였다.
- ④ 일본에서 에도 막부가 성립되었다.
- ⑤ 명에서 장거정이 개혁을 추진하였다.

12. 밑줄 친 '이 왕조' 시기 동아시아의 문화에 대한 설명으로 옳은 것은? [3점]

이 주화는 『홍루몽』을 저술한 조설근의 탄생 300주년을 기념하여 발행되었다. 이 왕조의 건륭제 때 저술된 『홍루몽』에는 상류층 남녀 간의 애정 관계와 일상생활에 대한 묘사가 담겨 있다. 이 왕조 시기에는 『유림외사』와 같이 유럽들의 사회적 모순을 풍자한 작품도 출간되었다.

- ① 가부키가 유행하였다.
- ② 제왕운기가 집필되었다.
- ③ 성리대전이 완성되었다.
- ④ 팔만대장경이 조판되었다.
- ⑤ 호류사 5층 목탑이 건립되었다.

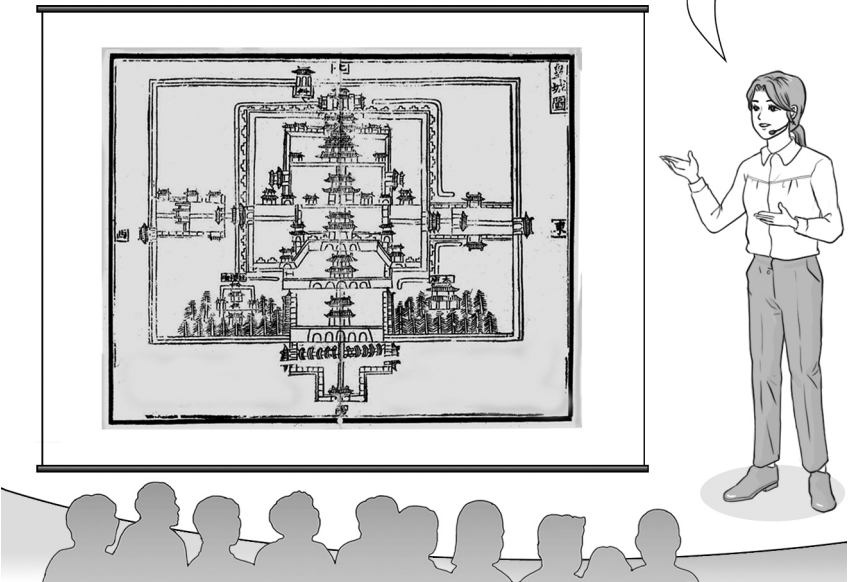
13. 밑줄 친 '신정부'에 대한 설명으로 옳은 것은?

친황을 중심으로 수립된 신정부가 폐번치현을 단행한 이후 무사들에게 지급되던 녹봉은 폐지되었고, 그들의 군사적 지위는 징병제 등에 의해 사라졌다. ... (중략) ... 또한 대외 무역이 나날이 확대되자 신정부는 식산흥업이라는 네 글자를 정책의 큰 지침으로 삼았다.

- ① 광무개혁을 실시하였다.
- ② 인민공사를 조직하였다.
- ③ 사민평등 정책을 추진하였다.
- ④ 흥정 헌법 대강을 제정하였다.
- ⑤ 미·일 화친 조약을 체결하였다.

14. 밑줄 친 '이 왕조'에 대한 설명으로 옳은 것은?

이것은 이 왕조의 초기 수도였던 난징의 황성을 그린 지도입니다. 이 왕조가 자금성을 건설하고 수도를 베이징으로 옮기기 전까지 황제들은 이 황성에서 정무를 처리하고 의식을 거행하였습니다.



- ① 지정은제를 시행하였다.
- ② 조선과 기유약조를 체결하였다.
- ③ 슈고를 두어 치안을 담당하게 하였다.
- ④ 왜구의 근거지인 쓰시마섬을 토벌하였다.
- ⑤ 정화를 파견하여 조공 질서를 확대하였다.

15. (가) 도시에서 있었던 사실로 옳은 것은? [3점]

난징 조약에 의해 개항된 곳 중 하나인 (가)에는 교역을 위해 왕래하는 열강의 선박들이 있고 공공 조계, 프랑스 조계 등이 형성되어 있다. ... (중략) ... 기미년 봄에 조선에서 만세 운동이 일어난 이후 (가)의 프랑스 조계에서 안창호, 이동휘 등에 의해 대한민국 임시 정부가 수립되었다.

- ① 경인선이 개통되었다.
- ② 경사 대학당이 세워졌다.
- ③ 아주 화친회가 창립되었다.
- ④ 금릉 기기국이 설립되었다.
- ⑤ 영국 상인에 의해 신문이 발행되었다.

4 (동아시아사)


사회탐구 영역

16. 밑줄 친 '이 전쟁' 시기에 있었던 사실로 옳은 것은? [3점]

Post Card

○○에게

난 오늘 난징 대학살 기념관에 다녀왔어. 루거우차오 사건을 계기로 일어난 이 전쟁 초기에 일본군은 난징을 점령하고 많은 사람들을 무차별 학살했다고 해. 이 기념관에는 당시의



참상을 보여 주는 사진과 유물 등이 전시되어 있으니 너도 꼭 한번 방문해 보렴.

친구 □□가

- ① 만주국이 수립되었다.
- ② 운요호 사건이 발생하였다.
- ③ 동학 농민 운동이 일어났다.
- ④ 청·일 수호 조약이 체결되었다.
- ⑤ 제2차 국·공 합작이 이루어졌다.

17. 자료를 활용한 탐구 활동으로 가장 적절한 것은?

어제 량치차오가 파리에서 보내온 전보를 받아 보니, 일본이 강화 회의에서 요구한 산둥에 대한 이권을 열강이 승인하였다고 한다. ... (중략) ... 이제 우리는 일본에 산둥을 잃고 나라를 온전하게 보전하지 못하게 된 것이다. ... (중략) ... 지금 나라에 큰 어려움이 닥쳤으니 원컨대 우리 중국 민중은 죽음으로써 대사를 도모해주기 바란다.

- ① 5·4 운동의 배경을 조사한다.
- ② 도이머이 정책의 성과를 파악한다.
- ③ 6월 민주 항쟁의 영향을 찾아본다.
- ④ 미·중 공동 성명의 내용을 알아본다.
- ⑤ 제1차 아편 전쟁의 전개 과정을 분석한다.

18. 자료를 통해 알 수 있는 운동에 대한 설명으로 옳은 것은?

천왕 홍수전을 구세주로 받든 우리는 하늘을 대신하여 도를 행하고 백성을 구할 뿐 해치지 않을 것이며, 천하를 통일하면 3년간 조세를 면할 것이다. 우리가 성을 공격할 때 저항하지 않으면 무사할 수 있지만, 만약 만주족을 도와 성을 지키고 싸우고자 한다면 반드시 벌할 것이다.

- ① 중화민국이 수립되는 계기가 되었다.
- ② 남녀평등, 토지 균분 등을 주장하였다.
- ③ 삼국 간섭이 일어나는 결과를 가져왔다.
- ④ 포츠머스 조약이 체결되는 원인이 되었다.
- ⑤ 월슨의 민족 자결주의에 영향을 받아 일어났다.

19. (가), (나) 시기 사이에 있었던 사실로 옳은 것은? [3점]

(가) 이달 21일 제네바에서 조인된 휴전 협정의 주요 내용은 다음과 같다. 잠정적인 군사 분계선은 북위 17도선을 기준으로 하며, 프랑스와 베트남 민주 공화국 군대는 적대 행위를 중지한다.

(나) 닉슨 대통령은 고위 관리들을 불러 지난달 밤에서 제시한 원칙을 거듭 강조하였다. 이 원칙은 아시아의 방위는 아시아 국가들이 스스로 처리해야 한다는 내용 등을 담고 있다.

- ① 텐안먼 사건이 일어났다.
- ② 한국 광복군이 창설되었다.
- ③ 한·일 기본 조약이 체결되었다.
- ④ 중화 인민 공화국이 수립되었다.
- ⑤ 극동 국제 군사 재판이 개최되었다.

20. 밑줄 친 '이 혁명'에 대한 설명으로 옳은 것은? [3점]

동아시아사 신문

홍위병의 거대한 물결이 중국을 휩쓸다

마오쩌둥을 추종하는 각지의 홍위병들이 베이징으로 몰려들었고, 베이징의 홍위병들은 선동을 위해 텐진, 상하이 등 주요 도시로 이동하였다. 마오쩌둥이 자본주의 노선을 추구하는 세력을 공격 목표로 삼고 있어, 홍위병이 동원된 이 혁명은 앞으로 더욱 확산될 것으로 보인다.

- ① 55년 체제의 성립에 영향을 주었다.
- ② 신군부에 의해 무력으로 진압되었다.
- ③ 샌프란시스코 강화 조약이 체결되는 배경이 되었다.
- ④ 대약진 운동 실패로 인한 정세 변화 속에서 일어났다.
- ⑤ 중국 국민당 정부가 타이완으로 이동하는 계기가 되었다.

※ 확인 사항

답안지의 해당란에 필요한 내용을 정확히 기입(표기)했는지 확인하십시오.