

제 4 교시

사회탐구 영역 (세계지리)

성명 수험 번호 2 제 [] 선택


1. (가), (나) 지도에 대한 설명으로 옳은 것은? (단, 두 지도는 각각 중세 유럽과 이슬람 세계를 대표하는 지도 중 하나임.)



- ① (가)는 지도의 위쪽이 동쪽이다.
- ② (가)의 A 지역은 아시아 대륙에 속한다.
- ③ (나)는 현존하는 가장 오래된 세계 지도이다.
- ④ (나)의 B 지역에는 크리스토프의 성지가 있다.
- ⑤ (가), (나) 모두 항해를 목적으로 제작되었다.

2. 다음은 뉴스 보도의 한 장면이다. ㉠을 활용하여 수집할 수 있는 지리 정보의 사례로 적절하지 않은 것은?

세계 최초의 환경 위성인 '천리안 2B'는 한반도 상공에서 지구 자전과 동일하게 회전하며 한반도 및 아시아 지역을 관측하게 됩니다. 이렇게 관측 대상과의 접촉 없이 멀리서 지리 정보를 수집하는 기술을 ㉠ (이)라고 하는데 향후 활용 범위가 확대될 전망입니다.



세계 최초 환경 위성 '천리안 2B'

- ① 황사 발원지의 식생 밀도 변화
- ② 태풍으로 인한 피해 지역의 면적
- ③ 보르네오섬의 열대 우림 훼손 범위
- ④ 동아시아 지역의 미세먼지 이동 경로
- ⑤ 중국의 대기 환경에 대한 만족도 변화

3. 다음 자료의 (가)에 들어갈 그림의 내용으로 가장 적절한 것은? [3점]

<○○ 기후 지역의 주민 생활>



전통 의복



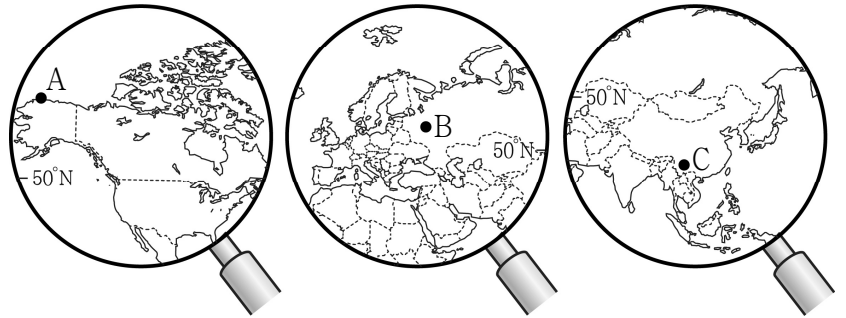
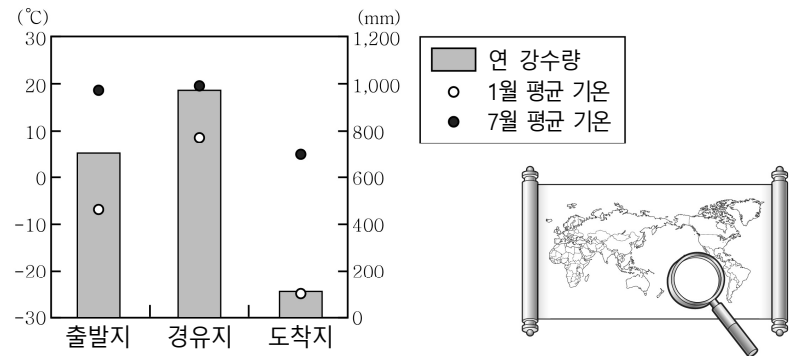
전통 가옥

(가)

전통 농업

- ① 카사바를 수확하는 원주민들
- ② 대추야자가 재배되는 오아시스 마을
- ③ 사탕수수가 대규모로 재배되는 농장
- ④ 고무나무에서 수액을 채취하는 농민들
- ⑤ 벼가 노랗게 익어가고 있는 드넓은 평야

4. 그래프와 같은 기후 특성이 나타나는 여행지를 지도의 A~C에서 고른 것은? [3점]

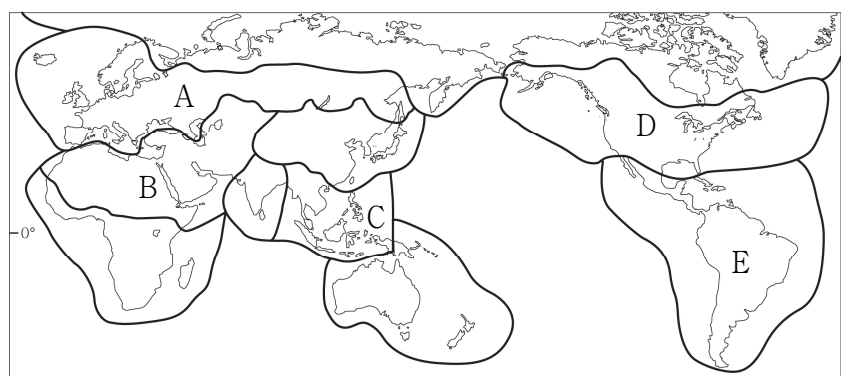


	출발지	경유지	도착지	출발지	경유지	도착지
①	A	B	C	②	A	C
③	B	A	C	④	B	C
⑤	C	B	A			

5. 다음은 어느 행사 홍보물의 일부이다. 자료에 소개된 음식과 관련 깊은 문화 지역을 지도의 A~E에서 고른 것은?

2020 국제 음식 박람회

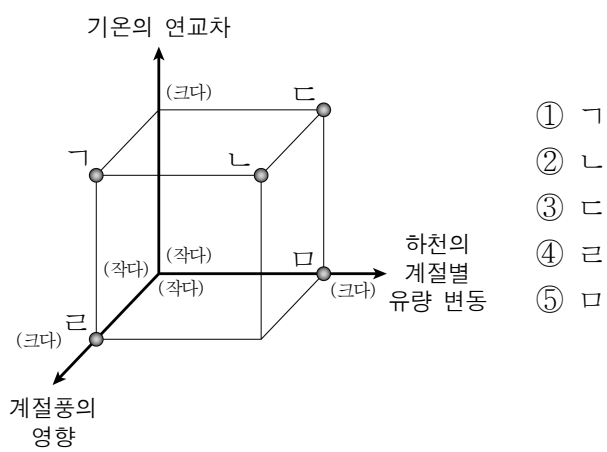
<p>나시르막</p> <p>코코넛 밀크를 넣고 지은 쌀밥에 반찬을 곁들여 바나나 잎 위에 놓고 먹는 음식</p>	<p>퍼</p> <p>쇠고기나 닭고기로 만든 육수에 고기, 라임즙, 고수 등을 넣어 만든 쌀국수</p>
<p>뚝양꿍</p> <p>새우 등의 다양한 해산물에 향신료를 넣어 끓인 스프</p>	<p>나시고랭</p> <p>쌀밥에 채소, 고기, 달콤한 간장, 매콤한 고추소스 등을 넣어 볶은 음식</p>



- ① A ② B ③ C ④ D ⑤ E

세계지리

6. A와 비교한 B 지역의 상대적 특징을 그림의 ㄱ~ㄴ에서 고른 것은?



7. 다음 글의 ㉠~㉣에 대한 옳은 설명만을 <보기>에서 고른 것은? [3점]

‘뚜르 드 몽블랑’ 트레킹 안내

① 알프스산맥의 몽블랑은 프랑스어로 ‘흰 산’이라는 의미이며
 ㉠ 산 정상부에는 연중 눈이 녹지 않고 쌓여 있다. 몽블랑 주위를 도는 ‘뚜르 드 몽블랑’ 트레킹은 양쪽 사면이 급경사를 이루는
 ㉡ 계곡에 위치한 도시 샤토니를 거점으로 1,200~2,700m 사이의 주요 고개와 계곡을 오르내리게 된다. 6~9월 트레킹 시즌에는 에메랄드빛을 띠는 ㉢ 호수와 흐드러진 야생화, 푸른 초원 위 양 떼들의 모습도 자주 만날 수 있다.

<보 기>

ㄱ. ㉠은 대륙판과 대륙판의 충돌로 형성되었다.
 ㄴ. ㉡은 빙하가 여러 방향에서 깎아 뿔뚝한 봉우리를 이룬다.
 ㄷ. ㉢은 주로 빙하의 퇴적 작용으로 만들어졌다.
 ㄹ. ㉣은 물의 평균 염도가 높아 식수로 사용하기에 부적합하다.

- ① ㄱ, ㄴ ② ㄱ, ㄷ ③ ㄴ, ㄷ ④ ㄴ, ㄹ ⑤ ㄷ, ㄹ

8. 카드 앞면의 순서에 맞게 카드 뒷면 A~C를 배열한 것은?

[카드 앞면] 건조 지형의 모식도

[카드 뒷면]

A: 바람에 날린 모래의 침식으로 형성

B: 바람에 날려 온 모래가 퇴적되어 형성

C: 유수에 의한 퇴적으로 형성

- ① A-B-C ② A-C-B
 ③ B-A-C ④ B-C-A
 ⑤ C-A-B

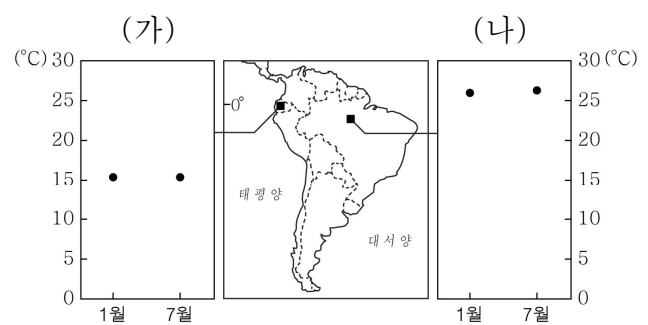
9. 다음 주어진 활동 방식에 맞게 A~C에 들어갈 색을 옳게 선택한 학생을 고른 것은?

<활동 방식>
 세계의 대지형을 다음과 같이 색칠하세요.
 1. 안정육괴는 노랑으로
 2. 고기 조산대는 파랑으로
 3. 신기 조산대는 빨강으로

지역 \ 학생	갑	을	병	정	무
A	노랑	파랑	파랑	빨강	빨강
B	빨강	노랑	빨강	노랑	파랑
C	파랑	빨강	노랑	파랑	노랑

- ① 갑 ② 을 ③ 병 ④ 정 ⑤ 무

10. 자료는 지도에 표시된 두 지역의 1월과 7월 평균 기온이다. (가), (나) 지역에 대한 옳은 설명만을 <보기>에서 고른 것은? [3점]



<보 기>

ㄱ. (가)에서는 비의 2기작이 이루어진다.
 ㄴ. (나)의 전통 가옥은 바닥과 지면이 떨어져 있다.
 ㄷ. (가)는 (나)보다 해발 고도가 높은 곳에 위치한다.
 ㄹ. (가), (나) 모두 기온의 연교차가 일교차보다 크다.

- ① ㄱ, ㄴ ② ㄱ, ㄷ ③ ㄴ, ㄷ ④ ㄴ, ㄹ ⑤ ㄷ, ㄹ

11. 자료는 형성 평가지의 일부이다. ㉠ ~ ㉡ 중 답이 옳게 표시된 것만을 고른 것은? [3점]

형성 평가

2학년 □반 ○○○

* 다음 글의 밑줄 친 '이 지역'에 대한 설명이 옳으면 '예', 틀리면 '아니요'에 √표 하시오.

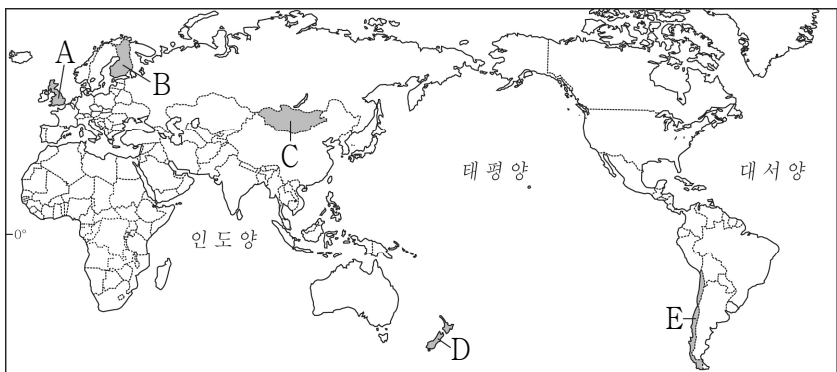
이 지역은 여름에 기온이 높고 강수량이 적어 올리브, 포도, 코르크 등을 재배하는 수목 농업이 활발하며, 구름 없이 맑은 하늘 아래 일광욕을 즐길 수 있어 북서 유럽에서 많은 관광객이 찾아온다.

1. 순록의 가죽과 털로 만든 옷을 주로 입는다.
예 (√) 아니요 () ㉠
2. 주로 이동식 가옥을 이용하여 유목 생활을 한다.
예 () 아니요 (√) ㉡
3. 커피의 대량 생산을 위해 플랜테이션 농업이 발달한다.
예 (√) 아니요 () ㉢
4. 잎이 작고 단단하며 껍질이 두꺼운 나무를 주로 재배한다.
예 (√) 아니요 () ㉣

- ① ㉠, ㉡ ② ㉠, ㉢ ③ ㉡, ㉣ ④ ㉡, ㉣ ⑤ ㉢, ㉣

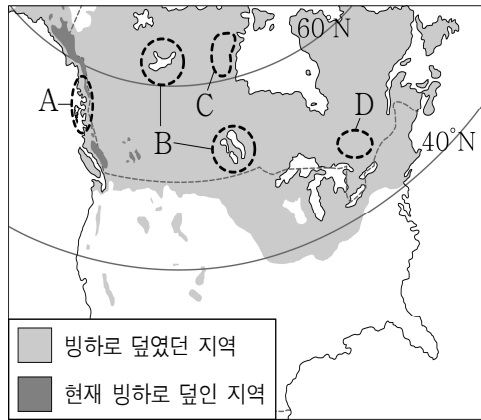
12. 밑줄 친 ㉠에 들어갈 가장 적절한 지역을 지도의 A~E에서 고른 것은?

홈	로그인	예약 확인	고객 센터 / 1:1 상담
문의	제가 12월에 부모님과 함께 여행을 가려고 하는데요. 오로라를 볼 수 있고 산타 마을도 방문할 수 있는 곳이면 좋겠어요. 그리고 눈 덮인 뾰족한 지붕의 통나무집 숙소에서 부모님이 좋아하시는 사우나(Sauna)를 전통 방식 그대로 느긋하게 즐기고 싶어요.		
답변	고객님의 요구에 딱 맞는 여행지가 있습니다. _____ ㉠ _____ 지역으로 여행하시기를 추천합니다.		



- ① A ② B ③ C ④ D ⑤ E

13. 지도의 A~D 지역에 대한 옳은 설명만을 <보기>에서 고른 것은? [3점]



<보 기>

ㄱ. A에는 피오르 해안이 발달한다.
 ㄴ. B의 호수는 화구의 함몰로 형성되었다.
 ㄷ. C에는 여름에 일시적으로 녹는 활동층이 분포한다.
 ㄹ. D의 토양은 비옥하여 농업에 유리하다.

- ① ㄱ, ㄴ ② ㄱ, ㄷ ③ ㄴ, ㄷ ④ ㄴ, ㄹ ⑤ ㄷ, ㄹ

14. (가), (나) 동굴에 대한 설명으로 옳은 것은? (단, (가), (나)는 석회 동굴과 용암 동굴 중 하나임.)



- ① (가)는 석회암의 용식 작용으로 만들어졌다.
- ② (나)의 기반암은 주로 현무암이다.
- ③ (나)의 내부에서는 중유석, 석순 등을 볼 수 있다.
- ④ 형성 과정에서 (가)는 (나)보다 기후의 영향을 많이 받았다.
- ⑤ (가)는 석회 동굴, (나)는 용암 동굴이다.

15. 교사의 질문에 옳게 대답한 학생을 고른 것은? [3점]

주요 형성 원인이 서로 다른 유형의 사막인 A~C의 특징에 대해 말해 볼까요?

갑

A는 한류의 영향을 받아 형성되었습니다.

을

A와 같은 유형의 사막으로 사하라 사막이 있습니다.

병

B는 주로 아열대 고압대의 영향으로 형성되었습니다.

정

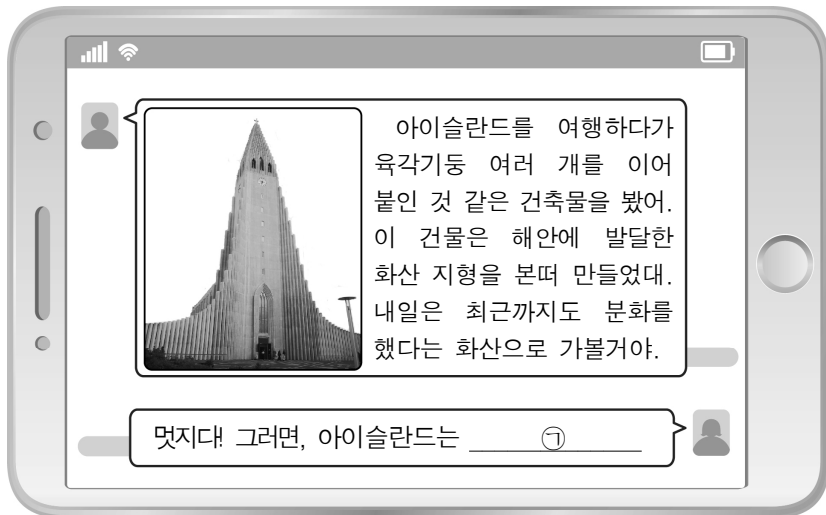
C와 같은 유형의 사막은 탁월풍의 비그늘 지역에 발달합니다.

무

A~C는 화학적 풍화 작용이 물리적 풍화 작용보다 활발합니다.

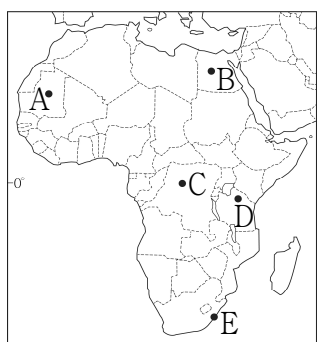
- ① 갑 ② 을 ③ 병 ④ 정 ⑤ 무

16. 다음 자료의 ㉠에 들어갈 내용으로 옳지 않은 것은?



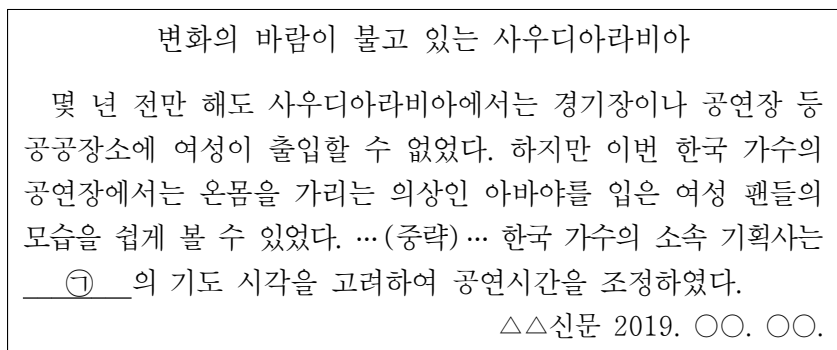
- ① 지각이 안정되어 있겠네.
- ② 판의 경계에 위치하고 있겠네.
- ③ 해안에 주상절리가 발달해 있겠네.
- ④ 지열 발전에 유리한 조건을 갖추고 있겠네.
- ⑤ 간헐천, 온천과 같은 관광 자원이 풍부하겠네.

17. 다음 자료의 밑줄 친 '이 지역'을 지도의 A~E에서 고른 것은? [3점]



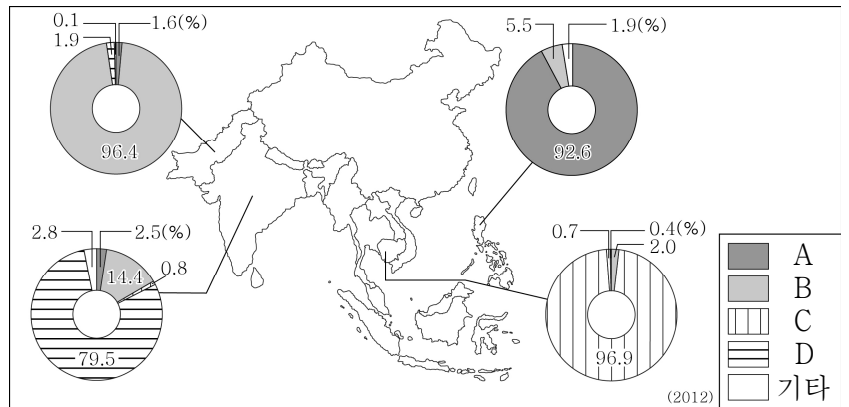
- ① A
- ② B
- ③ C
- ④ D
- ⑤ E

18. 다음 자료의 ㉠ 종교와 관련된 경관으로 옳은 것은?



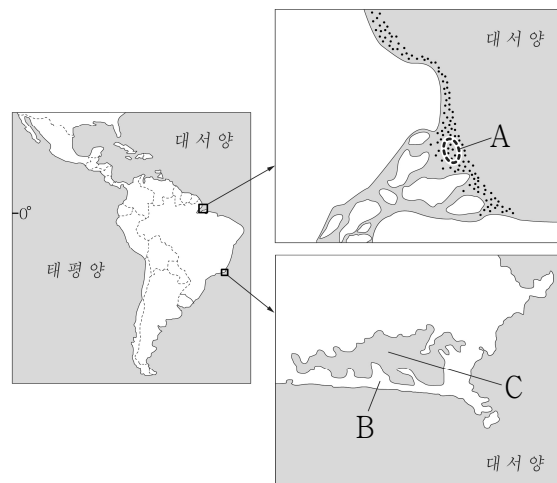
- ① 십자가와 종탑
- ② 불상을 모시는 불당
- ③ 다양한 신들이 조각된 사원의 벽면
- ④ 신자들이 몸을 씻고 있는 겐지스 강변
- ⑤ 돛형 구조물과 첨탑이 어우러진 모스크

19. 지도는 네 국가의 종교별 인구 구성 비율이다. A~D 종교에 대한 설명으로 옳은 것은? (단, A~D는 불교, 이슬람교, 크리스티교, 힌두교 중 하나임.) [3점]



- ① A는 남부 아시아에서 기원하여 동아시아로 확산되었다.
- ② B는 로마의 국교로 지정되면서 지중해 일대로 확산되었다.
- ③ C는 주로 군사적 정복과 상업 활동을 통해 전 세계로 전파되었다.
- ④ D는 주로 선교사에 의해 조직적으로 신대륙에 전파되었다.
- ⑤ A~C는 보편 종교, D는 민족 종교이다.

20. 다음 지도의 A~C 지형에 대한 옳은 설명만을 <보기>에서 고른 것은? (단, A~C는 갯벌, 사주, 석호 중 하나임.) [3점]



<보기>

- ㄱ. A는 주로 조석 간만의 차가 큰 해안에서 발달한다.
- ㄴ. B는 파랑과 연안류의 퇴적 작용으로 형성된다.
- ㄷ. C는 시간이 지날수록 규모가 커진다.
- ㄹ. A, B 모두 만보다 곳에서 주로 발달한다.

- ① ㄱ, ㄴ ② ㄱ, ㄷ ③ ㄴ, ㄷ ④ ㄴ, ㄹ ⑤ ㄷ, ㄹ

* 확인 사항

- 답안지의 해당란에 필요한 내용을 정확히 기입(표기)했는지 확인 하시오.