


제 4 교시

사회탐구 영역 (세계사)

성명 수험 번호 2 제 [] 선택


1. (가) 문명에 대한 설명으로 옳은 것은?



사진은 (가) 문명의 대표 유적인 하라파에서 출토된 유물로, 요가의 명상 자세로 추정되는 모습이 새겨진 인장이다. 또한 이 문명 지역에서는 소, 코끼리, 상상의 동물 등 다양한 문양이 표현된 인장이 발견되었다.

- ① 지구라트를 만들었다.
- ② 갑골 문자를 사용하였다.
- ③ 사자의 서를 제작하였다.
- ④ 인더스강 유역에서 발달하였다.
- ⑤ 피라미드와 �핑크스를 건립하였다.

2. 밑줄 친 '황제'에 대한 설명으로 옳은 것은?



와! 이것이 시안에서 발견된 병마용이구나. 흙으로 만든 수많은 군사와 말들을 보니 중국을 최초로 통일한 황제의 권력이 얼마나 강력했는지를 짐작할 수 있을 것 같아.

- ① 불교를 수용하였다.
- ② 과거제를 실시하였다.
- ③ 만리장성을 축조하였다.
- ④ 성리학을 관학으로 채택하였다.
- ⑤ 고려와 함께 일본을 공격하였다.

3. (가)에 들어갈 내용으로 적절한 것은? [3점]

기원전 522년에 즉위한 다리우스 1세는 아케메네스 왕조 페르시아의 위대한 조직자였다. 그가 왕위에 오르기 전의 제국은 여러 개의 주로 구성되어 있었고, 중앙의 권력이 약해진 시기에는 일부 총독이 반독립적인 통치자로 행세하기도 했다. 이에 다리우스 1세는 제국을 20여 개의 주로 재조직하고 (가)

- ① 헤지라를 단행하였다.
- ② 삼번의 난을 진압하였다.
- ③ 티마르 제도를 운영하였다.
- ④ 이베리아반도를 정복하였다.
- ⑤ 왕의 눈이라는 감찰관을 파견하였다.

4. 밑줄 친 '시대'에 볼 수 있는 모습으로 가장 적절한 것은?

평양은 수도를 동쪽 낙읍(뤼양)으로 옮겨 건윤의 침략을 피하였다. 왕실의 권위가 급격히 약화되었고, 춘추 5패가 '주 왕실을 받들어 오랑캐를 물리친다.'는 명분을 앞세워 제후국들을 통솔하였다. 이후 힘이 강한 7개의 제후국이 약소 제후국들을 병합하면서 약육강식의 시대가 전개되었다.

- ① 팔기군 조직을 명하는 황제
- ② 철제 농기구를 사용하는 농민
- ③ 자금성 건설에 동원되는 기술자
- ④ 곤여만국전도를 제작하는 선교사
- ⑤ 지폐인 교자로 상품을 거래하는 상인


5. 밑줄 친 '이 제국'에 대한 설명으로 옳은 것은? [3점]

셀주크 튀르크가 무너진 뒤 아나톨리아 지역에 수립된 이 제국은 14세기 말 발칸반도의 대부분을 지배하고 술탄의 칭호를 사용하였다. 15세기 초 앙카라 전투에서 티무르 왕조에게 패하여 타격을 받기도 했지만, 곧 체제를 정비하여 메흐메트 2세 때에는 콘스탄티노폴리스를 점령하고 비잔티움 제국을 멸망시켰다.

- ① 예니체리를 창설하였다.
- ② 함무라비 법전을 편찬하였다.
- ③ 조로아스터교를 국교로 삼았다.
- ④ 사산 왕조 페르시아를 정복하였다.
- ⑤ 십자군 전쟁으로 인해 쇠퇴하였다.

세계사

6. 밑줄 친 ‘이 왕조’ 시기에 있었던 사실로 옳은 것은?



- ① 옥유가 반포되었다.
- ② 수시력이 제작되었다.
- ③ 일조편법이 시행되었다.
- ④ 감합 무역이 실시되었다.
- ⑤ 한화 정책이 추진되었다.

7. (가) 왕조에 대한 설명으로 옳은 것은? [3점]



- ① 은허 유적을 남겼다.
- ② 카스트 제도를 확립하였다.
- ③ 페르세폴리스를 건설하였다.
- ④ 탈라스 전투에서 승리하였다.
- ⑤ 알렉산드로스의 침공으로 멸망하였다.

8. (가)에 들어갈 내용으로 가장 적절한 것은? [3점]

당의 율령 체제는 현종 때부터 서서히 무너지고 있었다. 특히 안녹산, 사사명 등이 반란을 일으킨 후 일부 절도사 세력이 독자적인 지배권을 행사하면서 중앙 정부의 통제력이 급격히 약화되었다. 또한 농민이 전호로 몰락하거나 토지로 부터 이탈하는 경향도 증가하여 국가 재정을 꾸려 나갈 수 없게 되었다. 이로 인해 정부는

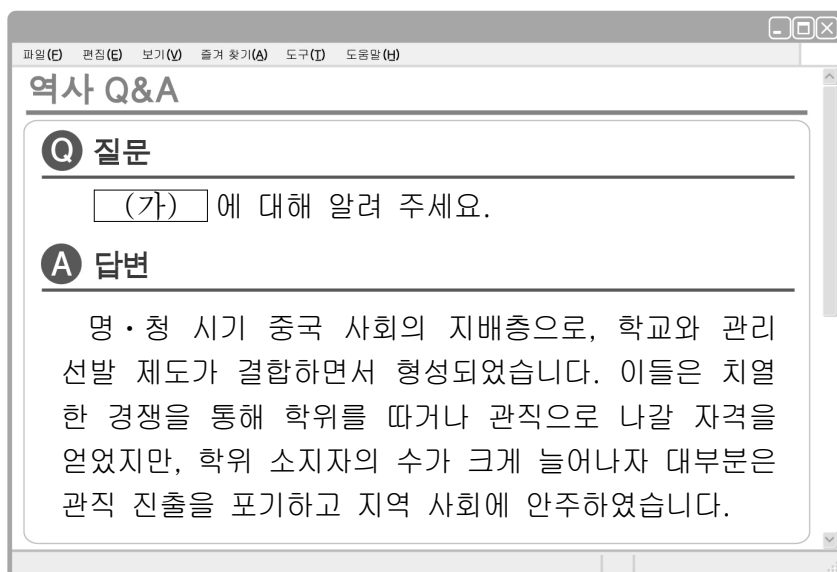
- ① 균전제를 실시하였다.
- ② 부병제를 도입하였다.
- ③ 양세법을 시행하였다.
- ④ 9품중정제를 채택하였다.
- ⑤ 북면관·남면관제를 운영하였다.

9. 밑줄 친 ‘신법’이 추진된 배경으로 적절한 것은?



- ① 황소의 난으로 혼란을 겪었다.
- ② 5호의 침입으로 16국이 세워졌다.
- ③ 정화의 함대를 해외로 파견하였다.
- ④ 임진왜란에 참전하여 재정이 악화되었다.
- ⑤ 요와 서하에 대한 세폐 부담이 증가하였다.

10. (가) 계층에 대한 설명으로 옳은 것은? [3점]




- ① 죽림칠현이라고 불렸다.
- ② 쇼군과 주종 관계를 맺었다.
- ③ 조카마치에 주로 거주하였다.
- ④ 요역을 면제받는 특권을 누렸다.
- ⑤ 향거리선제를 통해 관직에 진출하였다.

11. (가) 황제에 대한 설명으로 옳은 것은? [3점]

중국의 황제


(가) (생몰년: 기원전 156~기원전 87)



- 군현제 확대 실시
- 남월 및 고조선 정복
- 균수법·평준법 시행
- 소금, 철, 술의 전매제 실시
- 동중서의 건의로 태학 설치

- ① 시박사를 설치하였다.
- ② 이갑제를 실시하였다.
- ③ 장건을 서역에 파견하였다.
- ④ 파스파 문자를 제작하였다.
- ⑤ 색목인을 재정 관료로 등용하였다.

12. 밑줄 친 '이 제국'에 대한 설명으로 옳은 것은?



사진은 13세기에 발행된 교초라는 지폐로 이 제국 전체에 유통되었다. 교초가 광범위하게 유통될 수 있었던 까닭은 지폐의 신용이 유지되었기 때문이다. 이 제국의 쿠빌라이 칸은 지폐 속에 “위조한 자는 사형에 처한다.”라는 문구를 넣어 위조를 방지하였다. 그리고 세금 납부에 교초를 사용하게 하여 신용도를 확보하였다.

- ① 발해를 멸망시켰다.
- ② 역참을 설치하였다.
- ③ 사고전서를 편찬하였다.
- ④ 네르친스크 조약을 체결하였다.
- ⑤ 진승·오광의 난을 진압하였다.

13. (가), (나) 시기 사이에 있었던 사실로 옳은 것은? [3점]

(가) 몽골 군대는 세 갈래로 나누어 진격하였다. 세 부대는 남송의 수도 임안(항저우)에서 만나기로 하였다. 몽골 군대가 고정산에 이르자 남송의 황제가 항복하였다.

(나) 북쪽의 몽골과 남쪽의 왜구가 수시로 침략하자 이를 막기 위한 군사비 지출이 늘어나면서 정부의 재정이 악화되었다. 이 문제를 해결하기 위해 장거정은 개혁을 단행하였다.

- ① 상앙이 변법을 추진하였다.
- ② 주원장이 명을 건국하였다.
- ③ 사마천이 사기를 저술하였다.
- ④ 야율아보기가 거란족을 통합하였다.
- ⑤ 채윤(채륜)이 제지술을 발전시켰다.

14. (가) 왕조에서 있었던 사실로 옳은 것은?



이 그림은 매카트니 사절단이 건륭제에게 무역 확대를 요청하는 모습을 보여주고 있어.

당시 (가) 은/는 유럽 상인이 공행을 통해서만 교역을 할 수 있도록 허용했어.




- ① 양명학이 등장하였다.
- ② 제자백가가 출현하였다.
- ③ 황건적의 난이 일어났다.
- ④ 변발과 호복이 강요되었다.
- ⑤ 이백, 두보 등의 시인이 배출되었다.

15. (가) 시대에 있었던 사실로 옳은 것만을 <보기>에서 고른 것은?

세계사 자료실

서책 정보 ▾ 일본서기 [검색] [초기화]



상세 정보

일본서기는 고사기와 함께 일본의 가장 오래된 역사서로, 헤이조쿄를 수도로 하던 (가) 시대에 완성되었다. 이 책은 한·일 고대사 연구의 중요한 자료이지만 신뢰성에 대한 문제가 지속적으로 제기되고 있다.

[이미지 다운로드] [관심 유물에 등록]

<보 기>

- ㄱ. 견당사가 파견되었다.
- ㄴ. 도다이사가 창건되었다.
- ㄷ. 난학(란가쿠)이 형성되었다.
- ㄹ. 풍속화인 우키요에가 유행하였다.

- ① ㄱ, ㄴ ② ㄱ, ㄷ ③ ㄴ, ㄷ ④ ㄴ, ㄹ ⑤ ㄷ, ㄹ

16. 밑줄 친 ‘이 종교’에 대한 설명으로 옳지 않은 것은? [3점]

기획 특집 신제품 개발, 종교에서 길을 찾다

1부. 무슬림의 마음을 사로잡아라!

연도	전체 식품 시장에서의 비중 (%)	시장 규모 (억 달러)
2009년	15.9	6350
2013년	17.7	1조2920
2019년	21.2	2조5370

우리나라의 한 전자 회사는 이 종교 신도인 무슬림을 대상으로 메카의 방향을 알려 주는 휴대 전화를 개발하여 큰 인기를 끌었다. 또한 많은 기업들이 할랄 인증 제품을 선보이고 있다. 할랄은 무슬림이 먹고 쓸 수 있는 제품을 총칭한다. 최근에는 할랄의 인증 범위가 식품뿐만 아니라 의약품, 화장품, 관광, 유통, 금융까지 확장되고 있다.

- ① 무함마드가 창시하였다.
- ② 우상 숭배를 금지하였다.
- ③ 베다를 경전으로 활용하였다.
- ④ 사원에 아라베스크 무늬를 사용하였다.
- ⑤ 일상생활에서 쿠란의 가르침을 중시하였다.

17. (가) 왕조에서 있었던 사실로 옳은 것은?



그림은 장택단이 (가)의 수도 카이펑의 모습을 그린 청명상하도의 일부입니다. 여관, 음식점 등 다양한 점포, 가마를 타는 사람들, 짐을 싣고 가는 낙타 등이 그려져 있어 당시 카이펑의 변화한 모습을 잘 엿볼 수 있습니다.

- ① 당삼채가 유행하였다.
- ② 참파 벼가 도입되었다.
- ③ 옥수수, 고구마 등이 전래되었다.
- ④ 회관과 공소가 각지에 건립되었다.
- ⑤ 농정전서, 천공개물 등이 편찬되었다.

18. 다음 막부에 대한 설명으로 옳은 것은? [3점]

○○ 막부의 쇄국 정책

- 1616년 유럽 선박의 기항지를 히라도와 나가사키로 한정
- 1624년 에스파냐 선박의 내항 금지
- 1635년 일본인의 해외 도항 금지
- 1641년 네덜란드 상관을 데지마로 이동

- ① 헤이안쿄로 천도하였다.
- ② 다이카 개신을 단행하였다.
- ③ 산킨코타이제를 시행하였다.
- ④ 전국(센고쿠) 시대를 통일하였다.
- ⑤ 고전 시가를 엮은 만엽집을 완성하였다.

19. (가) 황제에 대한 설명으로 옳은 것은?

강희제의 뒤를 이어 황제에 즉위한 (가)은/는 러시아와 카흐타 조약을 체결하고 대의각미록을 저술하였다. 그리고 조세 징수를 간소화하기 위해 지세와 정세를 통합하여 은으로 거두는 지정은제를 전국으로 확대하였다. 또한 선교사들이 전례 문제로 분란을 일으키자 금교령을 내려 그들의 활동을 제한하였다.

- ① 군기처를 설치하였다.
- ② 국호를 청으로 바꾸었다.
- ③ 고구려 원정을 단행하였다.
- ④ 분열된 남북조를 통일하였다.
- ⑤ 수도를 대도(베이징)로 옮겼다.

20. 밑줄 친 ‘이 왕조’에 대한 설명으로 옳은 것은? [3점]

이 왕조는 여진족과 한족을 각각의 방식으로 분리하여 통치하였다. 즉 여진족은 맹안 모극제로, 한족 등 농경민은 주현제로 다스렸다. 이와 같은 이원적인 통치 체제를 채택한 이유는 정복 지역을 효과적으로 통치하면서도 자신들의 전통과 정체성을 유지하기 위해서였다.

- ① 전연의 맹약을 체결하였다.
- ② 송과 연합하여 요를 멸망시켰다.
- ③ 분서갱유를 통해 사상을 통제하였다.
- ④ 종법에 의거한 봉건제를 시행하였다.
- ⑤ 화북과 강남을 연결하는 대운하를 건설하였다.

* 확인 사항

○ 답안지의 해당란에 필요한 내용을 정확히 기입(표기)했는지 확인하십시오.