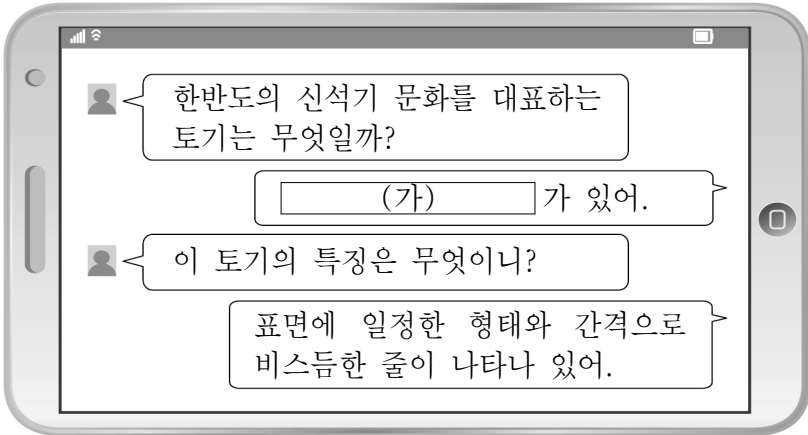


제 4 교시

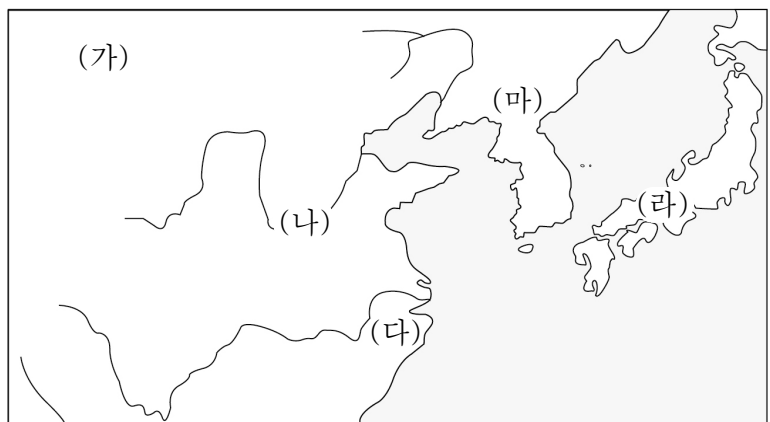
사회탐구 영역 (동아시아사)

성명 수험 번호 2 제 [] 선택

1. (가)에 해당하는 유물 사진으로 적절한 것은?



2. 밑줄 친 '이 지역'을 지도에서 옳게 고른 것은?



- ① (가) ② (나) ③ (다) ④ (라) ⑤ (마)

3. 다음 자료에 나타난 인구 이동의 영향으로 적절한 것은? [3점]

○ 영가 5년에 흉노, 갈족 등이 진(晉)의 수도 뤼양 부근을 노략질하였다. ... (중략) ... 한족 출신의 고위 관료들은 뤼양 동남쪽으로 달아났다.
○ 진(晉)이 크게 어지러워지자 ... (중략) ... 화북의 유민 중에 창장강을 건너 머무는 자들이 많았다.

- ① 전연의 맹약이 체결되었다.
② 남비엣(남월)이 멸망하였다.
③ 동진이 강남에서 건국되었다.
④ 백제의 사비성이 함락되었다.
⑤ 주몽 집단이 졸본으로 이동하였다.

4. 밑줄 친 '이 국가'에 대한 설명으로 옳은 것은?

기원전 1600년경 황허강 중류 일대에서 출현한 이 국가는 중요한 일을 결정할 때 점을 쳐서 신의 뜻을 물었다. 마지막 수도의 유적지인 은허에서 발견된 갑골문은 전쟁과 농사 및 제사 등에 대한 점을 친 뒤, 그 내용과 결과를 거북의 배 껍질이나 짐승의 뼈 등에 새겨 넣은 것이다.

- ① 왕이 제사장을 겸하였다.
② 독서삼품과를 실시하였다.
③ 전국적으로 군현제를 시행하였다.
④ 우경과 철제 농기구를 보급하였다.
⑤ 행정을 담당하는 태정관을 설치하였다.

5. (가) 승려가 활동하던 시기 동아시아 상황에 대한 설명으로 옳은 것은? [3점]



- ① 한국 - 위만이 준왕을 몰아냈다.
② 한국 - 광종이 과거제를 도입하였다.
③ 중국 - 장건을 서역에 보냈다.
④ 중국 - 남조와 북조가 대립하였다.
⑤ 일본 - 견당사를 파견하였다.

동아시아사

6. (가) 제국에 대한 설명으로 옳은 것은?


동아시아사 신문

공포의 기마병, 중국에 굴욕을 안기다

초원의 패자가 된 **(가)** 제국의 목욕은 만리장성을 넘어 한을 공격하였다. 양국의 군대는 평성에서 부딪쳤는데, 이 전투에서 한 고조는 목욕의 군대에 포위되었다가 가까스로 빠져나왔다. 이후 목욕에게 비단 등의 공물을 바치고 황실의 여자를 시집보내는 등 굴욕적인 외교 관계를 맺어야만 했다.

- ① 고유 문자를 남겼다.
- ② 군국제를 시행하였다.
- ③ 대운하를 건설하였다.
- ④ 위구르에 화번공주를 보냈다.
- ⑤ 최고 통치자를 선우라고 하였다.

7. (가) 황제에 대한 설명으로 옳은 것은?



▲시황조판

이것은 전국 시대를 통일한 **(가)** 이가 도량형을 통일하면서 저울의 추에 붙인 동판이다. '천하가 편안해졌고 처음 황제로 불리게 되었다. ... (중략) ... 측량하는 법이 일치하지 않아 의심스러운 것이 많았는데 이를 하나로 통일되게 했다.'라고 새겨져 있다.

- ① 발해를 건국하였다.
- ② 별무반을 편성하였다.
- ③ 분서갱유를 단행하였다.
- ④ 5호 16국을 통일하였다.
- ⑤ 야마토 정권을 수립하였다.

8. (가) 국가에 대한 설명으로 옳은 것은? [3점]

북방 민족의 고유 문자 카드

(가)의 야율아보기는 한족의 문화에 동화되지 않으려는 취지로 고유 문자를 만들어 사용하였다. 그러나 1125년 금의 침입으로 멸망하면서 잊힌 문자로 남게 되었다. 문자의 모양은 한자와 비슷하지만, 현재까지도 완전한 해독이 되지 않고 있다.

- ① 호라즘을 정복하였다.
- ② 베이징으로 천도하였다.
- ③ 다이호 율령을 반포하였다.
- ④ 중국에 연행사를 파견하였다.
- ⑤ 북면관·남면관제를 실시하였다.

9. 지도의 형세가 나타난 시기 동아시아 상황으로 옳은 것은? [3점]

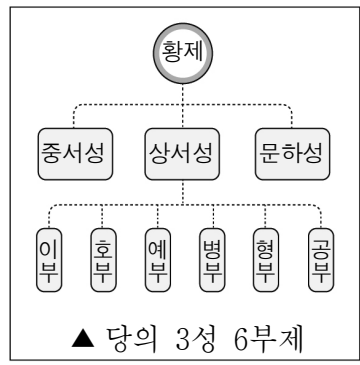


- ① 무로마치 막부가 수립되었다.
- ② 춘추 전국 시대가 시작되었다.
- ③ 왜가 백강 전투에서 패배하였다.
- ④ 효문제와 호한 융합을 시도하였다.
- ⑤ 고구려가 살수에서 대승을 거두었다.

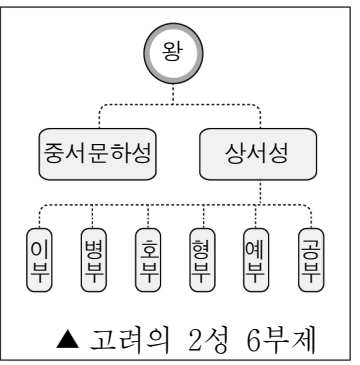
10. 밑줄 친 ㉠에 해당하는 사례로 적절한 것만을 <보기>에서 고른 것은? [3점]

동아시아사 학습 자료

집중 탐구	율령의 수용과 통치 제도의 정비
-------	-------------------



▲ 당의 3성 6부제



▲ 고려의 2성 6부제

동아시아 각국은 당의 율령 체제를 받아들여 통치 제도를 정비하였다. 하지만 그 명칭과 관계는 ㉠ 자국의 현실에 맞게 선별적으로 수용하여 운영하였다.

<보 기>

ㄱ. 흉노는 좌현왕과 우현왕을 두었다.
 ㄴ. 일본은 제사를 담당하는 신기관을 설치하였다.
 ㄷ. 발해는 유교 덕목을 6부의 명칭에 사용하였다.
 ㄹ. 주는 혈연관계를 기초로 한 봉건제를 시행하였다.

- ① ㄱ, ㄴ ② ㄱ, ㄷ ③ ㄴ, ㄷ ④ ㄴ, ㄹ ⑤ ㄷ, ㄹ

11. (가) 전쟁이 끼친 영향으로 가장 적절한 것은?



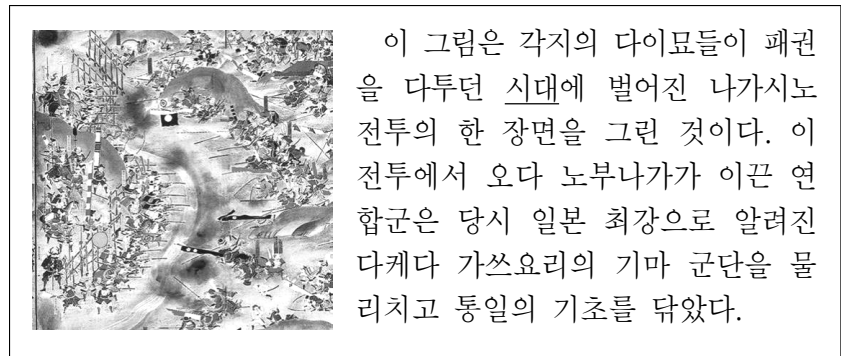
- ① 서하가 멸망하였다.
- ② 에도 막부가 수립되었다.
- ③ 오닌의 난이 발생하였다.
- ④ 신진 사대부가 등장하였다.
- ⑤ 장거정이 개혁을 추진하였다.

12. 다음 자료를 활용한 탐구 활동으로 가장 적절한 것은?

중원에서 태어났다고 하여 중화가 되는 것이 아니며, 변방에서 태어났다고 하여 중화가 될 수 없는 것도 아니다. ... (중략) ... 인의(仁義)를 알면 중화인이고, 윤리를 모르면 오랑캐이다. 어찌 태어난 곳이 중원이냐 아니냐를 가지고 중화인과 오랑캐를 구별할 수 있겠는가.
 - 『대의각미록』 -

- ① 서원이 확산된 배경을 조사한다.
- ② 전쟁을 통한 문물 교류를 파악한다.
- ③ 불교와 신토의 결합 사례를 검색한다.
- ④ 전통적 화이관의 변화 배경을 살펴본다.
- ⑤ 동아시아 문화권의 형성 과정을 정리한다.

13. 밑줄 친 '시대'의 동아시아 상황으로 옳은 것은? [3점]



- ① 남송이 멸망하였다.
- ② 거란이 고려를 침략하였다.
- ③ 조충이 일본에 전래되었다.
- ④ 가마쿠라 막부가 붕괴되었다.
- ⑤ 나·당 연합군이 결성되었다.

14. (가) 인물에 대한 설명으로 옳은 것은? [3점]



- ① 성리학을 집대성하였다.
- ② 태학의 설치를 건의하였다.
- ③ 쇼토쿠 태자의 스승이 되었다.
- ④ 에도 막부의 의례를 정비하였다.
- ⑤ 심즉리와 지행합일을 강조하였다.

15. (가)에 해당하는 문화유산으로 적절한 것은?

