




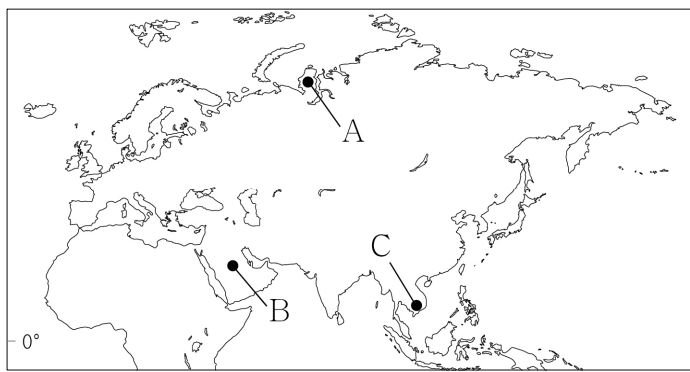
제 4 교시

사회탐구 영역(세계지리)

성명		수험번호				2				제 [ ] 선택
----	--	------	--	--	--	---	--	--	--	----------

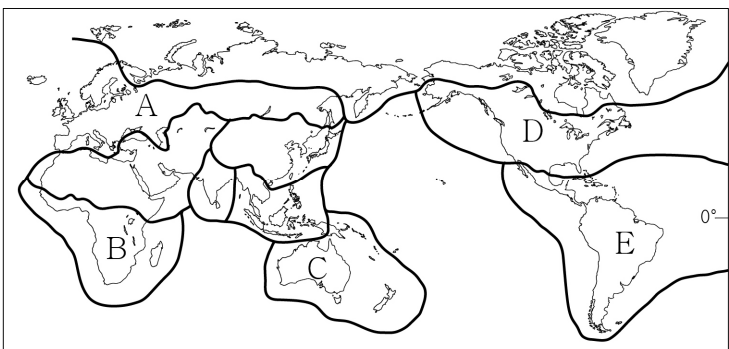
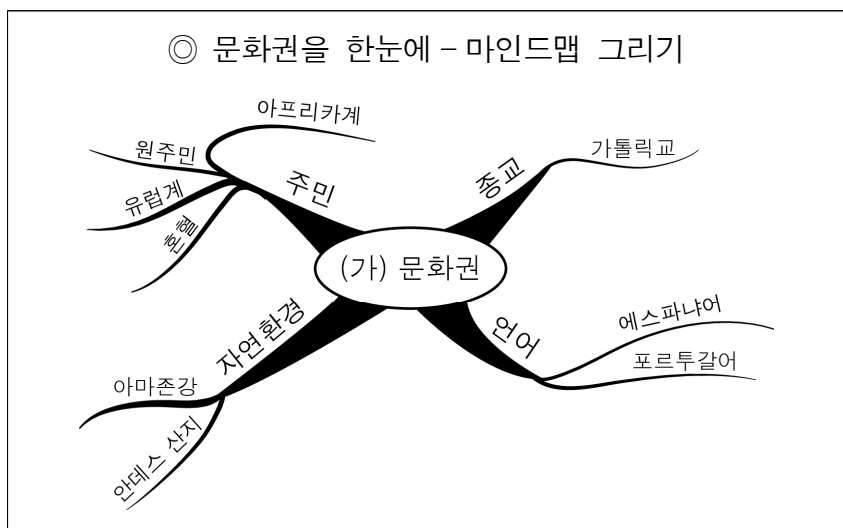
1. 다음 자료는 세 지역의 전통 의복을 소개한 것이다. (가)~(다) 지역을 지도의 A~C에서 고른 것은? [3점]

(가)	(나)	(다)
		
덥고 습한 기후에 적합한 얇고 가벼운 옷	뜨거운 햇볕을 막기 위해 헐렁하게 온몸을 감싸는 옷	혹독한 추위를 견디기 위해 동물의 털 가죽으로 만든 외투



- |   |     |     |     |   |     |     |     |
|---|-----|-----|-----|---|-----|-----|-----|
|   | (가) | (나) | (다) |   | (가) | (나) | (다) |
| ① | A   | B   | C   | ② | B   | A   | C   |
| ③ | B   | C   | A   | ④ | C   | A   | B   |
| ⑤ | C   | B   | A   |   |     |     |     |


2. (가) 문화권을 지도의 A~E에서 고른 것은?



- ① A    ② B    ③ C    ④ D    ⑤ E

3. 다음은 형성 평가지의 일부이다. ㉠~㉡ 중 답이 옳게 표시된 것만을 고른 것은? [3점]

※ 그림은 두 종교의 대표적인 경관이다. (가), (나) 종교에 대한 내용이 맞으면 '예', 틀리면 '아니요'에 ✓표 하시오. (단, (가), (나)는 각각 크리스티교와 힌두교 중 하나임.)



다양한 신의 모습이 조각된 (가)의 사원


십자가와 종탑이 있는 (나)의 사원

- ① (가)는 남부 아시아에서 기원하였다.  
예  아니요  ..... ㉠
- ② (가)의 신도들은 성스러운 강에서 몸을 씻는 의식을 한다.  
예  아니요  ..... ㉡
- ③ (나)의 신도들은 돼지고기를 금기시한다.  
예  아니요  ..... ㉢
- ④ (나)는 주로 유럽, 아메리카 및 오세아니아 지역에서 믿는다.  
예  아니요  ..... ㉣

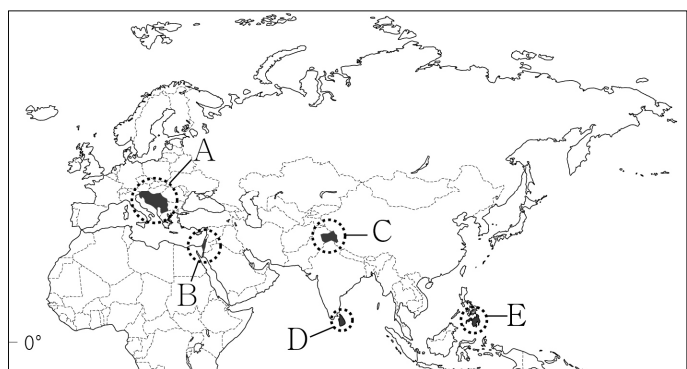
- ① ㉠, ㉡    ② ㉠, ㉢    ③ ㉡, ㉣    ④ ㉡, ㉣    ⑤ ㉢, ㉣

4. 다음 영화의 배경 지역을 지도의 A~E에서 고른 것은?

◎ 영화 소개 자료



영국으로부터 독립하는 과정에서 이슬람교와 힌두교 간의 갈등이 발생한 지역을 배경으로 한 영화로, 길 잃은 모슬렘 소녀가 힌두교 가족을 만나 종교적 갈등을 극복하고 집으로 돌아가는 과정을 휴머니즘으로 표현한 영화이다.



- ① A    ② B    ③ C    ④ D    ⑤ E

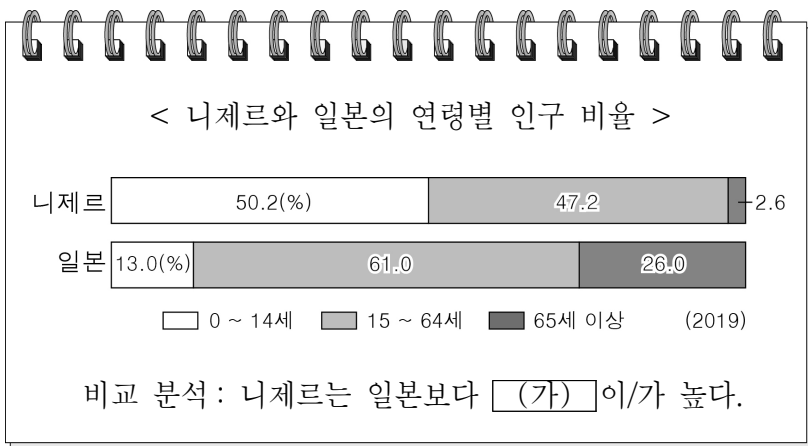


10. (가), (나)에 들어갈 내용으로 옳은 것은?

- **(가)** 은/는 회원국 간의 노동력, 자본, 상품의 자유로운 이동이 가능한 단일 시장을 형성하고 있다. 다수의 회원국이 단일 통화를 사용하고 있는 지역 경제 협력체이다.
- **(나)** 은/는 1995년 국가 간 무역 장벽을 제거하고 자유 무역을 확대하기 위해 설립된 국제기구이다. 공산품뿐만 아니라 농산물, 서비스 분야에서도 자유 무역을 추구한다.

- |                  |             |
|------------------|-------------|
| (가)              | (나)         |
| ① 유럽 연합          | 국제 연합       |
| ② 유럽 연합          | 세계 무역 기구    |
| ③ 동남아시아 국가 연합    | 국제 연합       |
| ④ 동남아시아 국가 연합    | 경제 협력 개발 기구 |
| ⑤ 북아메리카 자유 무역 협정 | 세계 무역 기구    |

11. (가)에 들어갈 내용으로 옳지 않은 것은? [3점]



- |              |              |
|--------------|--------------|
| ① 중위 연령      | ② 인구 부양비     |
| ③ 합계 출산율     | ④ 인구의 자연 증가율 |
| ⑤ 유소년층 인구 비율 |              |

12. 다음은 수업 장면의 일부이다. 교사의 질문에 적절하게 대답한 학생만을 고른 것은?

그림은 시기별 교통·통신의 발달을 나타낸 것입니다. 이로 인한 지구촌의 변화 모습을 발표해 볼까요?

학생들의 대답:

- ① 다른 국가에서 열리는 스포츠 경기를 실시간으로 볼 수 있어요.
- ② 전자 상거래 활성화로 국제 교역량이 감소했어요.
- ③ 가까운 이웃 나라로의 당일 출장이 가능해졌어요.
- ④ 항공 교통의 발달로 세계 도시의 영향력이 약화됐어요.

- ① 갑, 을   ② 갑, 병   ③ 을, 병   ④ 을, 정   ⑤ 병, 정

13. (가)에 들어갈 내용으로 가장 적절한 것은? [3점]

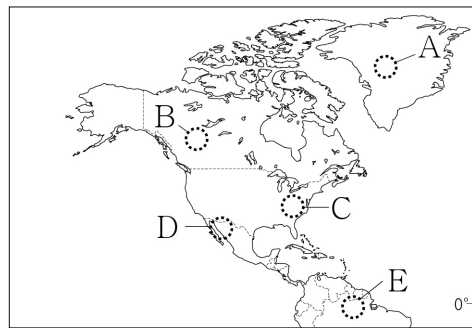
내가 사는 곳은 여름철에는 고온 건조하고 겨울철에는 온난 습윤해요. 그래서 **(가)**

우리 지역은 여름철에는 고온 다습하여 평야에서 벼농사를 지어요.

- ① 여름철에 경사진 밭에서 포도를 재배해요.
- ② 여름철에 플랜테이션 농장에서 커피를 수확해요.
- ③ 겨울철에 눈이 쌓인 벌판에서 순록을 유목해요.
- ④ 겨울철에 이동식 화전 농업으로 카사바를 재배해요.
- ⑤ 일 년 내내 사과리 방문객에게 여행 가이드를 해요.

14. 다음 자료와 관계 깊은 지역을 지도의 A~E에서 고른 것은?

챙이 있는 모자를 뜻하는 '솜브레로'는 그늘을 뜻하는 에스파냐어 '솜브라'에서 파생한 이름이다. 에스파냐에서 전래된 모자는 원래 챙이 짧았다. 하지만 햇살이 강하고 나무도 찾아보기 힘든 척박한 땅에 사는 이 지역 주민들이 얼굴에 그늘을 만들기 위해 챙이 넓은 모양으로 변형한 것이다.



- ① A
- ② B
- ③ C
- ④ D
- ⑤ E

15. (가), (나) 환경 문제에 대한 설명으로 옳지 않은 것은? (단, (가), (나)는 각각 열대림 파괴, 지구 온난화 중 하나임.)

- **(가)** 로 인해 히말라야산맥의 눈과 빙하가 크게 줄어들면서 인근 지역에 큰 문제가 발생했다. 일부 관광지에서는 식수 부족으로 외지인 방문을 꺼리게 되었고, 다른 농촌에서는 수자원 부족으로 작물 재배가 어려워졌다.
- 브라질에서는 경지 개간을 위한 불법 벌목과 방화로 인해 **(나)** 가 지속적으로 발생하고 있다. 최근 발생한 산불로 서울의 15배가 넘는 삼림이 잿더미로 변하였다. 국제 사회에서는 이를 방지하기 위한 다양한 활동을 펼치고 있다.

- ① (가)를 완화하기 위해 파리 협정이 체결되었다.
- ② (가)가 지속되면 해안 저지대의 침수 피해가 증가한다.
- ③ (나)로 인해 생물 종의 다양성이 증가된다.
- ④ (나)는 고위도보다 저위도 지역에서 주로 발생한다.
- ⑤ (나)로 인해 (가)가 심해질 우려가 있다.

16. (가), (나)에 대한 설명으로 옳지 않은 것은? (단, (가), (나)는 각각 석유, 석탄 중 하나임.) [3점]

- 사탕수수와 쌀이 주요 생산물인 가이아나에  (가) 생산의 행운이 찾아왔다. 가이아나는 인근 바다에서 이 자원을 채굴하는데, 국민 1인당 매장량은 주요 생산국인 사우디아라비아보다 많은 것으로 알려져 있다.
- 중국 산둥성에 위치한  (나) 광산이 붕괴되어 다수의 사상자가 발생하였다. 이 자원의 세계 최대 생산국인 중국에서는 광산 매몰 사고가 종종 발생하고 있다.

- ① (가)는 자동차 및 항공기의 주요 연료로 이용된다.
- ② (나)는 산업 혁명 당시 주요 에너지원이었다.
- ③ (가)는 (나)보다 국제 이동량이 많다.
- ④ (나)는 (가)보다 전 세계적으로 많이 소비된다.
- ⑤ (가), (나)는 모두 화석 에너지로 고갈의 우려가 있다.

17. 표에 대한 옳은 분석만을 <보기>에서 고른 것은?

<오스트레일리아의 주요 수출 상대국>

2001년			2018년		
국가	수출액 (억 달러)	비율 (%)	국가	수출액 (억 달러)	비율 (%)
일본	123	19.4	중국	740	29.2
미국	62	9.8	일본	262	10.3
대한민국	49	7.8	대한민국	136	5.4
중국	39	6.2	인도	101	4.0
뉴질랜드	37	5.9	미국	92	3.6

\* 수출액이 많은 상위 5개국만 나타냄.

- < 보 기 >
- ㄱ. 미국으로의 수출액은 2001년이 2018년보다 많다.
  - ㄴ. 수출액 상위 5개국이 차지하는 비율은 2001년이 2018년보다 높다.
  - ㄷ. 2001~2018년 인도로의 수출액은 2배 이상 증가하였다.
  - ㄹ. 2001~2018년 수출액 증가 폭은 중국이 일본보다 크다.

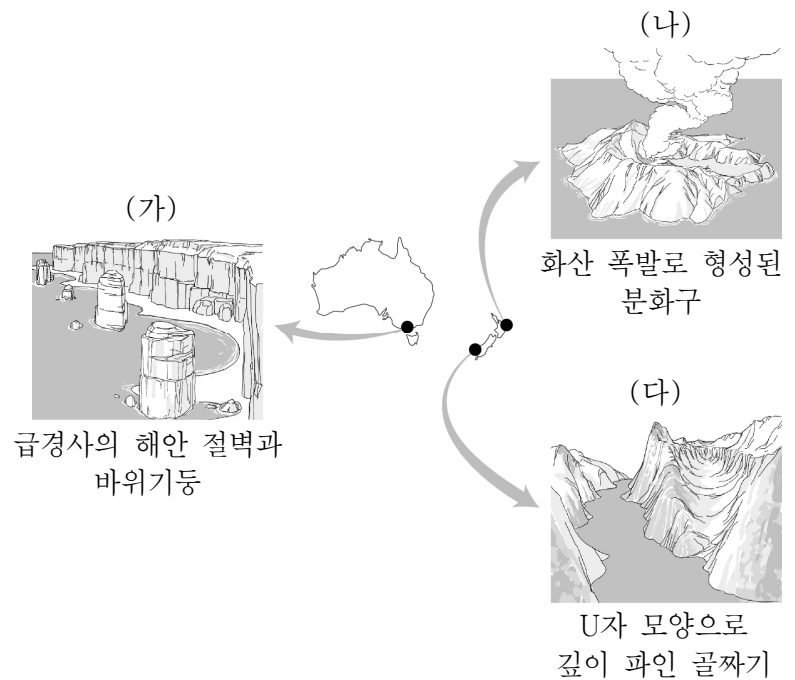
- ① ㄱ, ㄴ    ② ㄱ, ㄷ    ③ ㄴ, ㄷ    ④ ㄴ, ㄹ    ⑤ ㄷ, ㄹ

18. (가)~(다)에 들어갈 내용으로 가장 적절한 것은?

다국적 기업은 본부, 연구 개발, 제품 및 부품 생산 등의 기능과 시설을 여러 국가에 분산하여 입지시킨다. 특히 세계적인 다국적 기업의 경우, 본사는 주로  (가)에 입지하고, 연구 개발 시설의 주요 기능은  (나)이며, 생산 공장은  (다)이 풍부한 지역에 입지한다.

- | (가)           | (나)       | (다)      |
|---------------|-----------|----------|
| ① 선진국의 대도시    | 신제품 개발    | 저임금 인력   |
| ② 선진국의 대도시    | 경영 전략 구상  | 전문 경영인   |
| ③ 선진국의 지방 도시  | 신제품 개발    | 전문 경영인   |
| ④ 개발 도상국의 대도시 | 경영 전략 구상  | 고급 기술 인력 |
| ⑤ 개발 도상국의 대도시 | 제품의 대량 생산 | 저임금 인력   |

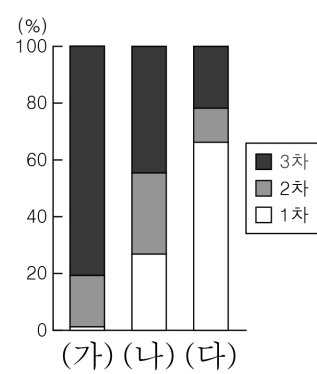
19. (가)~(다)에 대한 설명으로 옳지 않은 것은? [3점]



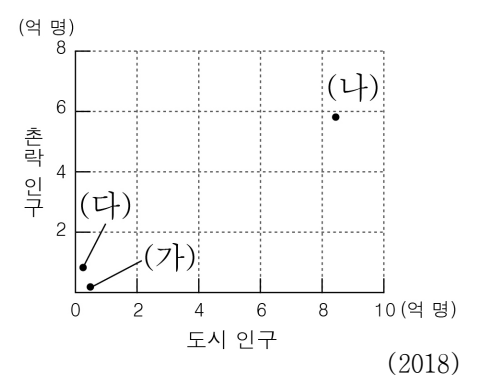
- ① (가)는 주로 파도의 침식 작용으로 형성되었다.
- ② (나)는 지하의 마그마가 분출하여 형성되었다.
- ③ (다)는 주로 빙하의 침식 작용으로 형성되었다.
- ④ 온천 개발은 (나)보다 (가) 주변이 유리하다.
- ⑤ (가), (나), (다)는 모두 관광 자원으로 활용 가능하다.

20. (가)~(다) 국가에 대한 옳은 설명만을 <보기>에서 고른 것은? (단, (가)~(다)는 각각 에티오피아, 영국, 중국 중 하나임.) [3점]

<산업별 종사자 수 비율>



<도시 및 촌락 인구>



- < 보 기 >
- ㄱ. (다)는 1차 산업보다 2차 산업 종사자 수가 많다.
  - ㄴ. (나)는 (가)보다 산업화에 진입한 시기가 이른다.
  - ㄷ. (나)는 (다)보다 도시화율이 높다.
  - ㄹ. (가)는 유럽, (나)는 아시아에 위치한다.

- ① ㄱ, ㄴ    ② ㄱ, ㄷ    ③ ㄴ, ㄷ    ④ ㄴ, ㄹ    ⑤ ㄷ, ㄹ

\* 확인 사항

○ 답안지의 해당란에 필요한 내용을 정확히 기입(표기)했는지 확인하십시오.

고2 서울특별시교육청 주관 2020학년도 3월 고2 전국연합학력평가 답안지

4 교시 한국사/탐구영역 (사회/과학)

학교	고등학교
성명	

\* 문제지 표지에 안내된 필적 확인 문구를 아래 '필적 확인란'에 정자로 반드시 기재하여야 합니다.

필적 확인란	
-----------	--

수험번호									
학교번호				학년	반	번호			
				2					
0	0	0	0	0	0	0	0	0	0
1	1	1	1	1	1	1	1	1	1
2	2	2	2	2	2	2	2	2	2
3	3	3	3	3	3	3	3	3	3
4	4	4	4	4	4	4	4	4	4
5	5	5	5	5	5	5	5	5	5
6	6	6	6	6	6	6	6	6	6
7	7	7	7	7	7	7	7	7	7
8	8	8	8	8	8	8	8	8	8
9	9	9	9	9	9	9	9	9	9

성명									
(빈칸없이 왼쪽부터 기재)									
ㄱ	가	ㄴ	나	ㄷ	다	ㄹ	라	ㅁ	마
ㄴ	나	ㄷ	다	ㄹ	라	ㅁ	마	ㅂ	바
ㄷ	다	ㄹ	라	ㅁ	마	ㅂ	바	ㅅ	사
ㄹ	라	ㅁ	마	ㅂ	바	ㅅ	사	ㅇ	오
ㅁ	마	ㅂ	바	ㅅ	사	ㅇ	오	ㅈ	자
ㅂ	바	ㅅ	사	ㅇ	오	ㅈ	자	ㅊ	차
ㅅ	사	ㅇ	오	ㅈ	자	ㅊ	차	ㅋ	카
ㅇ	오	ㅈ	자	ㅊ	차	ㅋ	카	ㆁ	아
ㅈ	자	ㅊ	차	ㅋ	카	ㆁ	아	ㆂ	야
ㅊ	차	ㅋ	카	ㆁ	아	ㆂ	야	ㆃ	야
ㅋ	카	ㆁ	아	ㆂ	야	ㆃ	야	ㆄ	야
ㆁ	아	ㆂ	야	ㆃ	야	ㆄ	야	ㆅ	야
ㆂ	야	ㆃ	야	ㆄ	야	ㆅ	야	ㆆ	야
ㆃ	야	ㆄ	야	ㆅ	야	ㆆ	야	ㆇ	야
ㆄ	야	ㆅ	야	ㆆ	야	ㆇ	야	ㆈ	야
ㆅ	야	ㆆ	야	ㆇ	야	ㆈ	야	ㆉ	야
ㆆ	야	ㆇ	야	ㆈ	야	ㆉ	야	ㆊ	야
ㆇ	야	ㆈ	야	ㆉ	야	ㆊ	야	ㆋ	야
ㆈ	야	ㆉ	야	ㆊ	야	ㆋ	야	ㆌ	야
ㆉ	야	ㆊ	야	ㆋ	야	ㆌ	야	ㆍ	야
ㆊ	야	ㆋ	야	ㆌ	야	ㆍ	야	ㆎ	야
ㆋ	야	ㆌ	야	ㆍ	야	ㆎ	야	㆏	야
ㆌ	야	ㆍ	야	ㆎ	야	㆏	야	㆐	야
ㆍ	야	ㆎ	야	㆏	야	㆐	야	㆑	야
ㆎ	야	㆏	야	㆐	야	㆑	야	㆒	야
㆏	야	㆐	야	㆑	야	㆒	야	㆓	야
㆐	야	㆑	야	㆒	야	㆓	야	㆔	야
㆑	야	㆒	야	㆓	야	㆔	야	㆕	야
㆒	야	㆓	야	㆔	야	㆕	야	㆖	야
㆓	야	㆔	야	㆕	야	㆖	야	㆗	야
㆔	야	㆕	야	㆖	야	㆗	야	㆘	야
㆕	야	㆖	야	㆗	야	㆘	야	㆙	야
㆖	야	㆗	야	㆘	야	㆙	야	㆚	야
㆗	야	㆘	야	㆙	야	㆚	야	㆛	야
㆘	야	㆙	야	㆚	야	㆛	야	㆜	야
㆙	야	㆚	야	㆛	야	㆜	야	㆝	야
㆚	야	㆛	야	㆜	야	㆝	야	㆞	야
㆛	야	㆜	야	㆝	야	㆞	야	㆟	야
㆜	야	㆝	야	㆞	야	㆟	야	ㆠ	야
㆝	야	㆞	야	㆟	야	ㆠ	야	ㆡ	야
㆞	야	㆟	야	ㆠ	야	ㆡ	야	ㆢ	야
㆟	야	ㆠ	야	ㆡ	야	ㆢ	야	ㆣ	야
ㆠ	야	ㆡ	야	ㆢ	야	ㆣ	야	ㆤ	야
ㆡ	야	ㆢ	야	ㆣ	야	ㆤ	야	ㆥ	야
ㆢ	야	ㆣ	야	ㆤ	야	ㆥ	야	ㆦ	야
ㆣ	야	ㆤ	야	ㆥ	야	ㆦ	야	ㆧ	야
ㆤ	야	ㆥ	야	ㆦ	야	ㆧ	야	ㆨ	야
ㆥ	야	ㆦ	야	ㆧ	야	ㆨ	야	ㆩ	야
ㆦ	야	ㆧ	야	ㆨ	야	ㆩ	야	ㆪ	야
ㆧ	야	ㆨ	야	ㆩ	야	ㆪ	야	ㆫ	야
ㆨ	야	ㆩ	야	ㆪ	야	ㆫ	야	ㆬ	야
ㆩ	야	ㆪ	야	ㆫ	야	ㆬ	야	ㆭ	야
ㆪ	야	ㆫ	야	ㆬ	야	ㆭ	야	ㆮ	야
ㆫ	야	ㆬ	야	ㆭ	야	ㆮ	야	ㆯ	야
ㆬ	야	ㆭ	야	ㆮ	야	ㆯ	야	ㆰ	야
ㆭ	야	ㆮ	야	ㆯ	야	ㆰ	야	ㆱ	야
ㆮ	야	ㆯ	야	ㆰ	야	ㆱ	야	ㆲ	야
ㆯ	야	ㆰ	야	ㆱ	야	ㆲ	야	ㆳ	야
ㆰ	야	ㆱ	야	ㆲ	야	ㆳ	야	ㆴ	야
ㆱ	야	ㆲ	야	ㆳ	야	ㆴ	야	ㆵ	야
ㆲ	야	ㆳ	야	ㆴ	야	ㆵ	야	ㆶ	야
ㆳ	야	ㆴ	야	ㆵ	야	ㆶ	야	ㆷ	야
ㆴ	야	ㆵ	야	ㆶ	야	ㆷ	야	ㆸ	야
ㆵ	야	ㆶ	야	ㆷ	야	ㆸ	야	ㆹ	야
ㆶ	야	ㆷ	야	ㆸ	야	ㆹ	야	ㆺ	야
ㆷ	야	ㆸ	야	ㆹ	야	ㆺ	야	ㆻ	야
ㆸ	야	ㆹ	야	ㆺ	야	ㆻ	야	ㆼ	야
ㆹ	야	ㆺ	야	ㆻ	야	ㆼ	야	ㆽ	야
ㆺ	야	ㆻ	야	ㆼ	야	ㆽ	야	ㆾ	야
ㆻ	야	ㆼ	야	ㆽ	야	ㆿ	야	ㆿ	야
ㆼ	야	ㆽ	야	ㆿ	야		야		야
ㆽ	야	ㆿ	야		야		야		야
ㆿ	야		야		야		야		야

\* 답안지 작성(표기)은 반드시 검은색 컴퓨터용 사인펜만을 사용하고, 연필 또는 샤프 등의 필기구를 절대 사용하지 마십시오.  
\* 뒷면의 수험생 준수사항을 숙지하여야 하며 이를 준수하지 않을 경우 불이익을 받을 수 있습니다.

한국사	
문번	답란
1	① ② ③ ④ ⑤
2	① ② ③ ④ ⑤
3	① ② ③ ④ ⑤
4	① ② ③ ④ ⑤
5	① ② ③ ④ ⑤
6	① ② ③ ④ ⑤
7	① ② ③ ④ ⑤
8	① ② ③ ④ ⑤
9	① ② ③ ④ ⑤
10	① ② ③ ④ ⑤
11	① ② ③ ④ ⑤
12	① ② ③ ④ ⑤
13	① ② ③ ④ ⑤
14	① ② ③ ④ ⑤
15	① ② ③ ④ ⑤
16	① ② ③ ④ ⑤
17	① ② ③ ④ ⑤
18	① ② ③ ④ ⑤
19	① ② ③ ④ ⑤
20	① ② ③ ④ ⑤

제 1 선택	
문번	답란
1	① ② ③ ④ ⑤
2	① ② ③ ④ ⑤
3	① ② ③ ④ ⑤
4	① ② ③ ④ ⑤
5	① ② ③ ④ ⑤
6	① ② ③ ④ ⑤
7	① ② ③ ④ ⑤
8	① ② ③ ④ ⑤
9	① ② ③ ④ ⑤
10	① ② ③ ④ ⑤
11	① ② ③ ④ ⑤
12	① ② ③ ④ ⑤
13	① ② ③ ④ ⑤
14	① ② ③ ④ ⑤
15	① ② ③ ④ ⑤
16	① ② ③ ④ ⑤
17	① ② ③ ④ ⑤
18	① ② ③ ④ ⑤
19	① ② ③ ④ ⑤
20	① ② ③ ④ ⑤

제 2 선택	
문번	답란
1	① ② ③ ④ ⑤
2	① ② ③ ④ ⑤
3	① ② ③ ④ ⑤
4	① ② ③ ④ ⑤
5	① ② ③ ④ ⑤
6	① ② ③ ④ ⑤
7	① ② ③ ④ ⑤
8	① ② ③ ④ ⑤
9	① ② ③ ④ ⑤
10	① ② ③ ④ ⑤
11	① ② ③ ④ ⑤
12	① ② ③ ④ ⑤
13	① ② ③ ④ ⑤
14	① ② ③ ④ ⑤
15	① ② ③ ④ ⑤
16	① ② ③ ④ ⑤
17	① ② ③ ④ ⑤
18	① ② ③ ④ ⑤
19	① ② ③ ④ ⑤
20	① ② ③ ④ ⑤

감독관 화인	(서명 또는 날인)	반, 번호 및 선택과목 번호 등의 표기가 정확 한지 반드시 확인 후 서명 또는 날인
-----------	------------	---

사회탐구	생활과 윤리(11), 윤리와 사상(12), 한국지리(13), 세계지리(14), 동아시아사(15), 세계사(16), 정치와 법(17), 경제(18), 사회·문화(19)
과학탐구	물리학 I (20), 화학 I (21), 생명과학 I (22), 지구과학 I (23)