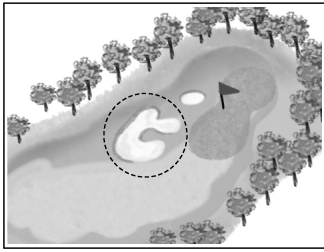



14. 다음 설명에 해당하는 골프 코스의 구역은?



- 모래로 특별하게 조성된 구역이다.
- 주로 풀이나 흙이 제거된 채 움푹 꺼진 지형으로 된 구역이다.

- ① 그린 ② 러프 ③ 벙커 ④ 해저드


15. 다음 설명에 해당하는 핸드볼 패스는?



- 팔을 펴면서 손목 스냅으로 던진다.
- 가까이 있는 동료에게 공을 옆으로 밀어 패스한다.

- ① 숄더 패스 ② 래터럴 패스
③ 바운드 패스 ④ 오버헤드 패스

16. 다음 설명에 해당하는 체조 종류는?



- 여러 사람이 모듬을 이루어 다양한 모양을 만드는 체조이다.
- 건물, 꽃, 기구 등을 형상화하여 표현한다.

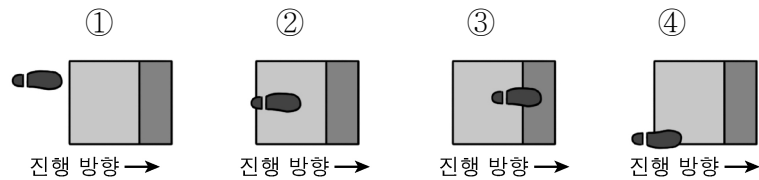
- ① 평행봉 ② 기계체조 ③ 리듬체조 ④ 꾸미기체조

17. 다음 설명의 빈칸에 들어갈 알맞은 말을 차례대로 나열한 것은?

○ 개인 혼영은 () → () → () → 자유형 순으로 실시된다.

- ① 배영 → 접영 → 평영 ② 접영 → 배영 → 평영
③ 접영 → 평영 → 배영 ④ 평영 → 배영 → 접영

18. 다음 중 멀리뛰기 경기의 발구르기에서 무효에 해당하는 것은?




진행 방향 → 진행 방향 → 진행 방향 → 진행 방향 →

19. 다음 중 육상 단거리 달리기 경기에 대한 설명으로 옳은 것은?

- ① 오픈 코스로 달린다.
② 스탠딩 스타트로 출발한다.
③ 다른 선수의 진로를 방해할 수 있다.
④ 경기 종목에는 100 m, 200 m, 400 m가 있다.

20. 다음 설명에 해당하는 줄넘기 방법은?



- 개인 줄넘기이다.
- 발을 번갈아 가면서 뒤에서 앞으로 차며 넘는다.


- ① 되돌리기 ② 이단 뛰기
③ 양발 모아 뛰기 ④ 앞 흔들어 뛰기

21. 다음 중 눈 위에서 하는 동계 스포츠 종목은?



피겨 스케이팅 봅슬레이 스키 스피드 스케이팅

22. 다음 설명에 해당하는 요가 자세는?



- 바닥에 엎드린 후 다리를 구부려 양손으로 발목을 잡는다.
- 상체와 다리를 동시에 들어 올려 활처럼 만든다.

- ① 뱀 자세 ② 활 자세
③ 고양이 자세 ④ 메뚜기 자세

23. 다음 설명에 해당하는 것은?



- 유도 of 굳히기 방법 중 하나이다.
- 상대방을 눌러서 제압하는 기술이다.

- ① 누르기 ② 되치기 ③ 메치기 ④ 다리잡기

24. 그림과 같은 장비를 착용하는 경기 종목은?



- ① 우슈 ② 유도
③ 씨름 ④ 태권도

25. 다음 설명에 해당하는 댄스 스포츠는?



- 브라질 흑인 노예들이 만든 춤이다.
- 허리와 어깨를 많이 사용하는 강렬하고 생동감이 넘치는 춤이다.

- ① 발레 ② 삼바 ③ 왈츠 ④ 탭 댄스