

제 4 교시

사회탐구 영역(세계지리)

성명 수험 번호 - 제 () 선택

1. (가), (나) 지도에 대한 설명으로 옳은 것만을 <보기>에서 고른 것은? (단, (가), (나)는 각각 대명혼일도, 지구전후도 중 하나임.) [3점]



<보 기>
 가. (가)에는 중국 중심의 세계관이 표현되어 있다.
 나. (나)는 우리나라에서 제작되었다.
 다. (가)는 (나)보다 제작 시기가 늦다.
 리. (가)와 (나)에는 모두 아프리카 대륙이 표현되어 있다.

- ① 가, 나 ② 가, 다 ③ 나, 다 ④ 나, 리 ⑤ 다, 리

2. 다음 글의 ㉠~㉣에 대한 설명으로 옳은 것만을 <보기>에서 있는 대로 고른 것은?

아프리카에서는 상품 작물을 재배하는 ㉠ 플랜테이션이 운영되고 있다. 대표적인 상품 작물로는 코트디부아르와 가나의 ㉡ 카카오, 케냐의 ㉢ 차(茶), 에티오피아의 커피 등이 있다.

<보 기>
 가. ㉠은 주로 대규모 자본과 값싼 노동력으로 운영된다.
 나. ㉡의 주요 수출국은 북부 아프리카에 위치한다.
 다. ㉢의 최대 생산 대륙은 아시아이다.

- ① 가 ② 나 ③ 가, 다
 ④ 나, 다 ⑤ 가, 나, 다

3. (가), (나) 도시에 대한 설명으로 옳은 것은?

구분	(가)	(나)
경·위도	73°56'W, 40°44'N	151°13'E, 33°52'S
도시 상징물	 ○○○ 여신상은 오른손으로 햇불을 치켜들고 왼손에는 자유의 선언을 상징하는 책을 들고 있다.	 ◇◇◇ 하우스는 바람에 부푼 여러 돛을 연상시키는 건축물로 극장과 음악당을 갖추고 있다.

- ① (가)에서 가장 많이 사용되는 언어는 독일어이다.
 ② (나)에는 국제 연합(UN)의 본부가 있다.
 ③ (가)는 (나)보다 세계 도시 체계에서 계층이 높다.
 ④ (나)는 (가)보다 2024년이 늦게 시작된다.
 ⑤ (가)와 (나)는 모두 해당 국가의 수도이다.

4. 다음 자료를 고려하여 가족 보건 센터 건립을 지원하고자 한다. 조건에 적합한 국가만을 지도의 A~E에서 고른 것은?

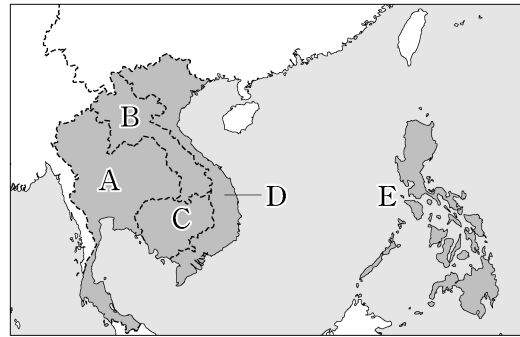
<조건> 항목별 배점 기준은 다음과 같으며, 합계 점수가 높은 상위 2개 국가만을 선정함.

<배점 기준>

구분	1인당 국내 총생산(달러)	합계 출산율(명)	영아 사망률(‰)
1점	2,000 이상	1.5 미만	20 미만
2점	1,500~2,000 미만	1.5~2.1 미만	20~30 미만
3점	1,500 미만	2.1 이상	30 이상

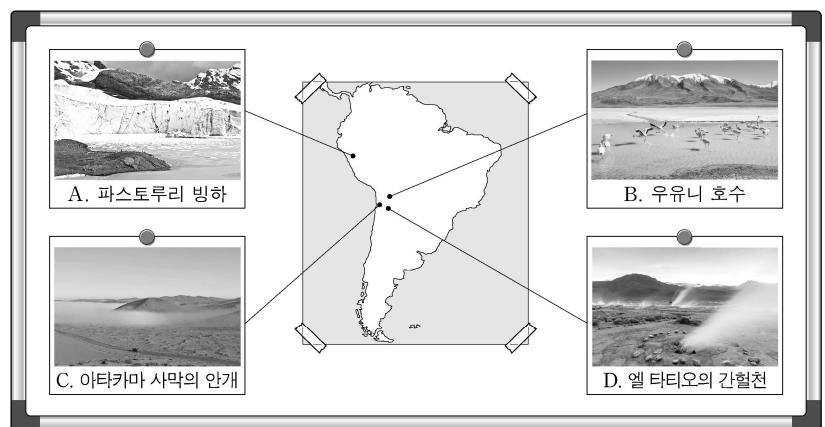
<국가 정보>

구분	1인당 국내 총생산(달러)	합계 출산율(명)	영아 사망률(‰)
라오스	2,496	2.5	34.4
베트남	3,753	1.9	16.3
캄보디아	1,680	2.3	20.8
타이	7,227	1.3	7.1
필리핀	3,576	2.8	21.5



- ① A, B ② A, E ③ B, C ④ C, D ⑤ D, E

5. 다음 자료는 남부 아메리카 여행 중 촬영한 사진들이다. A~D에 대한 설명으로 옳은 것만을 <보기>에서 고른 것은?



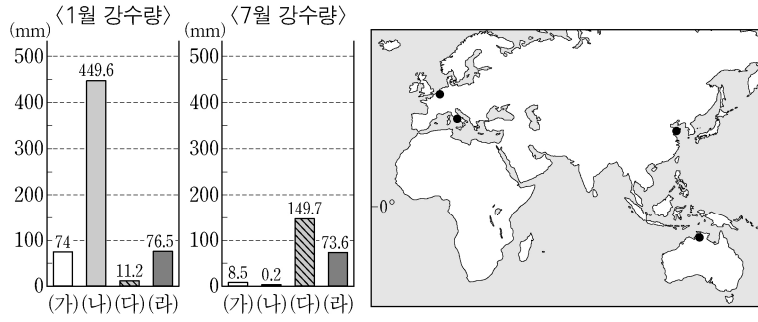
<보 기>
 가. A의 분포 고도 하한선은 현재보다 빙기에 더 높았다.
 나. B는 지하수의 지표 유출로 인해 형성된 오아시스이다.
 다. C는 한류의 영향으로 자주 발생한다.
 리. D는 신기 습곡 산지의 화산대에 위치한다.

- ① 가, 나 ② 가, 다 ③ 나, 다 ④ 나, 리 ⑤ 다, 리

2 (세계지리)

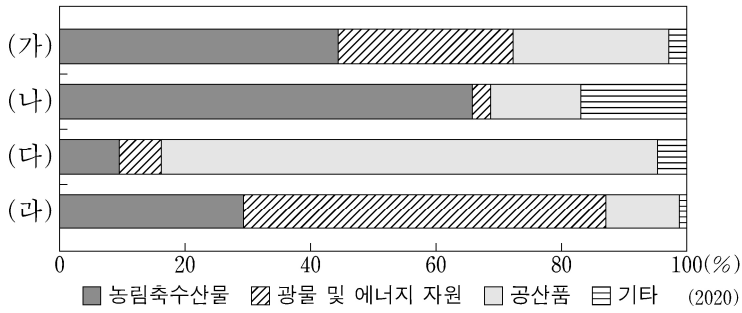
사회탐구 영역

6. 그래프는 지도에 표시된 네 지역의 1월과 7월 강수량을 나타낸 것이다. (가)~(라) 지역에 대한 설명으로 옳은 것은? [3점]



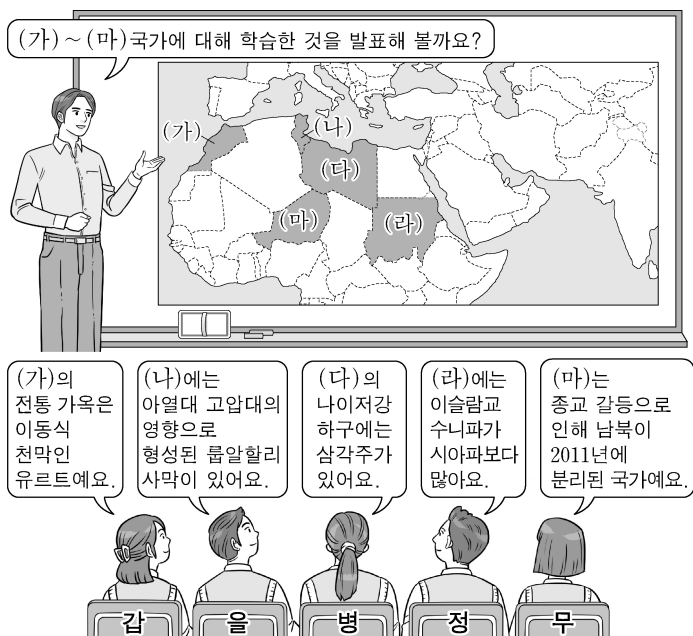
- ① (가)는 (다)보다 동계 강수 집중률이 낮다.
- ② (가)는 (라)보다 북회귀선에서 멀다.
- ③ (나)는 (다)보다 연평균 기온이 낮다.
- ④ (다)는 (라)보다 최한월 평균 기온이 높다.
- ⑤ (라)는 (나)보다 1월의 낮 길이가 짧다.

7. 그래프는 중·남부 아메리카 네 국가의 품목별 수출액 비율을 나타낸 것이다. (가)~(라) 국가에 대한 설명으로 옳지 않은 것은? (단, (가)~(라)는 각각 멕시코, 브라질, 아르헨티나, 칠레 중 하나임.)



- ① (가)는 (라)보다 철광석 생산량이 많다.
- ② (나)는 (라)보다 국토 면적이 넓다.
- ③ (가)는 남·북반구에 걸쳐 있고, (다)는 북반구에 위치한다.
- ④ (나)와 (다)는 모두 중주 도시화 현상이 나타난다.
- ⑤ (가)와 (나)는 모두 (라)와 국경을 접하고 있다.

8. 다음 자료는 세계지리 학습 장면의 일부이다. 교사의 질문에 옳게 답한 학생은? [3점]



- ① 갑
- ② 을
- ③ 병
- ④ 정
- ⑤ 무

9. 다음 자료는 세계의 지역 분쟁과 관련된 기사의 일부이다. A, B 국가에 대한 설명으로 옳은 것만을 <보기>에서 있는 대로 고른 것은?

△△ 신문 2023년 ○○월 ○○일

A, 카슈미르서 G20 사전 행사

2023년 주요 20개국(G20) 정상 회의 의장국인 **A**이/가 파키스탄과 영토 분쟁을 겪고 있는 카슈미르 지역에서 G20 사전 행사를 개최하자 중국이 행사 참석을 거부하고 나섰다.

□□ 일보 2023년 ○○월 ○○일

로힝야족 대표단, 처음으로 **B** 방문 예정

B의 소수 민족 로힝야족이 탄압을 피해 인접국으로 건너가 머물고 있다. 로힝야족 대표단이 이번 주말 **B**을/를 방문하기로 해 관심을 끌고 있다.

<보 기>

ㄱ. B는 타이보다 쌀 수출량이 적다.
 ㄴ. B는 동남아시아 국가 연합(ASEAN) 회원국이 아니다.
 ㄷ. A는 B와 국경을 접하고 있다.

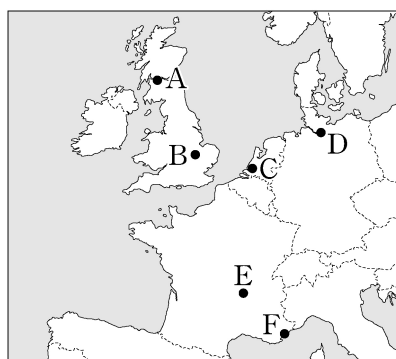
- ① ㄱ
- ② ㄷ
- ③ ㄱ, ㄴ
- ④ ㄱ, ㄷ
- ⑤ ㄴ, ㄷ

10. 다음 글의 (가)~(다)에 해당하는 지역을 지도의 A~F에서 고른 것은? [3점]

○ (가) 은/는 주변 산지의 석탄, 철광석을 바탕으로 조선, 제철업 등이 크게 발달했으나 중공업의 쇠퇴로 위기를 겪은 이후, 에든버러와 함께 실리콘 글렌의 중심지가 되었다.

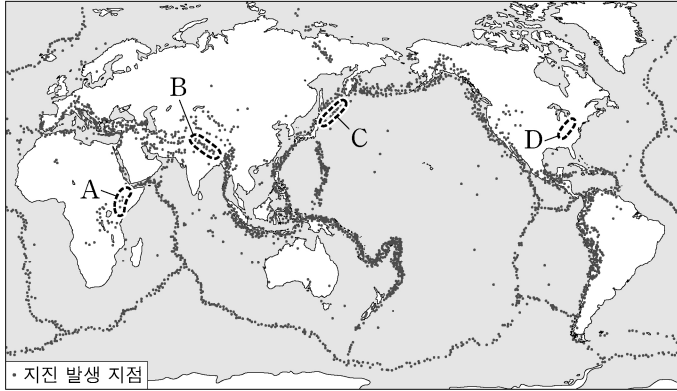
○ (나) 은/는 라인강 하구에 있는 대규모 항구 도시로 원유를 정제한 각종 유류와 석유 화학 제품을 수출하기에 유리한 여건을 갖춘 석유 화학 클러스터를 조성하였다.

○ (다) 은/는 칸, 니스 등 세계적 휴양 도시 인근에 있으며, 약 50년 전부터 개발되기 시작해 현재 정보 통신 산업, 생명 과학 산업 등이 집중된 첨단 산업 지역으로 변모하였다.



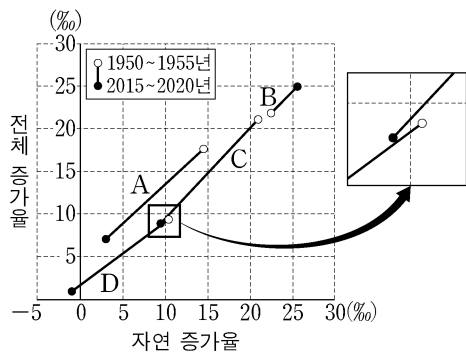
- | | (가) | (나) | (다) |
|---|-----|-----|-----|
| ① | A | C | F |
| ② | A | D | E |
| ③ | B | C | E |
| ④ | B | C | F |
| ⑤ | B | D | F |

11. 지도는 세계의 지진 발생 지점을 나타낸 것이다. 이에 대한 설명으로 옳지 않은 것은? [3점]



- ① 지진 발생 지점은 판의 경계와 대체로 일치한다.
- ② A에는 대륙 내부에서 판이 갈라지며 형성된 지구대가 있다.
- ③ B에서는 두 판이 충돌하여 마그마의 분출이 빈번하다.
- ④ C에는 해양판과 대륙판이 만나는 수렴 경계가 있다.
- ⑤ D에는 고생대 조산 운동으로 형성된 산지가 분포한다.

12. 그래프는 네 지역(대륙)의 인구 증가율을 나타낸 것이다. 이에 대한 설명으로 옳지 않은 것은? (단, A~D는 각각 아시아, 아프리카, 유럽, 북부 아메리카 중 하나임.) [3점]



- ① A는 2015~2020년 출생자 수가 사망자 수보다 많다.
- ② B의 전체 증가율이 커진 것은 자연적 증감이 주 원인이다.
- ③ D는 2015~2020년에 유출 인구가 유입 인구보다 많다.
- ④ C는 A보다 총인구가 많다.
- ⑤ 2015~2020년 중위 연령은 D>A>C>B 순으로 높다.

13. 다음 자료는 환경 관련 뉴스의 일부이다. ㉠, ㉡과 관련된 국제 환경 협약/협정으로 옳은 것은?

○ 다국적 기업인 A사는 재생 에너지로만 부품을 제조할 것을 납품 업체에 요구하고 있습니다. 이는 영국의 한 NGO 단체가 만든 RE100 클럽에 A사가 가입하면서 나타난 현상인데, ㉠ 온실가스를 감축하려는 국제 사회의 노력에 세계적인 기업들이 동참해 가는 모습입니다. □□ 뉴스 ○○○ 기자

○ B 정부는 지난해 하반기부터 자국으로 수입된 폐기물을 수출국으로 돌려보내고 있습니다. 더 이상 세계의 쓰레기통 역할을 하지 않겠다는 것입니다. B 정부는 ㉡ 폐플라스틱을 비롯한 유해 폐기물의 국가 간 이동을 규제하고 있음에도 불구하고 선진국들이 이를 어기고 있다며 반발하고 있습니다. ◇◇ 뉴스 △△△ 기자

- ㉠ ㉡
- ① 파리 협정 바젤 협약
- ② 파리 협정 람사르 협약
- ③ 람사르 협약 파리 협정
- ④ 람사르 협약 제네바 협약
- ⑤ 제네바 협약 바젤 협약

14. 다음 글은 세 국가의 1차 에너지 자원에 대한 설명이다. (가)~(라)에 대한 설명으로 옳은 것은? [3점]

○ 아랍 에미리트는 풍부하게 매장된 (가)의 수출을 통해 막대한 자본을 축적하고, 이를 관광 및 금융 산업에 투자하고 있다. (가)은/는 천연가스와 함께 신생대 제3기층 배사 구조에 매장되어 있는 경우가 많다.

○ 중국은 (나)의 세계 최대 생산국으로 전 세계 생산량의 절반 정도를 차지한다. 그러나 최근 경제가 발전하면서 국내 수요를 감당하지 못해 많은 양을 수입하고 있다.

○ ‘얼음과 불의 땅’으로 불리는 아이슬란드는 신·재생 에너지 생산에 천혜의 자연환경을 갖추고 있다. 섬의 곳곳에 나타나는 화산 활동은 (다) 발전에, 빙하와 용빙수는 (라) 발전에 유리한 환경을 제공한다.

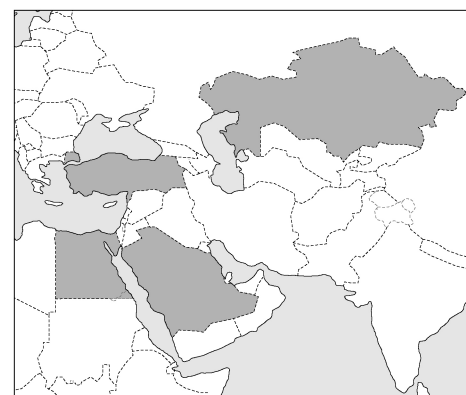
- ① (가)는 냉동 액화 기술의 발달로 소비량이 급증하였다.
- ② (나)는 전체 사용량 중 산업용보다 수송용으로 사용되는 비중이 높다.
- ③ (다) 발전은 스위스의 신·재생 에너지 발전량 중 가장 높은 비율을 차지한다.
- ④ (라) 발전은 노르웨이의 전체 발전량 중 가장 높은 비율을 차지한다.
- ⑤ 전 세계에서 (다) 발전량은 뉴질랜드, (라) 발전량은 러시아가 가장 많다.

15. 표는 지도에 표시된 네 국가의 지리 정보를 나타낸 것이다. (가)~(라) 국가에 대한 설명으로 옳지 않은 것은?

구분	인구 밀도(명/km ²)	1차 산업 비율(%)	국내 총생산(억 달러)
(가)	109.3	7.5	7,201
(나)	7.0	5.8	1,711
(다)	108.0	12.1	3,693
(라)	16.7	2.6	7,001

* 1차 산업 비율은 국내 총생산 기준임.

(2020)

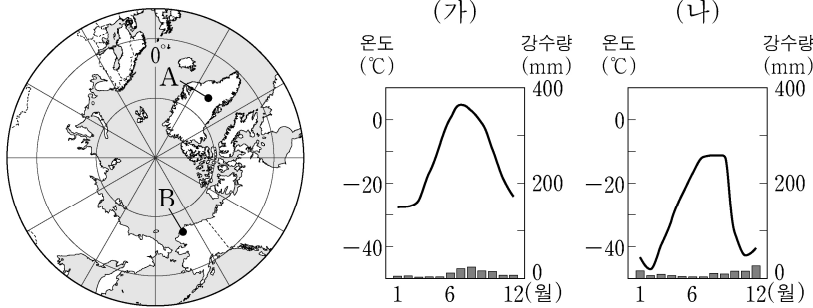


- ① (가)에는 자연 경관을 활용한 관광지인 파묵칼레가 있다.
- ② (나)는 광물 및 에너지 자원의 수입이 수출보다 많다.
- ③ (다)는 남부 지역이 북부 지역보다 인구가 희박하다.
- ④ (라)는 석유 수출국 기구(OPEC)의 회원국이다.
- ⑤ (다)는 (라)보다 총인구가 많다.

4 (세계지리)

사회탐구 영역

16. 그래프는 지도에 표시된 A, B 지역의 기후 특성을 나타낸 것이다. 이에 대한 설명으로 옳은 것만을 <보기>에서 고른 것은? (단, 기후는 쾨펜의 2차 구분을 기준으로 함.)



<보 기>
 가. A의 기후 그래프는 (가)이다.
 나. A의 기후에서는 여름에 작은 풀과 이끼류 등이 자란다.
 다. B의 기후에서는 A의 기후보다 활동층의 발달이 뚜렷하다.
 리. B가 속하는 기후의 분포 면적은 남반구보다 북반구에서 더 넓다.

- ① 가, 나 ② 가, 다 ③ 나, 다 ④ 나, 리 ⑤ 다, 리

17. 다음은 세계지리 온라인 수업 장면이다. 교사의 질문에 옳게 답한 학생만을 고른 것은? [3점]

교사: A-D 도시의 특성에 맞는 조사 주제로 적절한 것을 발표해 볼까요?

갑: A의 항공 산업 발전 과정을 조사하겠습니다.	
을: B에 있는 실리콘 밸리의 첨단 산업에 대해 조사하겠습니다.	
병: C가 속한 메갈로폴리스의 범위와 교통망을 조사하겠습니다.	
정: D에 있는 남부 최대의 석유 화학 단지를 조사하겠습니다.	

- ① 갑, 을 ② 갑, 병 ③ 을, 병
 ④ 을, 정 ⑤ 병, 정

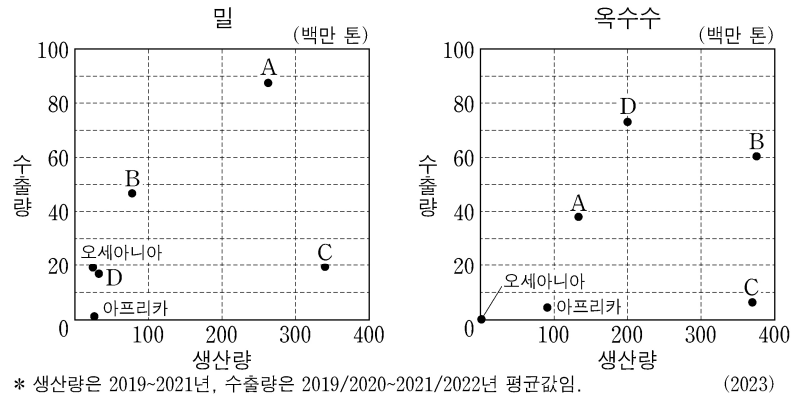
18. 다음은 필리핀 ○○ 국립 공원의 안내 자료이다. ㉠~㉤에 대한 설명으로 옳은 것만을 <보기>에서 고른 것은? [3점]

○○ 국립 공원은 넓은 석회암 지대의 지하를 흐르는 강이 바다로 이어지면서 극적인 카르스트 경관을 보여 줍니다. 전체 동굴 중 ㉠지하강의 길이는 8.2km에 달하고, 그중 바다로부터 수 km 구간은 배를 타고 ㉡석순, ㉢종유석 등 다양한 동굴 경관을 관찰할 수 있습니다. 또한 공원 지역은 ㉣석회암 풍화토, 담수 늪, 열대림, 맹그로브 등이 나타나 동·식물의 서식지로서 중요한 역할을 합니다.

<보 기>
 가. ㉠은 용식 작용에 의해 형성된 지하 공간에 물이 차서 흐르는 것이다.
 나. ㉡은 천장에 늘어선 고드름 모양의 지형이다.
 다. ㉢은 물에 용해된 탄산 칼슘이 조금씩 침전하며 형성된다.
 리. ㉣은 주로 검은색을 띠고 있다.

- ① 가, 나 ② 가, 다 ③ 나, 다 ④ 나, 리 ⑤ 다, 리

19. 그래프는 밀, 옥수수의 지역(대륙)별 생산량 및 수출량을 나타낸 것이다. 이에 대한 설명으로 옳지 않은 것은? (단, A~D는 각각 아시아, 유럽, 북부 아메리카, 중·남부 아메리카 중 하나임.)



- ① 밀의 기원지는 C에 위치한다.
 ② 옥수수 생산량은 아시아가 중·남부 아메리카보다 많다.
 ③ 밀과 옥수수 각각의 수출량은 모두 유럽이 아시아보다 많다.
 ④ 유럽의 밀의 생산량 대비 수출량 비율은 북부 아메리카의 밀의 생산량 대비 수출량 비율보다 높다.
 ⑤ 중·남부 아메리카는 밀의 생산량 대비 수출량 비율이 옥수수의 생산량 대비 수출량 비율보다 높다.

20. 다음 자료의 (가)~(다)에 해당하는 종교로 옳은 것은? [3점]

스리랑카의 국장으로 (가)의 창시자인 석가모니의 가르침을 국장	파키스탄의 국장으로 (나)를 상징하는 녹색의 초승달과 별을 국장의	포르투갈의 국장으로 (다)를 상징하는 십자형 배열의 방패를 중앙에 표현함. 국장의
윗부분에 수레바퀴 모양으로 표현함. 아래의 그릇에는 버 이삭이 들어 있음.	윗부분에 표현함. 방패 모양은 목화, 차, 보리 등을 표현하고 있음.	테두리는 월계수 나무의 가지임.

* 국장: 한 나라를 상징하는 공식적인 부호나 휘장을 통틀어 이르는 말.

- | | | | |
|---|-------|-------|-------|
| | (가) | (나) | (다) |
| ① | 불교 | 이슬람교 | 크리스트교 |
| ② | 불교 | 크리스트교 | 힌두교 |
| ③ | 이슬람교 | 불교 | 힌두교 |
| ④ | 이슬람교 | 힌두교 | 크리스트교 |
| ⑤ | 크리스트교 | 불교 | 이슬람교 |

* 확인 사항
 ○ 답안지의 해당란에 필요한 내용을 정확히 기입(표기)했는지 확인 하시오.