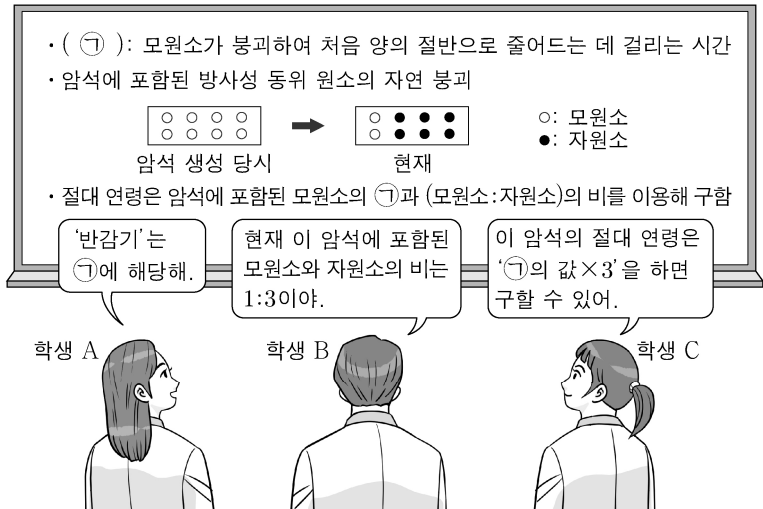


제 4 교시

과학탐구 영역(지구과학 I)

성명 수험번호 -- 제()선택

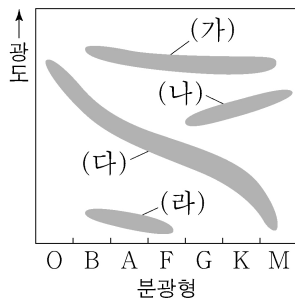
1. 다음은 방사성 동위 원소를 이용하여 암석의 절대 연령을 구하는 원리에 대하여 학생 A, B, C가 나눈 대화를 나타낸 것이다.



제시한 내용이 옳은 학생만을 있는 대로 고른 것은?

- ① A ② B ③ C ④ A, B ⑤ A, C

2. 그림은 서로 다른 별의 집단 (가)~(라)를 H-R도에 나타낸 것이다. (가)~(라)는 각각 거성, 백색 왜성, 주계열성, 초거성 중 하나이다.



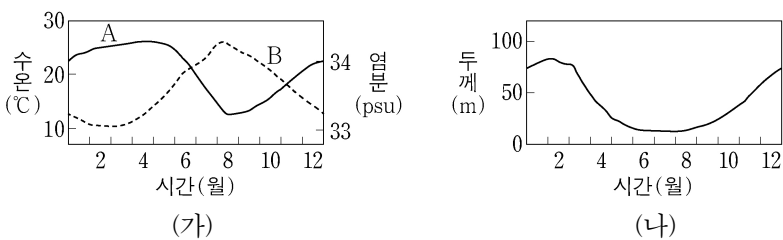
(가)~(라)에 대한 설명으로 옳은 것만을 <보기>에서 있는 대로 고른 것은?

<보 기>

ㄱ. 평균 광도는 (가)가 (라)보다 작다.
 ㄴ. 평균 표면 온도는 (나)가 (라)보다 낮다.
 ㄷ. 평균 밀도는 (라)가 가장 크다.

- ① ㄱ ② ㄴ ③ ㄷ ④ ㄱ, ㄴ ⑤ ㄴ, ㄷ

3. 그림 (가)는 우리나라 어느 해역의 표층 수온과 표층 염분을, (나)는 이 해역의 혼합층 두께를 나타낸 것이다. (가)의 A와 B는 각각 표층 수온과 표층 염분 중 하나이다.



이 자료에 대한 설명으로 옳은 것만을 <보기>에서 있는 대로 고른 것은? [3점]

<보 기>

ㄱ. 표층 해수의 밀도는 4월이 10월보다 크다.
 ㄴ. 수온 약층이 나타나기 시작하는 깊이는 1월이 7월보다 깊다.
 ㄷ. 표층과 깊이 50m 해수의 수온 차는 2월이 8월보다 크다.

- ① ㄱ ② ㄷ ③ ㄱ, ㄴ ④ ㄴ, ㄷ ⑤ ㄱ, ㄴ, ㄷ

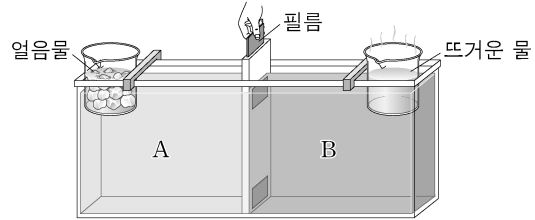
4. 다음은 심층 순환을 일으키는 요인 중 일부를 알아보기 위한 실험이다.

[실험 목표]

○ 해수의 (T)에 따른 밀도 차에 의해 심층 순환이 발생할 수 있음을 설명할 수 있다.

[실험 과정]

- (가) 위와 아래에 각각 구멍이 뚫린 칸막이를 준비한다.
 (나) 칸막이의 구멍을 필름으로 막은 후, 칸막이로 수조를 A 칸과 B 칸으로 분리한다.
 (다) 염분이 35psu이고 수온이 20℃인 동일한 양의 소금물을 A와 B에 넣고, 각각 서로 다른 색의 잉크로 착색한다.
 (라) 그림과 같이 A와 B에 각각 얼음물과 뜨거운 물이 담긴 비커를 설치한다.
 (마) 칸막이의 필름을 제거하고 소금물의 이동을 관찰한다.



[실험 결과]

○ 아래쪽의 구멍을 통해 (L)의 소금물은 (E) 쪽으로 이동한다.


이에 대한 설명으로 옳은 것만을 <보기>에서 있는 대로 고른 것은?

<보 기>

ㄱ. '수온 변화'는 T에 해당한다.
 ㄴ. A는 고위도 해역에 해당한다.
 ㄷ. A는 L, B는 E에 해당한다.

- ① ㄱ ② ㄷ ③ ㄱ, ㄴ ④ ㄴ, ㄷ ⑤ ㄱ, ㄴ, ㄷ

5. 그림 (가)와 (나)는 정상 나선 은하와 타원 은하를 순서 없이 나타낸 것이다.



이에 대한 설명으로 옳은 것만을 <보기>에서 있는 대로 고른 것은? [3점]

<보 기>

ㄱ. 별의 평균 나이는 (가)가 (나)보다 많다.
 ㄴ. 주계열성의 평균 질량은 (가)가 (나)보다 크다.
 ㄷ. (나)에서 별의 평균 표면 온도는 분광형이 A0인 별보다 높다.

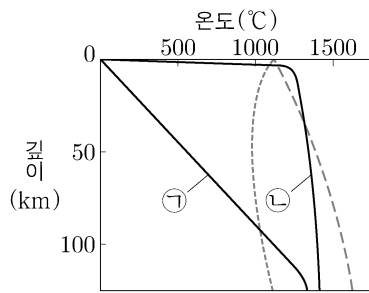
- ① ㄱ ② ㄴ ③ ㄷ ④ ㄱ, ㄴ ⑤ ㄴ, ㄷ

2 (지구과학 I)

과학탐구 영역

6. 그림은 암석의 용융 곡선과 지역 ㉠, ㉡의 지하 온도 분포를 깊이에 따라 나타낸 것이다. ㉠과 ㉡은 각각 해령과 섭입대 중 하나이다.

이 자료에 대한 설명으로 옳은 것만을 <보기>에서 있는 대로 고른 것은?



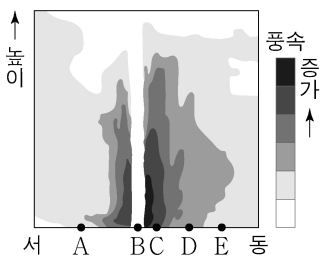
<보기>

- ㉠. ㉠에서는 물이 포함된 맨틀 물질이 용융되어 마그마가 생성된다.
 ㉡. ㉡에서는 주로 유문암질 마그마가 생성된다.
 ㉢. 맨틀 물질이 용융되기 시작하는 온도는 ㉠이 ㉡보다 낮다.

- ① ㉠ ② ㉡ ③ ㉠, ㉡ ④ ㉡, ㉢ ⑤ ㉠, ㉡, ㉢

7. 그림은 북쪽으로 이동하는 태풍의 풍속을 동서 방향의 연직 단면에 나타낸 것이다. 지점 A~E는 해수면상에 위치한다.

이 자료에 대한 설명으로 옳은 것만을 <보기>에서 있는 대로 고른 것은?

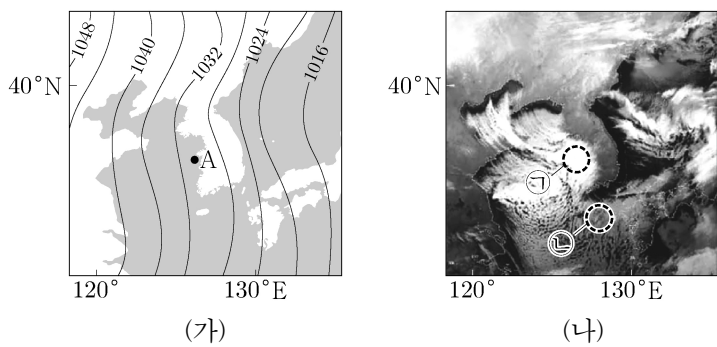


<보기>

- ㉠. A는 안전 반원에 위치한다.
 ㉡. 해수면 부근에서 공기의 연직 운동은 B가 C보다 활발하다.
 ㉢. 지상 일기도에서 등압선의 평균 간격은 구간 C-D가 구간 D-E보다 좁다.

- ① ㉠ ② ㉡ ③ ㉢ ④ ㉠, ㉡ ⑤ ㉠, ㉢

8. 그림 (가)는 어느 날 21시 우리나라 주변의 지상 일기도를, (나)는 같은 시각의 적외 영상을 나타낸 것이다. 이날 서해안 지역에서는 폭설이 내렸다.



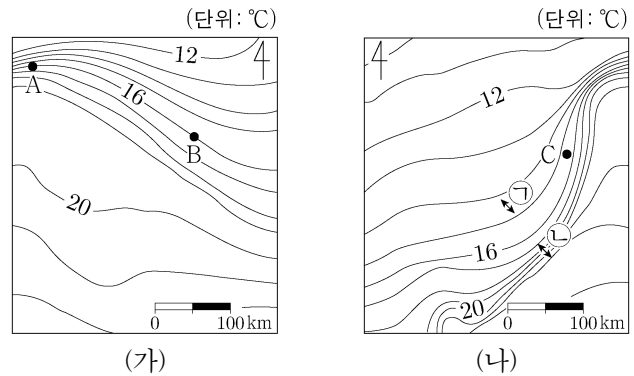
이 자료에 대한 설명으로 옳은 것만을 <보기>에서 있는 대로 고른 것은? [3점]

<보기>

- ㉠. 지점 A에서는 남풍 계열의 바람이 분다.
 ㉡. 시베리아 기단이 확장하는 동안 황해상을 지나는 기단의 하층 기온은 높아진다.
 ㉢. 구름 최상부에서 방출하는 적외선 복사 에너지량은 영역 ㉠이 영역 ㉡보다 많다.

- ① ㉠ ② ㉡ ③ ㉢ ④ ㉠, ㉡ ⑤ ㉡, ㉢

9. 그림 (가)와 (나)는 우리나라에 온대 저기압이 위치할 때, 이 온대 저기압에 동반된 온난 전선과 한랭 전선 주변의 지상 기온 분포를 순서 없이 나타낸 것이다. (가)와 (나)는 같은 시각의 지상 기온 분포이고, (나)에서 전선은 구간 ㉠과 ㉡ 중 하나에 나타난다.



이 자료에 대한 설명으로 옳은 것만을 <보기>에서 있는 대로 고른 것은? [3점]

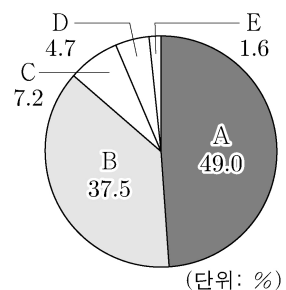
<보기>

- ㉠. (나)에서 전선은 ㉠에 나타난다.
 ㉡. 기압은 지점 A가 지점 B보다 낮다.
 ㉢. 지점 B는 지점 C보다 서쪽에 위치한다.

- ① ㉠ ② ㉡ ③ ㉢ ④ ㉠, ㉡ ⑤ ㉡, ㉢

10. 그림은 40억 년 전부터 현재까지 지질 시대 A~E의 지속 기간을 비율로 나타낸 것이다.

A~E에 대한 설명으로 옳은 것만을 <보기>에서 있는 대로 고른 것은? [3점]



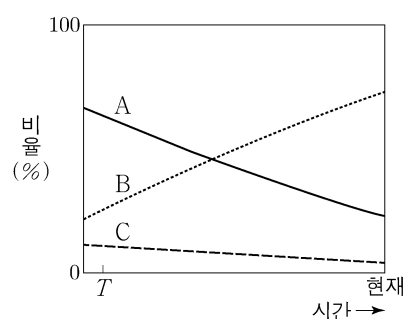
<보기>

- ㉠. 최초의 다세포 동물이 출현한 시기는 B이다.
 ㉡. 최초의 척추동물이 출현한 시기는 C이다.
 ㉢. 히말라야 산맥이 형성된 시기는 E이다.

- ① ㉠ ② ㉡ ③ ㉠, ㉡ ④ ㉡, ㉢ ⑤ ㉠, ㉡, ㉢

11. 그림은 우주 구성 요소 A, B, C의 상대적 비율을 시간에 따라 나타낸 것이다. A, B, C는 각각 암흑 물질, 보통 물질, 암흑 에너지 중 하나이다.

이에 대한 설명으로 옳은 것만을 <보기>에서 있는 대로 고른 것은?



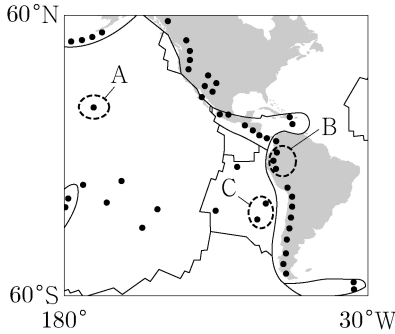
<보기>

- ㉠. 우주 배경 복사의 파장은 T시기가 현재보다 짧다.
 ㉡. T시기부터 현재까지 A의 비율은 감소한다.
 ㉢. A, B, C 중 항성 질량의 대부분을 차지하는 것은 C이다.

- ① ㉠ ② ㉡ ③ ㉠, ㉡ ④ ㉡, ㉢ ⑤ ㉠, ㉡, ㉢

12. 그림은 판의 경계와 최근 발생한 화산 분포의 일부를 나타낸 것이다.

이 자료에 대한 설명으로 옳은 것만을 <보기>에서 있는 대로 고른 것은?

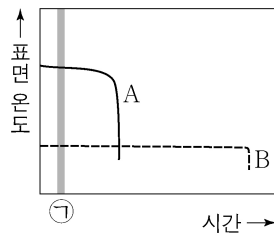


<보기>

- ㄱ. 지역 A의 하부에는 외핵과 맨틀의 경계부에서 상승하는 플룸이 있다.
- ㄴ. 지역 B의 하부에는 맨틀 대류의 하강류가 존재한다.
- ㄷ. 암석권의 평균 두께는 지역 B가 지역 C보다 두껍다.

- ① ㄱ ② ㄷ ③ ㄱ, ㄴ ④ ㄴ, ㄷ ⑤ ㄱ, ㄴ, ㄷ

13. 그림은 주계열 단계가 시작한 직후부터 별 A와 B가 진화하는 동안의 표면 온도를 시간에 따라 나타낸 것이다. A와 B의 질량은 각각 태양 질량의 1배와 4배 중 하나이다.



이 자료에 대한 설명으로 옳은 것만을 <보기>에서 있는 대로 고른 것은? [3점]

<보기>

- ㄱ. B는 중성자별로 진화한다.
- ㄴ. ㉠ 시기일 때, 대류가 일어나는 영역의 평균 깊이는 A가 B보다 깊다.
- ㄷ. ㉠ 시기일 때, 핵에서의 p-p 반응에 의한 에너지 생성량은 CNO 순환 반응에 의한 에너지 생성량보다 A가 B보다 크다.

- ① ㄱ ② ㄴ ③ ㄷ ④ ㄱ, ㄴ ⑤ ㄴ, ㄷ

14. 표는 태양과 별 (가), (나), (다)의 물리량을 나타낸 것이다.

별	표면 온도(태양 = 1)	반지름(태양 = 1)	절대 등급
태양	1	1	+4.8
(가)	0.5	(㉠)	-5.2
(나)	()	0.01	+9.8
(다)	$\sqrt{2}$	2	()

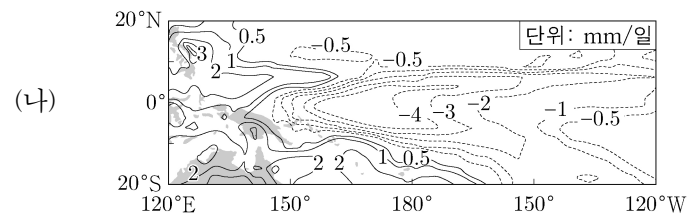
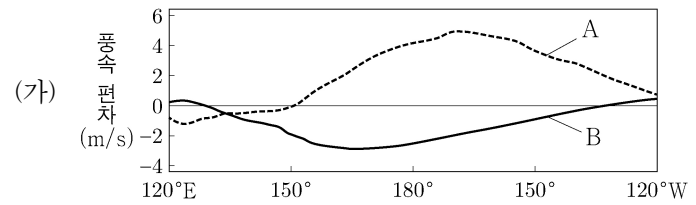
이 자료에 대한 설명으로 옳은 것만을 <보기>에서 있는 대로 고른 것은?

<보기>

- ㄱ. ㉠은 400이다.
- ㄴ. 복사 에너지를 최대로 방출하는 파장은 (나)가 (다)의 $\frac{1}{2}$ 배보다 길다.
- ㄷ. 절대 등급은 (다)가 태양보다 크다.

- ① ㄱ ② ㄴ ③ ㄷ ④ ㄱ, ㄴ ⑤ ㄱ, ㄷ

15. 그림 (가)는 태평양 적도 부근 해역에서 부는 바람의 동서 방향 풍속 편차를, (나)는 A와 B 중 어느 한 시기에 관측한 강수량 편차를 나타낸 것이다. A와 B는 각각 엘니뇨와 라니냐 시기 중 하나이고, 편차는 (관측값-평년값)이다. (가)에서 동쪽으로 향하는 바람을 양(+)으로 한다.



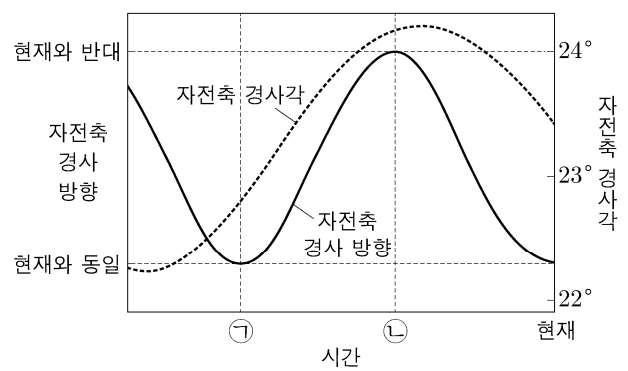
이에 대한 설명으로 옳은 것만을 <보기>에서 있는 대로 고른 것은? [3점]

<보기>

- ㄱ. (나)는 B에 관측한 것이다.
- ㄴ. 동태평양 적도 부근 해역의 해면 기압은 A가 B보다 높다.
- ㄷ. 적도 부근 해역에서 (서태평양 표층 수온 편차-동태평양 표층 수온 편차) 값은 A가 B보다 크다.

- ① ㄱ ② ㄴ ③ ㄱ, ㄷ ④ ㄴ, ㄷ ⑤ ㄱ, ㄴ, ㄷ

16. 그림은 지구 자전축의 경사각과 세차 운동에 의한 자전축의 경사 방향 변화를 나타낸 것이다.



이에 대한 설명으로 옳은 것만을 <보기>에서 있는 대로 고른 것은? (단, 지구 자전축 경사각과 세차 운동 이외의 요인은 변하지 않는다고 가정한다.)

<보기>

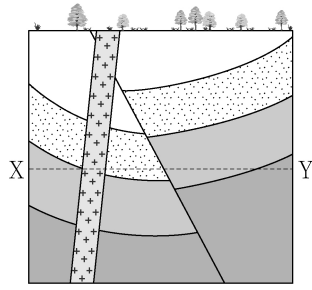
- ㄱ. 우리나라의 겨울철 평균 기온은 ㉠ 시기가 현재보다 높다.
- ㄴ. 우리나라에서 기온의 연교차는 ㉡ 시기가 현재보다 크다.
- ㄷ. 지구가 근일점에 위치할 때 우리나라에서 낮의 길이는 ㉠ 시기가 ㉡ 시기보다 길다.

- ① ㄱ ② ㄷ ③ ㄱ, ㄴ ④ ㄴ, ㄷ ⑤ ㄱ, ㄴ, ㄷ

4 (지구과학 I)

과학탐구 영역

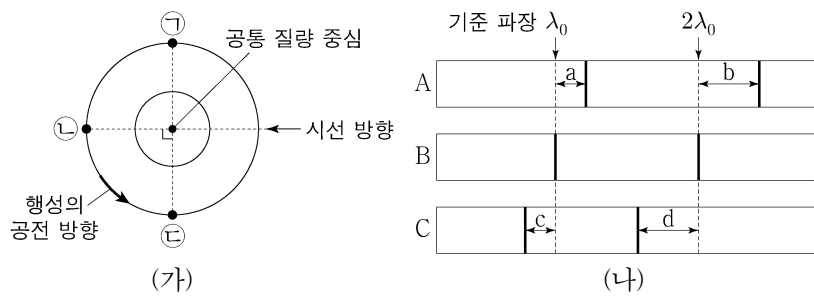
17. 그림은 어느 지역의 지질 단면을 나타낸 것이다.



구간 X-Y에 해당하는 지층의 연령 분포로 가장 적절한 것은? [3점]

- ①
- ②
- ③
- ④
- ⑤

18. 그림 (가)는 어느 외계 행성계에서 중심별과 행성이 공통 질량 중심에 대하여 원 궤도로 공전하는 모습을 나타낸 것이고, (나)는 행성이 ㉠, ㉡, ㉢에 위치할 때 지구에서 관측한 중심별의 스펙트럼을 A, B, C로 순서 없이 나타낸 것이다.

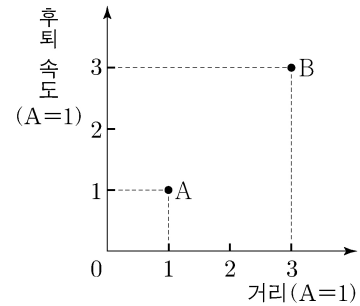


이 자료에 대한 설명으로 옳은 것만을 <보기>에서 있는 대로 고른 것은? (단, 중심별의 시선 속도 변화는 행성과의 공통 질량 중심에 대한 공전에 의해서만 나타나고, 행성의 공전 궤도면은 관측자의 시선 방향과 나란하다.)

- <보 기>
- ㄱ. A는 행성이 ㉠에 위치할 때 관측한 결과이다.
 - ㄴ. 행성이 ㉡→㉢으로 공전하는 동안 중심별의 시선 속도는 커진다.
 - ㄷ. $a \times b$ 는 $c \times d$ 보다 작다.

- ① ㄱ ② ㄴ ③ ㄷ ④ ㄱ, ㄴ ⑤ ㄴ, ㄷ

19. 그림은 우리은하에서 외부 은하 A와 B를 관측한 결과를 나타낸 것이다. B에서 A를 관측할 때의 적색 편이량은 우리은하에서 A를 관측한 적색 편이량의 3배이다. 적색 편이량은 $\frac{\text{관측 파장} - \text{기준 파장}}{\text{기준 파장}}$ 이고, 세 은하는 허블 법칙을 만족한다.

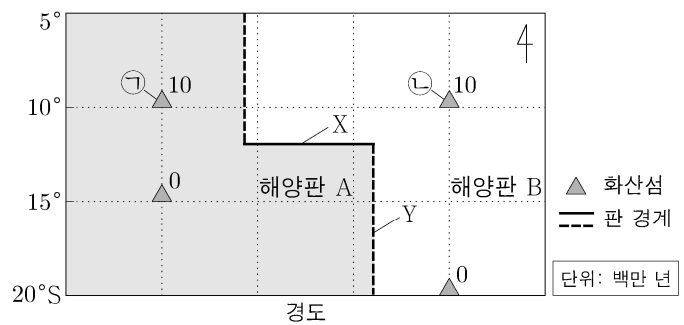


이 자료에 대한 설명으로 옳은 것만을 <보기>에서 있는 대로 고른 것은? [3점]

- <보 기>
- ㄱ. 우리은하에서 관측한 적색 편이량은 B가 A의 3배이다.
 - ㄴ. A에서 관측한 후퇴 속도는 B가 우리은하의 3배이다.
 - ㄷ. 우리은하에서 관측한 A와 B는 동일한 시선 방향에 위치한다.

- ① ㄱ ② ㄷ ③ ㄱ, ㄴ ④ ㄴ, ㄷ ⑤ ㄱ, ㄴ, ㄷ

20. 그림은 남반구에 위치한 열점에서 생성된 화산섬의 위치와 연령을 나타낸 것이다. 해양판 A와 B에는 각각 하나의 열점이 존재하고, 열점에서 생성된 화산섬은 동일 경도상을 따라 각각 일정한 속도로 이동한다.



이 자료에 대한 설명으로 옳은 것만을 <보기>에서 있는 대로 고른 것은? (단, 고지자기극은 고지자기 방향으로 추정 한 지리상 북극이고, 지리상 북극은 변하지 않았다.) [3점]

- <보 기>
- ㄱ. 판의 경계에서 화산 활동은 X가 Y보다 활발하다.
 - ㄴ. 고지자기 북극의 절댓값은 화산섬 ㉠과 ㉡이 같다.
 - ㄷ. 화산섬 ㉠에서 구한 고지자기극은 화산섬 ㉡에서 구한 고지자기극보다 저위도에 위치한다.

- ① ㄱ ② ㄴ ③ ㄷ ④ ㄱ, ㄴ ⑤ ㄱ, ㄷ

* 확인 사항
○ 답안지의 해당란에 필요한 내용을 정확히 기입(표기)했는지 확인 하시오.